

# Регионални центар за таленте

Београд II



## НГО 2021

Општински ниво – основне школе

1. Пукет је најпознатије летовалиште Тајланда.  
На обали ког океана се налази?

- а) Атлантски
- б) Пацифик
- в) **Индијски**
- г) Јужни



**2. Велики део територије Русије је под шумом. Руске шуме су углавном:**

- а) Четинарске**
- б) Листопадне**
- в) Мангрове**
- г) Прашуме**




3. На којој је од следећих географских ширина ова фотографија највероватније снимљена?

- а)  $20^\circ$
- б)  $40^\circ$
- в)  $50^\circ$
- г)  $70^\circ$



4. На сателитском снимку приказано је:

- а) Бајкалско језеро
- б) Хуакачина оаза
- в) Аралско језеро
- г) Ум ал Маа језеро



5. Овај водопад се састоји из 3 дела, налази се на истоименој реци и највећи је у Северној Америци, а то је?

- а) Викторија
- б) Игазу
- в) Плитвице
- г) Нијагара



6. Ендемска врста Панчићева оморица налази се у долини реке Милешевке и на којој планини?

а) Фрушкој гори

б) Панчићевом врху

в) Тари

г) Миџору



## 7. Једини Земљин природни сателит је:



**а) А**

**б) Б**

**в) В**

**г) Г**



## 8. Биљна заједница маховина и лишајева зове се...

- а) прерија
- б) љанос
- в) тајга
- г) тундра



## 9. Пронађи уљеза.

а) А

**б) Б**

в) В

г) Г

А

Нефуд

Б

Орање

В

Атакама

Г

Мухава

## 10. Најдубљи кањон у Европи налази се на реци:

**а) Тара**

б) Морача

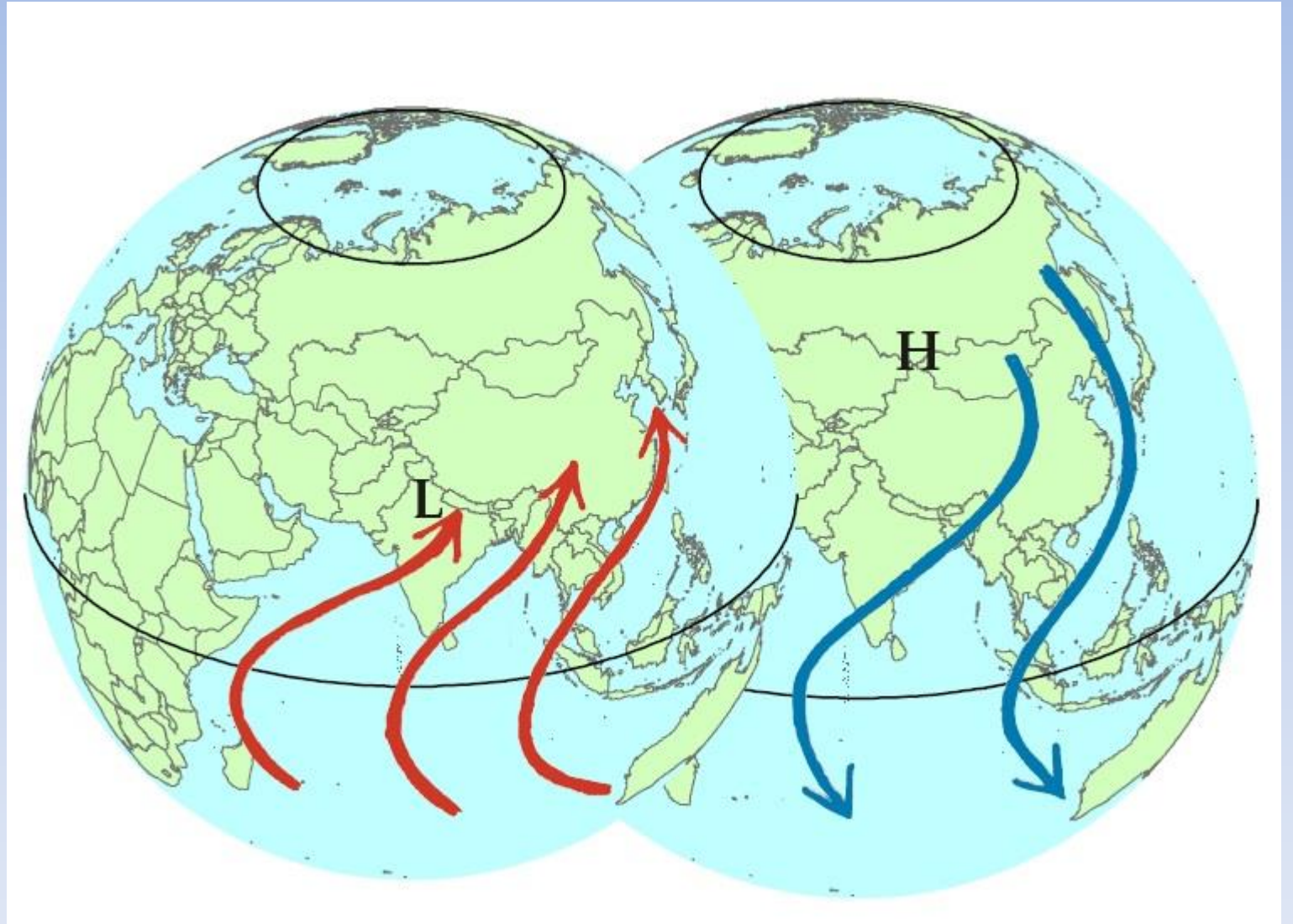
в) Рајна

г) Дунав



# 11. Који ветрови су приказани на слици?

- а) пасати
- б) западни ветрови
- в) источни ветрови
- г) **монсуни**



12. Која би вам држава била најсигурнија дестинација за путовање уколико бисте имали страх од цунамија?

- а) Јапан
- б) Португал
- в) Чад**
- г) Индонезија



## 13. Шта је заједничко Сан Марину и Лесоту?

а) Обе државе се сматрају међународним првацима у олимпијском стреличарству

**б) Обе државе су у потпуности окружене једном другом државом**

в) Обе државе су шездесетих водиле диктатуре Зелене странке

г) Обе државе су монархије.



14. Који главни град не лежи на реци Дунав?

а) Братислава

б) Беч

в) Праг

г) Будимпешта



15. Који континент има више говорника португалског језика него било који други?

а) Аустралија

б) Азија

в) Европа

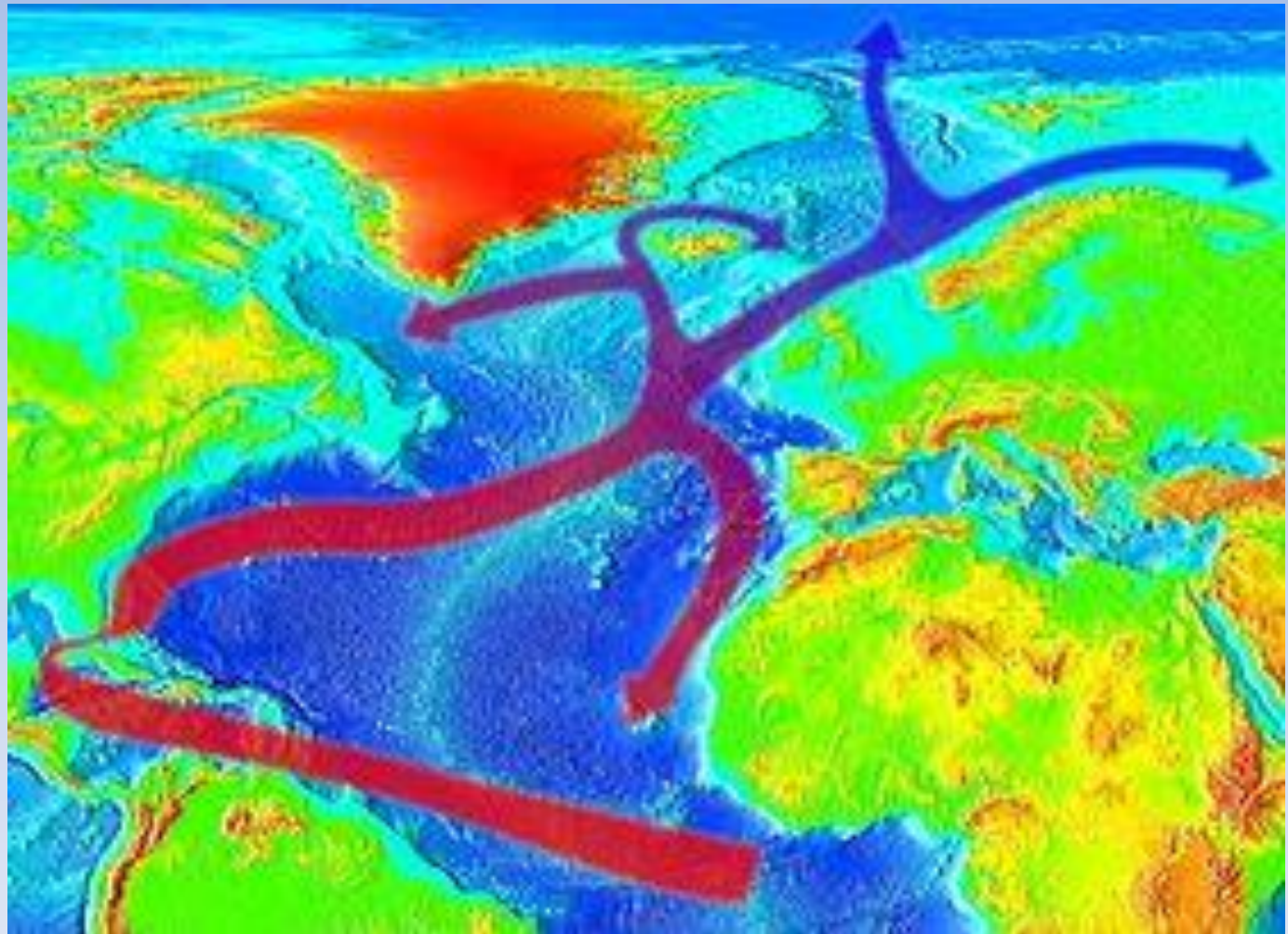
г) Јужна Америка





16. Флаша бачена у Голфску струју са источне обале САД, највероватније ће завршити у:

- а) Ирској
- б) Мексику
- в) Канади
- г) Бразилу



17. На ком планинском венцу је најлакше скијати у августу?

а) Апенини

**б) Анди**


в) Атлас

г) Апалачи



18. Која природна катастрофа никада није погодила Европу?

- а) торнадо
- б) клизишта
- в) тајфун**
- г) цунами



19. Који од понуђених појмова се везује за синоним „азијског тигра“?

**а) Хонг Конг**

б) Вијетнам

в) Тајланд

г) Јапан



20. Лет из Тулуза за Толедо требао би прећи преко којег планинског венца?

а) Карпати

б) Пиринеји

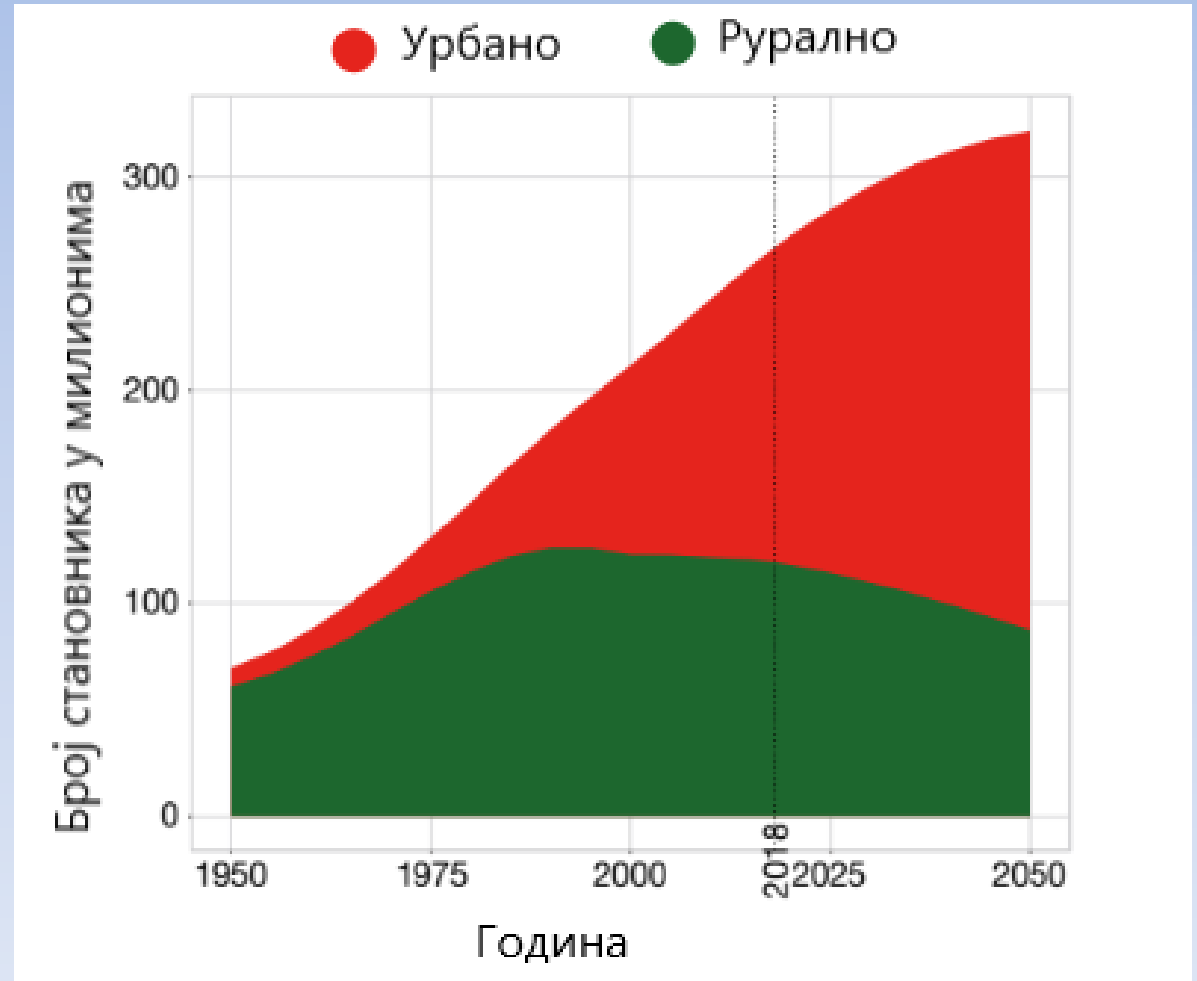
в) Урал

г) Алпи



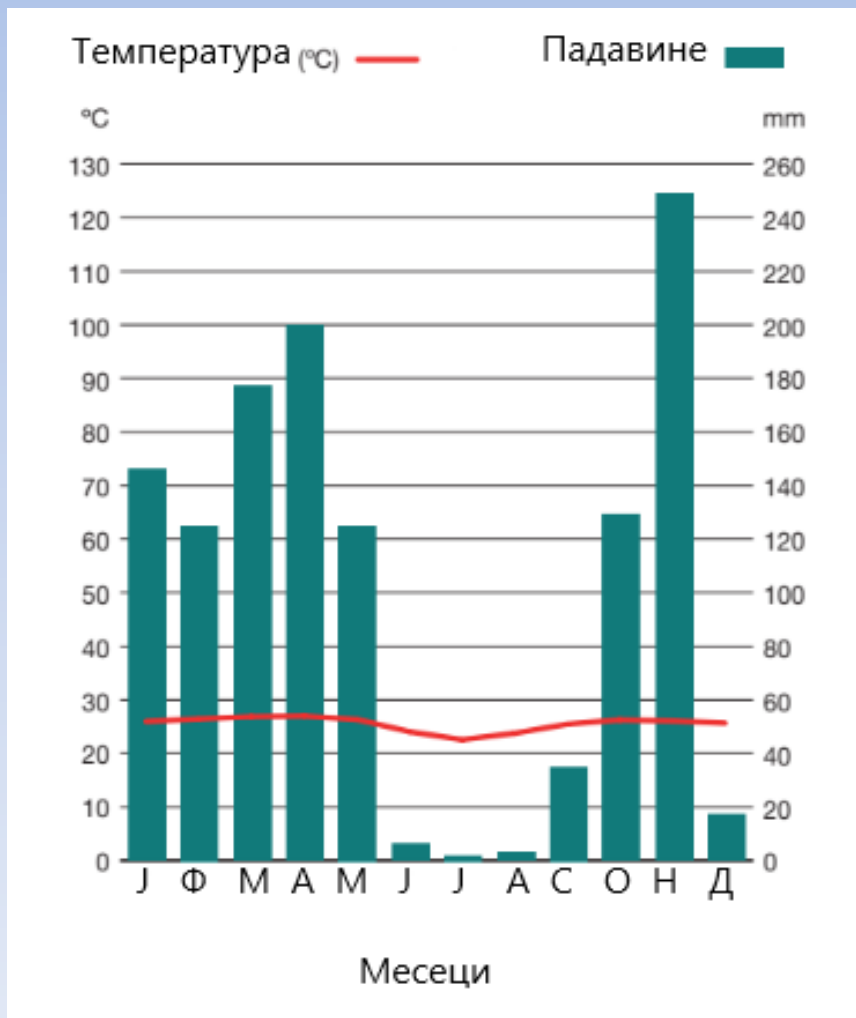
21. Посматрајући слику одреди колико је приближно било урбаног становништва 2018. године?

- а) 150 милиона
- б) 245 милиона
- в) 270 милиона
- г) 300 милиона



22. На слици је приказан клима-дијаграм Киншасе, града који се налази на  $4^{\circ}19'S$  и  $15^{\circ}18'E$ . Када је у Киншаси најсушнији период, тада је на јужној хемисфери...

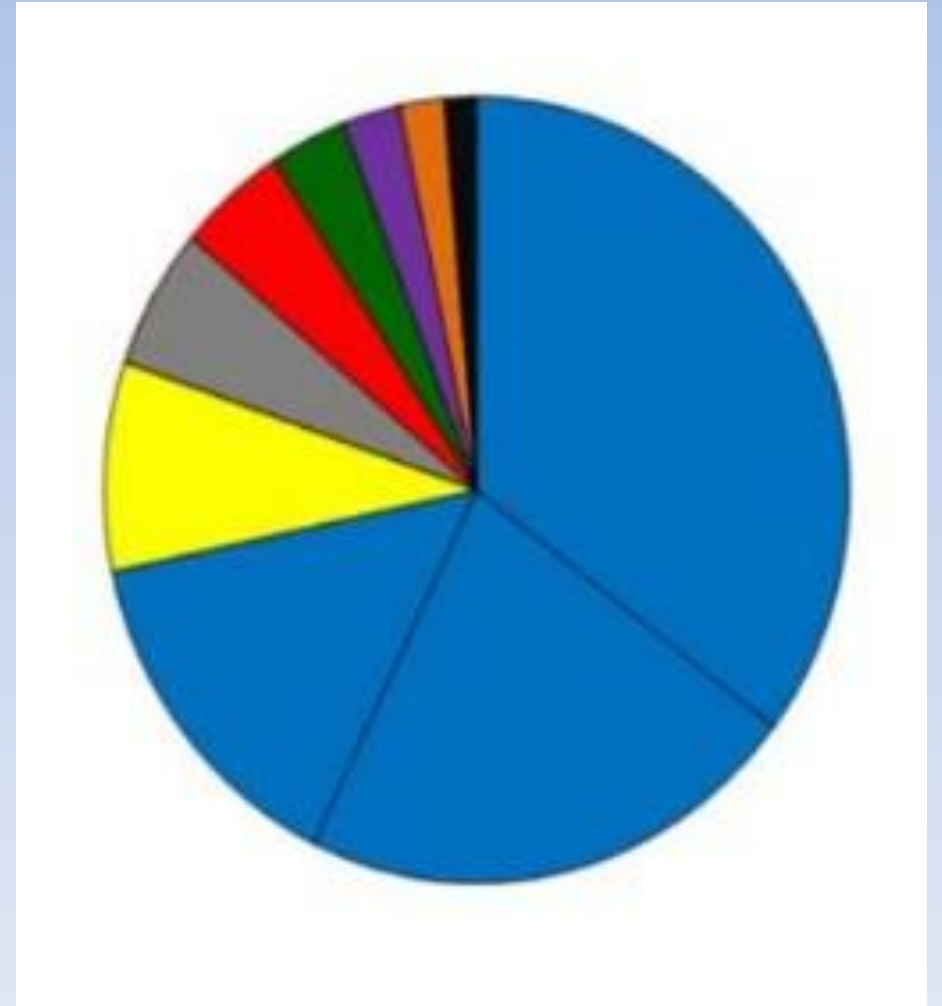
- а) Јесен
- б) Пролеће
- в) Лето
- г) Зима



23. Цртеж показује удео континената и океана у укупној површини Земље.

Евроазија је највећа копнена маса на свету. Којим бојама су приказани континенти који је чине?

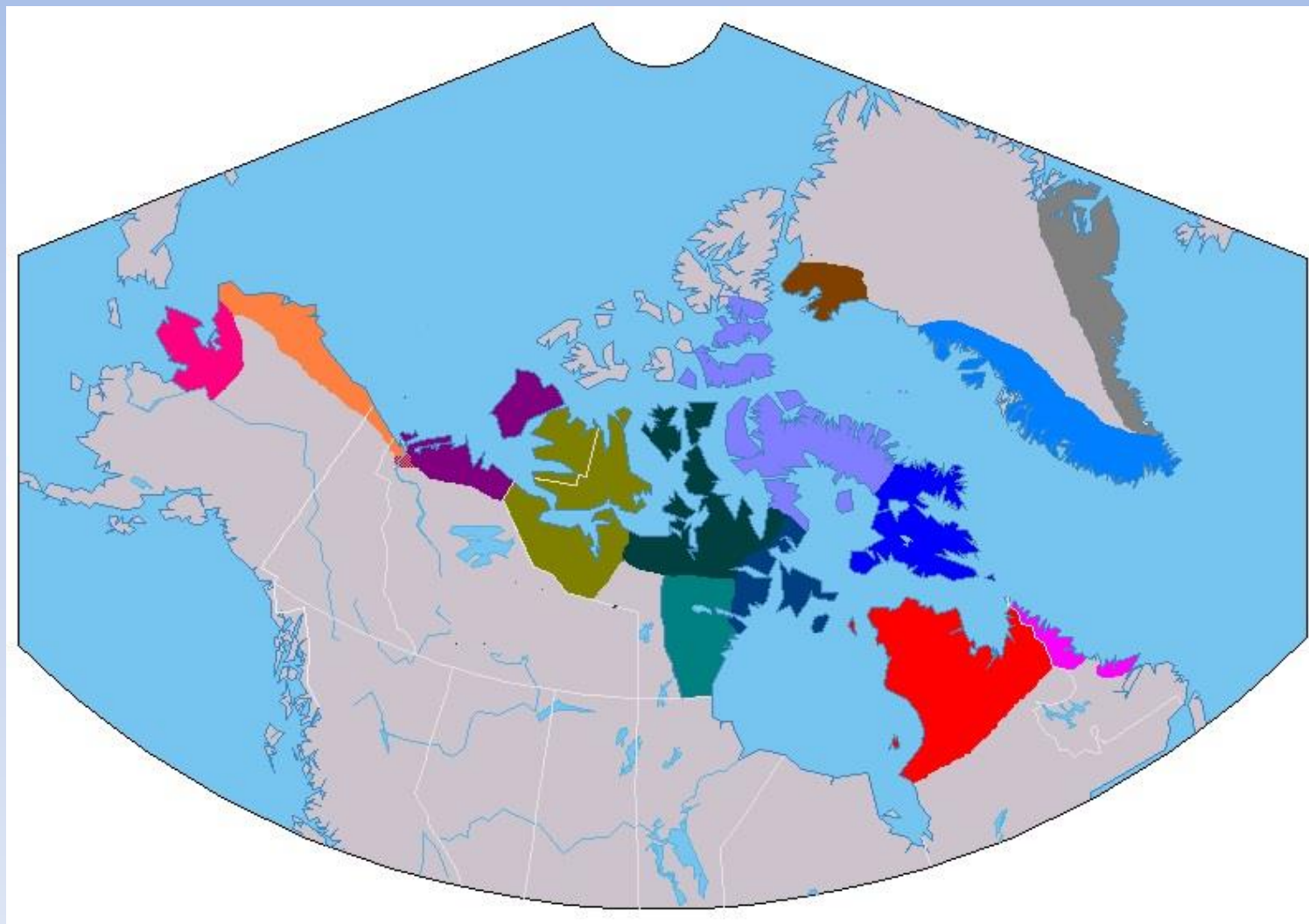
- а) Жута и зелена
- б) Сива и наранџаста
- в) Жута и наранџаста**
- г) Црвена и зелена





24. Који народи насељавају обојене пределе са слике?

- а) **Инуити**
- б) Курди
- в) Козаци
- г) Туарези



25. Животиња са слике насељава:

а) Ломбардију

**б) Лапонију**

в) Андалузију

г) Анадолију



26. Кружницама са слике приказане су планете:

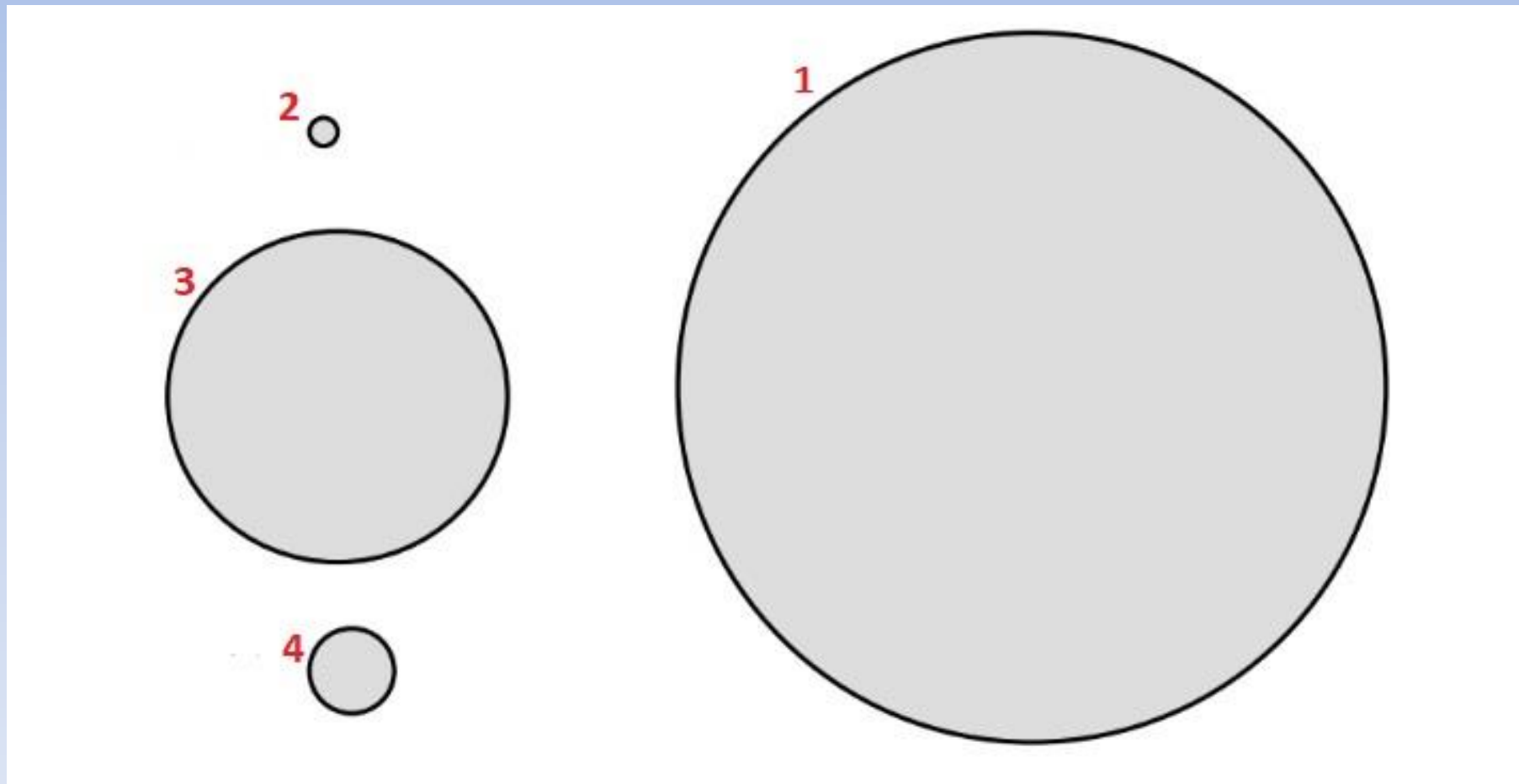
Сатурн, Меркур, Уран и Земља. Која планета је приказана под бројем 3?

а) Сатурн

б) Меркур

в) Уран

г) Земља



27. Необновљиви извор енергије је приказан на слици:

а) А

б) Б

в) В

г) Г

А



Б



В



Г



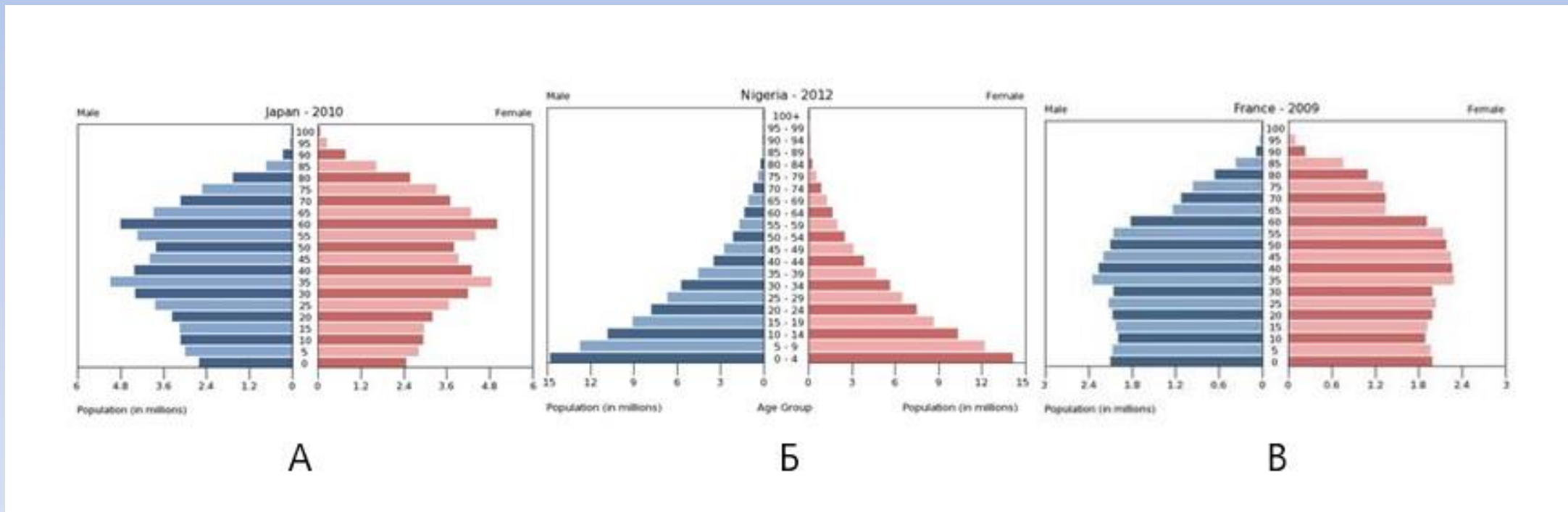
28. Која од наведених пирамида становништва приказује земљу са брзорастућим становништвом?

а) А

б) Б

в) В

г) А и В



## 29. На којој слици су приказане шкрапе?

а) А

**б) Б**

в) В

г) Г



30. Који феномен је приказан на мапи:

- а) природна подручја
- б) земљишта света
- в) густина светске популације**
- г) количина падавина

