

НГО 2021 – РЕПУБЛИЧКИ НИВО

Писани тест

ИМЕ И ПРЕЗИМЕ _____

ШКОЛА _____

РАЗРЕД _____



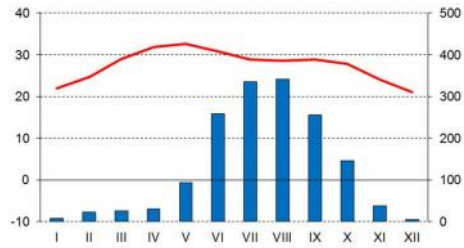
ТЕСТ САДРЖИ 33 ПИТАЊА

ВРЕМЕ ЗА ИЗРАДУ ЈЕ **50** МИНУТА

БОДУЈУ СЕ САМО КОМПЛЕТНИ ОДГОВОРИ

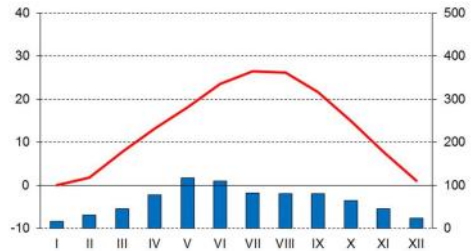
температура °C

падавине (mm)



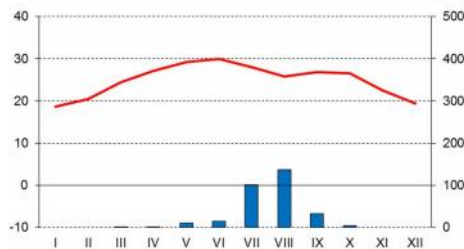
Катак

20°29'N, 85°52'E



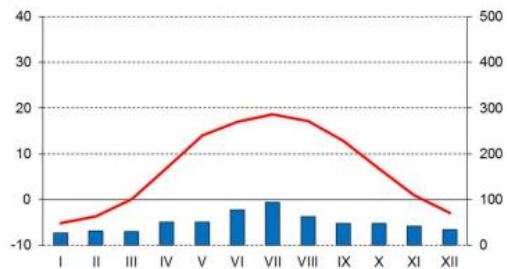
Вичита

37°39'N, 97°25'W



Ал Фашир

13°38'N, 25°21'E



Пинск

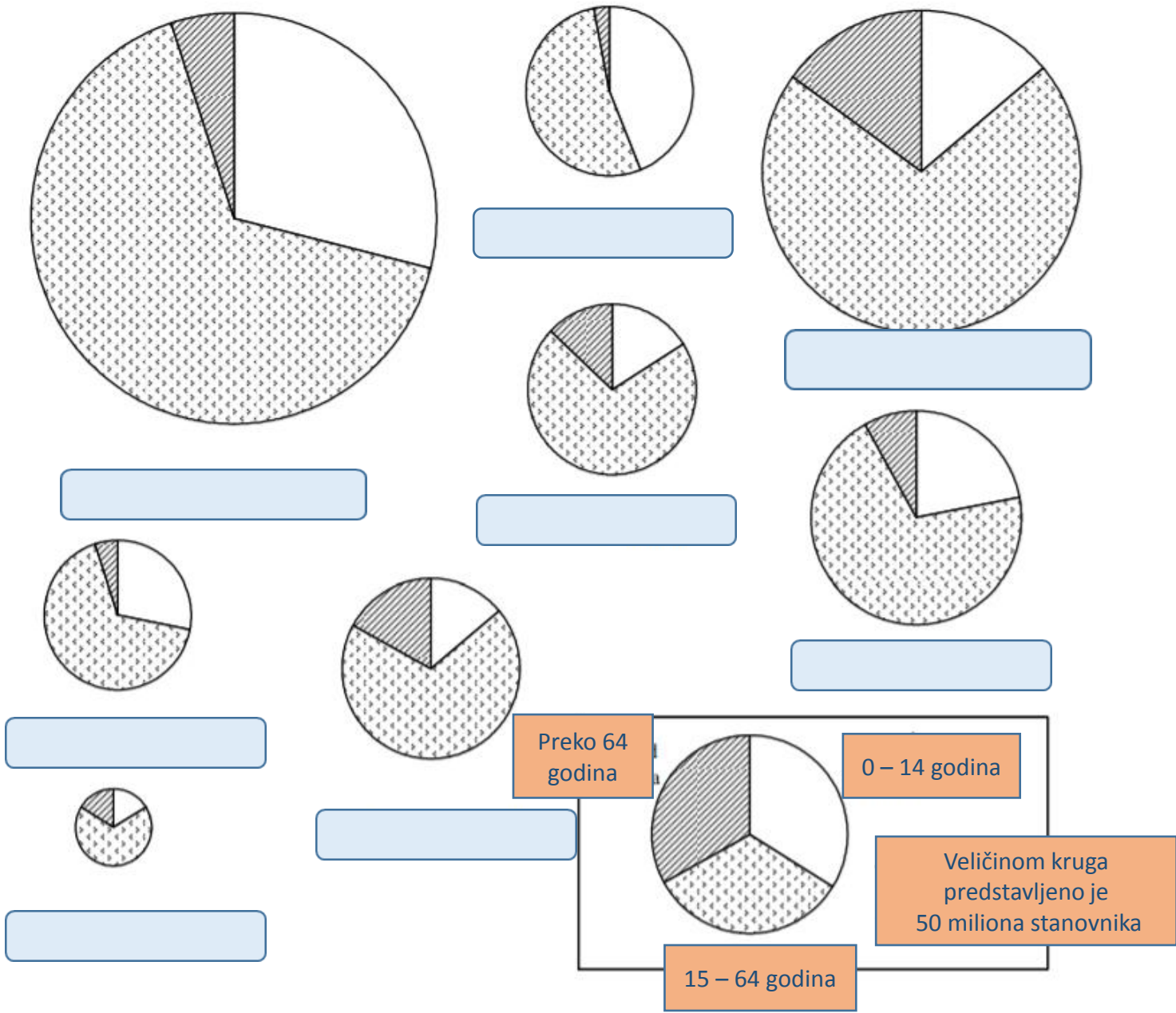
52°07'N, 26°08'E

Задатак
1.

**Повежи клима дијаграм
са биљном културом:**

ПШЕНИЦА,
ПИРИНАЧ,
ПРОСО,
УЉЕВИТА ПАЛМА,
ЛАН

Упиши одговоре у
празне предвиђене
правоугаонике
за одговоре.



Дијаграми представљају старосну структуру становништва изабраних држава у 2006. години (величина дијаграма одговара броју становника те државе).

1. Међу понуђеним државама одабери оне које су приказане на дијаграмима уписујући назив испод дијаграма.

- Алжир
- Пољска
- Швајцарска
- Танзанија
- Индонезија
- Русија
- Тајланд
- Украјина

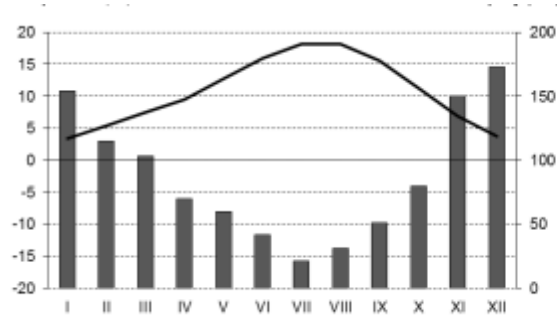
2. Свакој држави додајте стопу природног прирастаја.

-6,0‰, -3,7‰, 0,0‰, 4,3‰, 6,8‰, 12,2‰, 14,1‰, 18,3‰

Задатак
2.

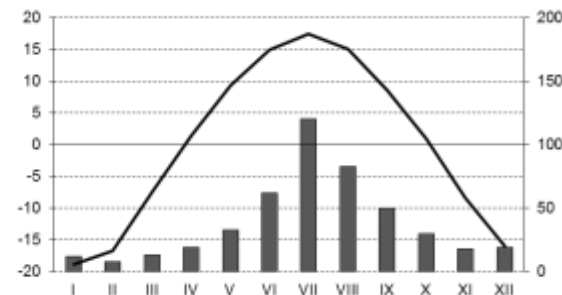
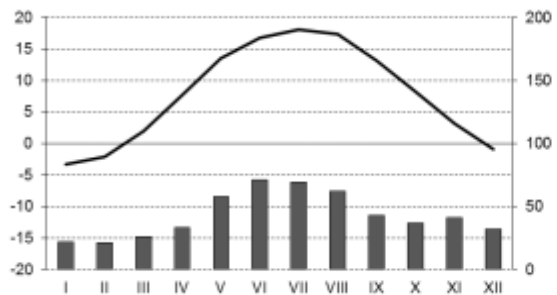
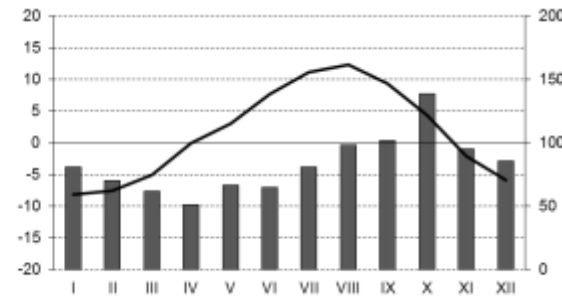
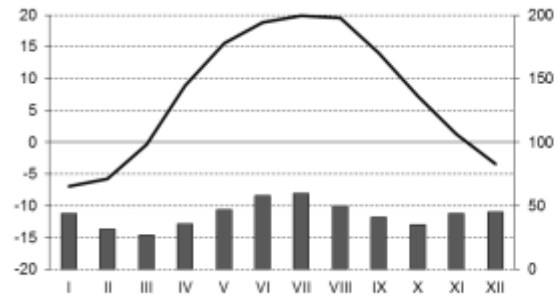
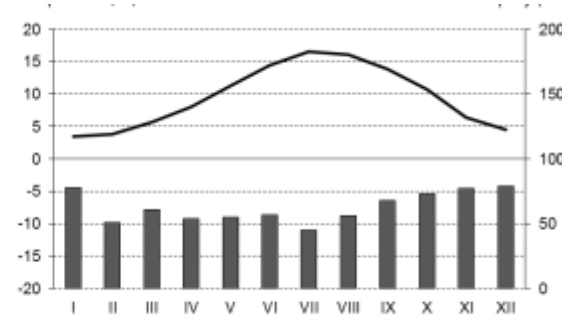
температура °C

падавине (mm)



температура °C

падавине (mm)



Задатак
3.

**Повежи следеће градове са
климадијаграмима:**

ХАРКОВ (50°N 36°E)

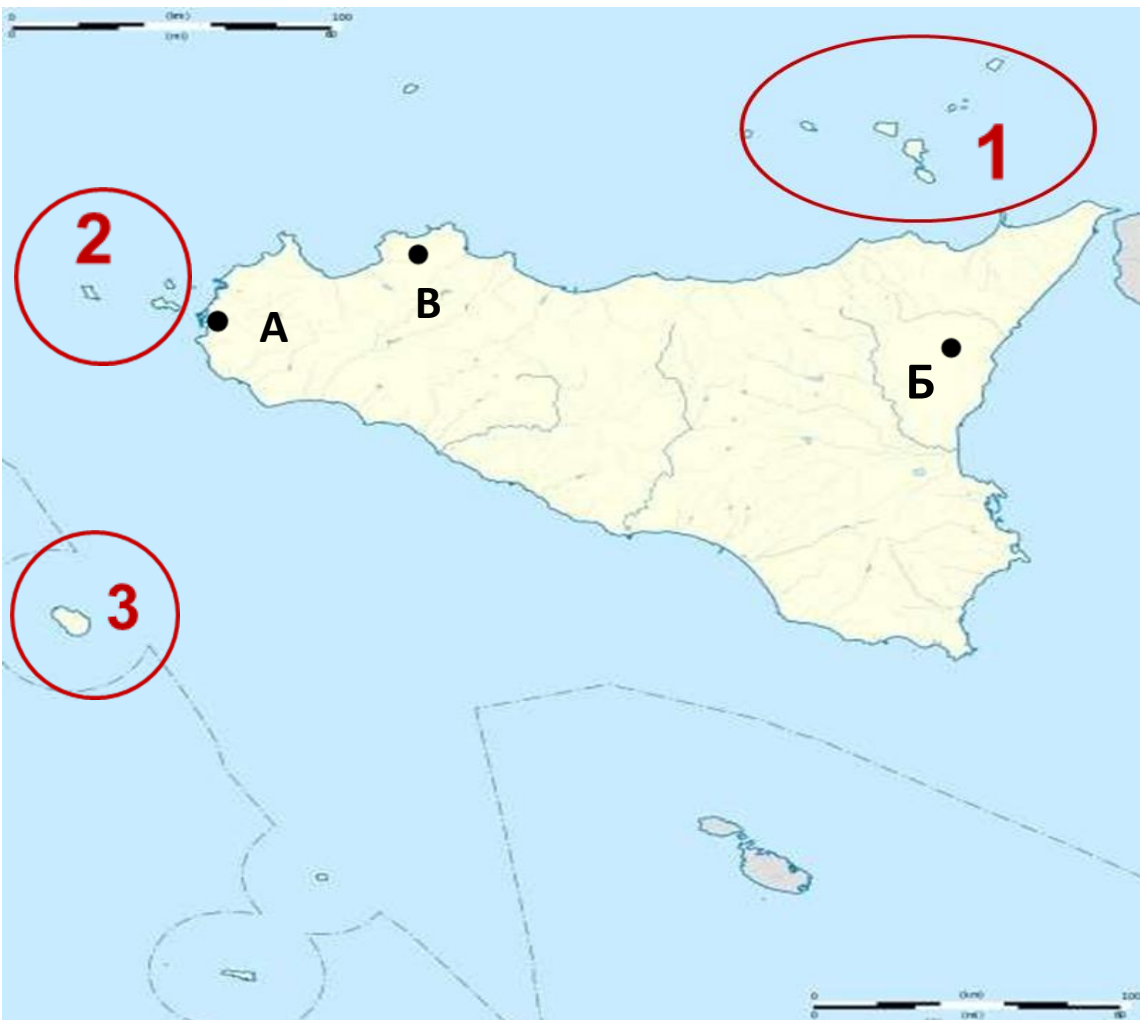
ИРКУТСК (52°N 104°E)

ЛОНДОН (52°N 0°)

ПЕТРОПАВЛОВСК КАМЧАТСКИ (53°N 159°E)

ВАНКУВЕР (49°N 123°W)

ВАРШАВА (52°N 21°E)



Следећа три питања реши на основу приложене карте Сицилије на којој су црвеним круговима и бројевима означени острвски архипелази, а црним тачкама и словима градови.

**Задатак
4.**

1. Којим је словом означен град из којег најчешће полазе експедиције на Етну.

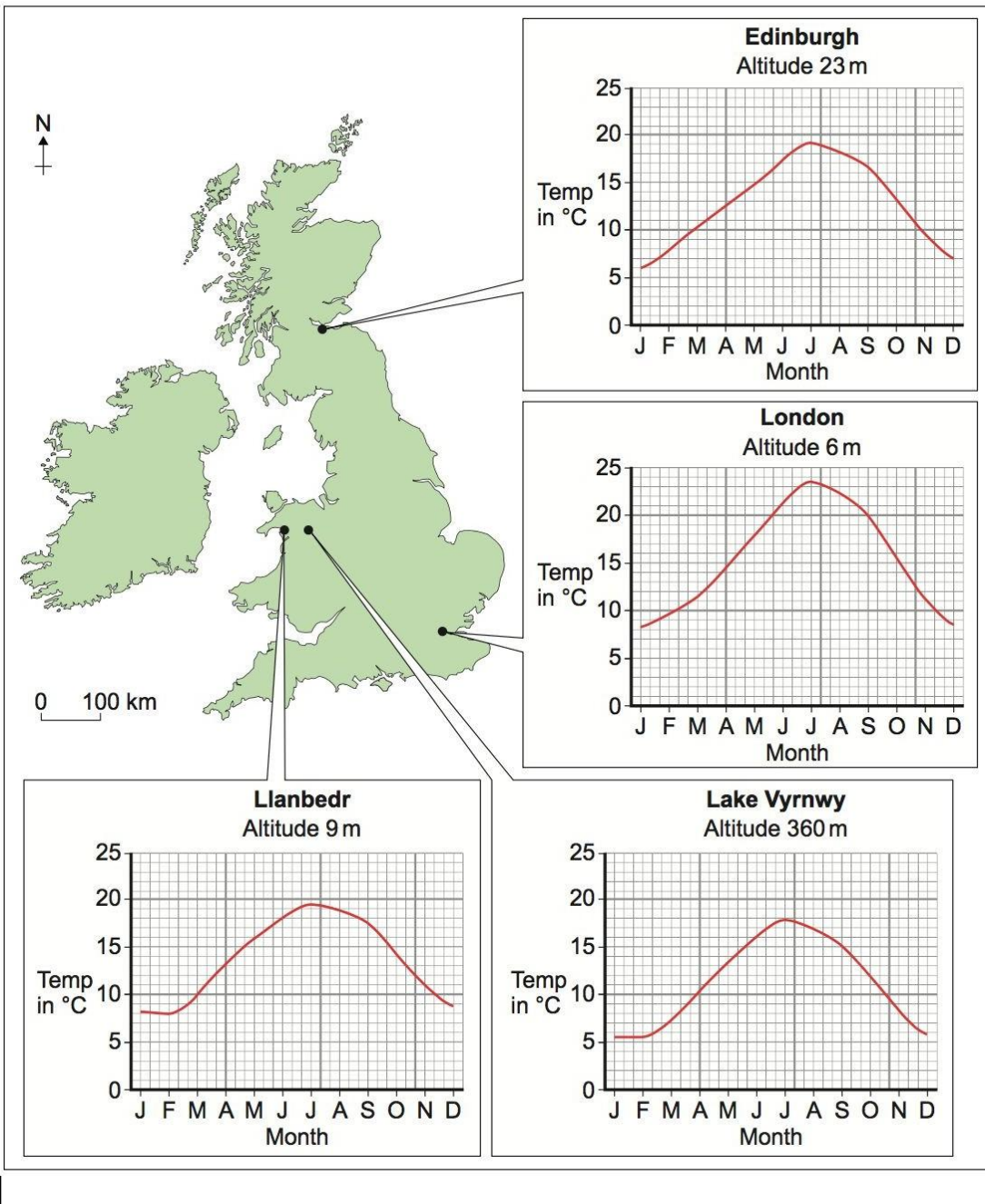
А Б В
/заокружи тачан одговор/

2. Липарска острва означена су бројем:

1 2 3
/заокружи тачан одговор/

3. Којим словом је означен главни град Сицилије :

А Б
В
/заокружи тачан одговор/



На основу приказане мапе и дијаграма одговори на питања:

Задатак 5.

1. Која су два главна острва приказана на мапи?

1. _____ 2. _____

2. Која су два града приказана на мапи главни градови?

1. _____ 2. _____

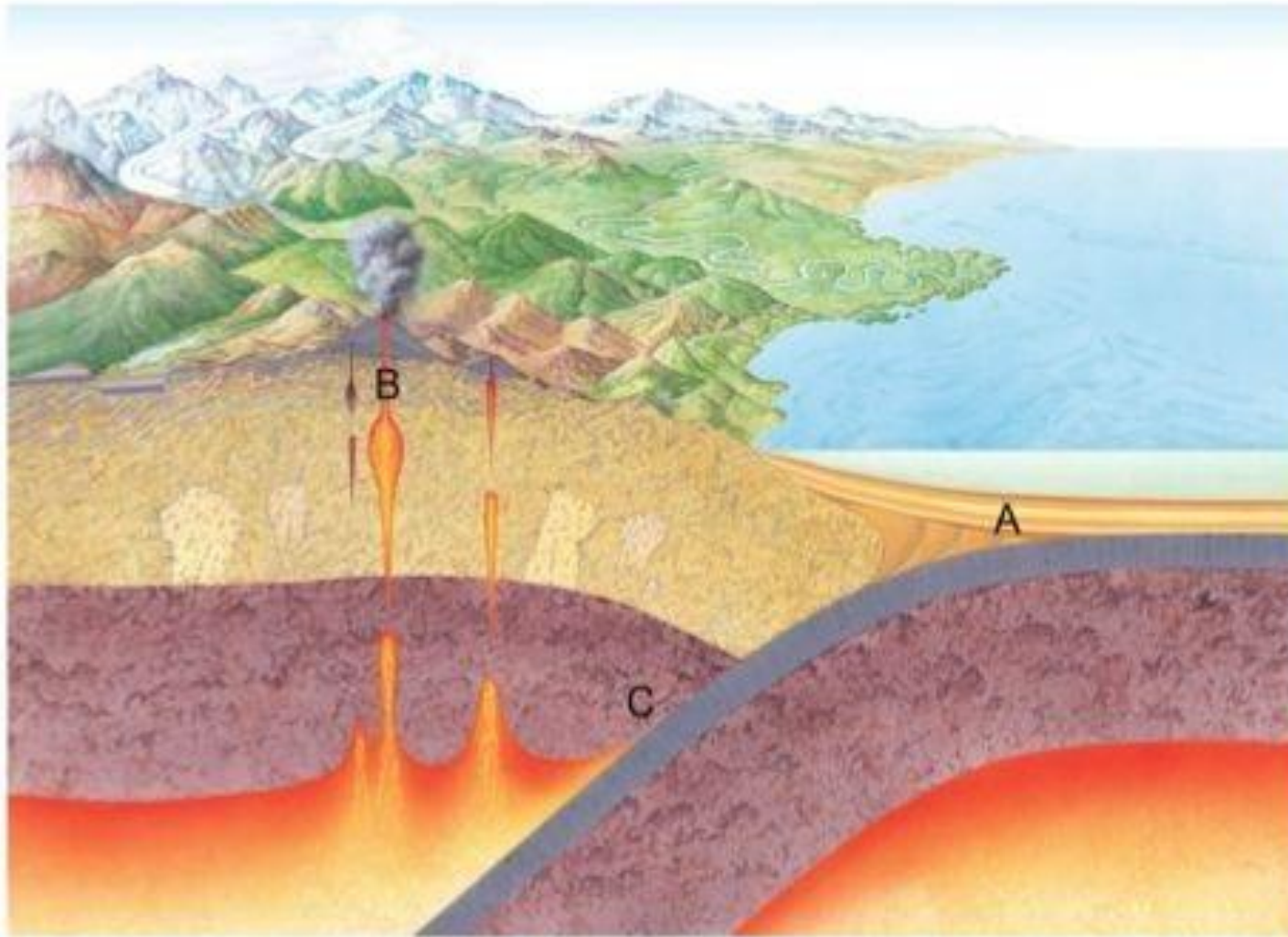
3. Упиши колика је просечна температура за сваки од наведених месеци у наведеним градовима:

Језеро Вирнви /Lake Vyrnwy: Април ____ Август ____ Децембар ____

Лондон: Март ____ Септембар ____ Новембар ____

4. Разлог због којег су просечне температуре у Единбургху толико ниже од температуре у Лондону?

Задатак
6.



На основу слике одговори на питања:

1. Формирање којих стена је приказано у тачки А?

2. Формирање којих стена је приказано у тачки Б?

3. Формирање којих стена је приказано у тачки Ц?

Navedi pojmove označene na slici od **1** do **5**.

Задатак
7.

1. _____

2. _____

3. _____

4. _____

5. _____

