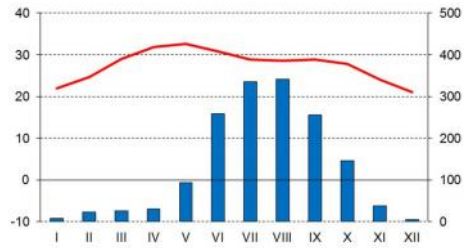


НГО 2021 – РЕПУБЛИЧКИ НИВО

**Писани тест
- одговори -**

температура °C

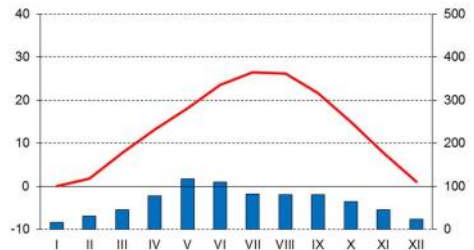
падавине (mm)



Катак

20°29'N, 85°52'E

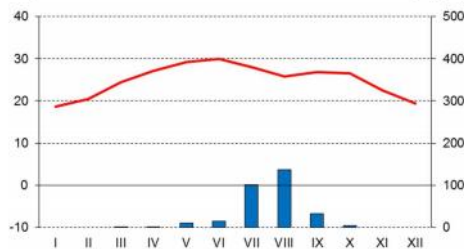
ПИРИНАЧ



Вичита

37°39'N, 97°25'W

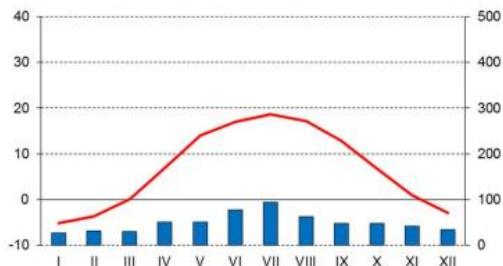
ПШЕНИЦА



Ал Фашир

13°38'N, 25°21'E

ПРОСО



Пинск

52°07'N, 26°08'E

ЛАН

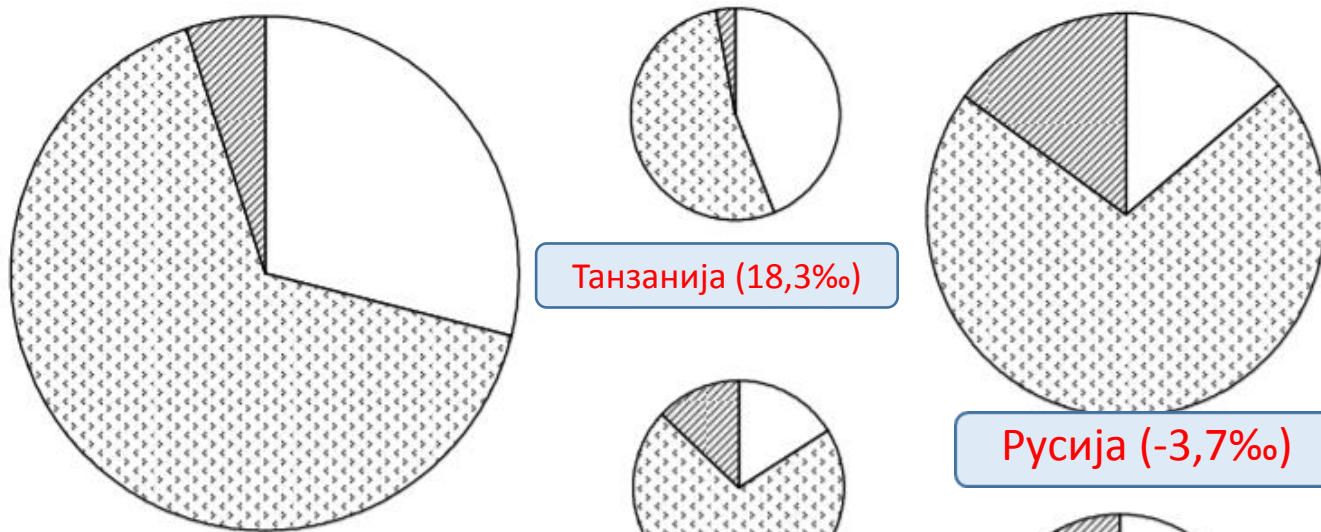
Задатак
1.

**Повежи клима дијаграм
са биљном културом:**

ПШЕНИЦА,
ПИРИНАЧ,
ПРОСО,
УЉЕВИТА ПАЛМА,
ЛАН

Упиши одговоре у
празне предвиђене
правоугаонике
за одговоре.

4 x 1 поен



Дијаграми представљају старосну структуру становништва изабраних држава у 2006. години (величина дијаграма одговара броју становника те државе).

1. Међу понуђеним државама одабери оне које су приказане на дијаграмима уписујући назив испод дијаграма.

Алжир

Индонезија

Пољска

Русија

Швајцарска

Тајланд

Танзанија

Украјина

2. Свакој држави додајте стопу природног прирастаја.

-6,0‰, -3,7‰, 0,0‰, 4,3‰, 6,8‰, 12,2‰, 14,1‰, 18,3‰

Индонезија (14,1%)

Пољска (0,0%)

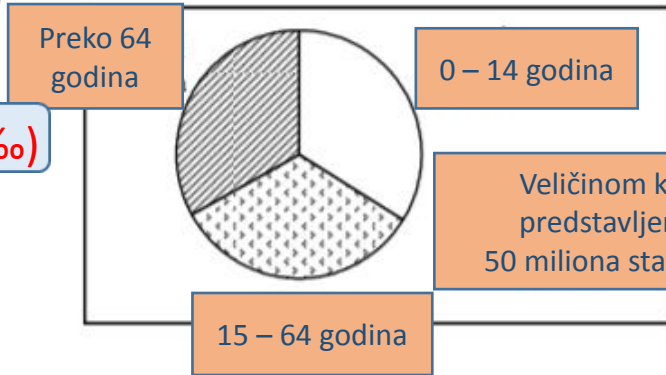
Русија (-3,7%)

Тајланд (6,8%)

Алжир (12,2%)

Украјина (-6,0%)

Швајцарска (4,3%)

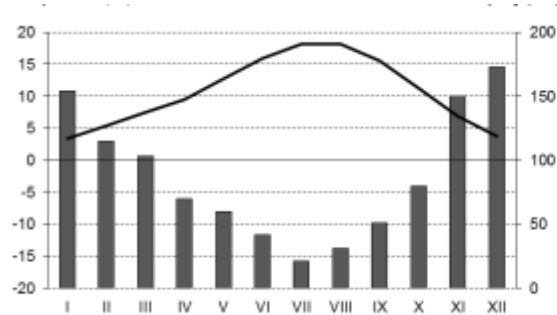


8 x 1 поен

Задатак 2.

температура °C

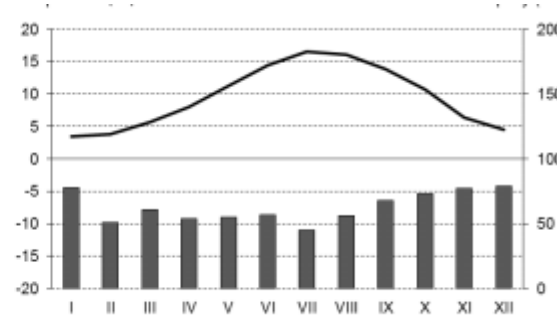
падавине (mm)



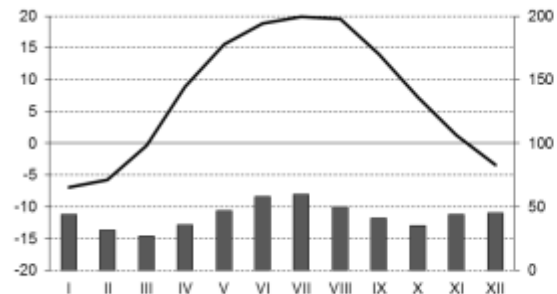
ВАНКУВЕР

температура °C

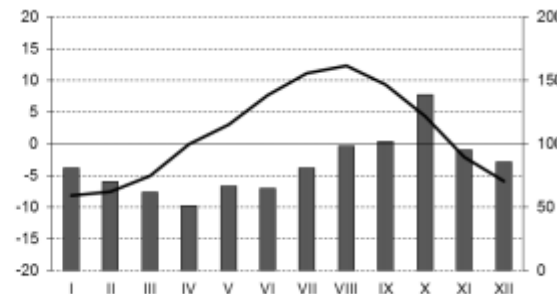
падавине (mm)



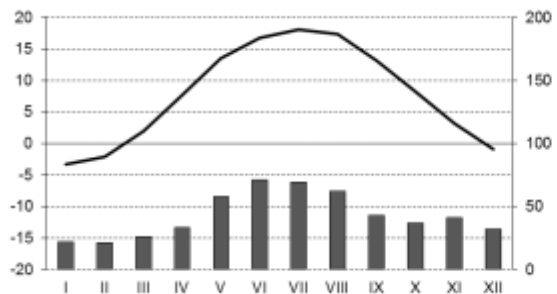
ЛОНДОН



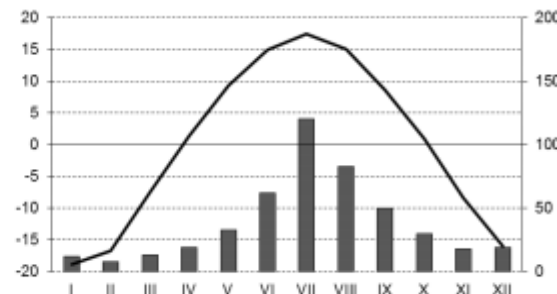
ХАРКОВ



ПЕТРОПАВЛОВСК
КАМЧАТСКИ



ВАРШАВА



ИРКУТСК

Задатак
3.

Повежи следеће градове са
климадијаграмима:

ХАРКОВ (50°N 36°E)

ИРКУТСК (52°N 104°E)

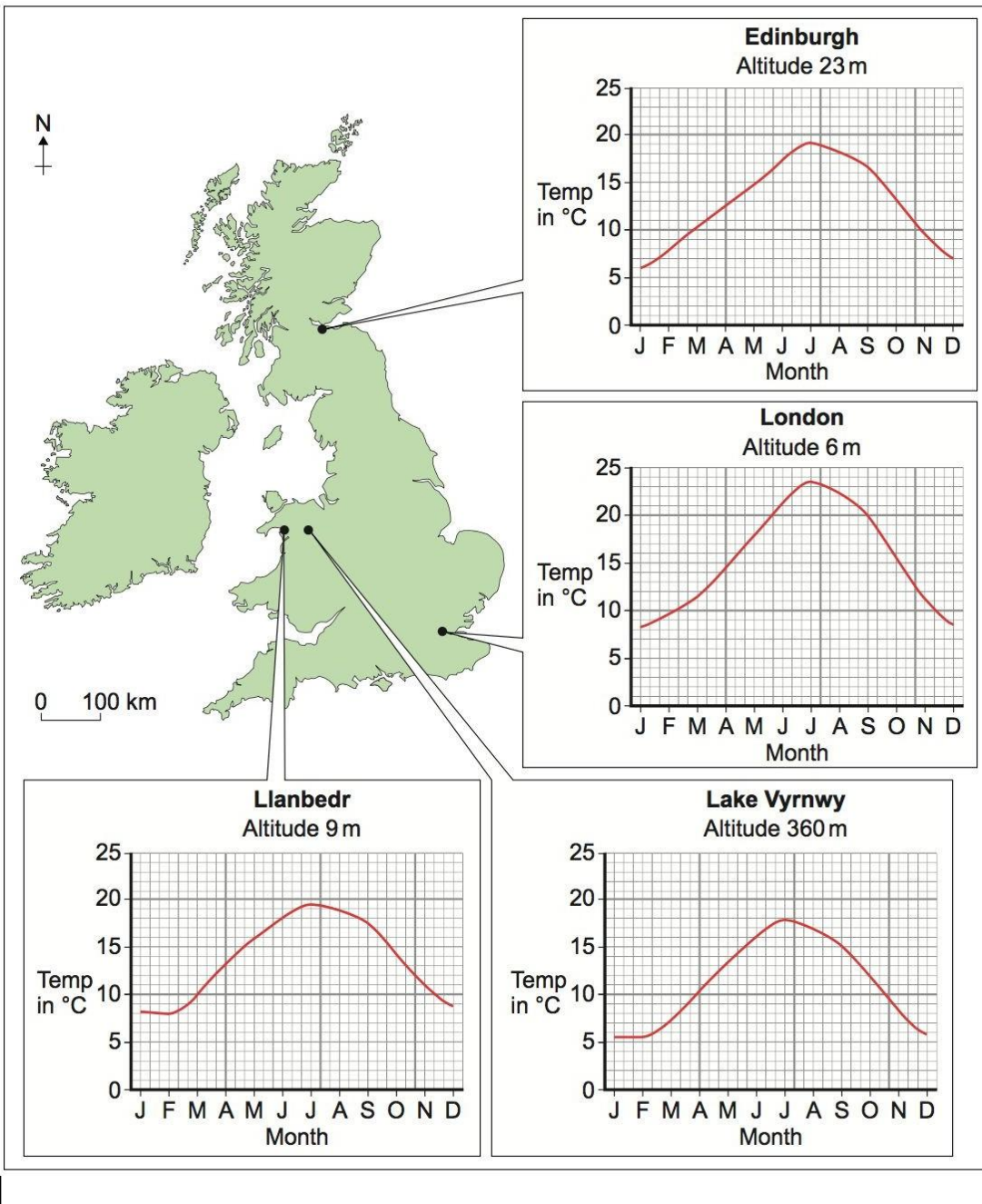
ЛОНДОН (52°N 0°)

ПЕТРОПАВЛОВСК КАМЧАТСКИ (53°N 159°E)

ВАНКУВЕР (49°N 123°W)

ВАРШАВА (52°N 21°E)

6 x 1 поен



На основу приказане мапе и дијаграма одговори на питања:

Задатак 5.

1. Која су два главна острва приказана на мапи?

1. **ИРСКА** 2. **ВЕЛИКА БРИТАНИЈА** 2 x 1 поен

2. Која су два града приказана на мапи главни градови?

1. **ЛОНДОН** 2. **ЕДИНБУРГ** 2 x 1 поен

3. Упиши колика је просечна температура за сваки од наведених месеци у наведеним градовима:

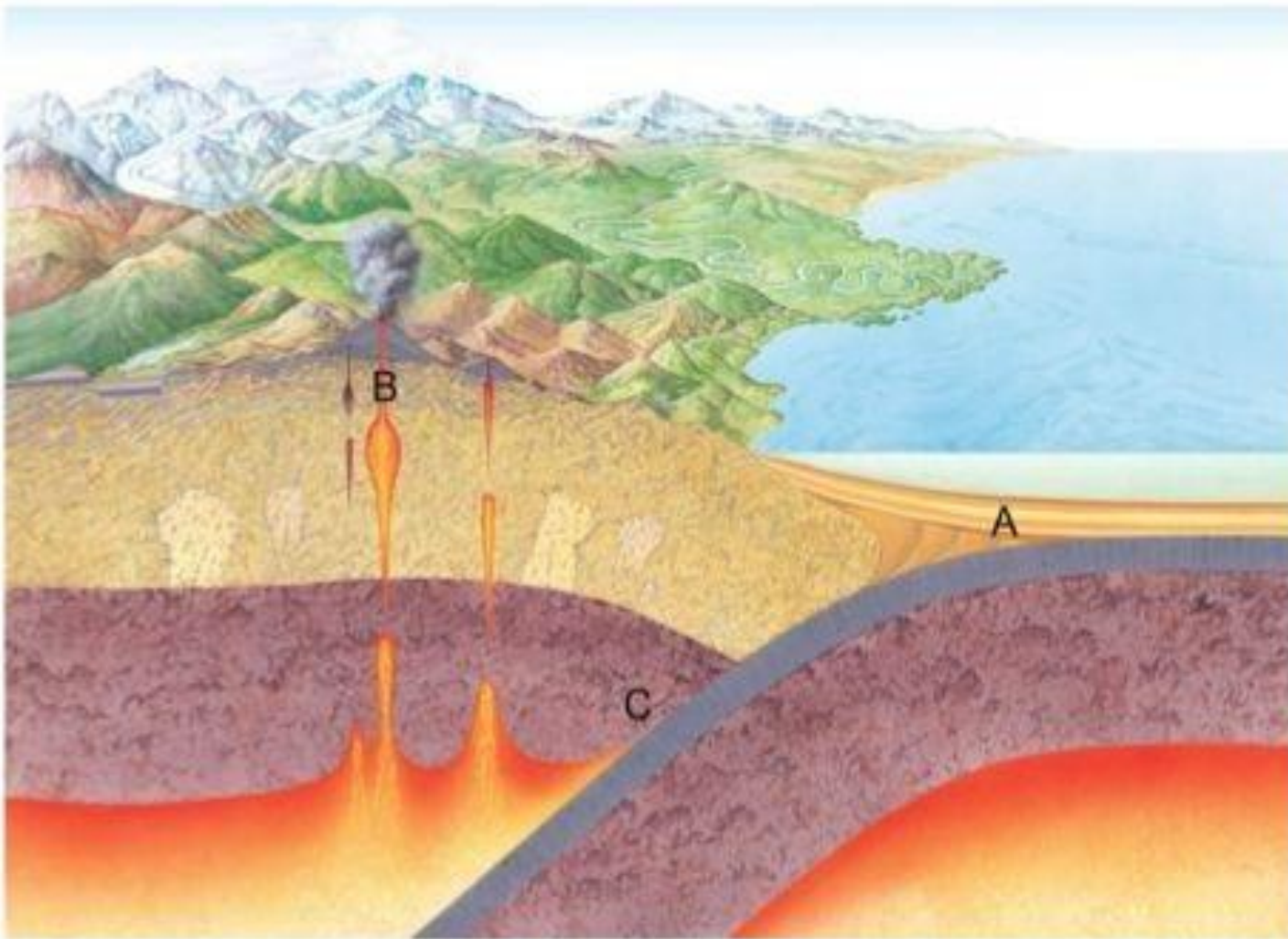
Језеро Вирнви /Lake Vyrnwy: Април **10** Август **17** Децембар **6**

Лондон: Март **11** Септембар **20** Новембар **11**
6 x 1 признати +/- 1 степен

4. Разлог због којег су просечне температуре у Единбургху толико ниже од температуре у Лондону?

Единбург је северније. 1 поен

Задатак
6.



На основу слике одговори на питања:

1. Формирање којих стена је приказано у тачки А?

Седиментне стене

2. Формирање којих стена је приказано у тачки Б?

Метаморфне стене

3. Формирање којих стена је приказано у тачки Ц?

Магматске стене

3 x 1 поен

Наведи појмове означене на слици од 1 до 5.

Задатак
7.

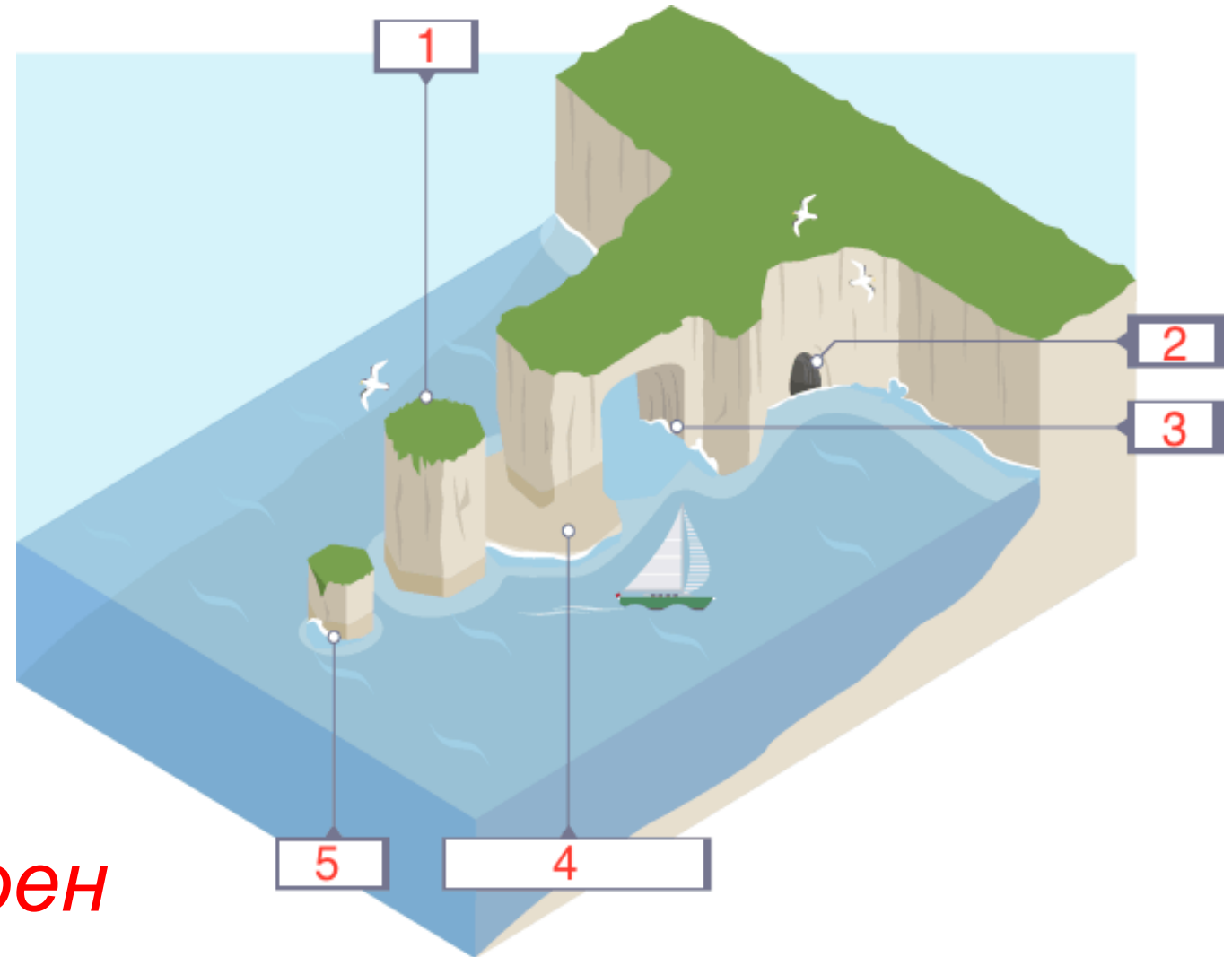
1. Гомила

2. Пећина

3. Свод

4. Платформа

5. Пањ



5 x 1 поен