

Мултимедијални тест

-РЕГИОНАЛНИ НИВО 2020-

Упутство за израду ММТ-а

- Пред Вама је мултимедијални тест. Састоји се од 40 питања из различитих области географије
- Сваки слајд са питањем биће видљив 40 секунди
- По завршетку 40. питања, сви слајдови ће бити видљиви још једном по 5 секунди
- Дозвољено је заокружити само један одговор. Након заокруживања хемијском оловком, НЕМА ВИШЕ ИСПРАВКИ!!!
- Желимо Вам успешан и срећан рад

1. Сан Андреас расед у Калифорнији је резултат:

- А) Судара тектонских плоча
- Б) Удара комете
- В) Мимоилажења тектонских плоча
- Г) Размицања тектонских плоча



2. Који тип вегетације је заступљен у областима приказаним на карти?

А) Пустинска

Б) Савана

В) Медитеранска

Г) Степа



3. На слици је приказана торбарска врста која је ишчезла. Који континент је насељавала?

- А) Азију
- Б) Аустралију
- В) Јужну Америку
- Г) Африку



4. Црвена површина на графику представља:

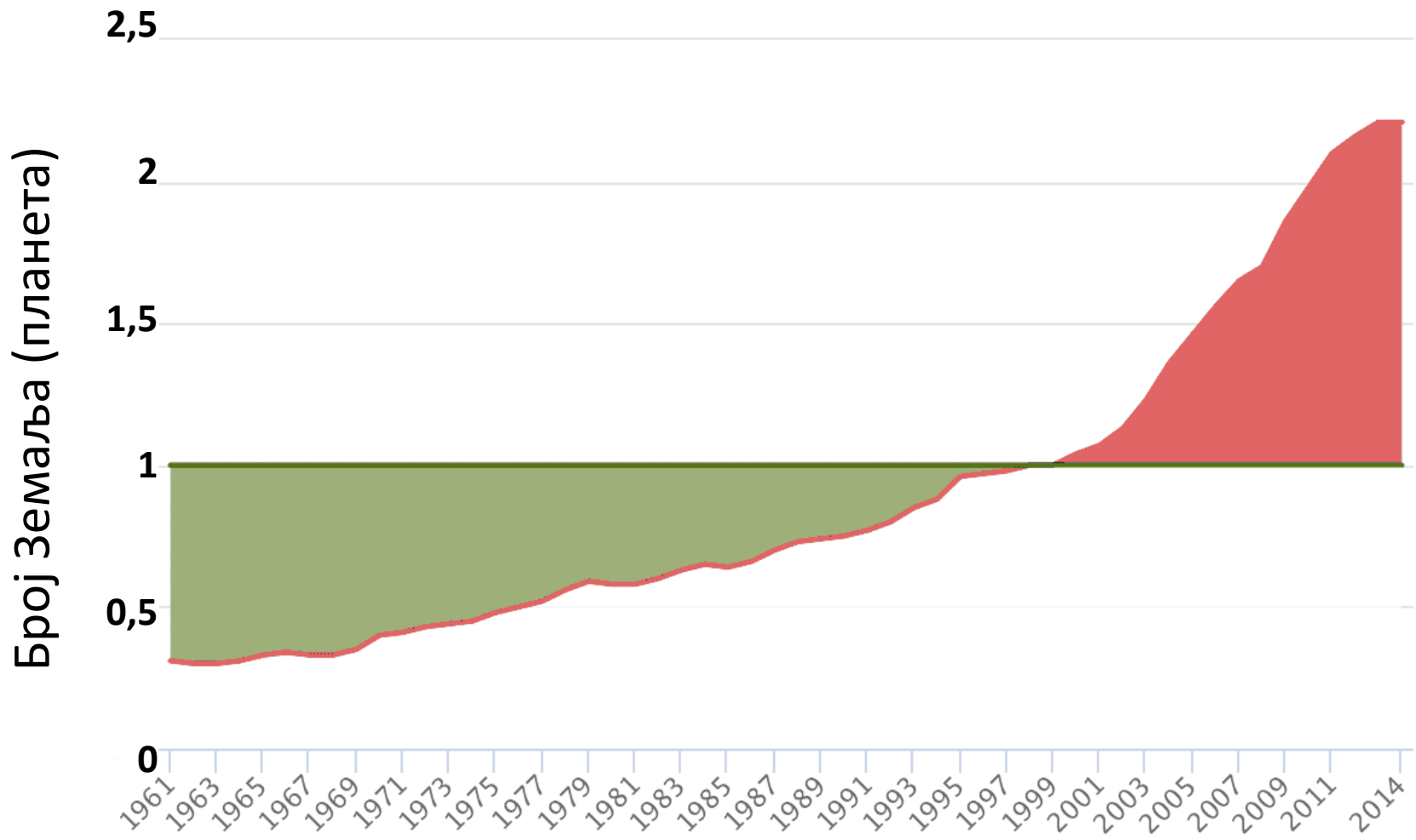
A) еколошки суфицит

Б) еколошки дефицит

В) биокапацитет

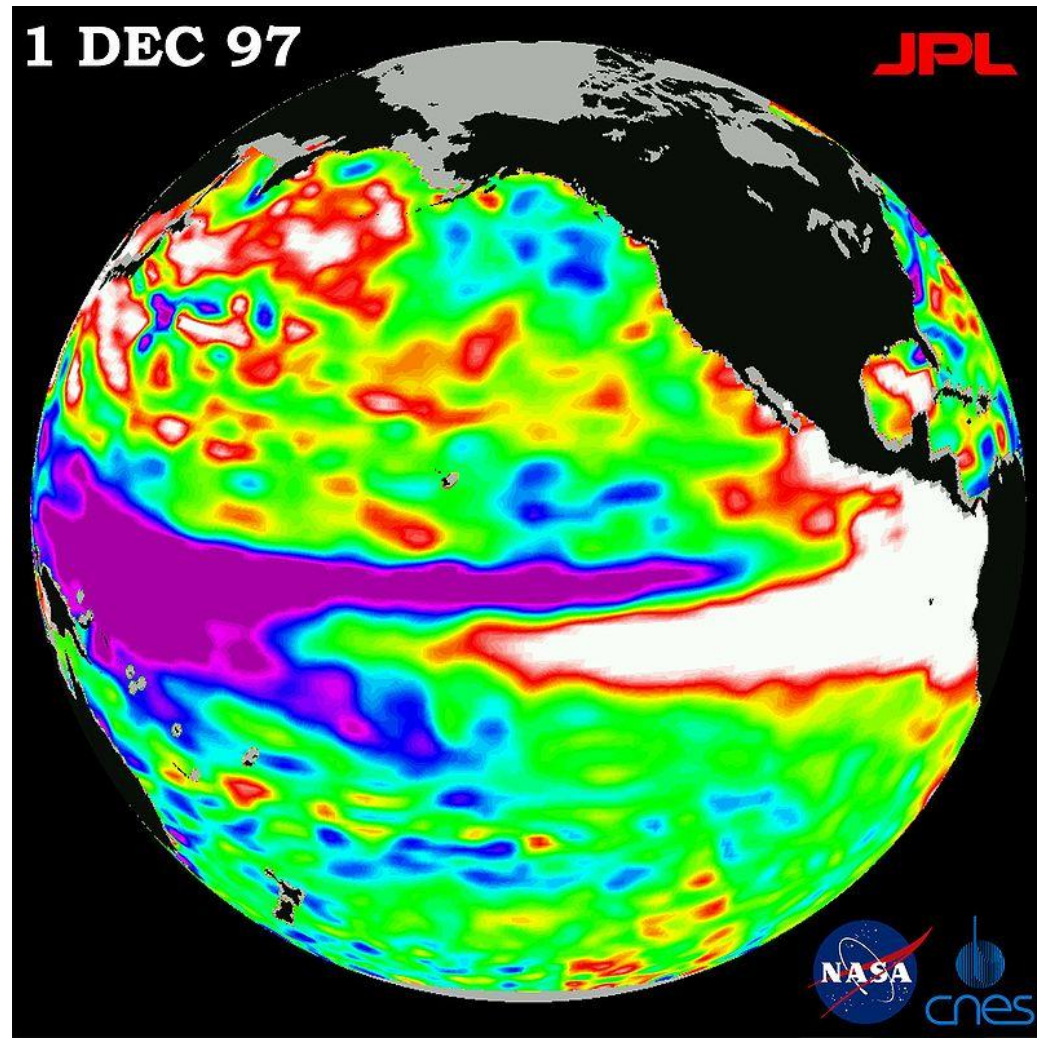
Г) еколошки отисак

Кина



5. На слици је приказан/а:

- А) Сунчева радијација
- Б) Ел Нињо феномен
- В) Кишни облак
- Г) Температура ваздуха



6. Приказана фотографија је настала у:

А) Грчкој

Б) Боливији

В) Мозамбику

Г) Папуа Новој Гвинеји



7. Који тип вегетације је приказан на слици?

- А) Кампоси
- Б) Љаноси
- В) Прерије
- Г) Чапарал



8. Острва на слици су свој облик добила након:

А) Цунамија

Б) Вулканске активности

В) Тајфуна

Г) Земљотреса



9. Шта је приказано на фотографији?

А) Увац

Б) Овчарско-кабларска клисура

В) Сићевачка клисура

Г) Дрина



10. Водопади са слике се налазе на граници:

А) Замбије и Зимбабвеа

Б) Анголе и ДР Конго

В) Јужноафричке републике и Мозамбика

Г) Боцване и Намибије



11. Који град се налази на фотографији?

А) Сан Франциско

Б) Мајами

В) Торонто

Г) Отава



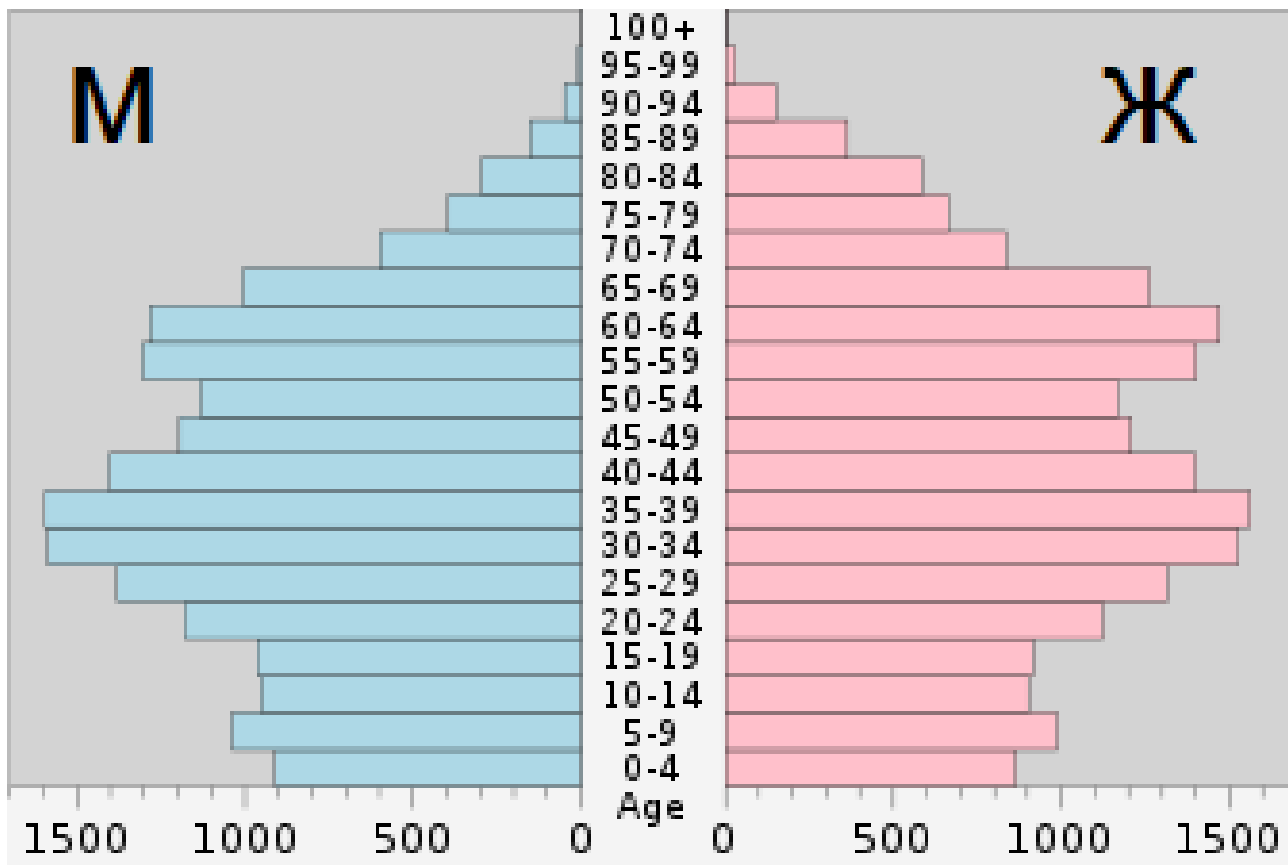
12. На сателитском снимку је приказан један мореуз. Који?

- А) Баб ел Мандеб
- Б) Малајски
- В) Дарданели
- Г) Ормуз



13. Полно-старосна популациона пирамида одговара становништву:

- А) Пољске
- Б) Турске
- В) Индије
- Г) Гватемале



14. Пејзаж са слике је карактеристичан за:

А) Фрушку гору

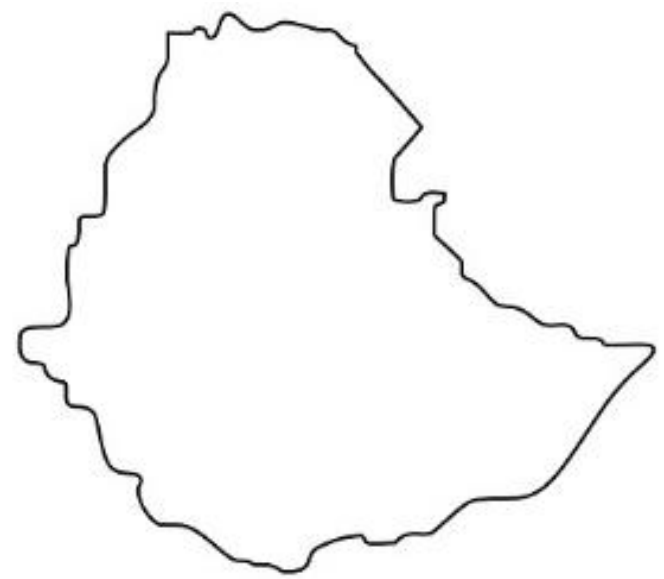
Б) Пештер

В) Копаоник

Г) Поморавље




15. Повежите контуру државе са њеном заставом




A)



Б)



В)

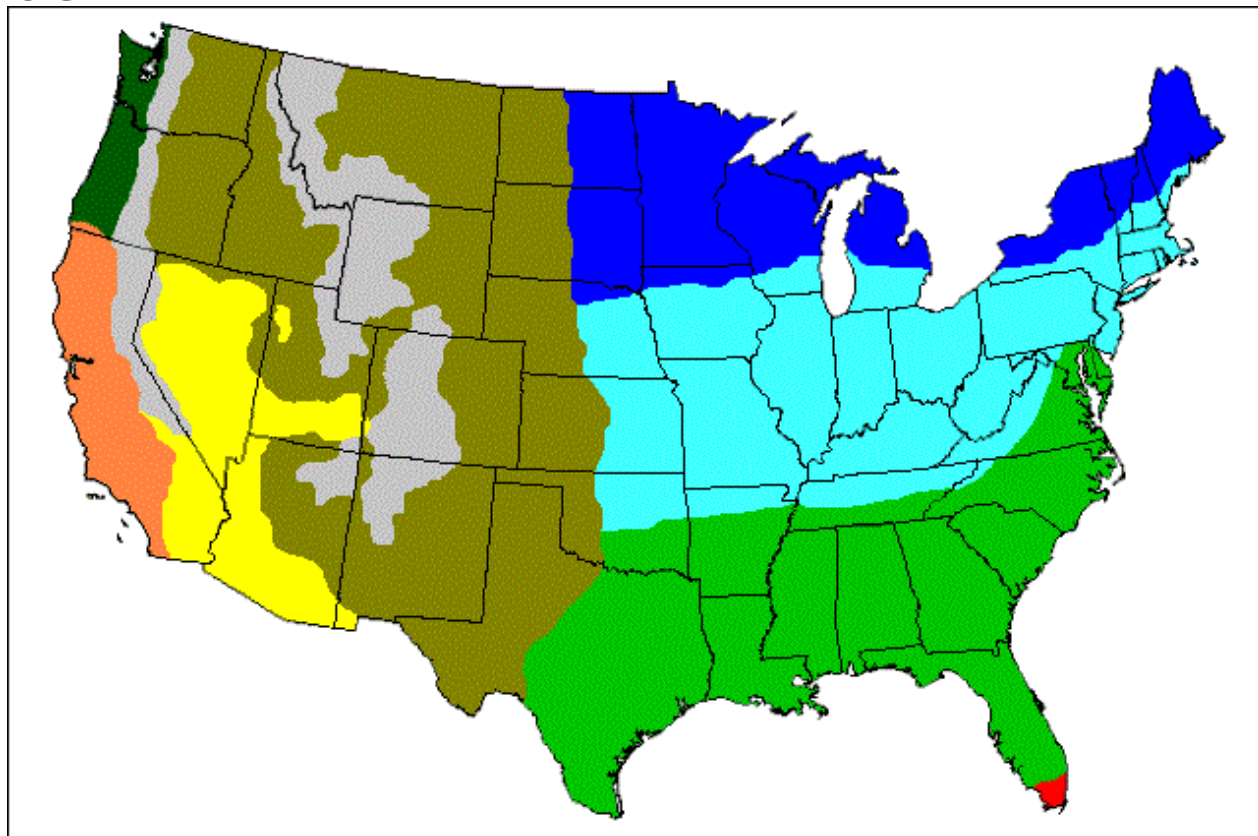


Г)



16. Шта представља тематска карта САД-а?

- А) Распоред пољопривредних култура
- Б) Климатске типове
- В) Геолошке целине
- Г) Доминантне расе



17. Људи са фотографије живе у:

- А) Бутану
- Б) Монголији
- В) Ј. Кореји
- Г) Камбоџи



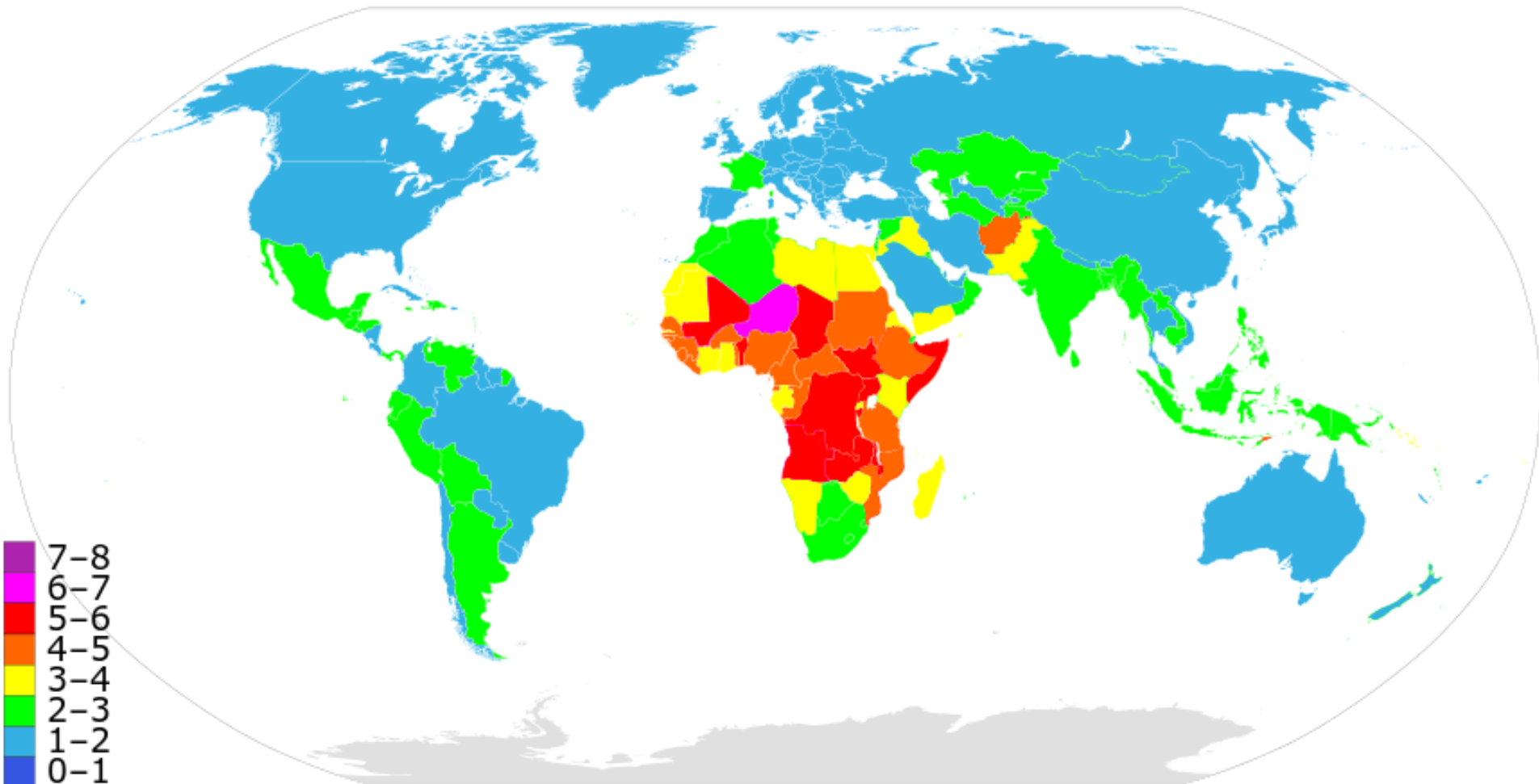
18. На карти света је представљен:

А) Удео неписмених

Б) Фертилитет

В) Удео атеиста

Г) Морталитет




19. На сателитском снимку видимо ушће:

А) Тигра и Еуфрата (Шат ел Араба)

Б) Замбезија

В) Волге

Г) Хоангхоа



20. На етничкој карти Турске наранџастом бојом приказан је простор већински насељен:

А) Ирачанима

Б) Курдима

В) Иранцима

Г) Сиријцима



21. Држава чија је застава на слици граничи се са:

- А) Либеријом
- Б) Сенегалом
- В) Чадом
- Г) Руандом



22. Биљка са слике гаји се и у Европи. У којој држави?

- А) Северној Македонији
- Б) Данској
- В) Мађарској
- Г) Словачкој



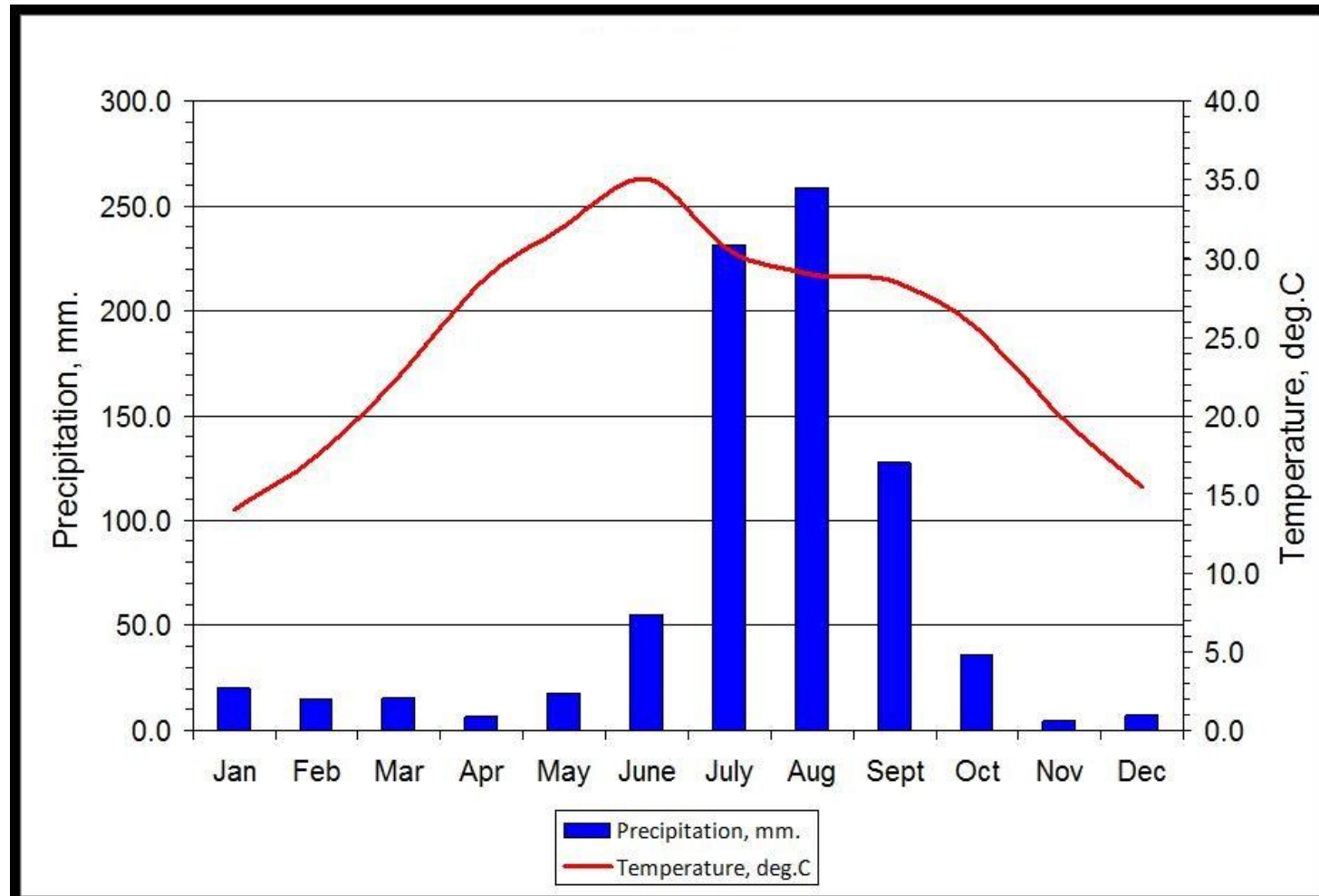
23. Ада са слике представља спортско-рекреативну зону ког града?

- А) Софије
- Б) Београда
- В) Букурешта
- Г) Будимпеште



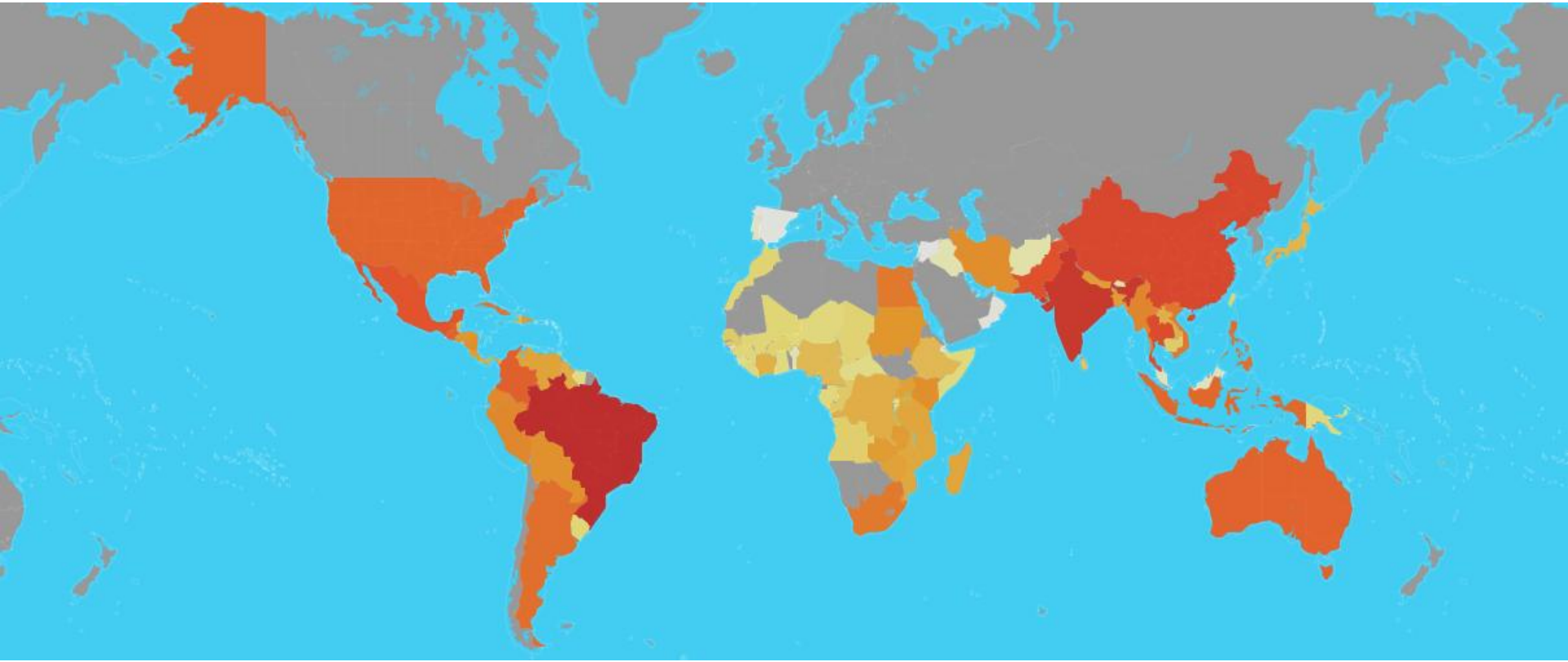
24. Климадијаграм ког града је представљен на слици?

- А) Улан Батор
- Б) Делхи
- В) Лисабон
- Г) Ријад



25. Шта је представљено на следећој карти?

- A) Производња шећерне репе
- Б) Производња шећерне трске
- В) Производња кромпира
- Г) Производња парадајза



26. На слици је приказана некадашња подела државе:

- А) Вијетнам
- Б) Судан
- В) Јемен
- Г) Оман



27. Река која протиче кроз град у коме је прављен ауто са слике улива се у:

- А) Јужну Мораву
- Б) Јасеницу
- В) Велику Мораву
- Г) Западну Мораву



28. Животиња са слике живи у:

- А) Боливији
- Б) Еквадору
- В) Чилеу
- Г) Панами



29. Особа са слике највероватније је:

А) Велшанин

Б) Енглец

В) Ирац

Г) Шкотланђанин




30. Језеро са слике је по начину постанка:

- А) Вулканско
- Б) Тектонско
- В) Крашко
- Г) Ледничко



31. Природна појава са слике у овом делу света
назива се:

А) Торнадо Б) Монсун В) Тајфун Г) Ураган



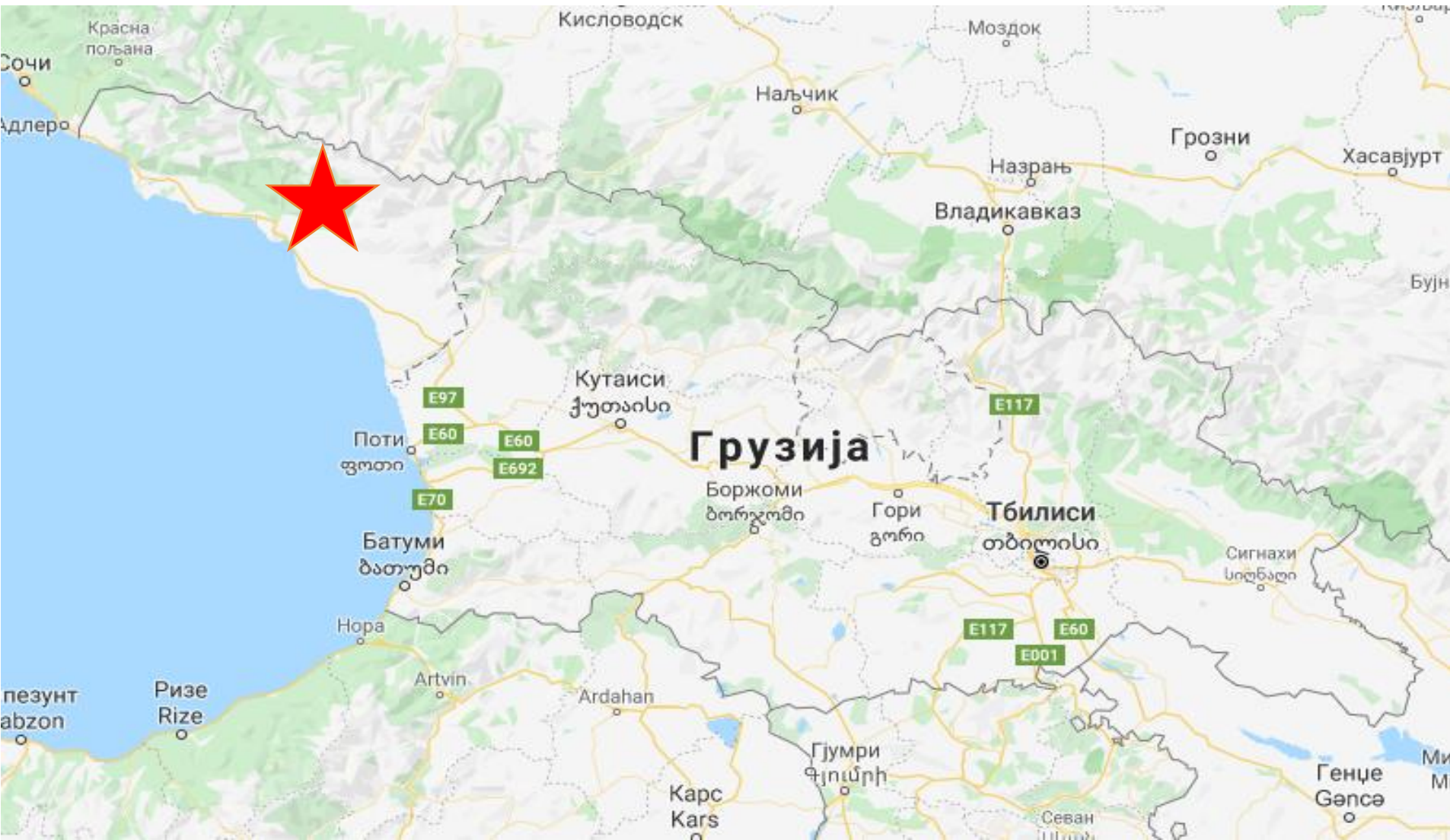
32. Црвеном звездом означена је:

А) Јужна Осетија

Б) Северна Осетија

В) Чеченија

Г) Абхазија



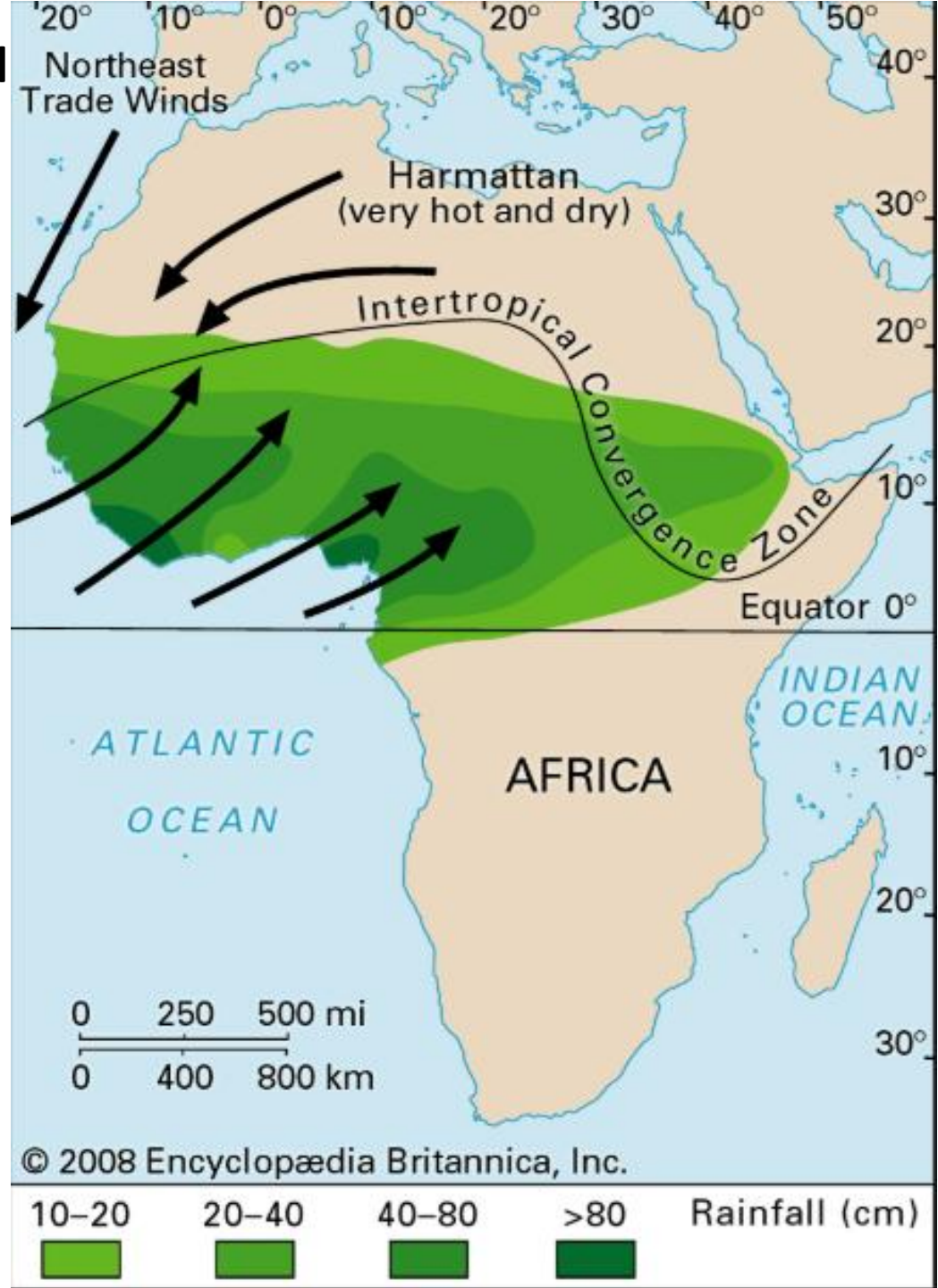
33. На карти је приказан просторни распоред и просечна количина падавина у току:

А) Лета на северној хемисфери

Б) Зиме на северној хемисфери

В) Лета на јужној хемисфери

Г) јесени на јужној Хемисфери



34. Овај тип вегетације се на простору Колумбије и Венецуеле назива:

А) Пампа

Б) Љанос

В) Кампос

Г) „Tierra fria”



35. Један од објеката је под заштитом UNESCO-а

А)



Б)



В)



Г)



36. Један од градова са слике главни је град парламентарне монархије

А)




Б)



В)



Г)



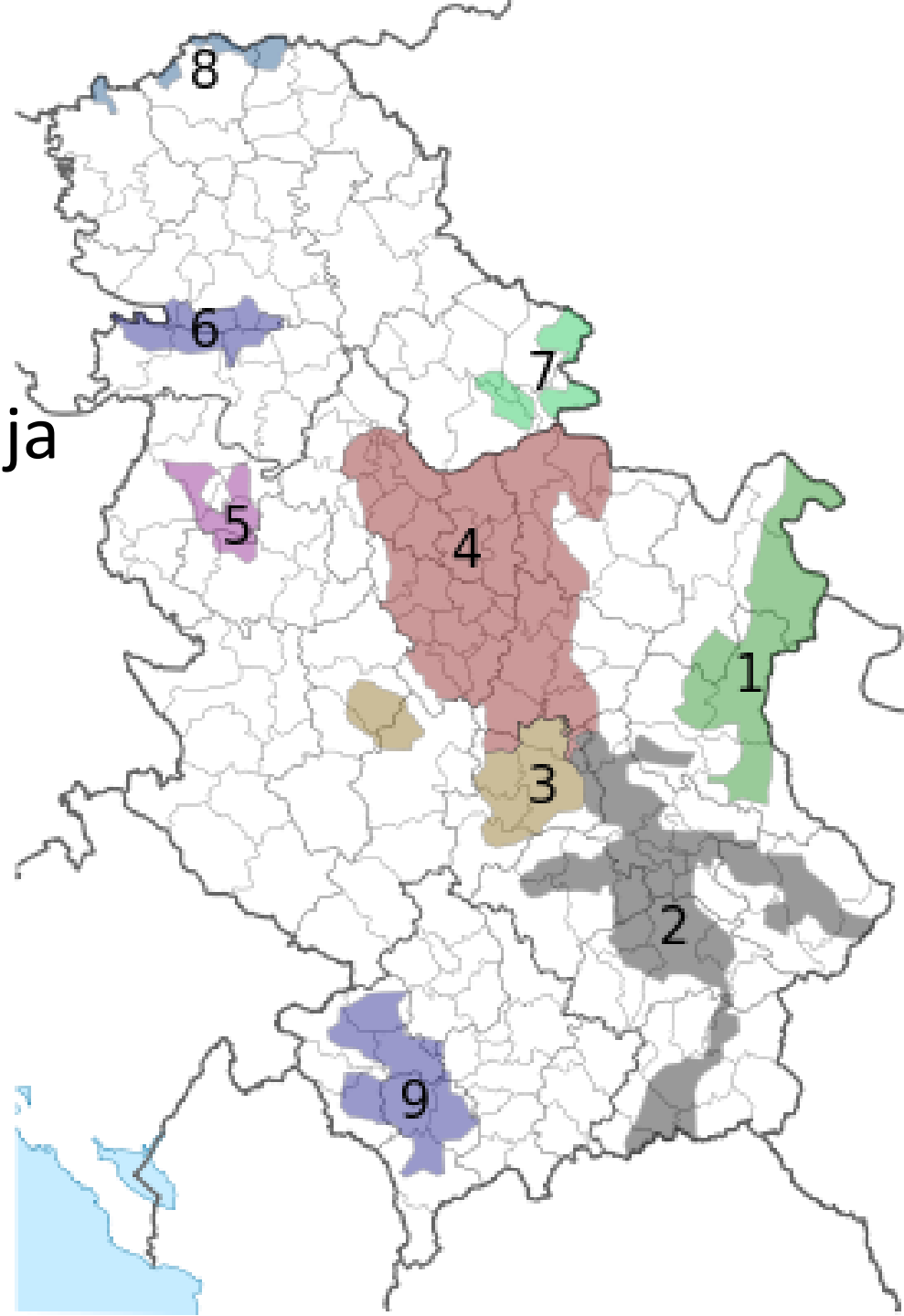
37. Која намена доминира на локацији са слике?

- А) Становање
- Б) Комерцијална
- В) Индустриска
- Г) Пољопривредна



38. На карти Србије
приказана су подручја:

- А) Узгоја кукуруза
- Б) Виноградарска подручја
- В) Узгоја паприке
- Г) Узгоја пшенице



39. Који сателитски снимак приказује радијалну урбану матрицу?



40. Како се зове знаменитост са фотографије?

- А) Црква св. Петра
- Б) Нотр Дам
- В) Црква Исуса Христа
- Г) Саграда Фамилија



1. Сан Андреас расед у Калифорнији је резултат:

- А) Судара тектонских плоча
- Б) Удара комете
- В) Мимоилажења тектонских плоча
- Г) Размицања тектонских плоча



2. Који тип вегетације је заступљен у областима приказаним на карти?

- А) Пустинјска
- Б) Савана
- В) Медитеранска
- Г) Степа



3. На слици је приказана торбарска врста која је ишчезла. Који континент је насељавала?

- А) Азију
- Б) Аустралију
- В) Јужну Америку
- Г) Африку



4. Црвена површина на графику представља:

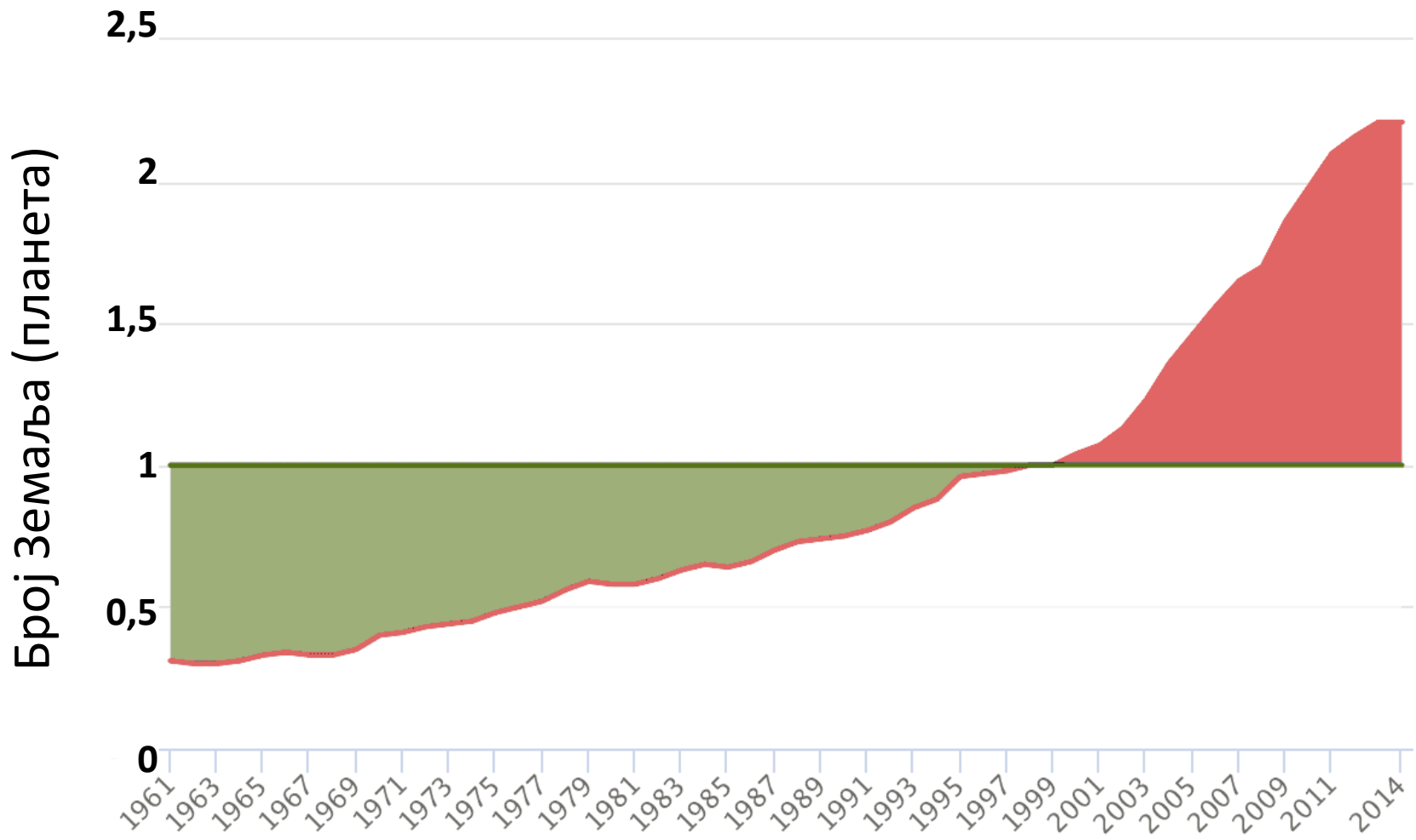
A) еколошки суфицит

Б) еколошки дефицит

В) биокапацитет

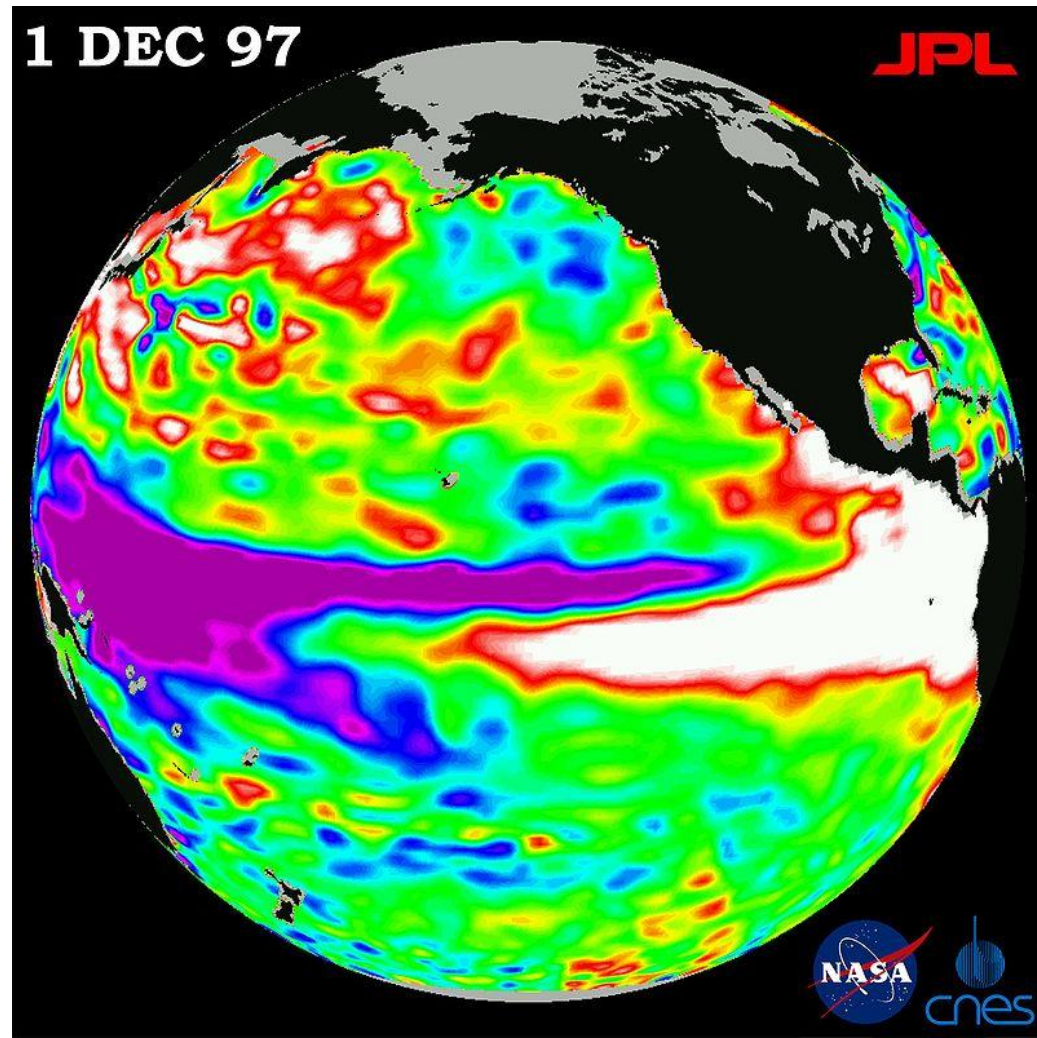
Г) еколошки отисак

Кина



5. На слици је приказан/а:

- А) Сунчева радијација
- Б) Ел Нињо феномен
- В) Кишни облак
- Г) Температура ваздуха



6. Приказана фотографија је настала у:

А) Грчкој

Б) Боливији

В) Мозамбику

Г) Папуа Новој Гвинеји



7. Који тип вегетације је приказан на слици?

- А) Кампоси
- Б) Љаноси
- В) Прерије
- Г) Чапарал



8. Острва на слици су свој облик добила након:

А) Цунамија

Б) Вулканске активности

В) Тајфуна

Г) Земљотреса



9. Шта је приказано на фотографији?

А) Увац

Б) Овчарско-кабларска клисура

В) Сићевачка клисура

Г) Дрина



10. Водопади са слике се налазе на граници:

А) Замбије и Зимбабвеа

Б) Анголе и ДР Конго

В) Јужноафричке републике и Мозамбика

Г) Боцване и Намибије



11. Који град се налази на фотографији?

А) Сан Франциско

Б) Мајами

В) Торонто

Г) Отава



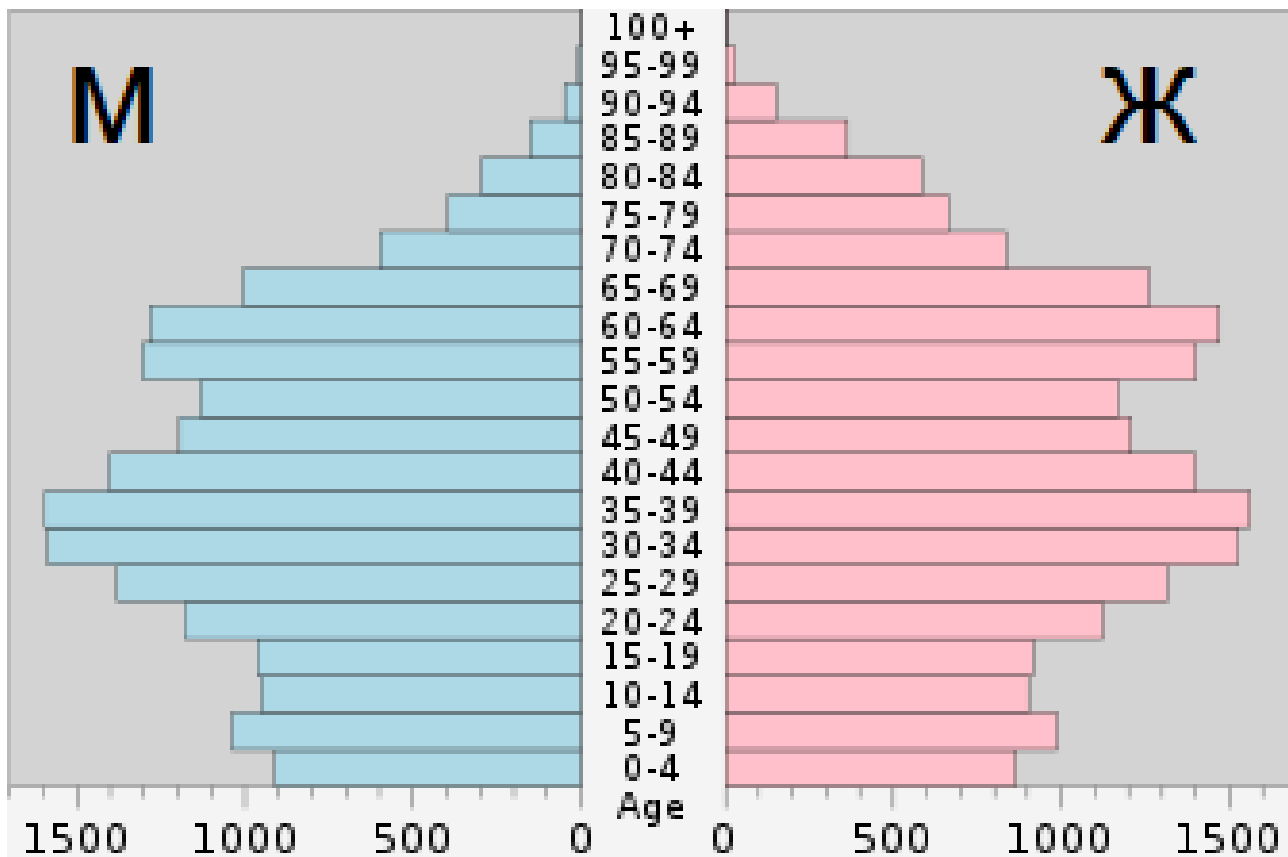
12. На сателитском снимку је приказан један мореуз. Који?

- А) Баб ел Мандеб
- Б) Малајски
- В) Дарданели
- Г) Ормуз



13. Полно-старосна популациона пирамида одговара становништву:

- А) Пољске
- Б) Турске
- В) Индије
- Г) Гватемале



14. Пејзаж са слике је карактеристичан за:

А) Фрушку гору


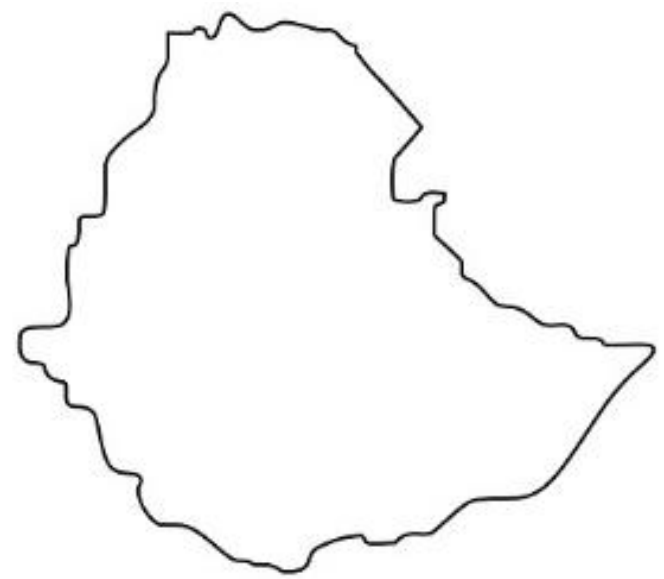
Б) Пештер

В) Копаоник

Г) Поморавље

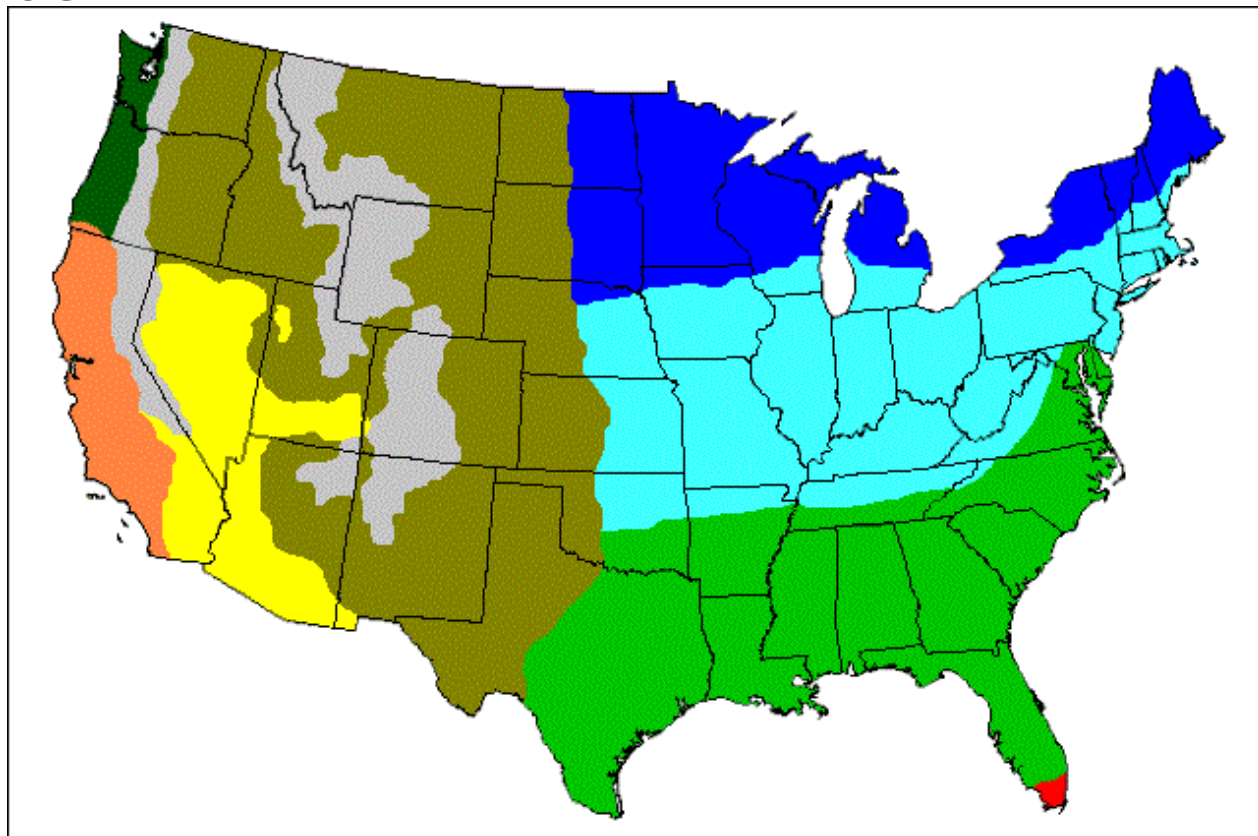


15. Повежите контуру државе са њеном заставом



16. Шта представља тематска карта САД-а?

- А) Распоред пољопривредних култура
- Б) Климатске типове
- В) Геолошке целине
- Г) Доминантне расе



17. Људи са фотографије живе у:

- А) Бутану
- Б) Монголији
- В) Ј. Кореји
- Г) Камбоџи



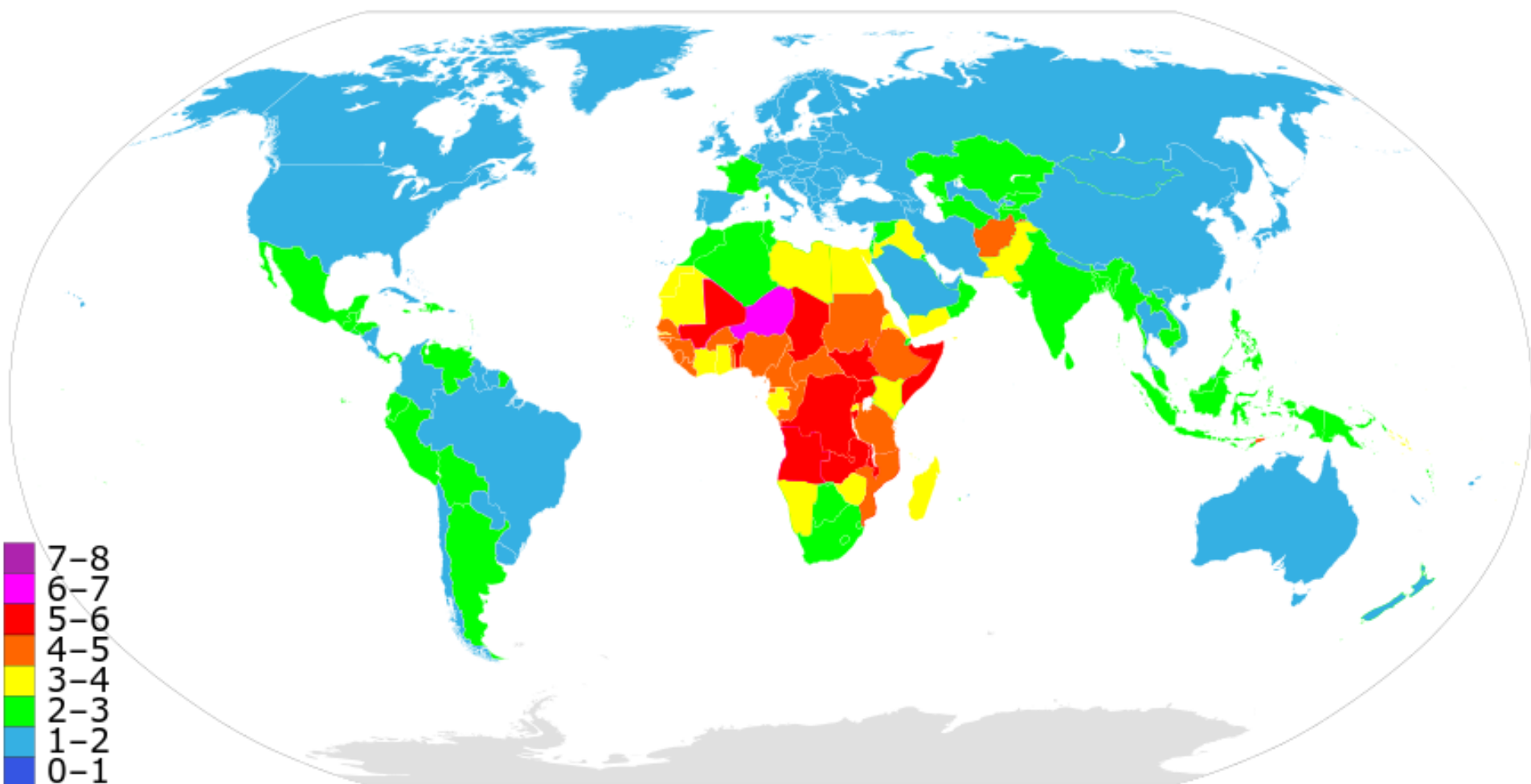
18. На карти света је представљен:

А) Удео неписмених

Б) Фертилитет

В) Удео атеиста

Г) Морталитет




19. На сателитском снимку видимо ушће:

А) Тигра и Еуфрата (Шат ел Араба)

Б) Замбезија

В) Волге

Г) Хоангхоа



20. На етничкој карти Турске наранџастом бојом приказан је простор већински насељен:

А) Ирачанима

Б) Курдима

В) Иранцима

Г) Сиријцима



21. Држава чија је застава на слици граничи се са:

- А) Либеријом
- Б) Сенегалом
- В) Чадом
- Г) Руандом



22. Биљка са слике гаји се и у Европи. У којој држави?

- А) Северној Македонији
- Б) Данској
- В) Мађарској
- Г) Словачкој



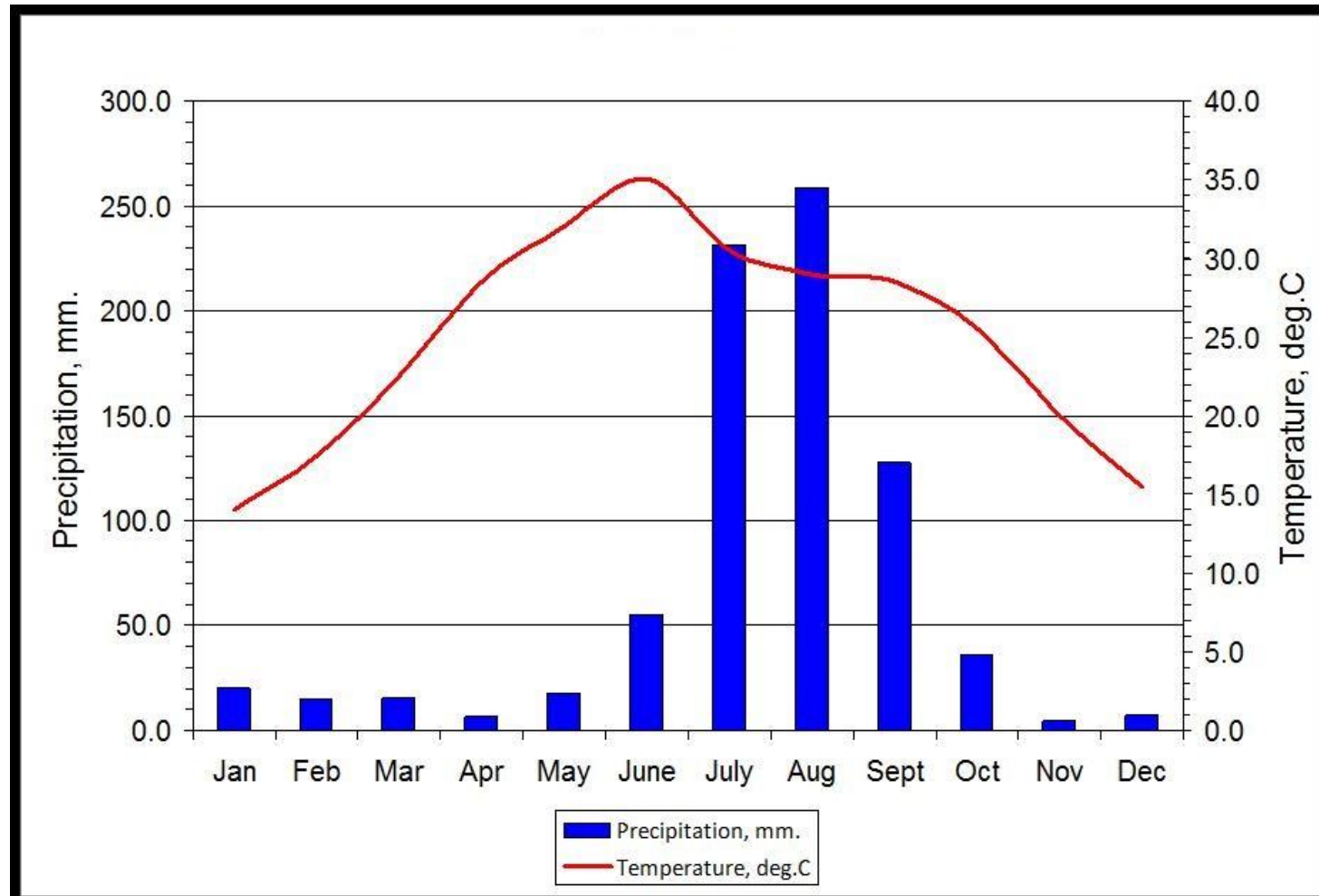
23. Ада са слике представља спортско-рекреативну зону ког града?

- А) Софије
- Б) Београда
- В) Букурешта
- Г) Будимпеште



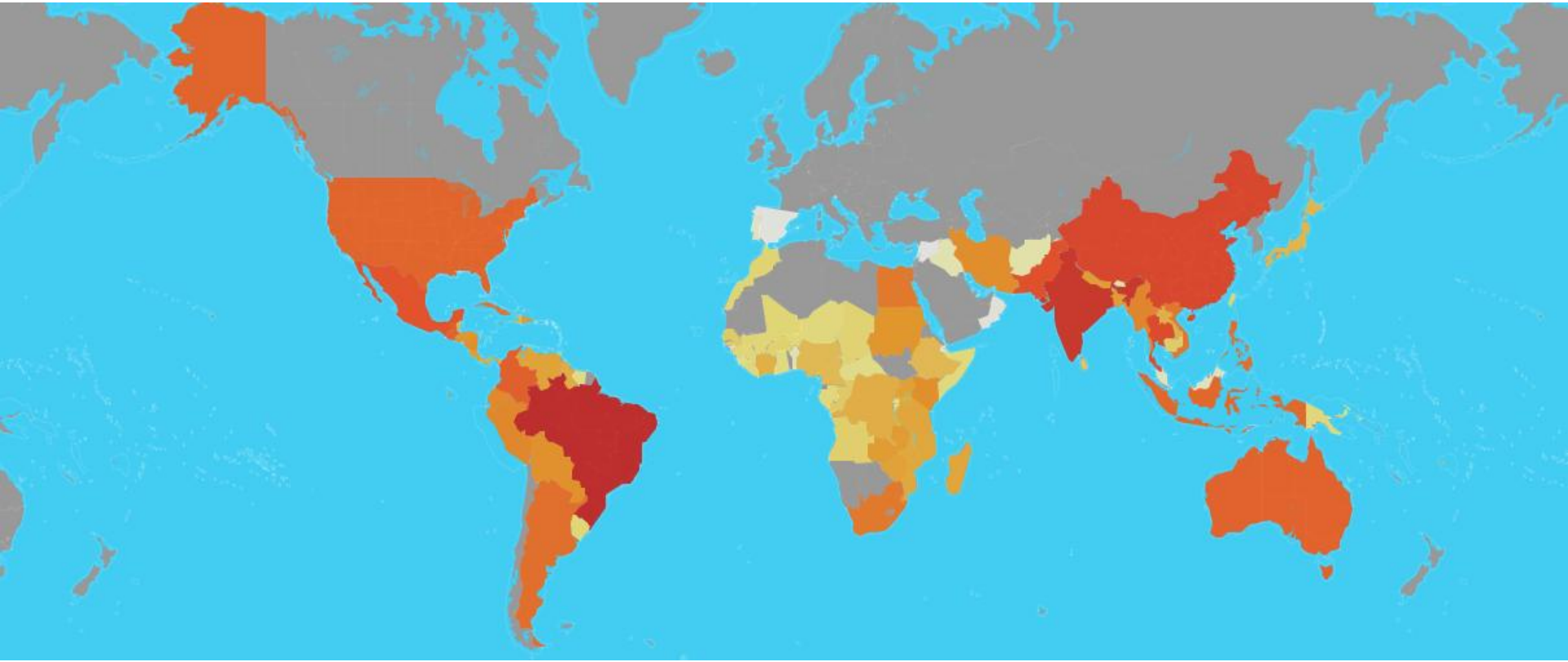
24. Климадијаграм ког града је представљен на слици?

- А) Улан Батор
- Б) Делхи
- В) Лисабон
- Г) Ријад



25. Шта је представљено на следећој карти?

- A) Производња шећерне репе
- Б) Производња шећерне трске
- В) Производња кромпира
- Г) Производња парадајза



26. На слици је приказана некадашња подела државе:

- А) Вијетнам
- Б) Судан
- В) Јемен
- Г) Оман



27. Река која протиче кроз град у коме је прављен ауто са слике улива се у:

- А) Јужну Мораву
- Б) Јасеницу
- В) Велику Мораву
- Г) Западну Мораву



28. Животиња са слике живи у:

- А) Боливији
- Б) Еквадору
- В) Чилеу
- Г) Панами



29. Особа са слике највероватније је:

А) Велшанин

Б) Енглец

В) Ирац

Г) Шкотланђанин




30. Језеро са слике је по начину постанка:

- А) Вулканско
- Б) Тектонско
- В) Крашко
- Г) Ледничко



31. Природна појава са слике у овом делу света
назива се:

А) Торнадо Б) Монсун В) Тајфун Г) Ураган



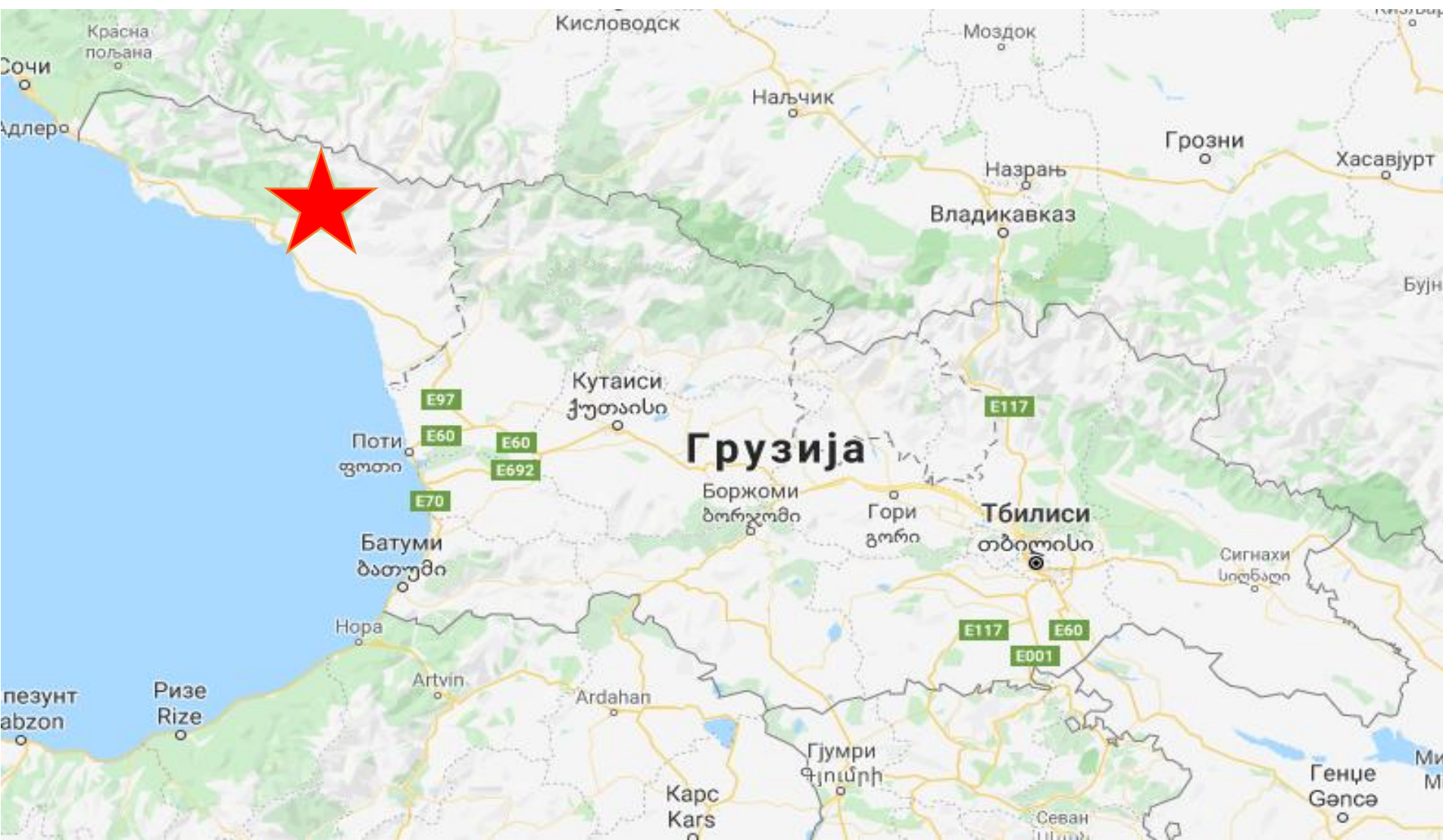
32. Црвеном звездом означена је:

А) Јужна Осетија

Б) Северна Осетија

В) Чеченија

Г) Абхазија



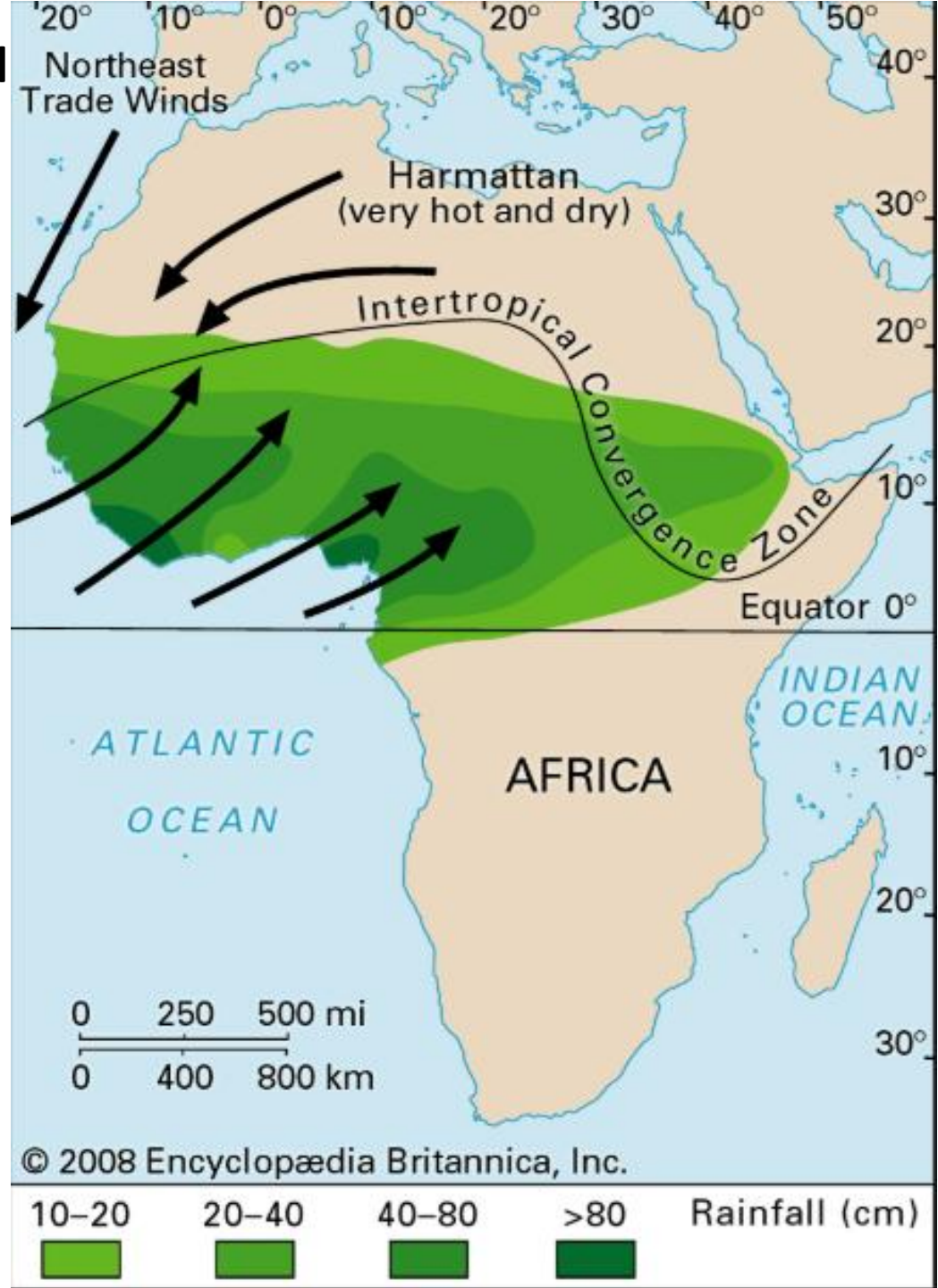
33. На карти је приказан просторни распоред и просечна количина падавина у току:

А) Лета на северној хемисфери

Б) Зиме на северној хемисфери

В) Лета на јужној хемисфери

Г) јесени на јужној Хемисфери



34. Овај тип вегетације се на простору Колумбије и Венецуеле назива:

А) Пампа

Б) Љанос

В) Кампос

Г) „Tierra fria”



35. Један од објеката је под заштитом UNESCO-а

А)



Б)



Г)



36. Један од градова са слике главни је град парламентарне монархије

А)




Б)



В)



Г)



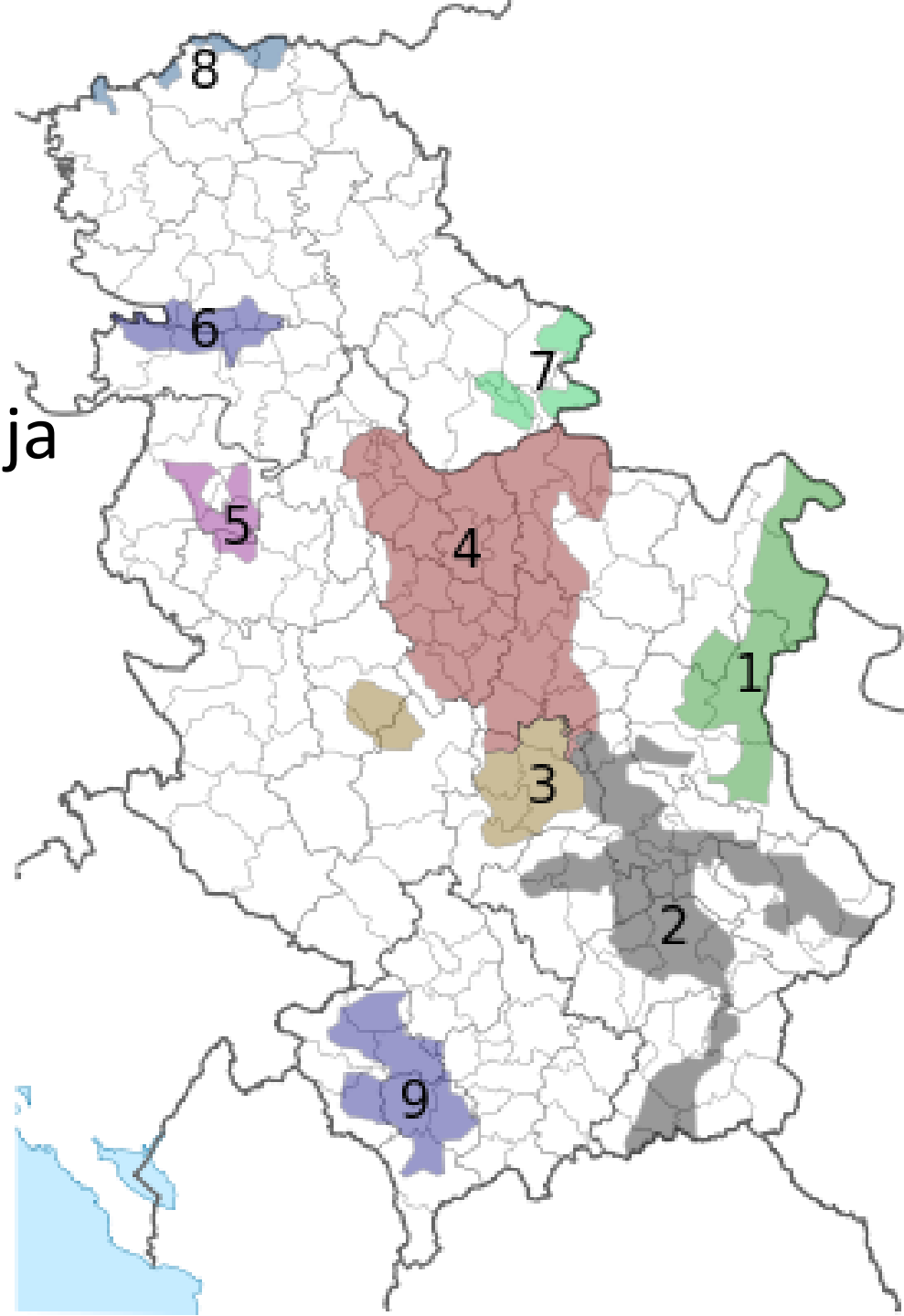
37. Која намена доминира на локацији са слике?

- А) Становање
- Б) Комерцијална
- В) Индустриска
- Г) Пољопривредна



38. На карти Србије
приказана су подручја:

- А) Узгоја кукуруза
- Б) Виноградарска подручја
- В) Узгоја паприке
- Г) Узгоја пшенице



39. Који сателитски снимак приказује радијалну урбану матрицу?



40. Како се зове знаменитост са фотографије?

- А) Црква св. Петра
- Б) Нотр Дам
- В) Црква Исуса Христа
- Г) Саграда Фамилија

