

МУЛТИМЕДИЈАЛНИ ТЕСТ 2024

-регионални ниво-

Упутство за израду ММТа

- Пред Вама је мултимедијални тест. Састоји се од 40 питања из различитих области географије
- Сваки слајд са питањем биће видљив 30 секунди
- Дозвољено је заокружити само један одговор. Након заокруживања хемијском оловком, НЕМА ВИШЕ ИСПРАВКИ!!!
- Желимо Вам успешан и срећан рад

1. Позната грађевина са слике налази се у:

А) Бандар Сери Бегавану

Б) Куала Лумпуру

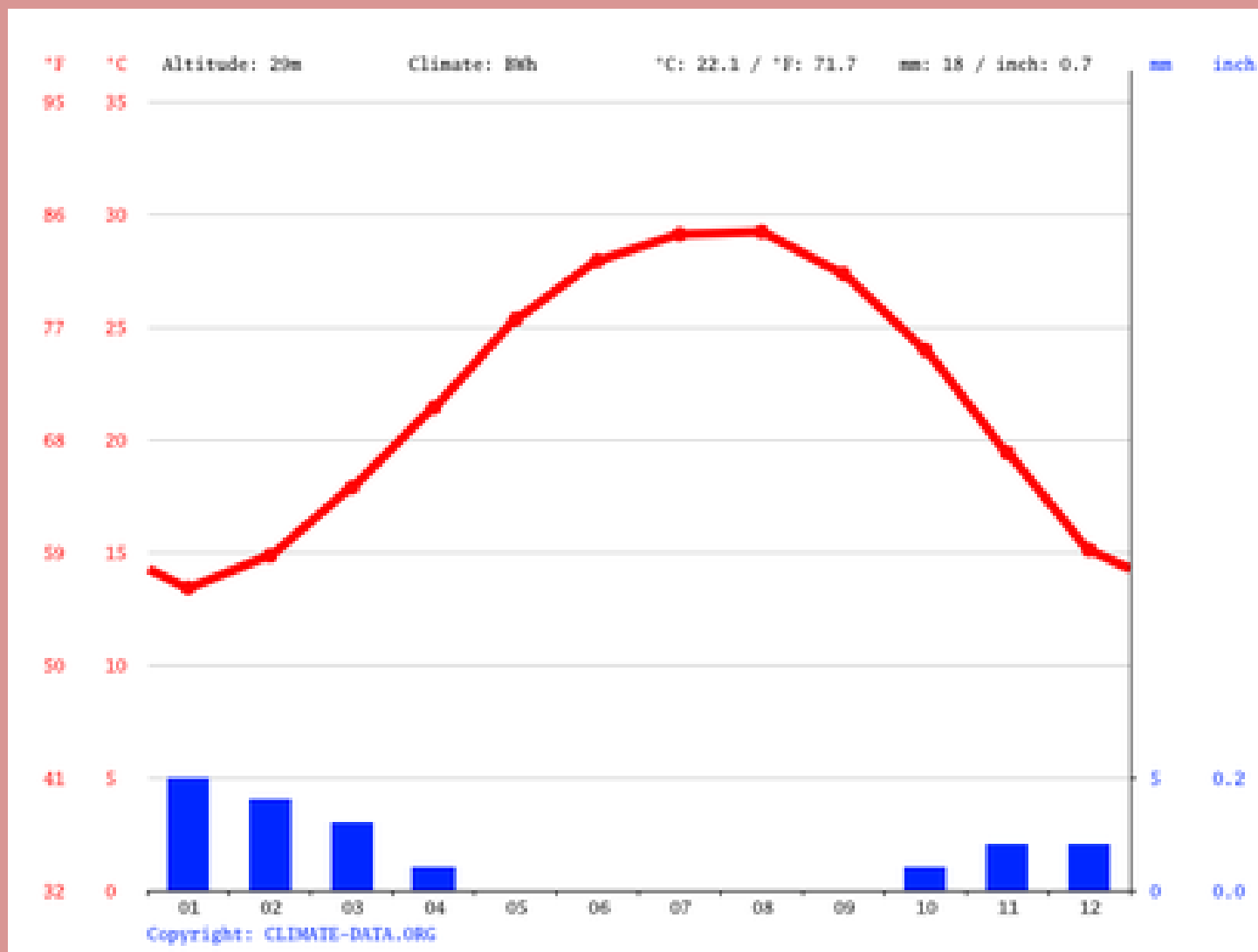
В) Сингапуру

Г) Дилију



2. Клима-дијаграм одговара једном од понуђених градова:

- А) Каиро
- Б) Киншаса
- В) Лагос
- Г) Кејптаун



3. Поврће са слике карактеристично је за:

А) Темерин

Б) Бечеј

В) Србобран

Г) Футог



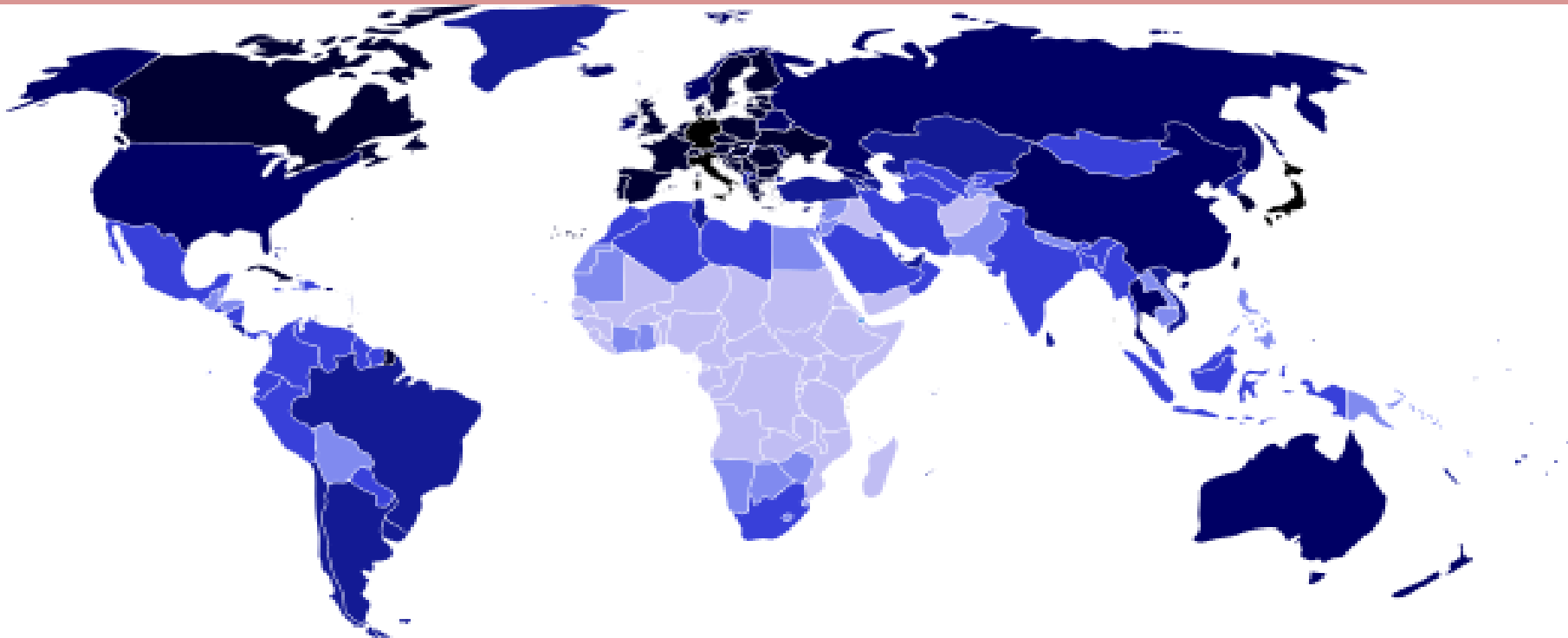
4. Шта је приказано на следећој карти?

А) Густина насељености

Б) Популациона величина државе

В) Просечна старост становништва

Г) Производња злата



5. Које полуострво је приказано на снимку?

- А) Јиланд**
- Б) Флорида**
- В) Бретања**
- Г) Јукатан**



6. Ова слика сигурно није снимљена у:

А) Белорусији

Б) Пољској

В) Холандији

Г) Норвешкој



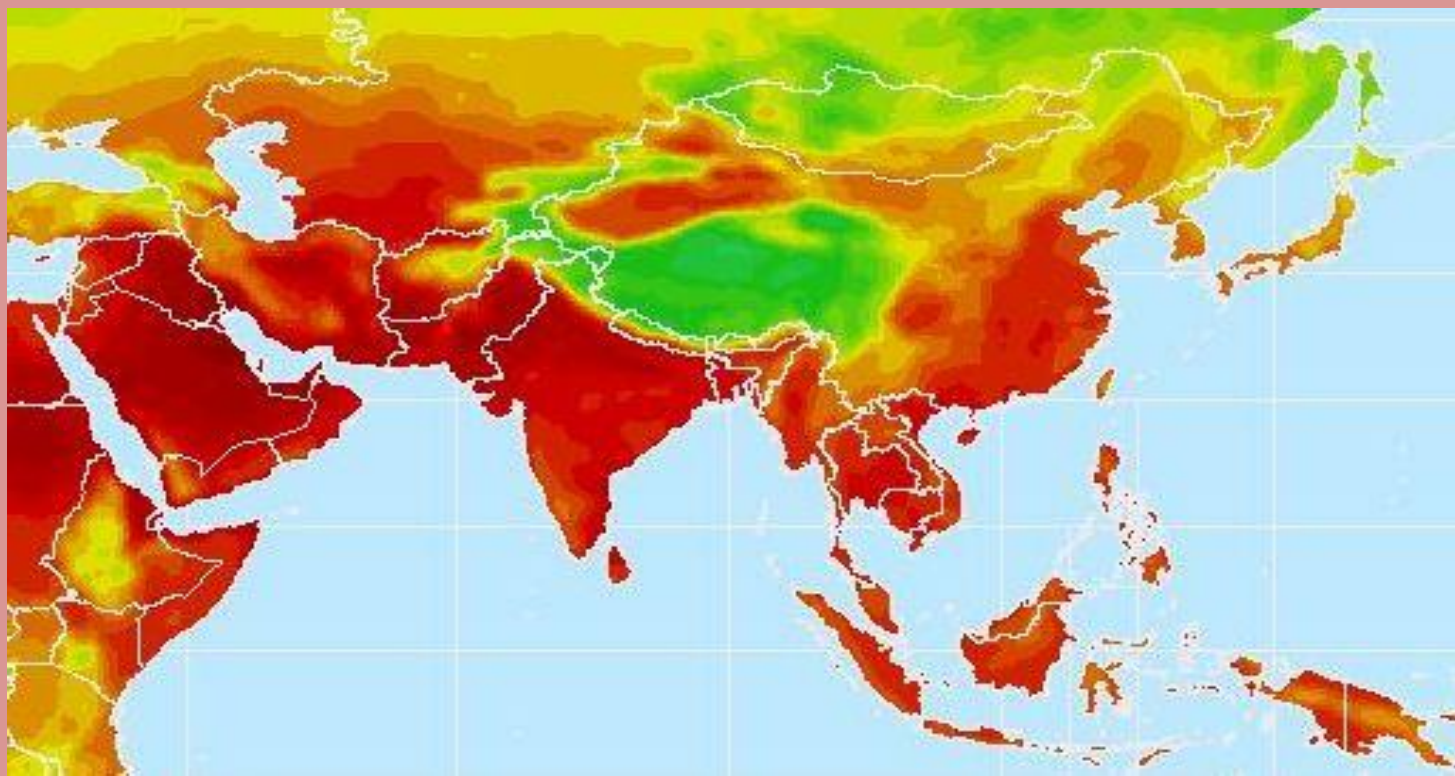
7. Шта је представљено на карти?

А) Густина насељености

Б) Простори са највећим ризиком од поплава

В) Површине под шумама

Г) Просечна јулска температура



8. Облик рељефа на слици настао је:

А) Абразијом (акумулација)

Б) Абразијом (ерозија)

В) Денудацијом

Г) Нивацијом



9. На карти европе је приказан просторни распоред:

А) Доминантних житарица

Б) Језичких група

В) Религија

Г) Вегетацијских појасева



10. Ознака на слици најчешће симболизује:

А) Заштиту природе

Б) Пошумљавање

В) Рециклажу

Г) Биодиверзитет



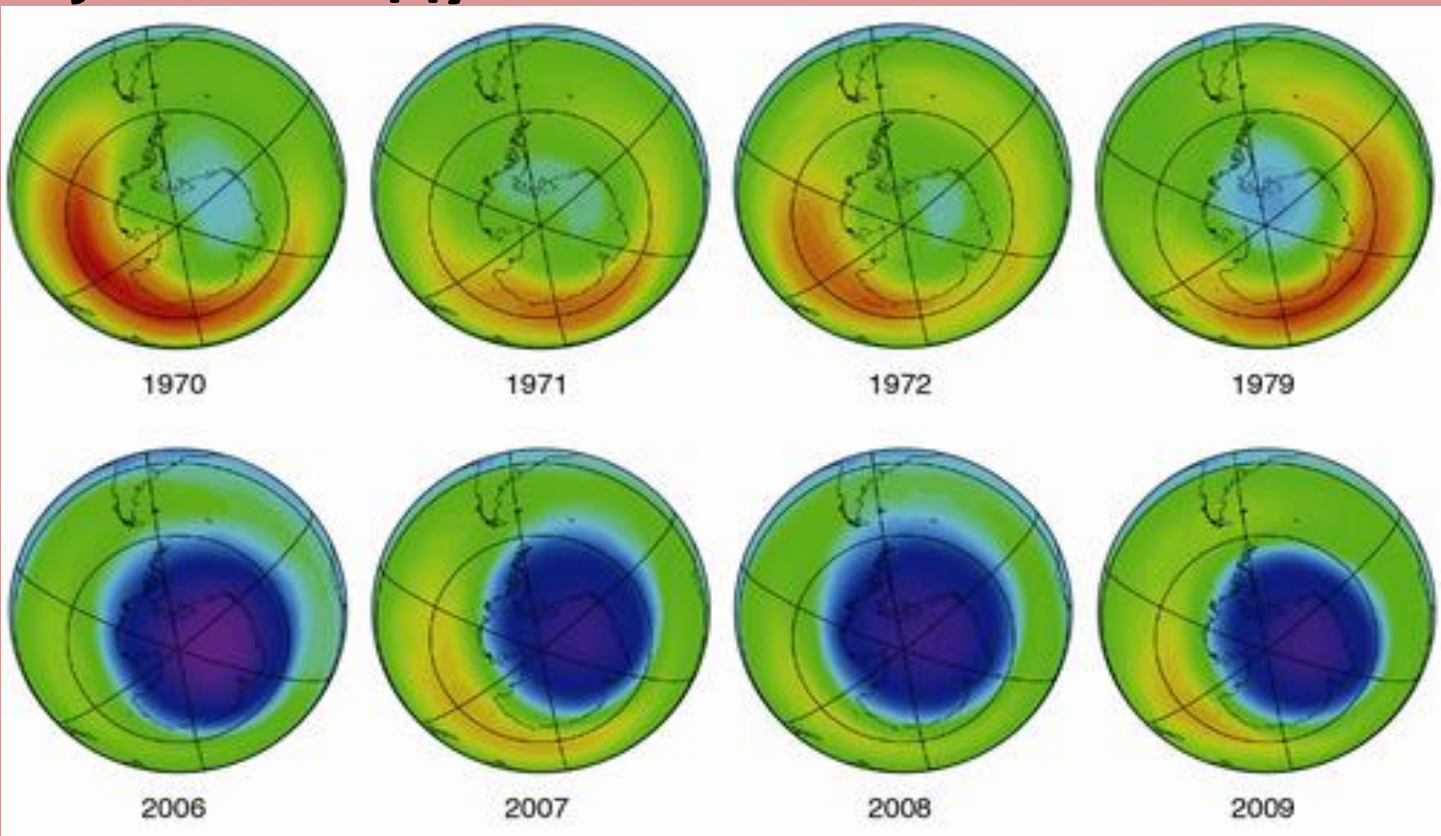
11. Слика приказује који глобални феномен?

А) Промену годишње температуре

Б) Оштећење озонског омотача

В) Топљење ледника на арктику

Г) Загађење ваздуха



12. Језеро на слици припада групи:

А) Речних

Б) Вулканских

В) Глацијалних

Г) Крашких



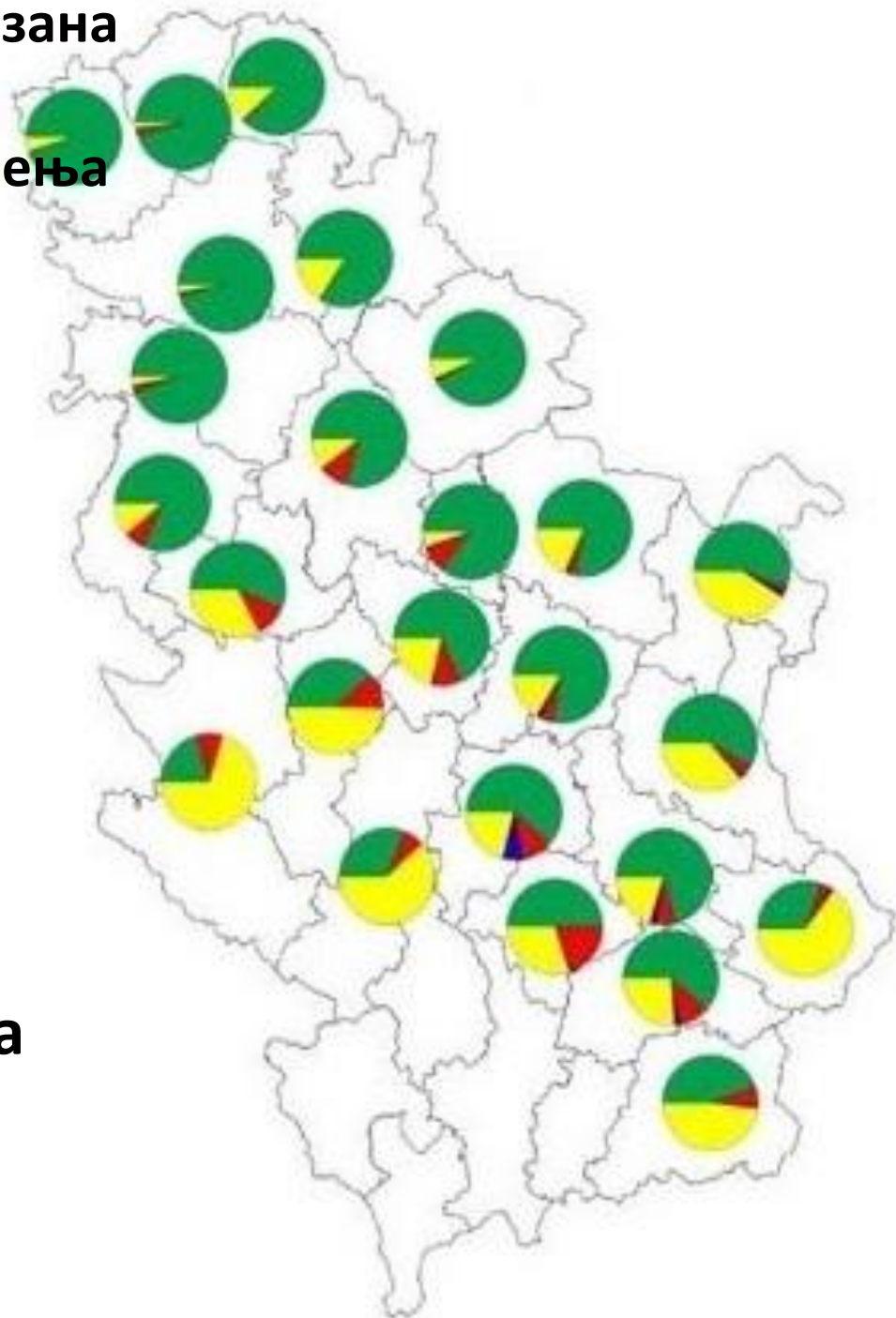
13. Кружним графиконима приказана је структура пољопривредног земљишта према начину коришћења по окрузима у Србији. Шта је представљено зеленом и црвеном бојом:

А) Удео ораница, башта и воћњака

Б) Удео ливада, пашњака и воћњака

В) Удео воћњака и винограда

Г) Удео ораница, башта и винограда



14. Највећи монолит од пешчара на свету приказан на слици налази се на територији:

A) Аустралије
B) Африке

Б) Јужне Америке
Г) Азије



15. Острва на слици су свој облик добила након:

А) Цунамија

Б) Вулканске активности

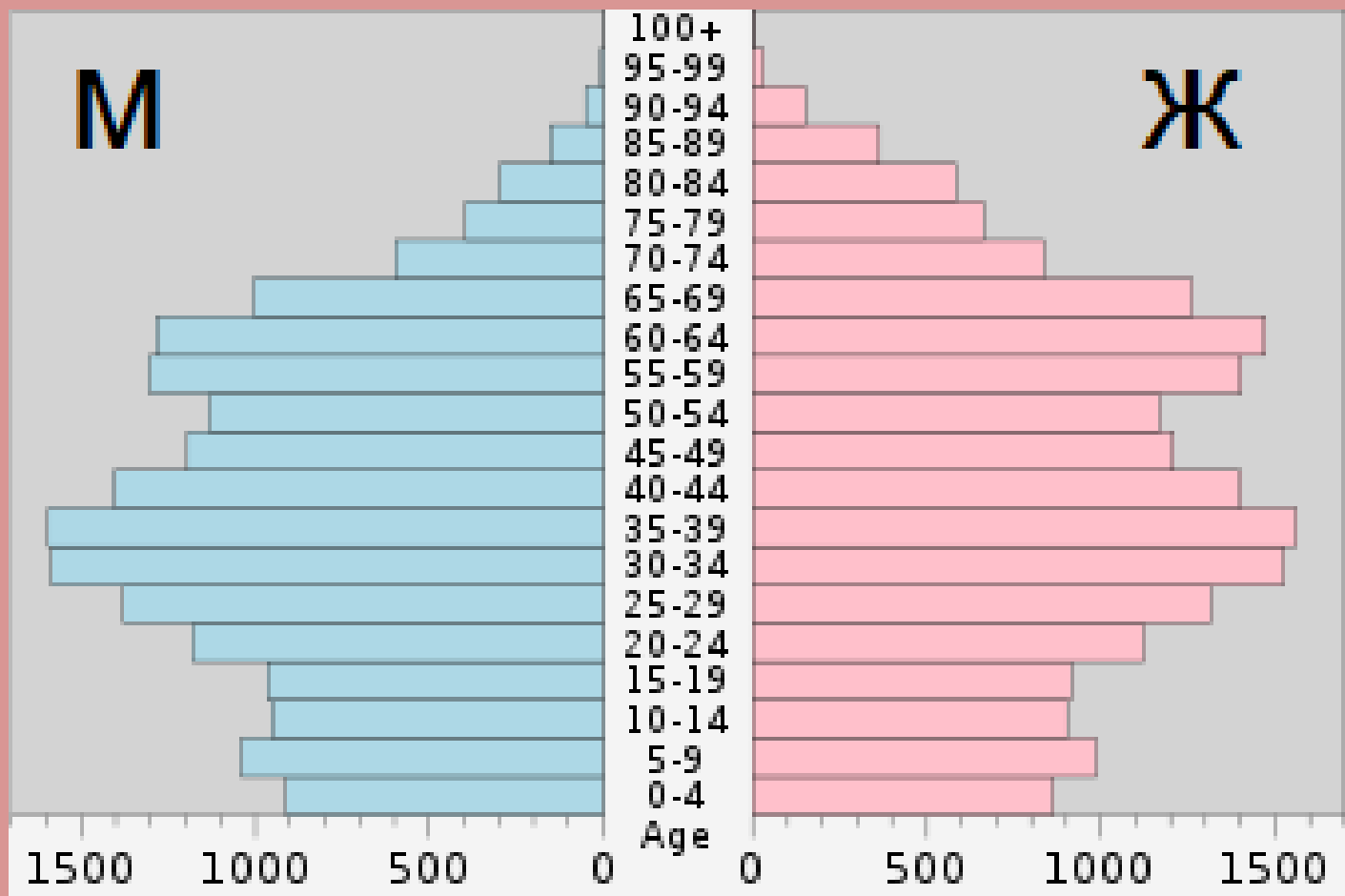
В) Тајфуна

Г) Земљотреса



16. Полно-старосна популациона пирамида одговара становништву:

- А) Пољске
- Б) Турске
- В) Индије
- Г) Сомалије



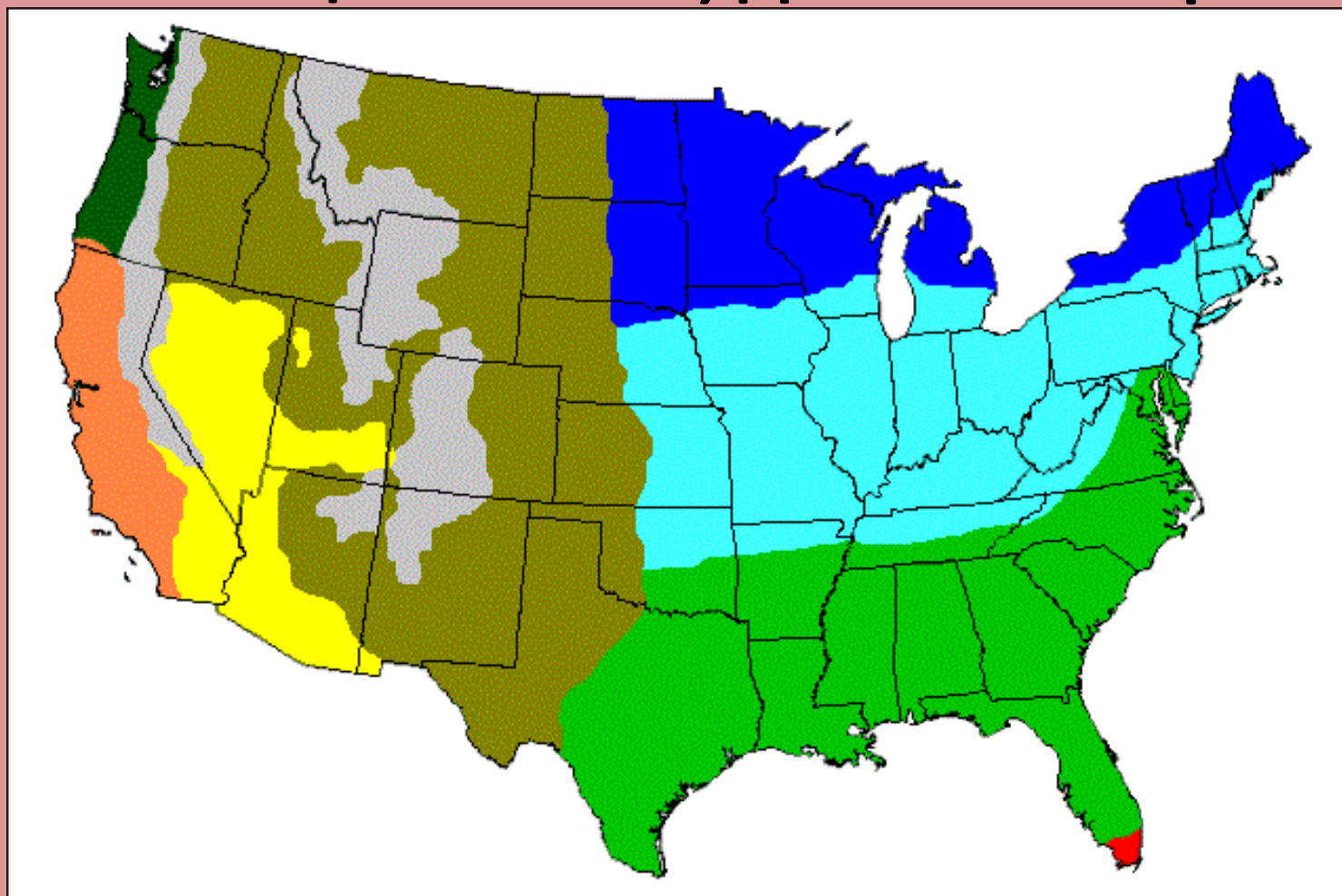
17. Шта представља тематска карта САД-а?

А) Верске групе

Б) Климатске типове

В) Геолошке целине

Г) Доминантне расе



18. Особа са слике највероватније је:

А) Велшанин

Б) Енглеz

В) Ирац

Г) Шкотланђанин



19. Како се зове знаменитост са фотографије?

- А) Црква св. Петра**
- Б) Нотр Дам**
- В) Црква Исуса Христа**
- Г) Саграда Фамилија**



20. Бунар са слике карактеристичан је за:

А) Војводину

Б) Југоисточну Србију

В) Југозападну Србију

Г) Косово и Метохију




21. Манастир се слике се налази у близини:

А) Новог Сада

Б) Ваљева

В) Чачка

Г) Краљева



22. Који тип пустиње је приказан на слици?

А) Ерг

Б) Серир

В) Хамада

Г) Ниједан од наведених



23. Животиња са слике карактеристична је за:

А) Аустралију

Б) Европу

В) Африку

Г) Јужну Америку



24. Држава у којој се налази туристичка атракција са слике је:

А) Норвешка

Б) Данска

В) Финска

Г) Шведска



25. Геоморфолошко-хидролошки објекат са слике настао је којим од следећих процеса:

А) Речном ерозијом

Б) Ледничком акумулацијом

В) Ледничком ерозијом

Г) Речном акумулацијом



26. Биом са слике карактеристична је за:

А) Боцвану

Б) Бангладеш

В) Француску

Г) Канаду




27. Које полуострво је приказано на снимку?

А) Лабрадор

Б) Флорида

В) Калифорнија

Г) Јукатан



28. Која хидроелектрана је приказана на слици?

А) Перућац

Б) Ђердап I

В) Врла I

Г) Увац



29. Територија које државе је приказана?

- А) Нигер
- Б) Чад
- В) Гвинеја
- Г) Мали



30. Ушће којих река је приказано на слици?

А) Црног и Белог Тимока

Б) Велике Мораве у Дунав

В) Јужне и Западне Мораве

Г) Дрине у Саву



31. Која држава је један од највећих светских извозника и произвођача воћа са слика?

- А) Грчка**
- Б) Италија**
- В) Шпанија**
- Г) Тунис**



32. Кроз град са слике протиче река:

А) Лаба

Б) Влтава

В) Висла

Г) Одра



33. Облик рељефа на слици настао је:

А) Абразијом (акумулација)

Б) Абразијом (ерозија)

В) Денудацијом

Г) Нивацијом



34. На фотографији се налази оснивач једне религије. Заокружи државу у којој је та религија доминантна:

А) Азербејџан

Б) Науру

В) Чиле

Г) Тајланд



35. Пејзаж са слике може се срести у држави:

А) Боцвана

Б) Русија

В) Оман

Г) ДР Конго



36. Којој држави припада застава?

А) Холандији

Б) Уругвају

В) Парагвају

Г) Луксембургу



37. На карти европе је приказан просторни распоред:

А) Доминантних житарица

Б) Језичких група

В) Религија

Г) Вегетацијских појасева



38. Фотографија приказује:

А) Глобално загревање

Б) Транзицију

В) Деисламизацију

Г) Глобализацију

McArabia™ meal
Grilled Kofta
وجبة ماك أرابيا
كفتة مسوية
NEW
حديثة
15
DHS
الطعم الأصيل
Authentic Taste
DEPARTMENT OF CIVIL AVIATION, DUBAI

39. Шта је приказано на фотографији?

А) Увац

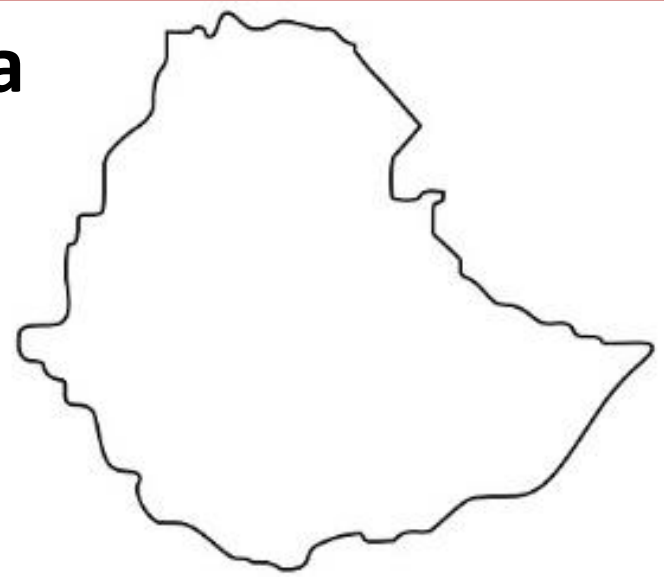
Б) Овчарско-кабларска клисура

В) Сићевачка клисура

Г) Дрина




40. Повежите контуру државе са њеном заставом



А)



Б)



В)



Г)



1. Позната грађевина са слике налази се у:

А) Бандар Сери Бегавану

Б) Куала Лумпуру

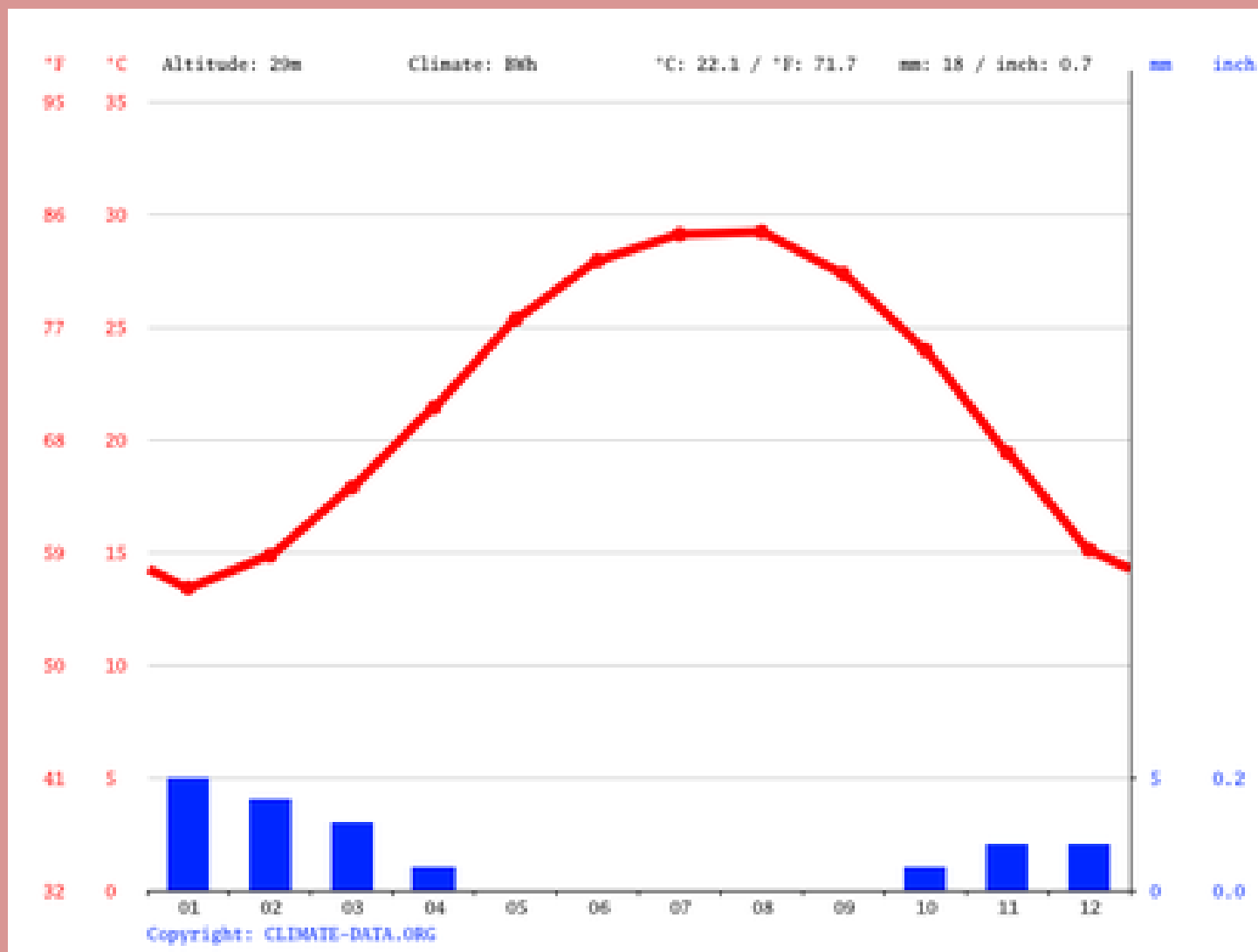
В) Сингапуру

Г) Дилију



2. Климат-дијаграм одговара једном од понуђених градова:

- А) Каиро
- Б) Киншаса
- В) Лагос
- Г) Кејптаун



3. Поврће са слике карактеристично је за:

А) Темерин

Б) Бечеј

В) Србобран

Г) Футог



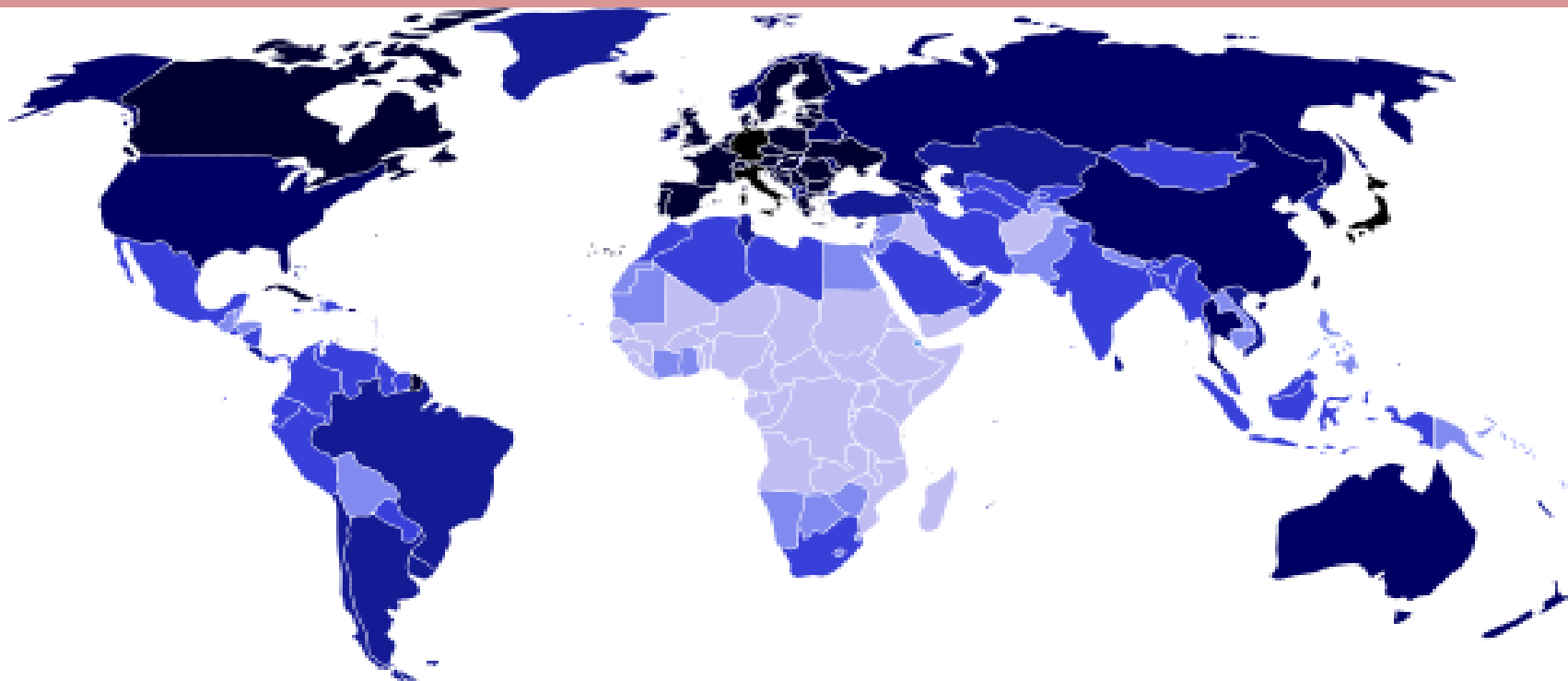
4. Шта је приказано на следећој карти?

А) Густина насељености

Б) Популациона величина државе

В) Просечна старост становништва

Г) Производња злата



5. Које полуострво је приказано на снимку?

- А) Јиланд**
- Б) Флорида**
- В) Бретања**
- Г) Јукатан**



6. Ова слика сигурно није снимљена у:

А) Белорусији

Б) Пољској

В) Холандији

Г) Норвешкој



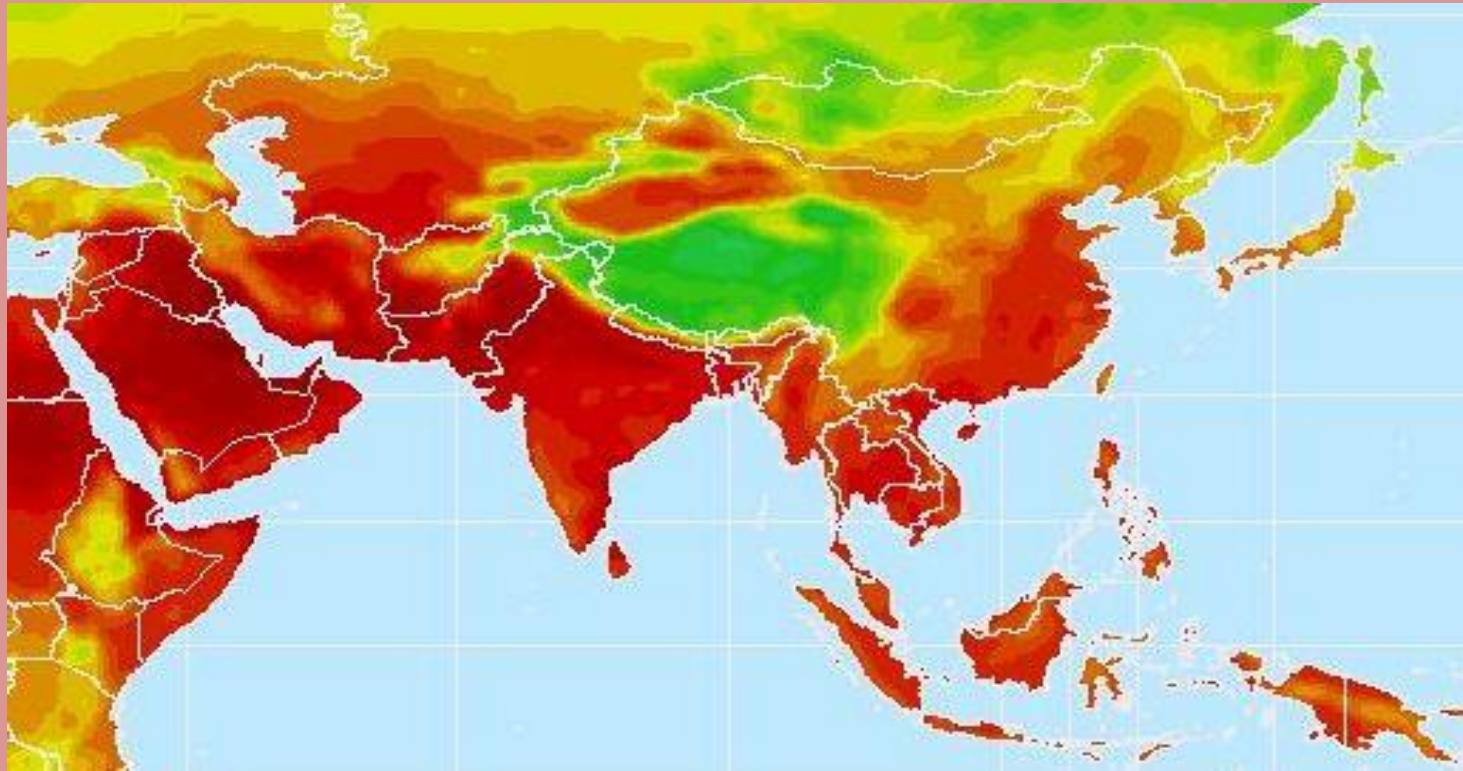
7. Шта је представљено на карти?

А) Густина насељености

Б) Простори са највећим ризиком од поплава

В) Површине под шумама

Г) Просечна јулска температура



8. Облик рељефа на слици настао је:

А) Абразијом (акумулација)

Б) Абразијом (ерозија)

В) Денудацијом

Г) Нивацијом



9. На карти европе је приказан просторни распоред:

А) Доминантних житарица

Б) Језичких група

В) Религија

Г) Вегетацијских појасева



10. Ознака на слици најчешће симболизује:

А) Заштиту природе

Б) Пошумљавање

В) Рециклажу

Г) Биодиверзитет



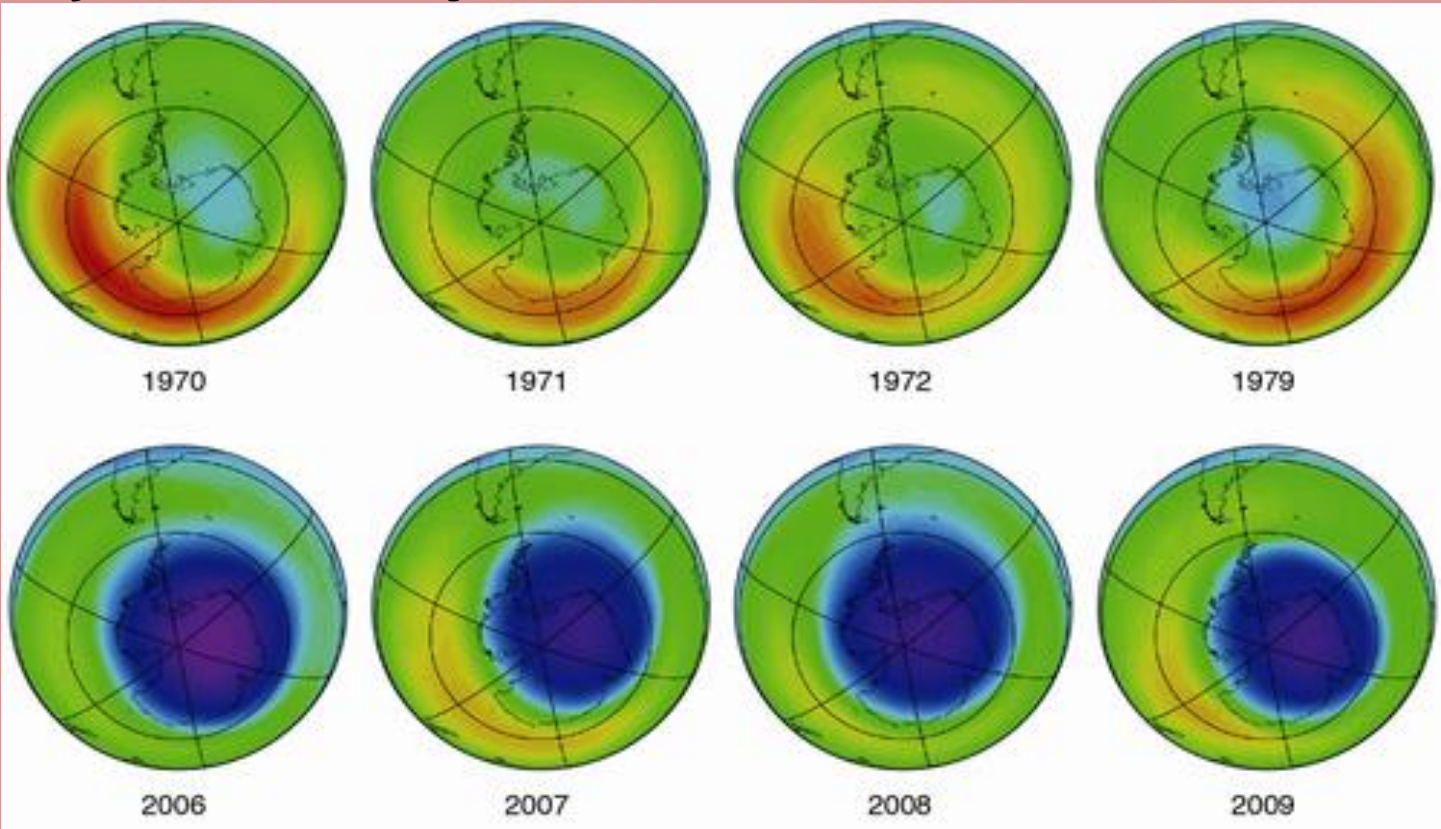
11. Слика приказује који глобални феномен?

А) Промену годишње температуре

Б) Оштећење озонског омотача

В) Топљење ледника на арктику

Г) Загађење ваздуха



12. Језеро на слици припада групи:

А) Речних

Б) Вулканских

В) Глацијалних

Г) Крашких



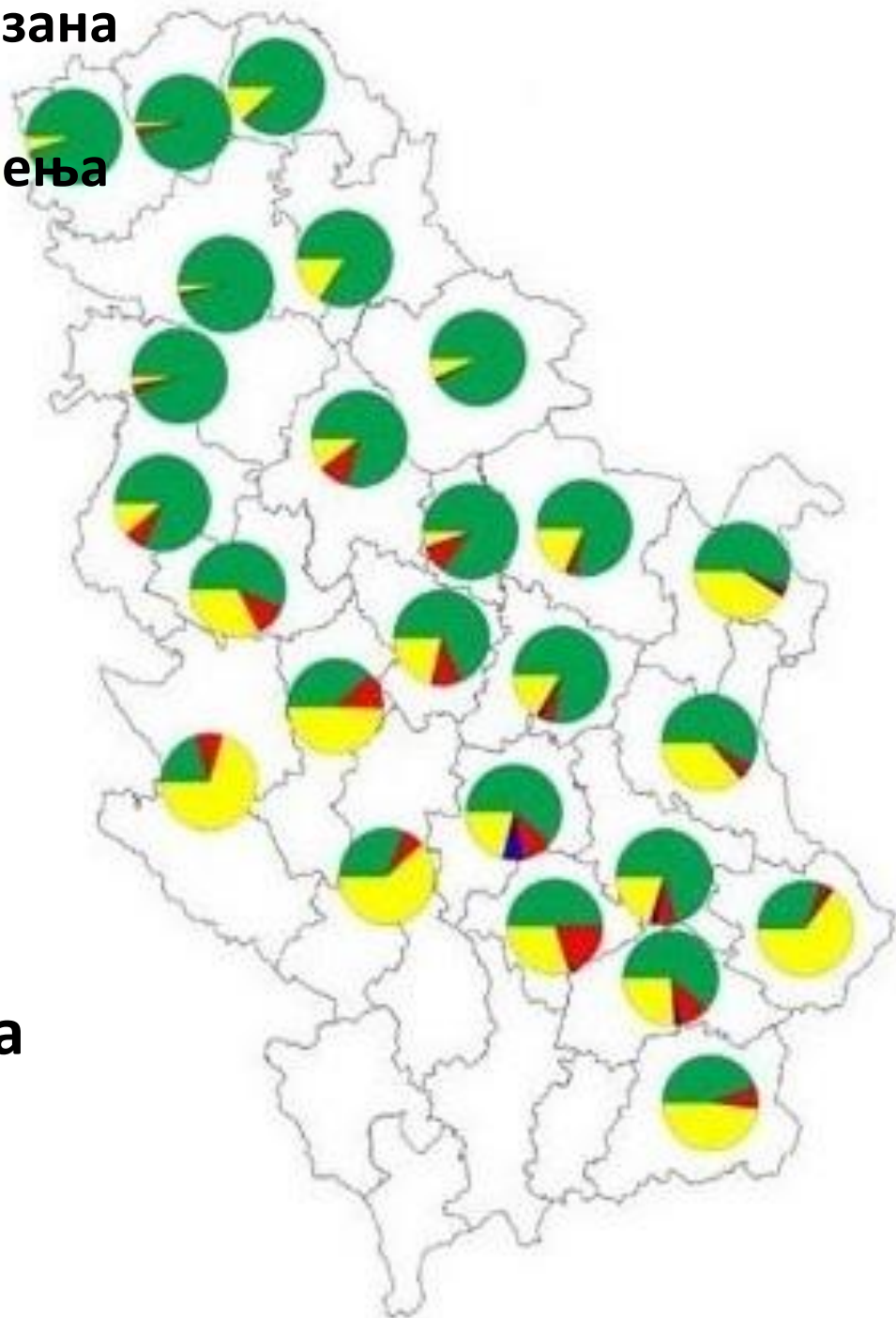
13. Кружним графиконима приказана је структура пољопривредног земљишта према начину коришћења по окрузима у Србији. Шта је представљено зеленом и црвеном бојом:

А) Удео ораница, башта и воћњака

Б) Удео ливада, пашњака и воћњака

В) Удео воћњака и винограда

Г) Удео ораница, башта и винограда



14. Највећи монолит од пешчара на свету приказан на слици налази се на територији:

A) Аустралије
B) Африке

Б) Јужне Америке
Г) Азије



15. Острва на слици су свој облик добила након:

А) Цунамија

Б) Вулканске активности

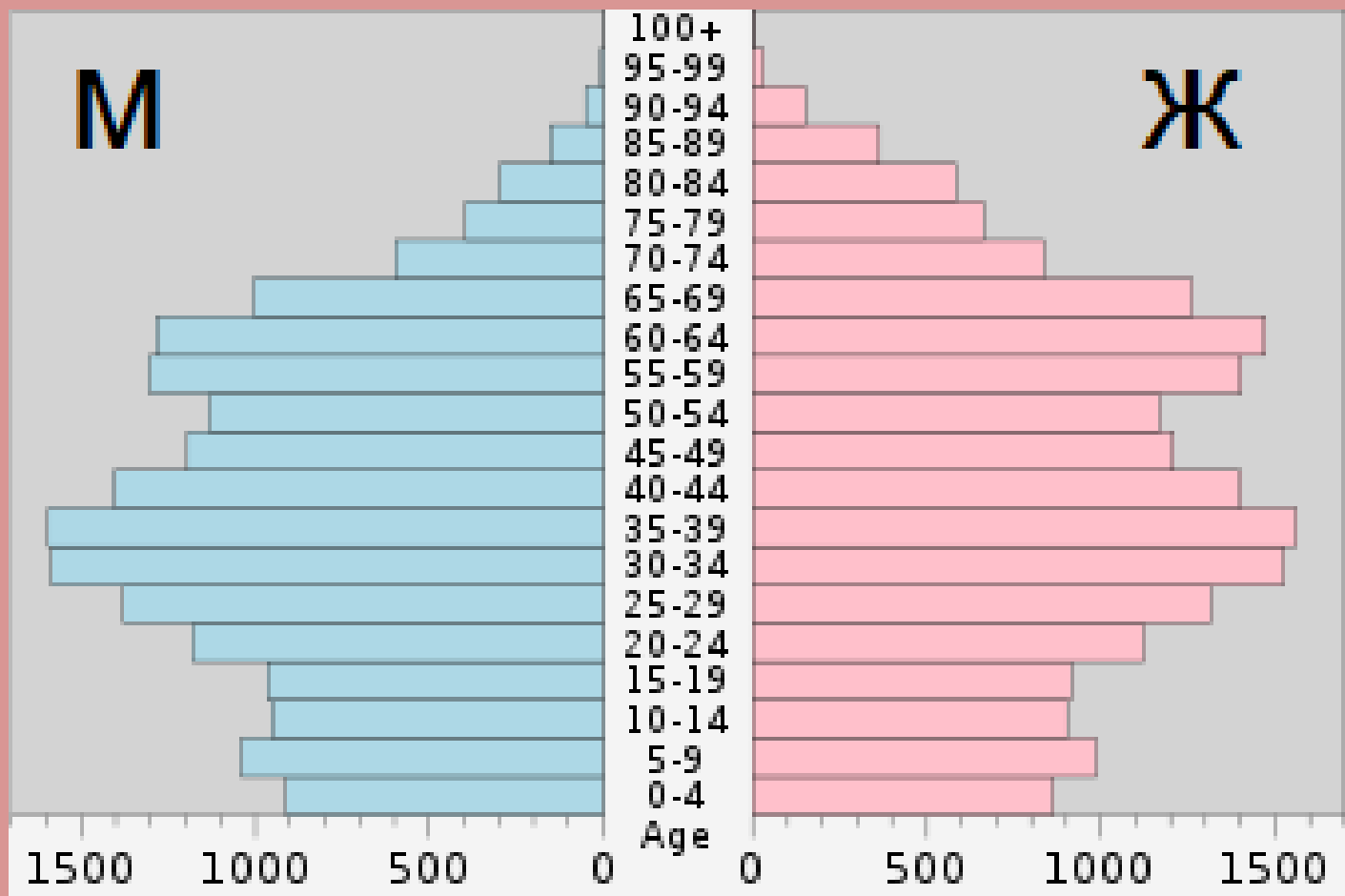
В) Тајфуна

Г) Земљотреса



16. Полно-старосна популациона пирамида одговара становништву:

- А) Пољске
- Б) Турске
- В) Индије
- Г) Сомалије



18. Особа са слике највероватније је:

- А) Велшанин**
- Б) Енглеz**
- В) Ирац**
- Г) Шкотланђанин**



19. Како се зове знаменитост са фотографије?

- А) Црква св. Петра**
- Б) Нотр Дам**
- В) Црква Исуса Христа**
- Г) Саграда Фамилија**



20. Бунар са слике карактеристичан је за:

А) Војводину

Б) Југоисточну Србију

В) Југозападну Србију

Г) Косово и Метохију



21. Манастир се слике се налази у близини:

А) Новог Сада

Б) Ваљева

В) Чачка

Г) Краљева



22. Који тип пустиње је приказан на слици?

А) Ерг

Б) Серир

В) Хамада

Г) Ниједан од наведених



23. Животиња са слике карактеристична је за:

А) Аустралију

Б) Европу

В) Африку

Г) Јужну Америку



24. Држава у којој се налази туристичка атракција са слике је:

А) Норвешка

Б) Данска

В) Финска

Г) Шведска



25. Геоморфолошко-хидролошки објекат са слике настао је којим од следећих процеса:

А) Речном ерозијом

Б) Ледничком акумулацијом

В) Ледничком ерозијом

Г) Речном акумулацијом



26. Биом са слике карактеристична је за:

А) Боцвану

Б) Бангладеш

В) Француску

Г) Канаду




27. Које полуострво је приказано на снимку?

А) Лабрадор

Б) Флорида

В) Калифорнија

Г) Јукатан



28. Која хидроелектрана је приказана на слици?

А) Перућац

Б) Ђердап I

В) Врла I

Г) Увац



29. Територија које државе је приказана?

- А) Нигер
- Б) Чад
- В) Гвинеја
- Г) Мали



30. Ушће којих река је приказано на слици?

А) Црног и Белог Тимока

Б) Велике Мораве у Дунав

В) Јужне и Западне Мораве

Г) Дрине у Саву



31. Која држава је један од највећих светских извозника и произвођача воћа са слика?

- А) Грчка**
- Б) Италија**
- В) Шпанија**
- Г) Тунис**



32. Кроз град са слике протиче река:

А) Лаба

Б) Влтава

В) Висла

Г) Одра



33. Облик рељефа на слици настао је:

А) Абразијом (акумулација)

Б) Абразијом (ерозија)

В) Денудацијом

Г) Нивацијом



34. На фотографији се налази оснивач једне религије. Заокружи државу у којој је та религија доминантна:

А) Азербејџан

Б) Науру

В) Чиле

Г) Тајланд



35. Пејзаж са слике може се срести у држави:

А) Боцвана

Б) Русија

В) Оман

Г) ДР Конго



36. Којој држави припада застава?

А) Холандији

Б) Уругвају

В) Парагвају

Г) Луксембургу



37. На карти европе је приказан просторни распоред:

А) Доминантних житарица

Б) Језичких група

В) Религија

Г) Вегетацијских појасева



38. Фотографија приказује:

А) Глобално загревање

Б) Транзицију

В) Деисламизацију

Г) Глобализацију

McArabia™ meal
Grilled Kofta
وجبة ماك أرابيا
كفتة مسوية
NEW
حديثة
15
DHS
الطعم الأصيل
Authentic Taste
DEPARTMENT OF CIVIL AVIATION, DUBAI

39. Шта је приказано на фотографији?

А) Увац

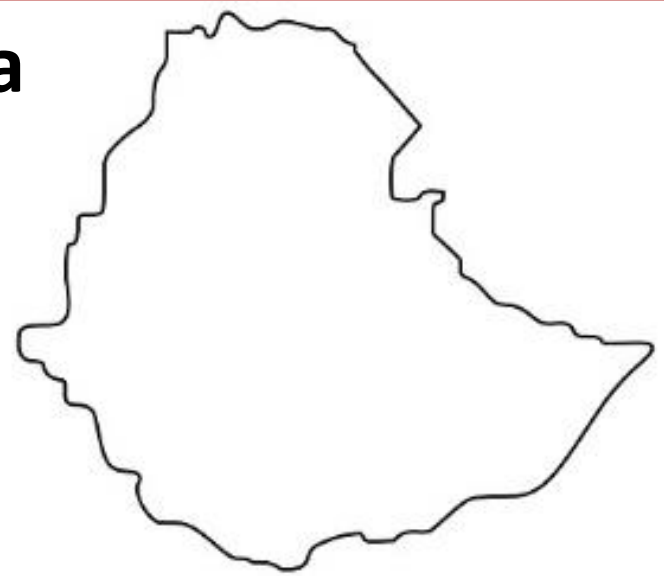
Б) Овчарско-кабларска клисура

В) Сићевачка клисура

Г) Дрина




40. Повежите контуру државе са њеном заставом



А)



Б)



В)



Г)

