

Multimedijalni test

Nacionalna geografska olimpijada

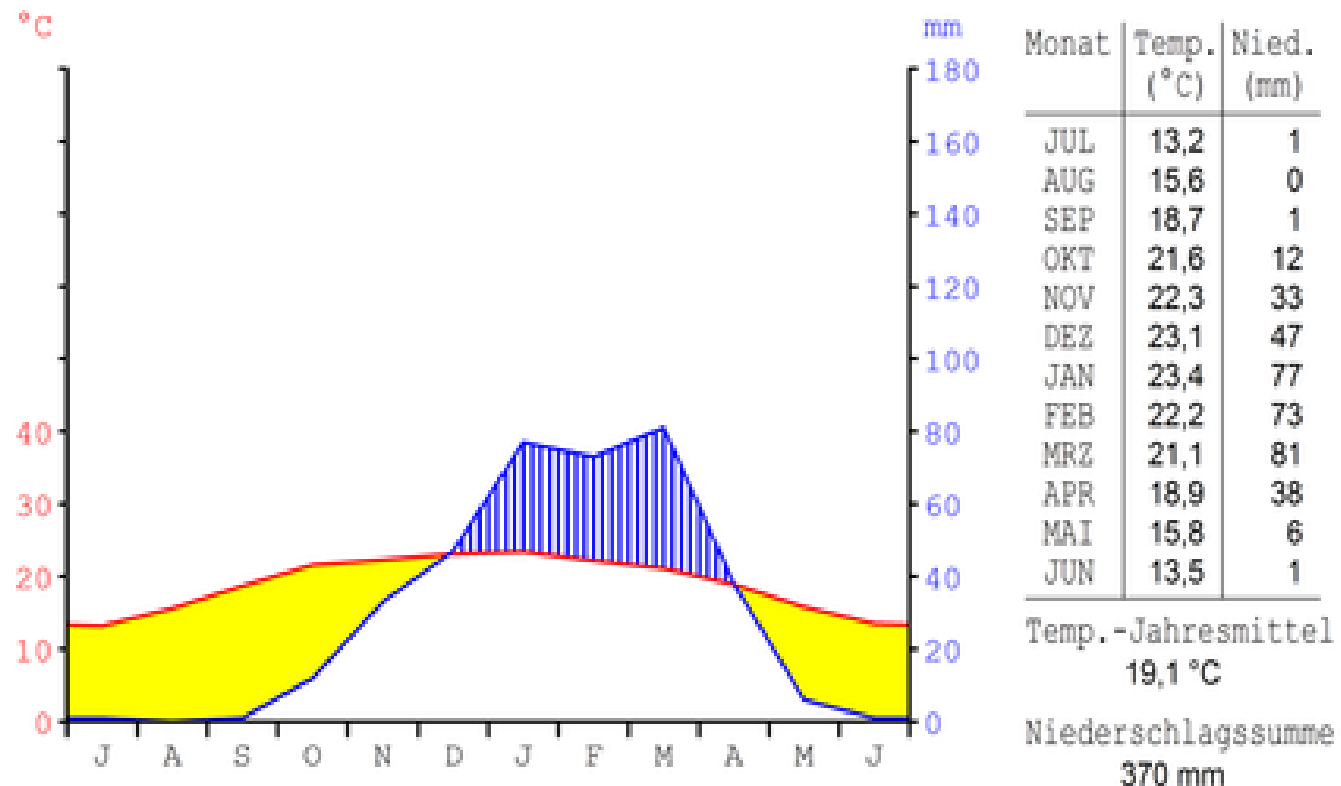
1. Koji tip ušća je prikazan na slici?

- a) Delta
- b) Estuar
- c) Normalno ušće
- d) Nijedno od navedenih



2. Na slici je prikazan klima-dijagram jednog grada. Koji je to grad?

- a) Vankuver
- b) Vindhuk
- c) Berlin
- d) Rabat



3. Tip pustinja prikazan na slici je?

- a) Hamada
- b) Serir
- c) Erg
- d) Nijedan od navedenih



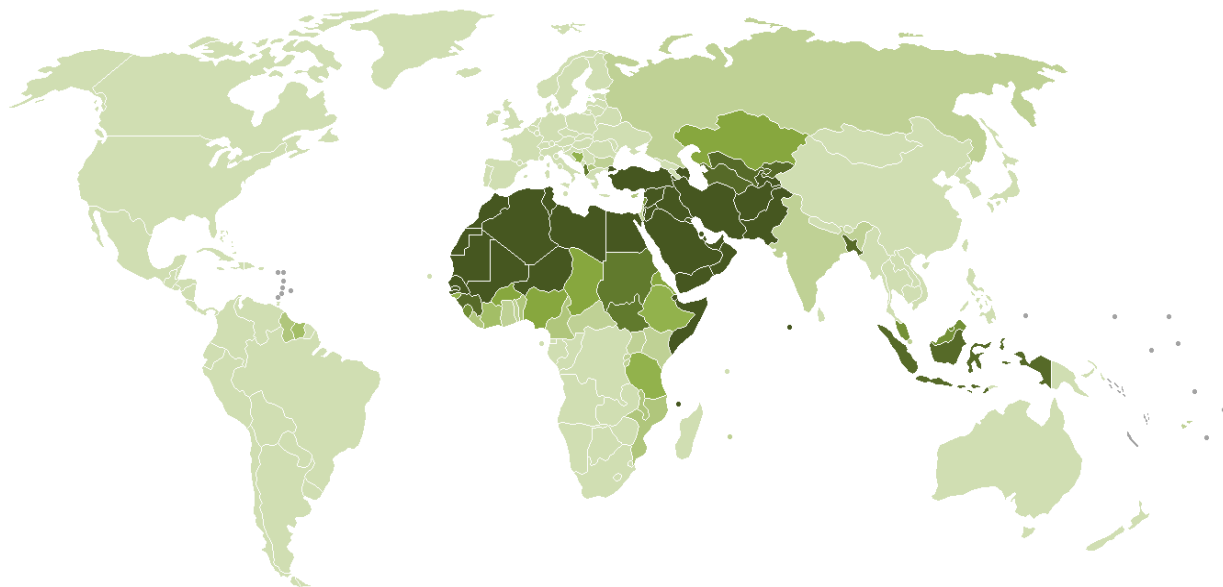
4. Životinja sa slike karakteristična je za :

- a) Madagaskar
- b) Saharu
- c) Borneo
- d) Sibir



5. Na sledećoj karti prikazano je:

- a) Rasprostranjenje budizma
- b) Rasprostranjenje islama
- c) Rasprostranjenje hrišćanstva
- d) Rasprostranjenje hinduizma



6. Predstavnik kog naroda je prikazan na slici?

- a) Maorskog
- b) Pigmejskog
- c) Aboridzinskog
- d) Bušmanskog



7. Sokobanja se nalazi u podnožju planine:

- a) Kopaonik
- b) Radan
- c) Ozren
- d) Miroč




8. Koji od navedenih manastira se ne nalazi u Raškom okrugu?

- a) Žiča
- b) Studenica
- c) Gradac
- d) Ljubostinja



9. Dolina reke Vratne poznata je po:

- a) Uvalama
- b) Prerastima
- c) Meandrima
- d) Adama



10. Pećina Risovača nalazi se u:

- a) Arandjelovcu
- b) Topoli
- c) Gornjem Milanovcu
- d) Požarevcu



11. Šta predstavlja sledeća karta?

- a) Proizvodnju nafte
- b) Proizvodnju kakaoa
- c) Proizvodnju bakra
- d) Proizvodnju bibera



12. Slovaci čine većinu u jednoj od navedenih opština:

- a) Kovačica
- b) Opovo
- c) Sečanj
- d) Plandište



13. Koji oblik reljefa je prikazan na slici?

- a) Uvala
- b) Vrtača
- c) Škrapa
- d) Jama



14. Izbaci uljeza:



15. Pejzaž na slici karakterističan je za:

- a) Belgiju
- b) Francusku
- c) Mađarsku
- d) Holandiju



16. Batat-slatki krompir se najviše proizvodi u:

- a) Kini
- b) Mađarskoj
- c) Iranu
- d) Indoneziji



17. Voće sa slike se u Srbiji najviše gaji u:

- a) Zapadnoj Srbiji
- b) Banatu
- c) Sremu
- d) Istočnoj Srbiji



18. Ohridsko jezero, po načinu postanka je:

- a) Vulkansko
- b) Tektonsko
- c) Veštačko
- d) Kraško



19. Građevina sa slike pripada kojoj civilizaciji?

- a) Maja
- b) Inka
- c) Asteka
- d) Tuarega



20. Jedna navedenih zemalja je anglofonska:

- a) Nikaragva
- b) Gvatemala
- c) Honduras
- d) Belize



21. Koji tip oblaka se nalazi se na slici?

- a) Stratus
- b) Kumulus
- c) Cirrus
- d) Kumulonimbus



22. Izbaci uljeza:

- a) Banja Slankamen
- b) Banja Selters
- c) Palanački kiseljak
- d) Bukovička banja




23. Pronađi francusku koloniju:

a) Ruanda

b) Burundi


c) Togo

d) Madagaskar



24. Najmanja planeta u Sunčevom sistemu je:

- a) Venera
- b) Merkur
- c) Saturn
- d) Uran



25. Šta predstavlja sledeća karta?

- a) Proizvodnju kalaja
- b) Proizvodnju nafte
- c) Proizvodnju pšenice
- d) Proizvodnju dijamanta



26. Najveća ravničarska tvrđava u Evropi je:

- a) Smederevska
- b) Petrovaradinska
- c) Beogradska
- d) Golubačka



27. Najveće posledice cunamija 2004. godine osetili su stanovnici:

- a) Jugoistočne Azije
- b) Jugozapadne Azije
- c) Južne Australije
- d) Zapadne Australije



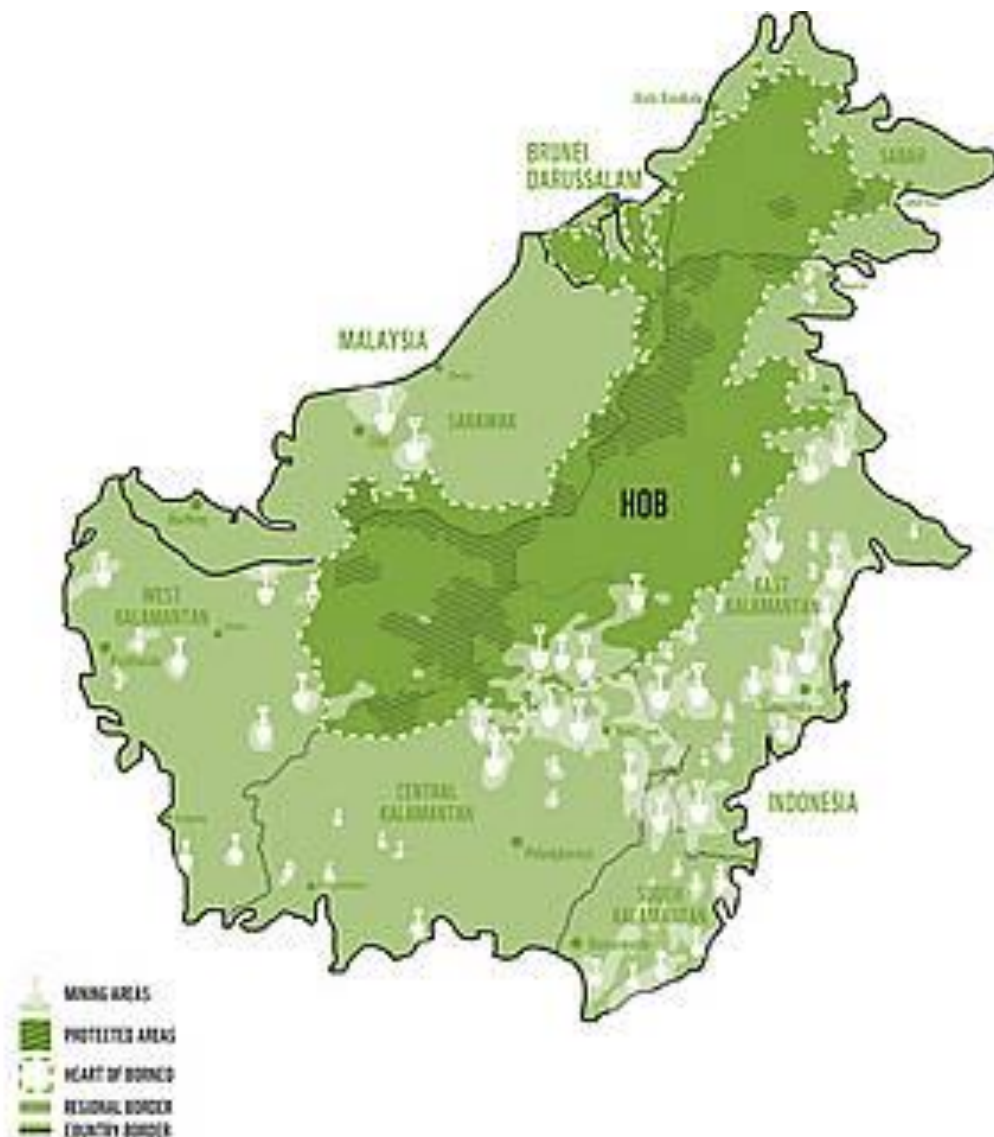
28. Građevina sa slike je simbol grada:

- a) Damaska
- b) Jerusalima
- c) Amana
- d) Bejruta



29. Na prostoru ostrva Borneo zastupljene su:

- a) 1 država
- b) 2 države
- c) 3 države
- d) 4 države



30. Uskršnja ostrva pripadaju:

- a) Ekvadoru
- b) Čileu
- c) Argentini
- d) Boliviji



31. Najveću ulogu u stvaranju oblika reljefa sa slike ima:

a) Vetar

b) Voda

c) Led

d) Unutrašnje sile Zemlje



32. Grad sa slike nalazi se na obali reke:

- a) Sava
- b) Dunav
- c) Tisa
- d) Tamiš



33. Dzinovska sekvoja karakteristična je za:

- a) Afriku
- b) Aziju
- c) Severnu Ameriku
- d) Evropu



34. Most sa slike spaja:

- a) Švedsku i Dansku
- b) Dansku i Nemačku
- c) Veliku Britaniju i Francusku
- d) Dansku i Norvešku



35. OPEC predstavlja udruženje zemalja proizvođača:

- a) Uglja
- b) Nafte
- c) Zlata
- d) Srebra



36. Od ponuđenih opština zaokruži onu gde vlada „bela kuga“:

- a) Preševo
- b) Tutin
- c) Crna Trava
- d) Novi Pazar



37. Izbaci uljeza:

- a) Kopaonik
- b) Željin
- c) Goč
- d) Radan



38. U kojoj od ovih država, glavni grad nije i najmnogoljudniji:

- a) Bugarska
- b) Poljska
- c) Hrvatska
- d) Turska



39. Koju od navedenih država preseca ekvator?

- a) Indoneziju
- b) Indiju
- c) Maldive
- d) Čad



40. Oblast visokih trava naziva se:

- a) Stepa
- b) Tajga
- c) Savana
- d) Tundra

