

Мултимедијални тест 2018

-регионални ниво-

Упутство за израду ММТа

- Пред Вама је мултимедијални тест. Састоји се од 40 питања из различитих области географије
- Сваки слајд са питањем биће видљив 40 секунди, зависно од комплексности питања
- Дозвољено је заокружити само један одговор. Након заокруживања хемијском оловком, НЕМА ВИШЕ ИСПРАВКИ!!!
- Желимо Вам успешан и срећан рад

1. Који тип пустиње је приказан на слици?

А) Ерг

Б) Серир

В) Хамада

Г) Ниједан од наведених



2. Животиња са слике карактеристична је за:

А) Аустралију

Б) Европу

В) Африку

Г) Јужну Америку



3. Избаци уљеза:


А)




Б)



В)



Г)



4. Град који је приказан на слици је:

А) Техеран

Б) Дубаи

В) Багдад

Г) Каиро



5. Поврће са слике карактеристично је за:

А) Темерин

Б) Бечеј

В) Србобран

Г) Футог




6. Пећина са слике налази се на територији општине:

А) Зајечар

Б) Мајданпек

В) Бољевац

Г) Бор



7. Објекат са слике карактеристичан је за:

- А) Ескиме
- Б) Лапонце
- В) Масаи
- Г) Маоре




8. Држава у којој се налази туристичка атракција са слике је:

А) Норвешка

Б) Данска

В) Финска

Г) Шведска



9. Геоморфолошко-хидролошки објекат са слике настао је којим од следећих процеса:

А) Речном ерозијом

Б) Ледничком акумулацијом

В) Ледничком ерозијом

Г) Речном акумулацијом



10. Једна од наведених планина у Србији представља станиште биљке са слике:

- А) Тара
- Б) Рогозна
- В) Бељаница
- Г) Девица




11. Град са слике представља главни град државе:

А) ДР Конго

Б) Того

В) Мауританије

Г) Анголе



12. Припадник народа са слике живи у:

А) Уругвају

Б) Никарагви

В) Боливији

Г) Хондурасу



13. Возило са слике карактеристично је за:

- А) Југозападну Азију
- Б) Западну Африку
- В) Југоисточну Азију
- Г) Јужну Африку



14. Биом са слике карактеристична је за:

А) Боцвану

Б) Бангладеш

В) Француску

Г) Канаду



15. Држава са слике има једну специфичност:

- А) Прва по производњи банана у свету
- Б) Највећи проценат територије под шумом
- В) Највећи проценат територије са језерима
- Г) Највећи проценат територије под пустињом



16. Врх са слике налази се у:

А) Немачкој

Б) Аустрији

В) Швајцарској

Г) Шведској



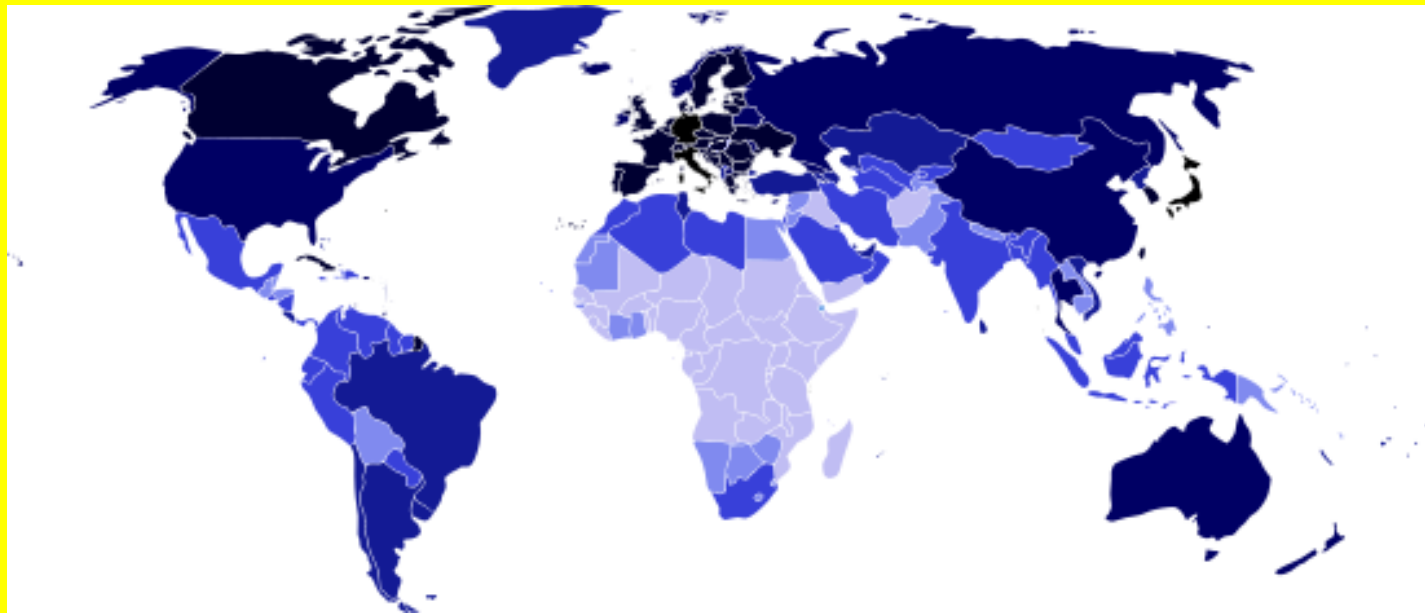
17. Шта је приказано на следећој карти?

А) Густина насељености

Б) Популациона величина државе

В) Просечна старост становништва

Г) Број становника заражен ХИВ вирусом



18. Обновљени мост са слике налази се у:

- А) Сарајеву
- Б) Зеници
- В) Травнику
- Г) Мостару



19. Избаци уљеза:

А)



Б)



В)



Г)




20. Пејзаж са слике карактеристичан је за:

А) Хондурас

Б) Бутан

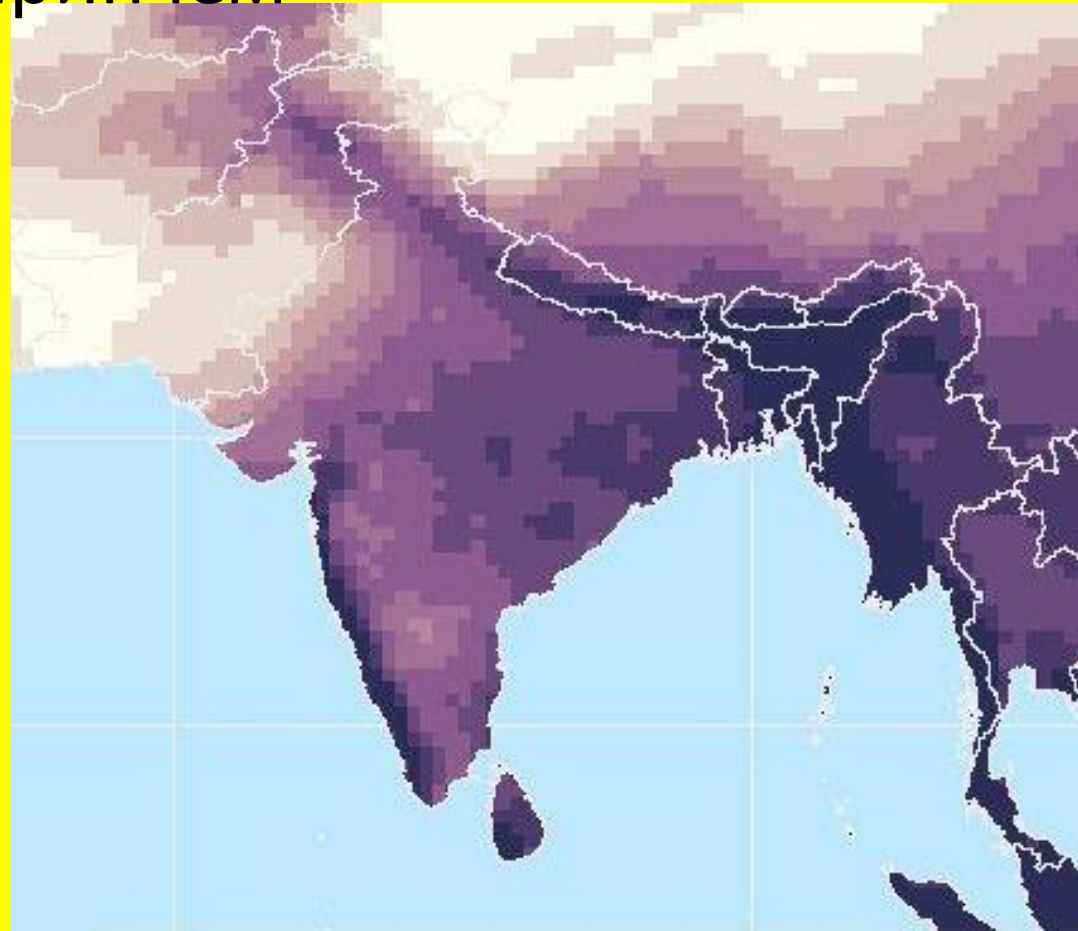
В) Швајцарску

Г) Парагвај




21. Шта је представљено на карти?

- А) Густина становништва
- Б) Годишња количина падавина
- В) Површине под пиринчем
- Г) Инсолација



22. Избаци уљеза:

А)



Б)



В)




Г)



23. Које полуострво је
приказано на снимку?

- А) Лабрадор
- Б) Флорида
- В) Калифорнија
- Г) Јукатан



24. Која хидроелектрана је приказана на слици?

- А) Перућац
- Б) Ђердап I
- В) Врла I
- Г) Увац



25. Која морска струја је приказана на карти?

- А) Јужнопацифичка
- Б) Карипска
- В) Бенгуелска
- Г) Хумболтова



26. Објекат са слике се налази у:

- А) Параћину
- Б) Сурдулици
- В) Александровцу
- Г) Љигу



27. За који део Балкана су карактеристичне реке попут ове са слике?

- А) Славонија
- Б) Црна Гора
- В) Шумадија
- Г) Метохија



28. За слике из Бара заслужан је ветар:

- A) Југо
- Б) Кошава
- В) Бура
- Г) Горњак



29. Ушће којих река је приказано на слици?

- А) Црног и Белог Тимока
- Б) Велике Мораве у Дунав
- В) Јужне и Западне Мораве
- Г) Дрине у Саву



30. Плантажа са слике је заштићена од:

- А) Кише
- Б) Града
- В) Ветра
- Г) Сунца



31. Пејзаж са слике је настао
захваљујући:

- А) Обради ораничних површина
- Б) Рударској активности
- В) Земљотресу
- Г) Крчењу шуме



32. Како се назива облик рељефа у ком је смештен басен језера са слике?

А) Терминални басен

Б) Валов

В) Цирк

Г) Увала



33. Територија које државе је приказана?

- А) Нигер
- Б) Чад
- В) Гвинеја
- Г) Мали



34. На карти је приказан слив:

- А) Аралског језера
- Б) Еровог језера
- В) Језера Чад
- Г) Језера Винипег



35. Која држава је један од највећих светских извозника и произвођача воћа са слика?

- А) Грчка
- Б) Италија
- В) Шпанија
- Г) Тунис



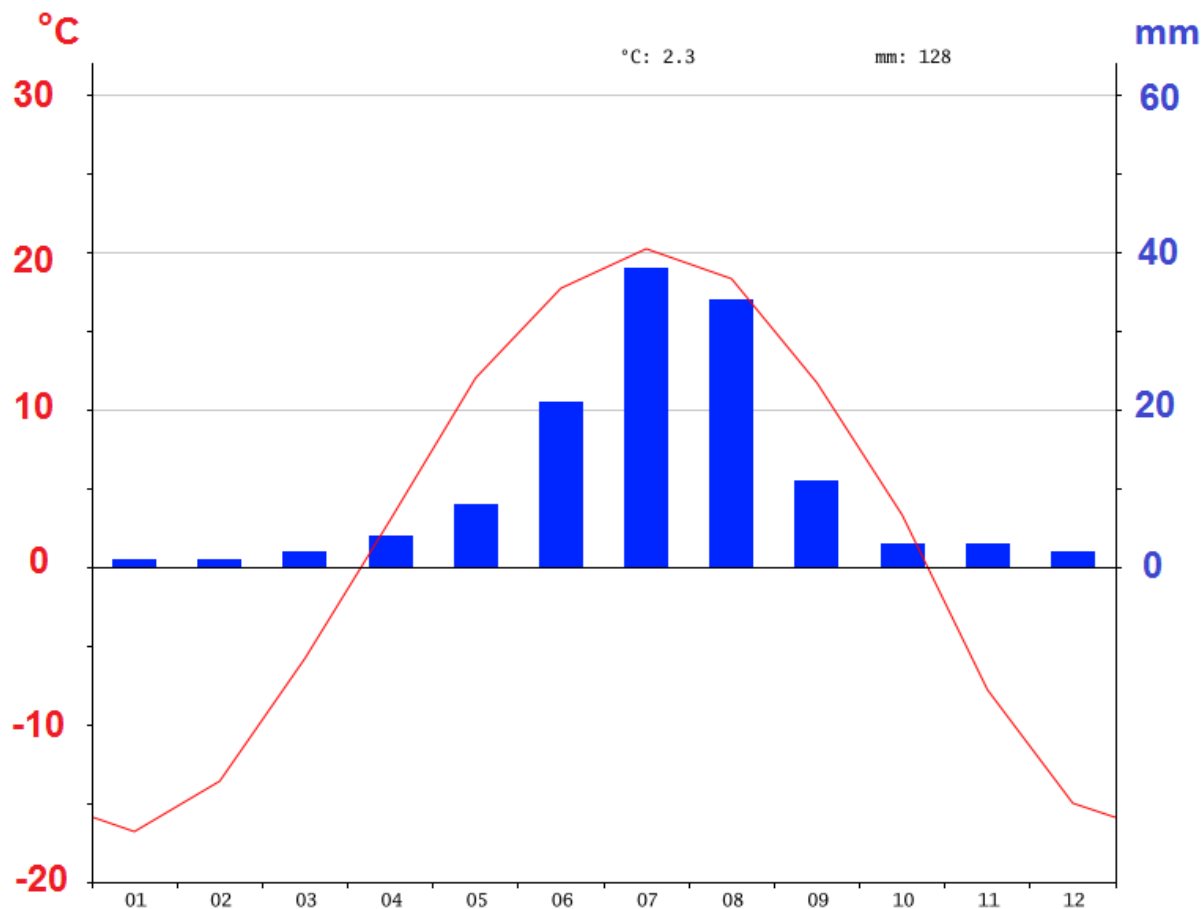
36. Овај клима дијаграм је карактеристичан за:

А) Арабијско полуострво

Б) Пустинју Гоби

В) Сибир

Г) Јапан



37. Ова слика сигурно није снимљена у:

- А) Белорусији
- Б) Пољској
- В) Холандији
- Г) Норвешкој



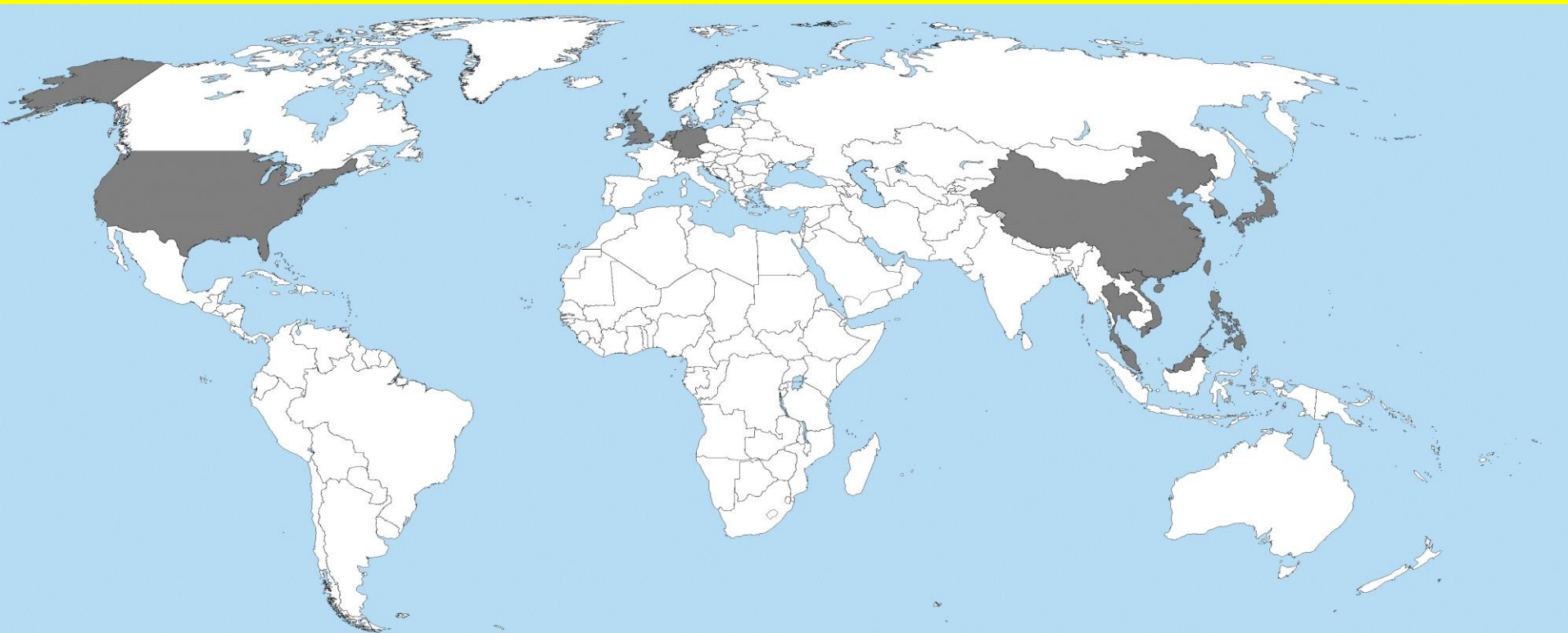
38. На карти су приказани највећи светски
произвођачи:

А) Гвожђа

Б) Компјутера и њихових компоненти

В) Јабука

Г) Дрвне грађе



39. Језеро снимљено
из сателита је:

- А) Мичиген
- Б) Бајкалско
- В) Тангањика
- Г) Женевско



40. Слика представља:

- А) Избеглички камп
- Б) Радничко насеље
- В) Сточарско насеље
- Г) Туристички камп

