

МУЛТИМЕДИЈАЛНИ ТЕСТ

НГО 2017-регионални ниво

1. Како се зове пећина са слике?

- А) Стопића пећина
- Б) Ресавска пећина
- В) Церемошња
- Г) Боговинска пећина



2. Уређај са слике служи за:

- А) Мерење количине падавина
- Б) Мерење брзине ветра
- В) Мерење температуре
- Г) Мерење ваз. притиска



THE ROBINSON'S ANEMOMETER.


3. Најдубље језеро на свету је:

- А) Каспијско
- Б) Онтарио
- В) Тангањика
- Г) Бајкалско



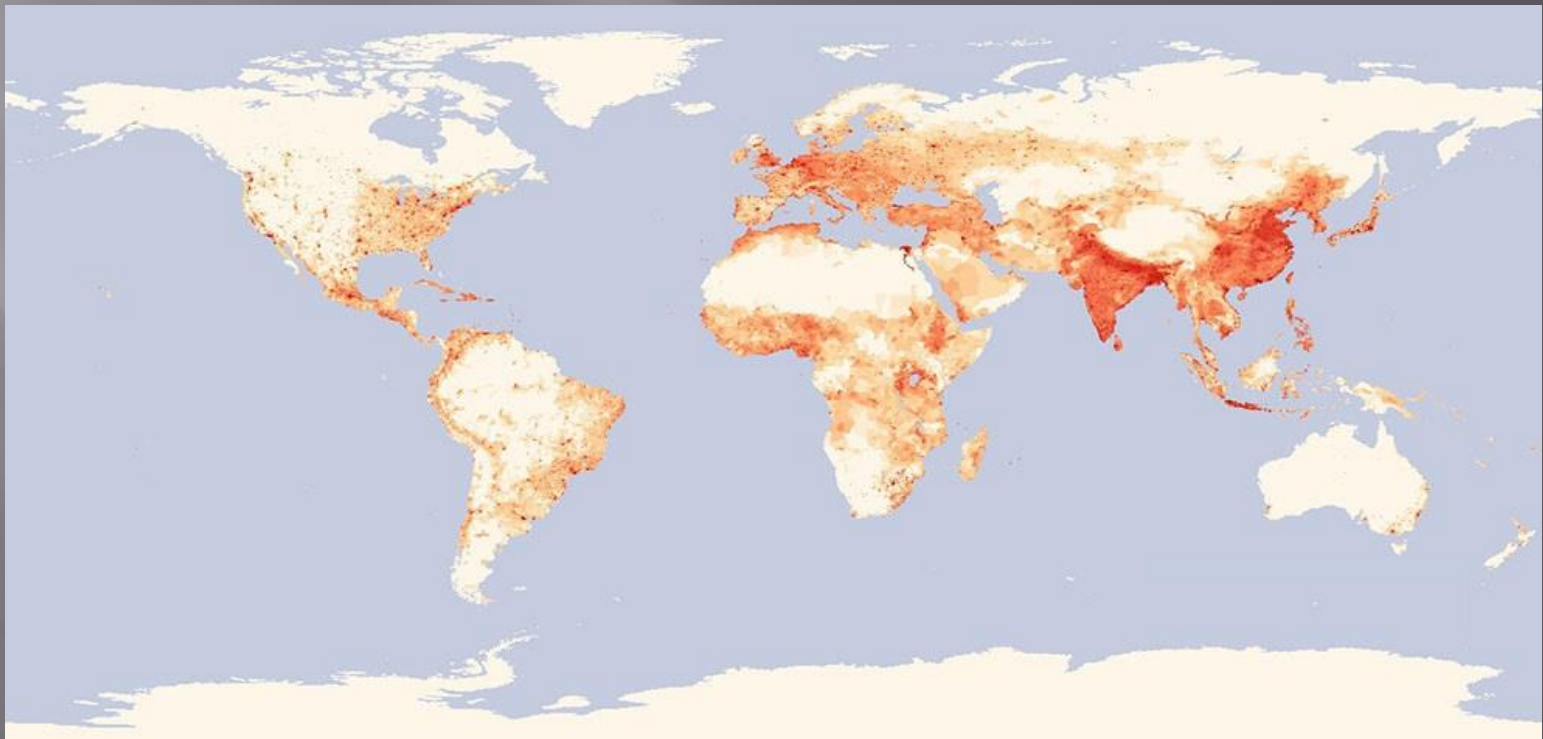
4. Животиња са слике карактеристична је за:

- А) Басен Конга
- Б) Сахару
- В) Амазонију
- Г) Аустралију



5. Шта представља следећа карта?

- А) Заступљеност ислама
- Б) Производњу аутомобила у свету
- В) Густину насељености
- Г) Ништа од наведеног



6. Трг са слике се налази у:

- А) Новом Саду
- Б) Чачку
- В) Нишу
- Г) Шапцу



7. Народ са слике живи у:

- А) Сахари
- Б) Амазонији
- В) Калахарију
- Г) Руб ел Халију



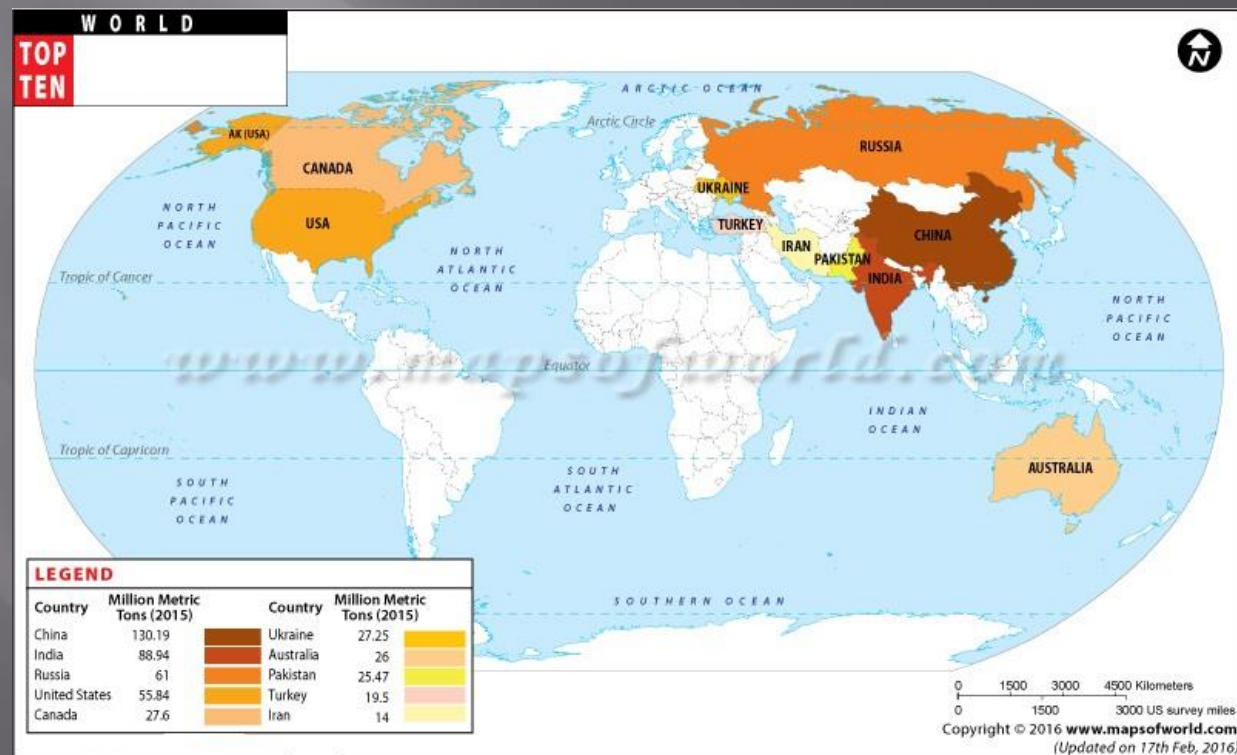
8. Позната плажа са слике налази се у:

- А) Хонолулуу
- Б) Буенос Ајресу
- В) Рио де Жанеиру
- Г) Монтевидеу



9. Следећа карта приказује првих 10 земаља по производњи:

- А) Какаоа
- Б) Пиринча
- В) Пшенице
- Г) Кафе



10. Застава на слици представља:

- А) Словенију
- Б) Чешку
- В) Грузију
- Г) Словачку



11. Који облик рељефа је на слици?

- А) Цирк
- Б) Клиф
- В) Томболо
- Г) Дина



12. Који тип климе је приказан на карти?

- А) Пустински
- Б) Екваторијални
- В) Поларни
- Г) Умерено-континентални



13. Који тип ушћа је приказан на слици?

- А) Делта
- Б) Естуар
- В) Нормалан тип
- Г) Ниједан од наведених



14. Тип вегетације приказан на слици је:

- А) Степа
- Б) Тајга
- В) Савана
- Г) Пустиња



15. Налази се у близини Краљева:

- А) Сокобања
- Б) Рибарска бања
- В) Врњачка бања
- Г) Звоначка бања



16. Воће са слике специфично је за следећу општину у Србији:

- А) Ариље
- Б) Мали Иђош
- В) Велико Градиште
- Г) Ириг



17. Врх са слике је највиши врх планине:

А) Маљен

Б) Рудник

В) Ртањ

Г) Фрушка Гора



18. Следећа карта приказује:

- А) Производњу угља
- Б) Производњу дијаманата
- В) Производњу нафте
- Г) Производњу калаја



19. Птица са слике у Србији живи у долини:

- А) Милешевке
- Б) Јерме
- В) Нишаве
- Г) Власине



20. У општини са карте већинско становништво чине:

- А) Румуни
- Б) Словаци
- В) Срби
- Г) Хрвати



21. Језеро са слике је по начину постанка:

- А) Вештачко
- Б) Тектонско
- В) Крашко
- Г) Еолско



22. Цвеће са слике је традиционална биљна култура у :

- А) Холандији
- Б) Норвешкој
- В) Шведској
- Г) Францукој



23. Заокружите народ чију традицију представља
свирање инструмента са слике

А) Маори

Б) Масаи

В) Фулани

Г) Абориџини



24. Избаци „уљеза“



25. У ком граду се налази статуа са слике?

- А) Ниш
- Б) Неготин
- В) Бор
- Г) Кладово



26. Главни град државе чија је застава на слици је:

А) Абуџа

Б) Дакар

В) Монровија

Г) Малабо



27. Манастир са слике је задужбина:

- А) Стефана Првовенчаног
- Б) Краља Милутина
- В) Цара Душана
- Г) Краља Уроша



28. Који тип пустиње је на слици?

- А) Ерг
- Б) Хамада
- В) Серир
- Г) Ниједан од наведених



29. Који европски град се налази на слици?

- А) Рим
- Б) Берн
- В) Талин
- Г) Венеција



30. Путујете по свету. Ако се налазите у граду са слике, у којој сте држави?

- А) Турској
- Б) Пакистану
- В) Мароку
- Г) Оману



31. Припадници народа са слике по вероисповести су углавном:

- А) Муслимани
- Б) Православци
- В) Католици
- Г) Протестанти




32. Држава која се налази западно од болдиране је била колонија:

- А) Велике Британије
- Б) Италије
- В) Француске
- Г) Немачке



33. Језеро са слике налази се у:

- А) Оману
- Б) Јемену
- В) Јордану
- Г) Саудијској Арабији



34. Објекат са слике један је од најстаријих хотела у Србији и налази се у:

- А) Београду
- Б) Ваљеву
- В) Аранђеловцу
- Г) Нишу



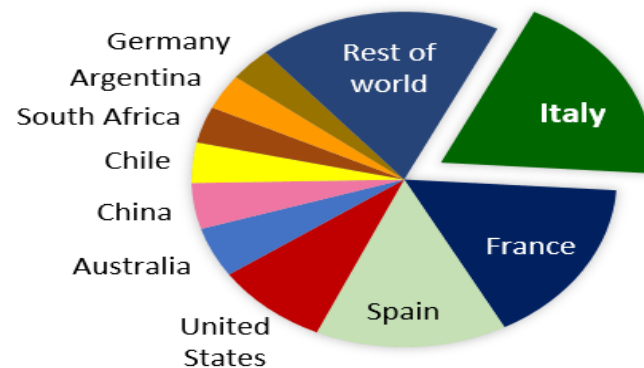
35. Животиња са слике је једна од најдуговечнијих и живи на:

- А) Мадагаскару
- Б) Галапагосу
- В) Мидвеју
- Г) Ускршњим острвима



36. Следећи графикон приказује:

- А) Производњу вина у свету
- Б) Производњу маниоке у свету
- В) Производњу банана у свету
- Г) Производњу сунцокрета у свету



Source: OIV,
October 2016

37. Животиња са слике заштитни знак је:

- А) Обедске баре
- Б) Засавице
- В) Царске баре
- Г) Пештера



38. Једна од ових држава налази се на јужној полулопти:

- А) Непал
- Б) Бенин
- В) Боцвана
- Г) Мексико



39. Утврђени град са слике је:

- А) Голубачки град
- Б) Петроварадин
- В) Маглич
- Г) Соко град



40. У ком се граду налази споменик са слике?

- А) Суботица
- Б) Ниш
- В) Крагујевац
- Г) Ваљево

