

**NACIONALNA  
GEOGRAFSKA OLIMPIJADA  
2015.**

**MULTIMEDIJALNI TEST**

## **Upustvo za rad :**

**Test ima 40 pitanja.**

**Svaki slajd je vidljiv 30 sekundi.**

**Svako pitanje ima ponuđena četiri odgovora.  
Samo jedan od ponuđenih odgovora je tačan.**

**Na listi za odgovore zaokružiti **SAMO JEDAN**  
ponuđen odgovor.**

**Test se radi isključivo hemijskom olovkom.**

**1.**



**Prikaz sa slike je odlika  
pejzaža:**

**A. Sibira**

**B. Indokine**

**C. Kanade**

**D. Skandinavije**

## 2.

# Fotografija Evrope iz svemira, sa ogromnim olujnim oblakom iznad Srbije.

Ciklon koji je zahvatio Srbiju u maju 2014.god. dobio je ime :

- A. "Tamara"
- B. „Tatjana“
- C. „Tijana“
- D. „Teodora“



**3.**

**Manastir koji se vidi na slici je :**


- A. Sopoćani**
- B. Studenica**
- C. Mileševa**
- D. Ravanica**



**4.**

**Jezero poznato  
po fenomenu  
plutajućih  
ostrva je :**

- A. Borsko jezero**
- B. Zlatarsko jezero**
- C. Zvorničko jezero**
- D. Vlasinsko jezero**



**5.**

**Na fotografiji se vidi najviši vrh jedne planine. Koje?**

- A. Kopaonik**
- B. Stara planina**
- C. Rudnik**
- D. Tara**



## 6. Izbaci ULJEZA. Zaokruži pojam koji ne pripada ovoj grupaciji.

A. Obedska bara



B. Golija



C. Zasavica



D. Fruška gora






# 7.

**Jedinstven spomenik  
prirode u kanjonu reke  
Vratne.**

**Kom slivu pripada  
tražena reka:**

- A. Egejskom slivu**
- B. Crnomorskom slivu**
- C. Jadranskom slivu**
- D. Vardarskom slivu**



**8.**



**Mnogi ga smatraju  
najlepšim vodopadom u  
Srbiji. Vodopad Tupavica  
se nalazi :**

- A. Na Zlataru**
- B. Na Zlatiboru**
- C. Na Staroj planini**
- D. Na Rudniku**

9.



**Životinja sa slike je karakteristika:**

**A. ANDA**

**B. TIBETA**

**C. KORDILJERA**

**D. ALŽIRSKE MEZETE**

# 10.



**Ako stojite ispred ove  
građevine, vi ste u:**

- A. Kairu**
- B. Jerusalimu**
- C. Damasku**
- D. Bejrutu**

# 11.




**Ovo je slika kuće u:**

- A. Sahari
- B. Patagoniji
- C. Indokini
- D. Savanskoj Africi

# 12.

**Na fotografiji su prikazane bigarne kade. Jedna od dole navedenih pećina je prepoznatljiva po njima:**

- A. Stopića**
- B. Resavska**
- C. Zlotska**
- D. Ušačka**



# 13.

Šarganska osmica je naziv za muzejsko-turističku železnicu. Na Relaciji Mokra Gora-Šargan Vitasi – Mokra Gora saobraća voz koji nosi naziv :

- A. „Romantika“
- B. „ Nostalgiaja“
- C. „Istorija“
- D. „Vremeplov“



**14.**

**Na slici je prikazan rudarski basen najvećeg proizvođača uglja u „Elektroprivredi Srbije”.  
Koja vrsta uglja je najzastupljenija?**

- A. Mrki ugalj**
- B. Kameni ugalj**
- C. Lignit**
- D. Briketi**






# 15.

**Bukovička banja je  
smeštena u samom  
podnožju planine:**

- A. Goč**
- B. Bukovik**
- C. Bukulja**
- D. Beljanica**



# 16.

Na slici je prikazano jedno arheološko nalazište staro 10000 godina. Datira iz perioda:

- A. srednjeg kamenog doba
- B. mladjeg kamenog doba
- C. starog kamenog doba
- D. mladjeg metalnog doba



**17.**



**Na satelitskom snimku vidimo deltu reke:**

- A. Nila**
- B. Dunava**
- C. Bramaputre**
- D. Mekonga**

# 18.

**U Srbiji se svake godine tradicionalno održavaju razne kulturno-turističke manifestacije. Na slici je prikazana jedna od njih, koja se održava u:**



- A. Mrčajevcima**
- B. Kačarevu**
- C. Guči**
- D. Mačkatu**



# 19.



**Koji vid energije je prikazan na slici:**

- A. Hidroenergetski**
- B. Hidrotermalni**
- C. Solarni**
- D. Eolski**

# 20.

Koja slika prikazuje vrstu oblaka iz grupe cirusa?



**21.**



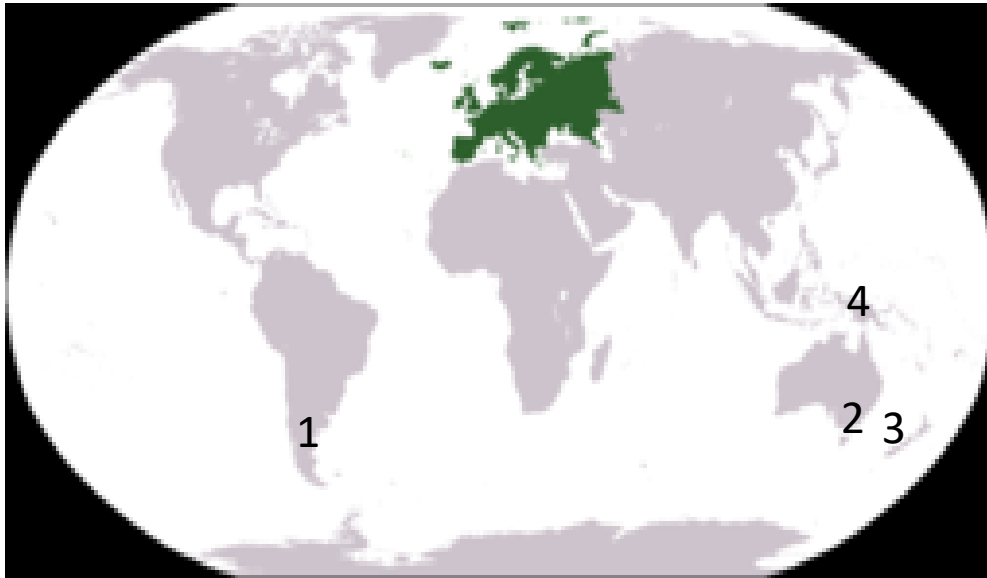
**Ova neobična  
stena monolit  
nalazi se u:**

- A. Arizoni**
- B. Grčkoj**
- C. Australiji**
- D. Novom Zelandu**

# 22.


Pod kojim brojem na karti je zemlja čije slike su prikazane?

- A. 1
- B. 2
- C. 3
- D. 4





# 23.




**Koji klimatski tip vlada u području prikazanom na slici:**

- A. Subpolarni**
- B. Ekvatorijalni**
- C. Istočno-monskunski**
- D. Nijedan od navedenih**

# 24.

**Na slici je prikazano jedno  
jezero. Koje:**

- A. Palićko**
- B. Srebrno**
- C. Borsko**
- D. Zlatarsko**





**Koja od prikazanih pagoda po svojoj arhitekturi je karakteristika Japana?**



# 26.



U kom mesecu je snimljena ova fotografija na ulicama Kalkute:

- A. decembar
- B. april
- C. jul
- D. februar

**27.**

**Hidroelektrana ZAVOJ  
nalazi se na reci:**

- A. Mlava**
- B. Zapadna Morava**
- C. Beli Timok**
- D. Visočica**




28.

Koja slika ne pripada Egiptu?



# 29.

**Koja od ovih drevnih građevina se nalazi na južnoj hemisferi?**



# 30.

- Šta se ne nalazi u slivu Dunava?





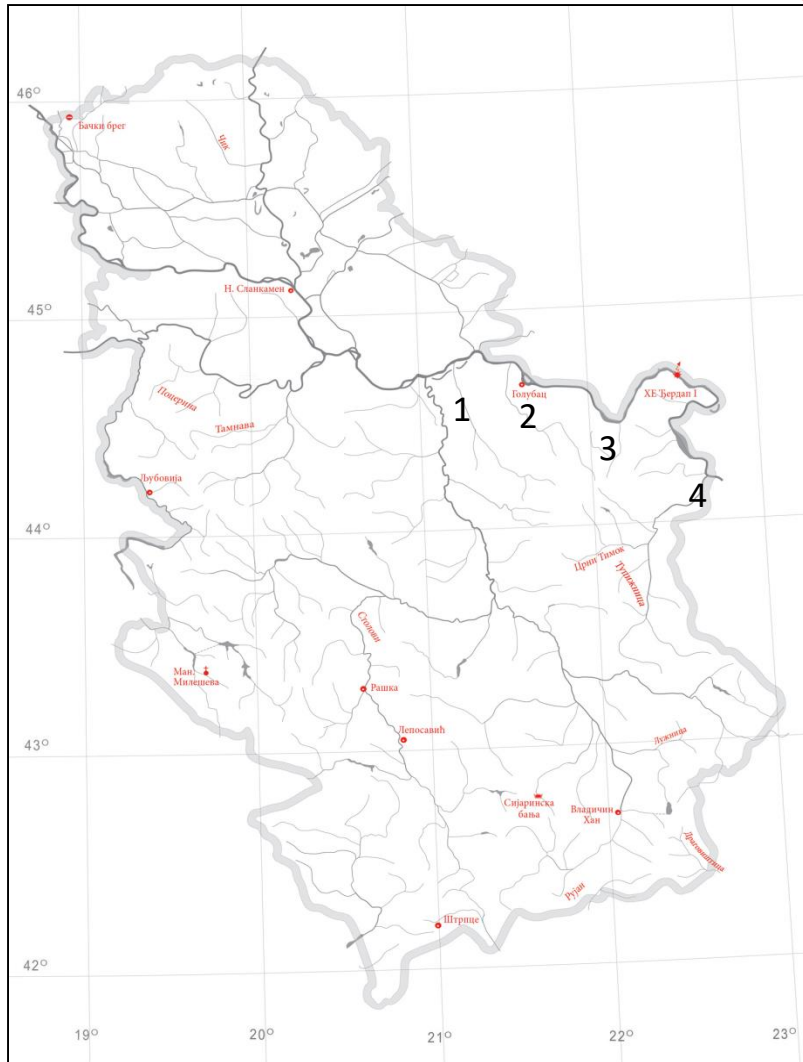
**31.**

**Vilnius je  
glavni grad  
teritorije  
označene:**

- A. Brojem 1**
- B. Brojem 2**
- C. Brojem 3**
- D. Brojem 4**



# 32.



**Kojim brojem je obeležena reka Pek?**

**A. 1**

**B. 2**

**C. 3**

**D. 4**

**33.**



**Čovečija ribica je  
raritet jedne pećine.  
Koje:**

- A. Postojne**
- B. Ceremošnje**
- C. Adauri**
- D. Lasko**

**34.**

**Jedan od navedenih  
četinara, NE pripada  
reliktnim i endemičnim  
vrstama Balkana.**

**A. SLIKA 1**

**B. SLIKA 2**

**C. SLIKA 3**


**D. SLIKA 4**



# 35.

**Na fotografiji je grad Valjevo,  
kroz koji protiče reka:**


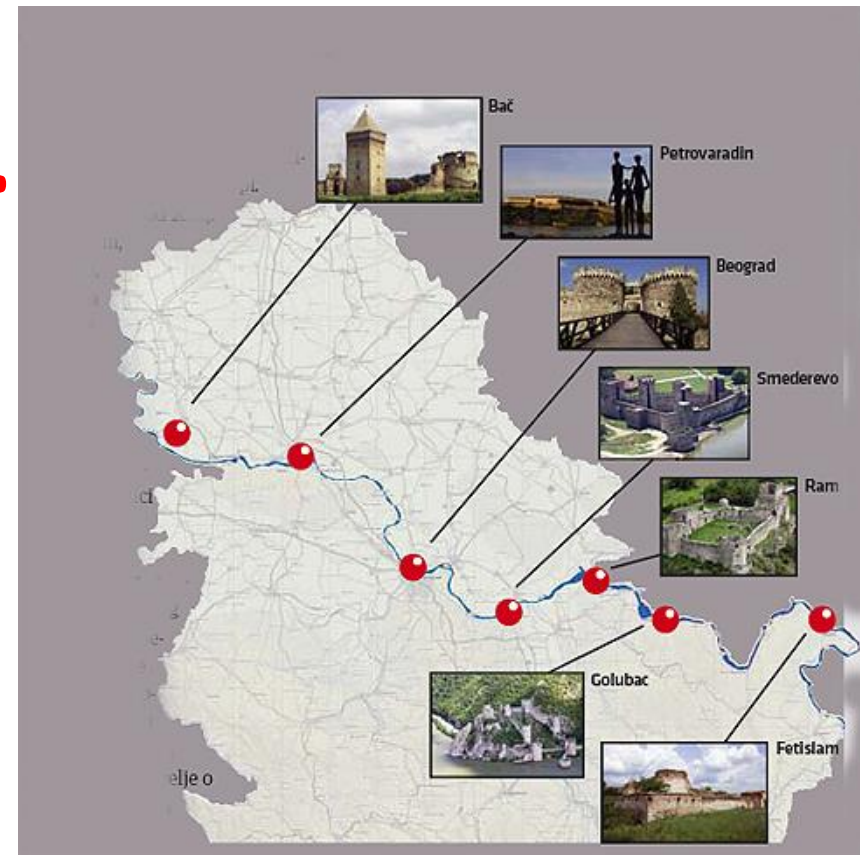
- A. Tamnava**
- B. Kolubara**
- C. Drina**
- D. Sava**



**36.**

**Veliki broj srednjovekovnih tvrđava u Srbiji je građeno uz Dunav. Na fotografiji je:**

- A. Smederevska tvrđava**
- B. Kalemegdan**
- C. Petrovaradin**
- D. Golubac**



# 37.

Na ove dve slike uočavamo pojavu:

- A. Plime i oseke
- B. Promenljivost klimatskih uslova
- C. Epirogeno spuštanje tla
- D. Priprema terena za gradnju



**38.**



Na satelitskom sliku može se videti jezero:

- A. Kaspijsko
- B. Balhaško
- C. Malavi
- D. Turkana



# 39.


**Пронађи улеза.**

**A. Сокобања**

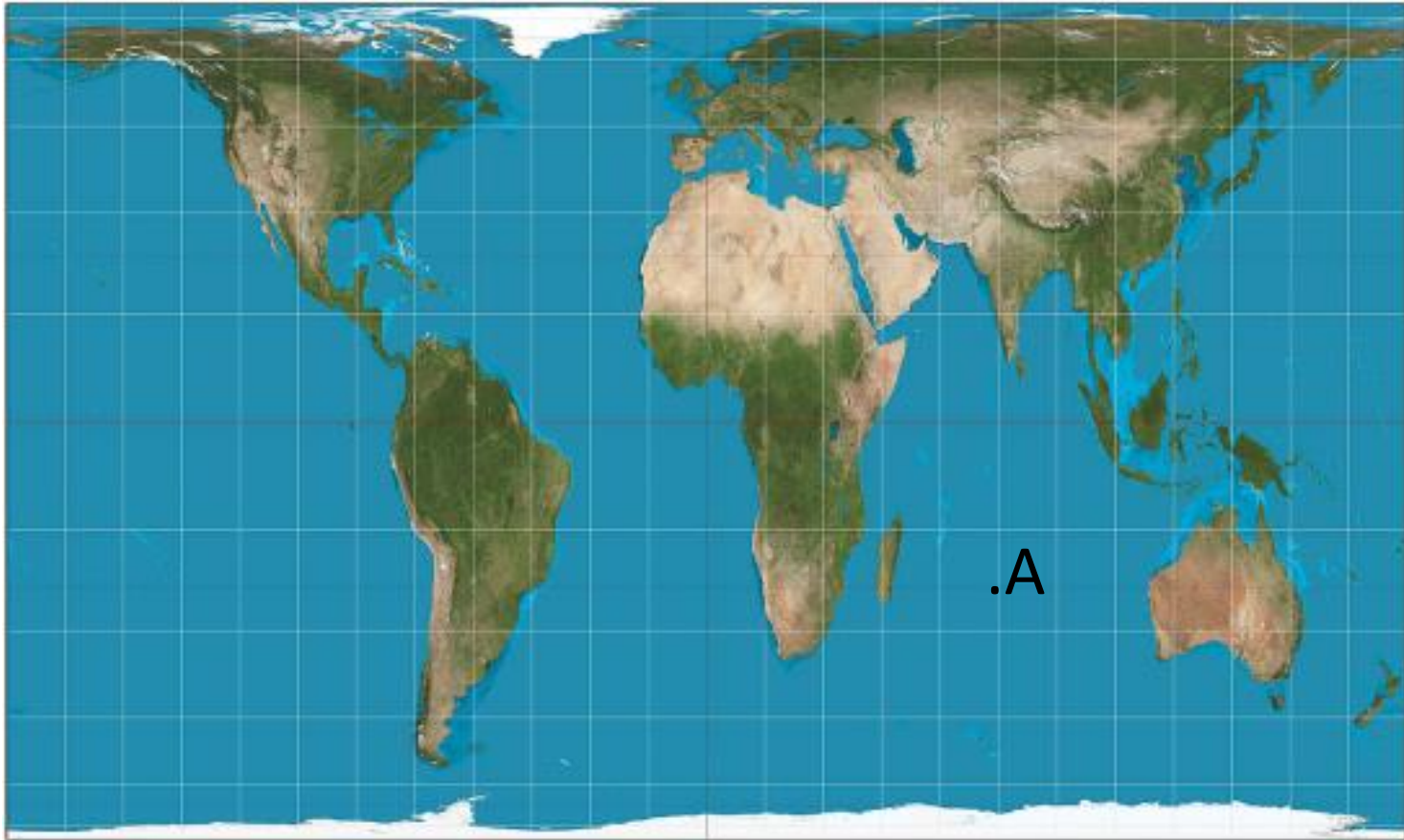
**B. Гамзиградска бања**

**C. Брестовачка бања**

**D. Буковичка бања**



40.



Tačka A ima sledeće koordinate:

A. 23,5 S; 75E

B. 23,5 N; 60 E

C. 23,5 S; 75W

D. 23,5 N; 60 W