

МУЛТИМЕДИЈАЛНИ ТЕСТ 2024

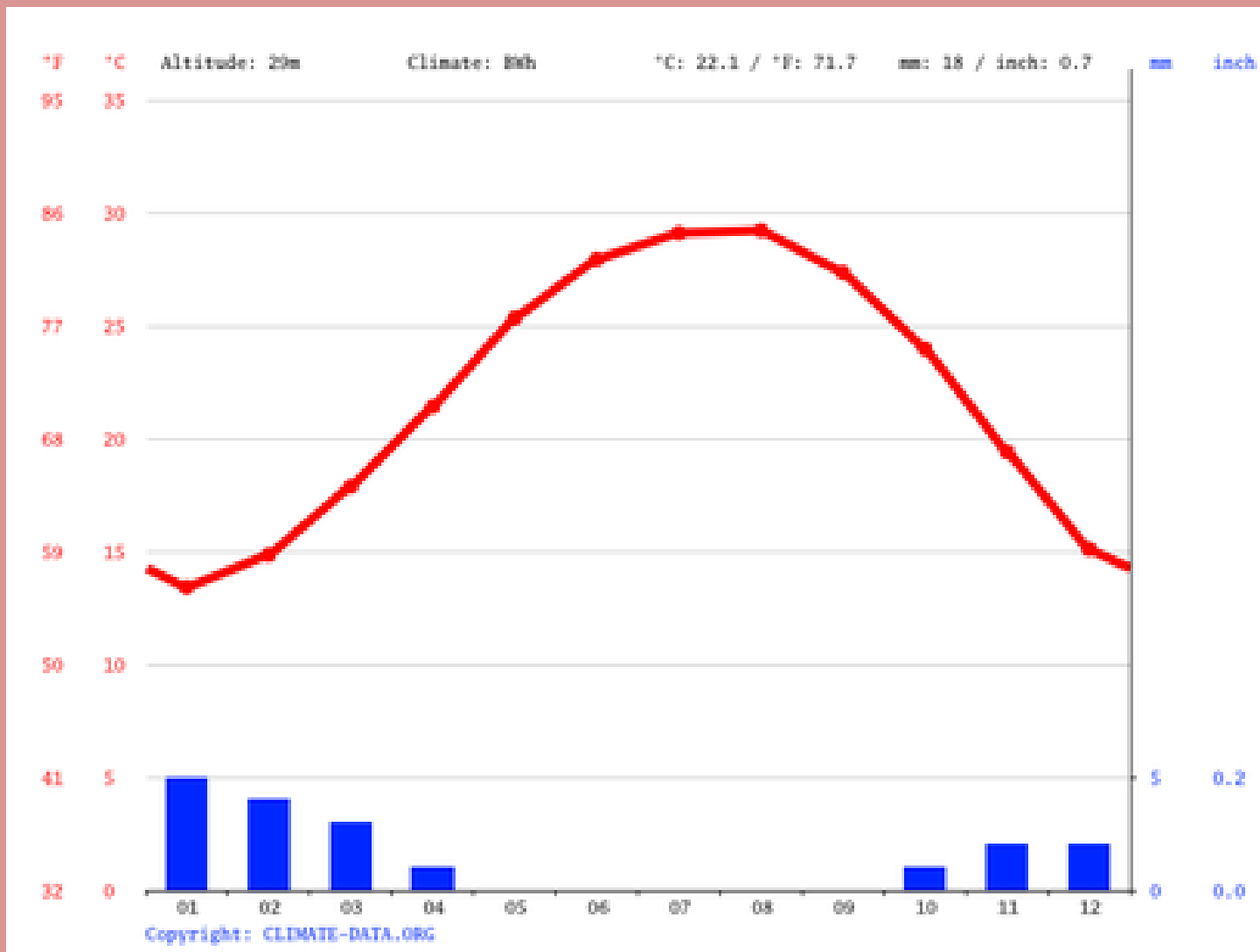
-регионални ниво-

Упутство за израду ММТа

- Пред Вама је мултимедијални тест. Састоји се од 40 питања из различитих области географије
- Сваки слајд са питањем биће видљив 30 секунди
- Дозвољено је заокружити само један одговор. Након заокруживања хемијском оловком, НЕМА ВИШЕ ИСПРАВКИ!!!
- Желимо Вам успешан и срећан рад

1. Клима-дијаграм одговара једном од понуђених градова:

- А) Каиро
- Б) Киншаса
- В) Лагос
- Г) Кејптаун



2. Који тип вегетације је приказан на слици?

A) Тајга

Б) Савана

В) Степа

Г) Тундра



3. У ком граду у Србији се налази споменик са слике?

- А) Крушевац**
- Б) Крагујевац**
- В) Кикинда**
- Г) Краљево**



4. Град који је приказан на слици је:

А) Техеран

Б) Дубаи

В) Багдад

Г) Каиро



**5. Облик рељефа који се види на слици
назива се:**

А) Валов

Б) Увала

В) Меандар

Г) Делта



6. Узгајање животиње са слике карактеристично је за:

А) Португалију

Б) Исланд

В) Нови Зеланд

Г) Гвинеју Бисао



7. Који тип пустиње је приказан на слици?

А) Ерг

Б) Серир

В) Хамада

Г) Ниједан од наведених



8. Поврће са слике карактеристично је за:

А) Темерин

Б) Бечеј

В) Србобран

Г) Футог



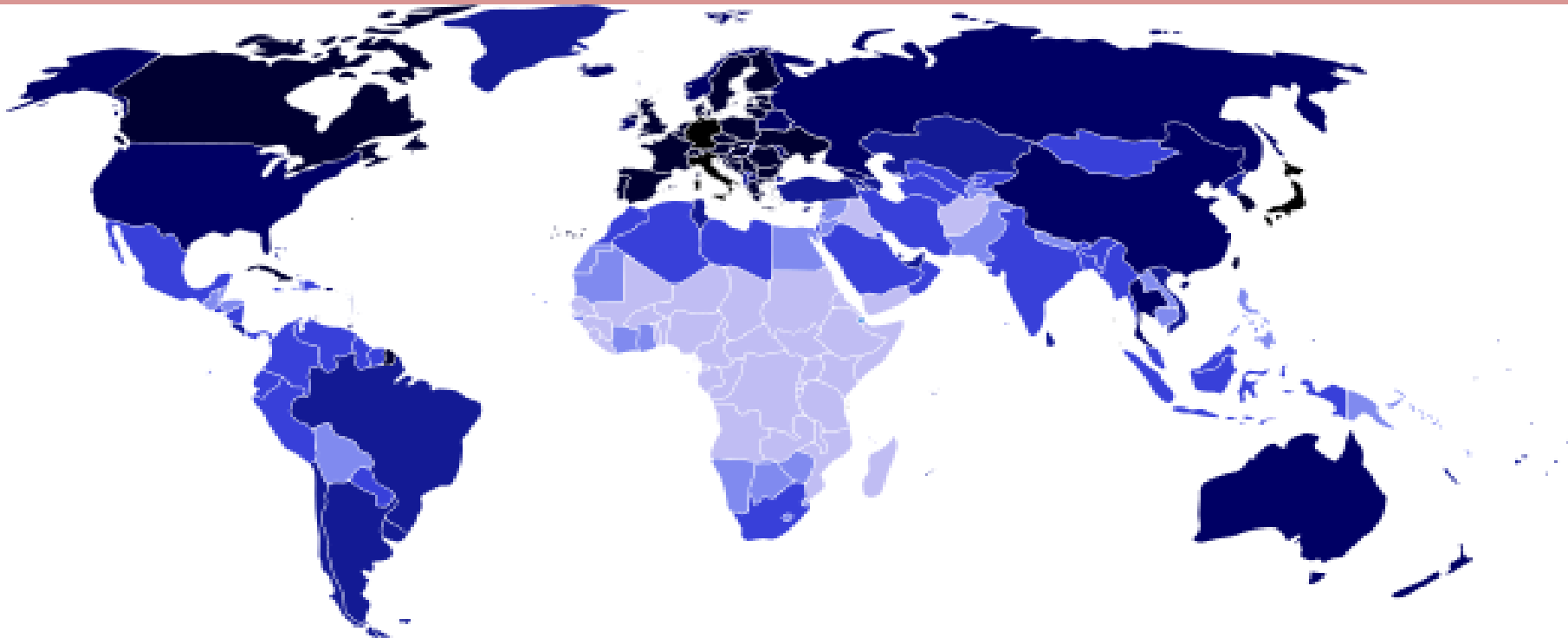
9. Шта је приказано на следећој карти?

А) Густина насељености

Б) Популациона величина државе

В) Просечна старост становништва

Г) Производња злата



10. Које полустрво је приказано на снимку?

- А) Јиланд
- Б) Флорида
- В) Бретања
- Г) Јукатан



11. Која хидроелектрана је приказана на слици?

А) Перућац

Б) Ђердап I

В) Врла I

Г) Увац



12. Територија које државе је приказана?

- А) Авганистан
- Б) Пакистан
- В) Таџикистан
- Г) Узбекистан



13. Ова слика сигурно није снимљена у:

- А) Белорусији**
- Б) Пољској**
- В) Холандији**
- Г) Норвешкој**



14. Који мореуз је приказан на слици?

А) Гибралтар

Б) Магеланов пролаз

В) Малајски пролаз

Г) Босфор



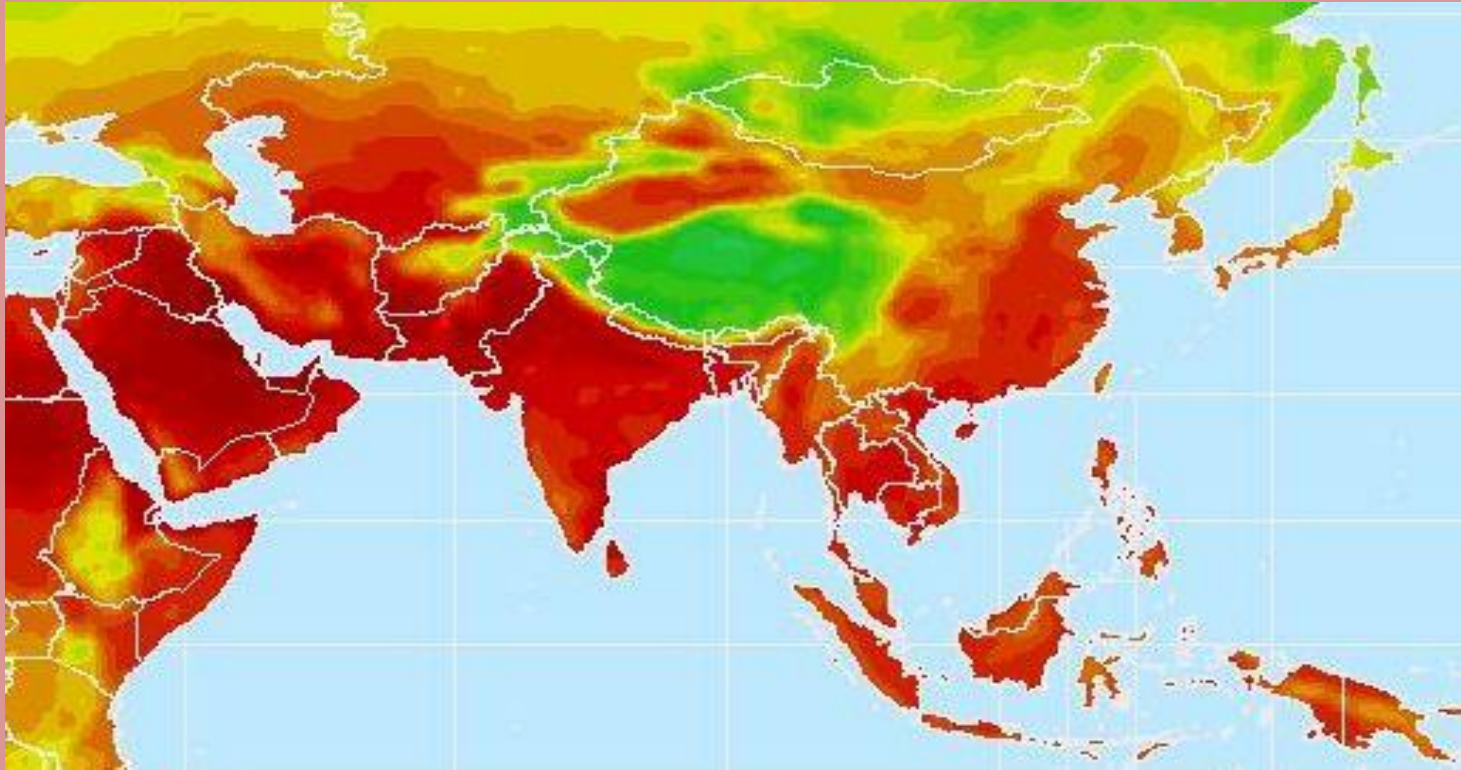
15. Шта је представљено на карти?

А) Густина насељености

Б) Простори са највећим ризиком од поплава

В) Површине под шумама

Г) Просечна јулска температура



16. Пејзаж са слике је карактеристичан за:

А) Мађарску

Б) Швајцарску

В) Норвешку

Г) Литванију



17. Облик рељефа на слици настао је:

А) Абразијом (акумулација)

Б) Абразијом (ерозија)

В) Денудацијом

Г) Нивацијом



18. Пејзаж са слике може се срести у држави:

А) Боцвана

Б) Русија

В) Оман

Г) ДР Конго



19. На слици је застава:

- А) Кубе**
- Б) Мексика**
- В) Панама**
- Г) Јамајке**



20. На карти европе је приказан просторни распоред:

А) Доминантних житарица

Б) Језичких група

В) Религија

Г) Вегетацијских појасева



21. Ознака на слици најчешће симболизује:

А) Заштиту природе

Б) Пошумљавање

В) Рециклажу

Г) Биодиверзитет



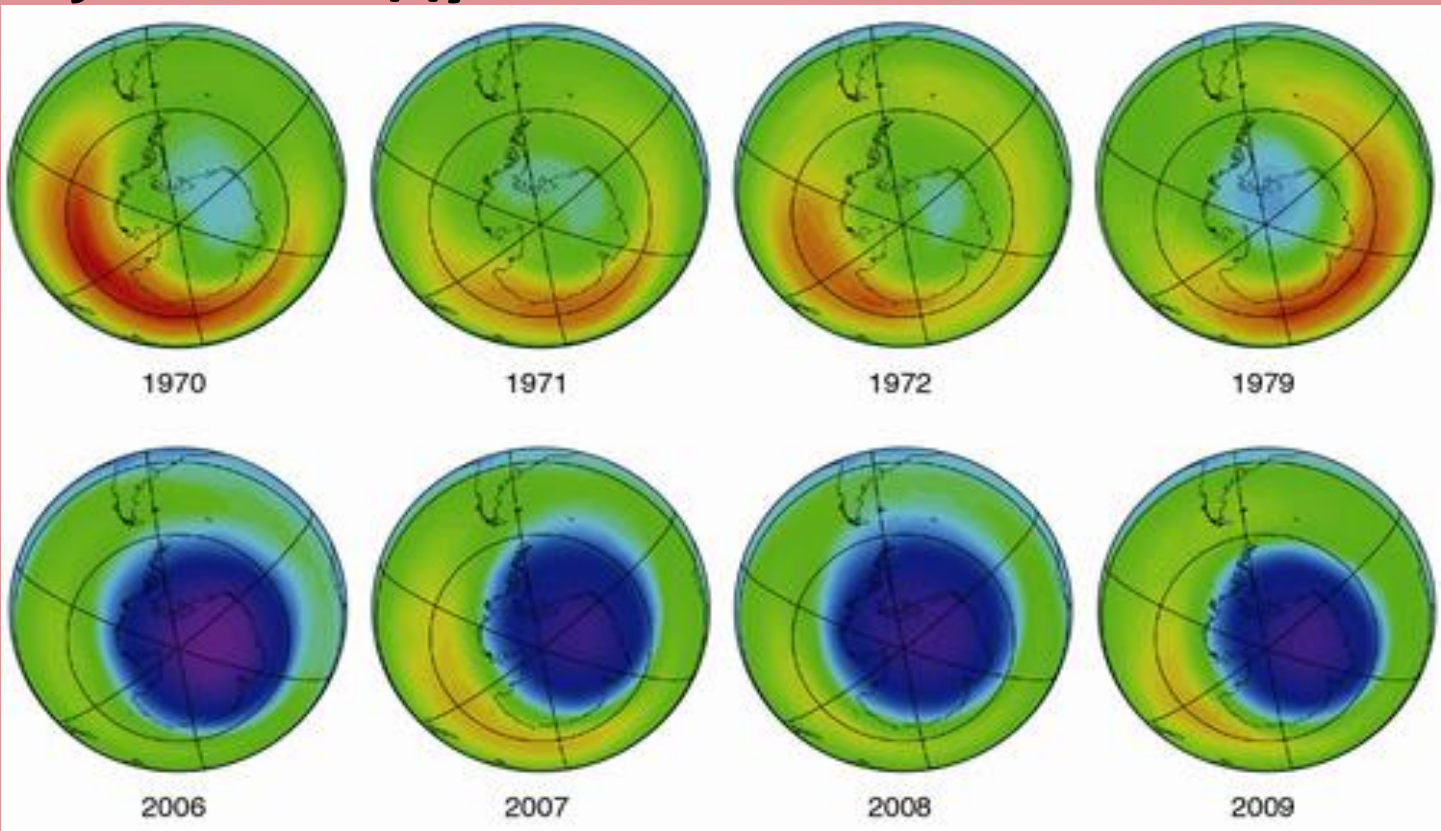
22. Слика приказује који глобални феномен?

А) Промену годишње температуре

Б) Оштећење озонског омотача

В) Топљење ледника на арктику

Г) Загађење ваздуха



23. Језеро на слици припада групи:

А) Речних

Б) Вулканских

В) Глацијалних

Г) Крашких



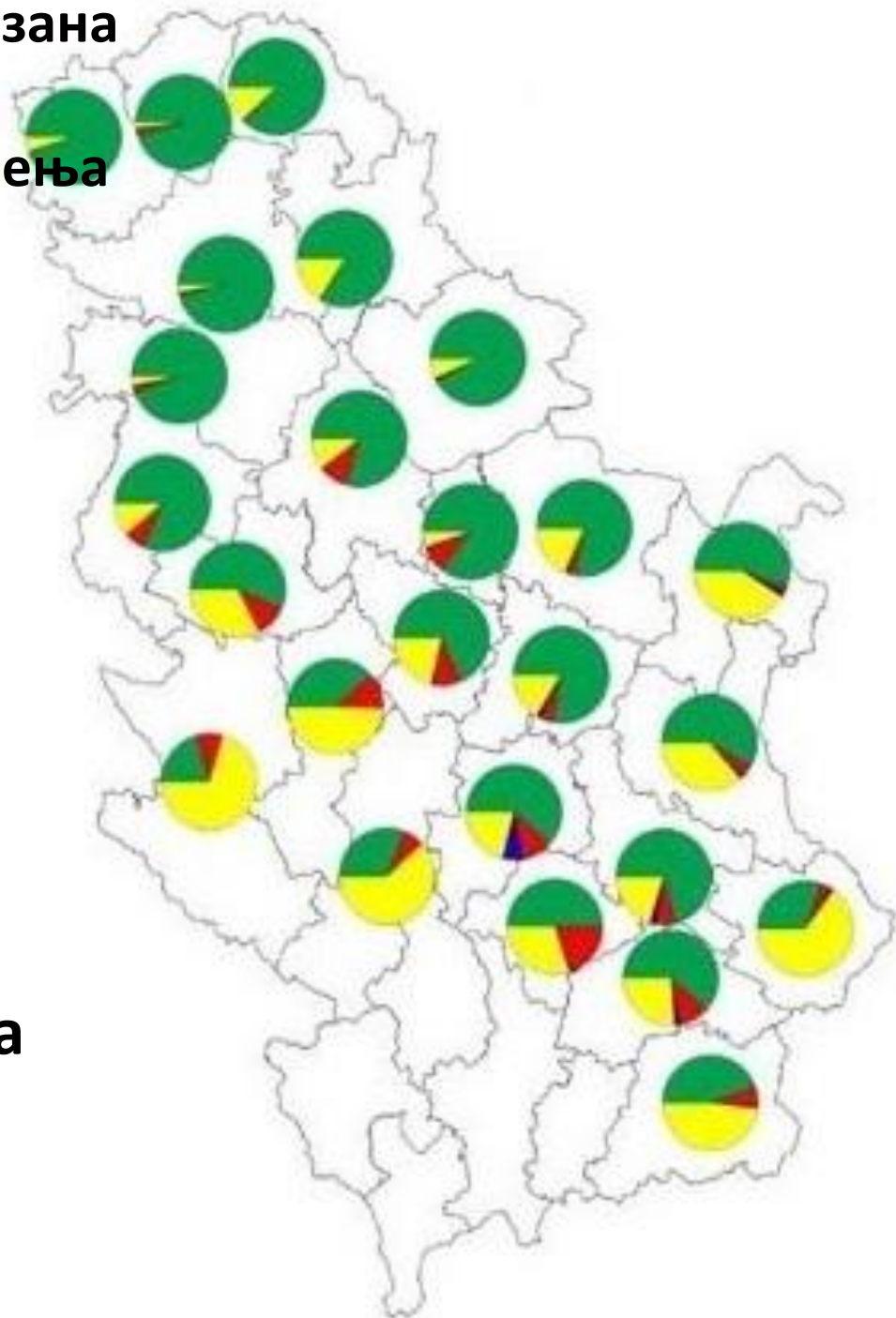
24. Кружним графиконима приказана је структура пољопривредног земљишта према начину коришћења по окрузима у Србији. Шта је представљено зеленом и црвеном бојом:

А) Удео ораница, башта и воћњака

Б) Удео ливада, пашњака и воћњака

В) Удео воћњака и винограда

Г) Удео ораница, башта и винограда



25. Највећи монолит од пешчара на свету приказан на слици налази се на територији:

А) Аустралије
В) Африке

Б) Јужне Америке
Г) Азије



26. Који тип вегетације је заступљен у областима приказаним на карти?

- А) Пустинјска**
- Б) Савана**
- В) Медитеранска**
- Г) Степа**



27. Острва на слици су свој облик добила након:

А) Цунамија

Б) Вулканске активности

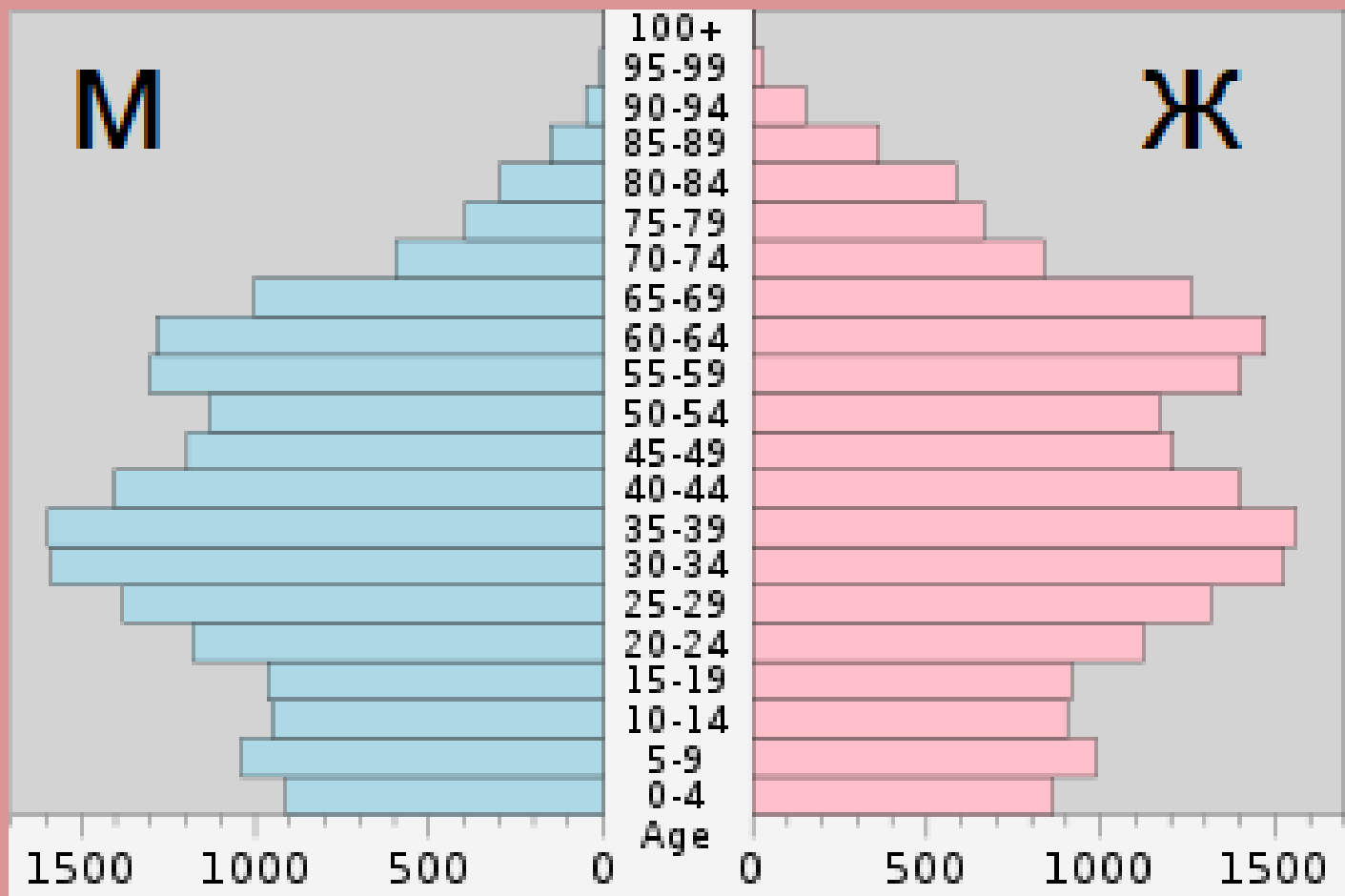
В) Тајфуна

Г) Земљотреса



28. Полно-старосна популациона пирамида одговара становништву:

- А) Пољске
- Б) Турске
- В) Индије
- Г) Сомалије



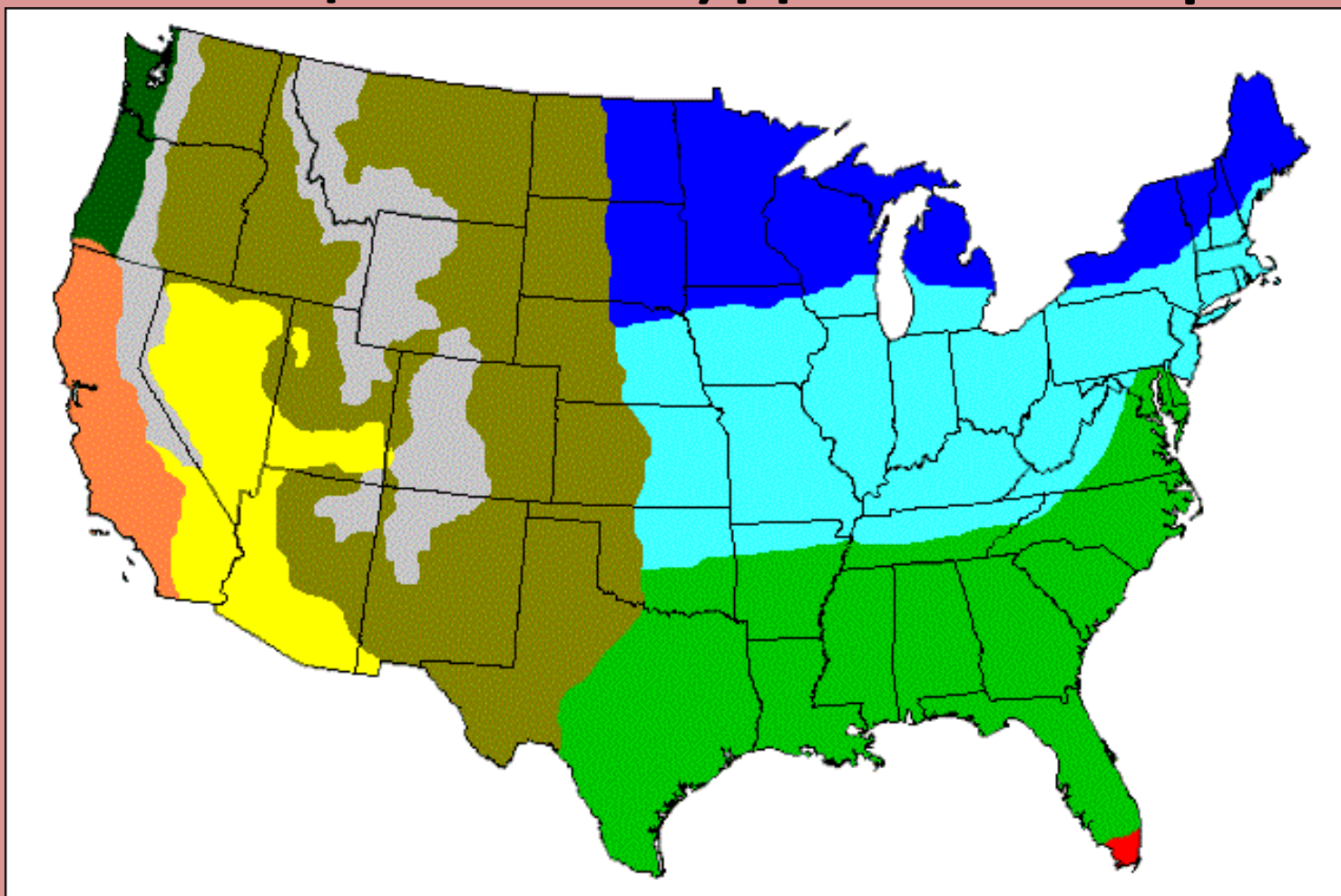
29. Шта представља тематска карта САД-а?

А) Верске групе

Б) Климатске типове

В) Геолошке целине

Г) Доминантне расе



30. Особа са слике највероватније је:

А) Велшанин

Б) Енглеz

В) Ирац

Г) Шкотланђанин



31. Како се зове знаменитост са фотографије?

- А) Црква св. Петра**
- Б) Нотр Дам**
- В) Црква Исуса Христа**
- Г) Саграда Фамилија**



32. Животиња са слике карактеристична је за:

- А) Аустралију**
- Б) Југоисточну Азију**
- В) Северну Африку**
- Г) Јужну Америку**



33. Воће са слике карактеристично је за регион:

А) Рашке

Б) Мачве

В) Смедеревског Подунавља

Г) Хомоља




34. Сателитски снимак приказује:

А) Аралско језеро

Б) Бајкалско језеро

В) Језеро Викторија

Г) Мртво море



35. Позната грађевина са слике налази се у:

- А) Шангају**
- Б) Сиднеју**
- В) Сингапуру**
- Г) Токију**



36. На фотографији се налази оснивач једне религије. Заокружи државу у којој је та религија доминантна:

А) Азербејџан

Б) Науру

В) Чиле

Г) Тајланд



37. Избаци уљеза:

А)



Б)



В)



Г)



38. Фотографија приказује:

А) Глобално загревање

Б) Транзицију

В) Деисламизацију

Г) Глобализацију

McArabia™ meal
Grilled Kofta
وجبة ماك أرابيا
كفتة مسوية
NEW حديد
15 DHS
الطعم الأصيل
Authentic Taste
الطعم الأصيل
Authentic Taste
DEPARTMENT OF CIVIL AVIATION, DUBAI


39. Кроз град са слике протиче река:

А) Лоара

Б) Рона

В) Сена

Г) Гарона



40. Која држава је један од највећих светских извозника и произвођача културе са слике?

А) Обала Слоноваче

Б) Италија

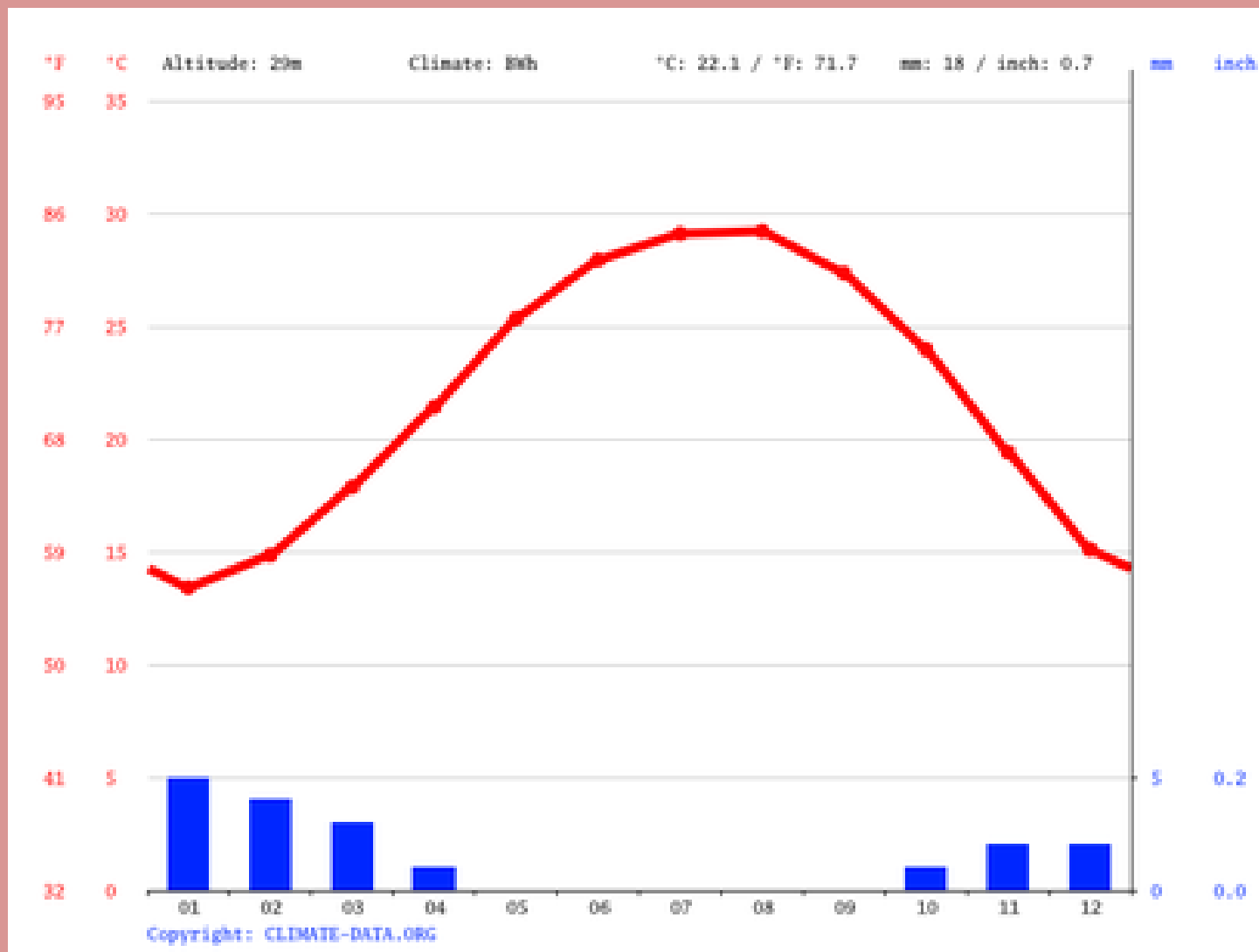
В) Швајцарска

Г) Кипар



1. Клима-дијаграм одговара једном од понуђених градова:

- А) Каиро
- Б) Киншаса
- В) Лагос
- Г) Кејптаун



2. Који тип вегетације је приказан на слици?

A) Тајга

Б) Савана

В) Степа

Г) Тундра



3. У ком граду у Србији се налази споменик са слике?

- А) Крушевац**
- Б) Крагујевац**
- В) Кикинда**
- Г) Краљево**



4. Град који је приказан на слици је:

А) Техеран

Б) Дубаи

В) Багдад

Г) Каиро



**5. Облик рељефа који се види на слици
назива се:**

А) Валов

Б) Увала

В) Меандар

Г) Делта



6. Узгајање животиње са слике карактеристично је за:

А) Португалију

Б) Исланд

В) Нови Зеланд

Г) Гвинеју Бисао



7. Који тип пустиње је приказан на слици?

А) Ерг

Б) Серир

В) Хамада

Г) Ниједан од наведених



8. Поврће са слике карактеристично је за:

А) Темерин

Б) Бечеј

В) Србобран

Г) Футог



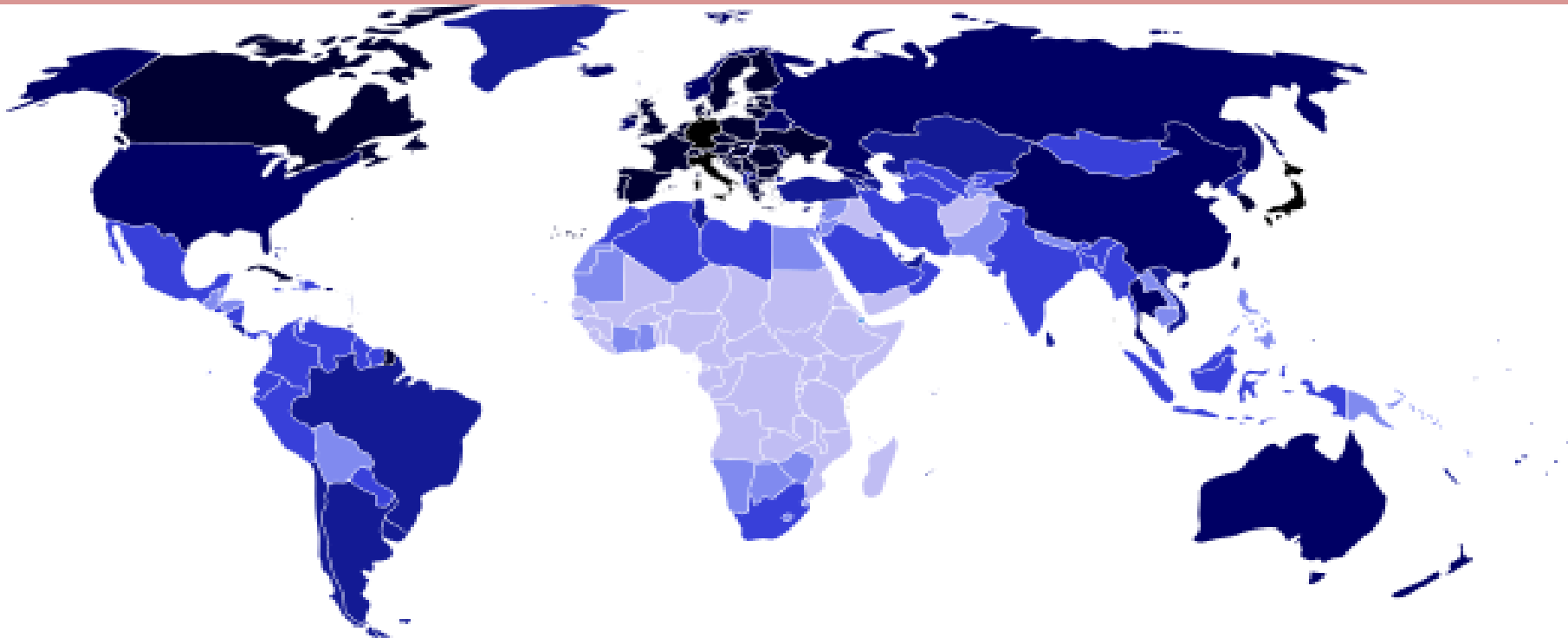
9. Шта је приказано на следећој карти?

А) Густина насељености

Б) Популациона величина државе

В) Просечна старост становништва

Г) Производња злата



10. Које полустрво је приказано на снимку?

- А) Јиланд
- Б) Флорида
- В) Бретања
- Г) Јукатан



11. Која хидроелектрана је приказана на слици?

А) Перућац

Б) Ђердап I

В) Врла I

Г) Увац



12. Територија које државе је приказана?

- А) Авганистан
- Б) Пакистан
- В) Таџикистан
- Г) Узбекистан



13. Ова слика сигурно није снимљена у:

- А) Белорусији**
- Б) Пољској**
- В) Холандији**
- Г) Норвешкој**



14. Који мореуз је приказан на слици?

А) Гибралтар

Б) Магеланов пролаз

В) Малајски пролаз

Г) Босфор



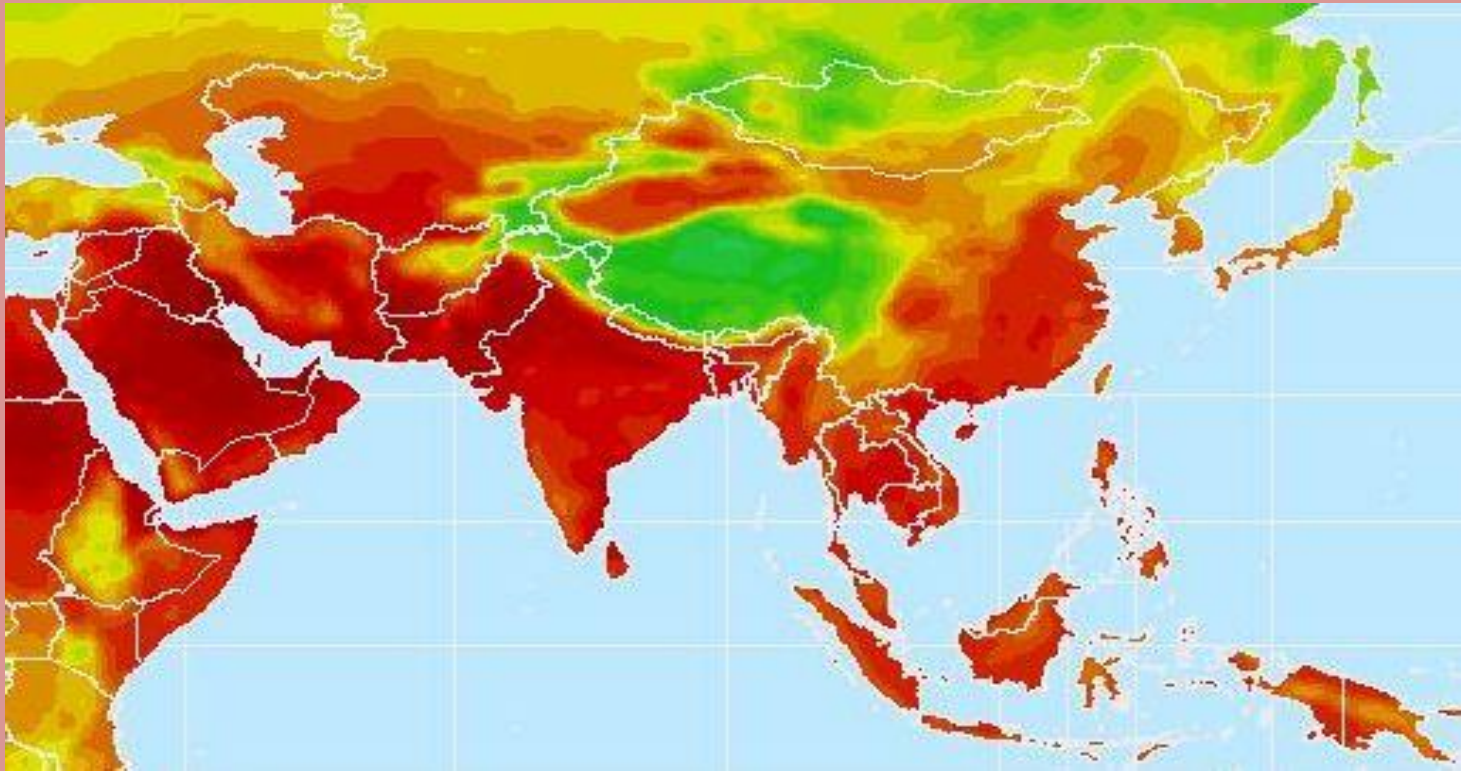
15. Шта је представљено на карти?

А) Густина насељености

Б) Простори са највећим ризиком од поплава

В) Површине под шумама

Г) Просечна јулска температура



16. Пејзаж са слике је карактеристичан за:

А) Мађарску

Б) Швајцарску

В) Норвешку

Г) Литванију



17. Облик рељефа на слици настао је:

А) Абразијом (акумулација)

Б) Абразијом (ерозија)

В) Денудацијом

Г) Нивацијом



18. Пејзаж са слике може се срести у држави:

А) Боцвана

Б) Русија

В) Оман

Г) ДР Конго



19. На слици је застава:

- А) Кубе**
- Б) Мексика**
- В) Панама**
- Г) Јамајке**



20. На карти европе је приказан просторни распоред:

А) Доминантних житарица

Б) Језичких група

В) Религија

Г) Вегетацијских појасева



21. Ознака на слици најчешће симболизује:

А) Заштиту природе

Б) Пошумљавање

В) Рециклажу

Г) Биодиверзитет



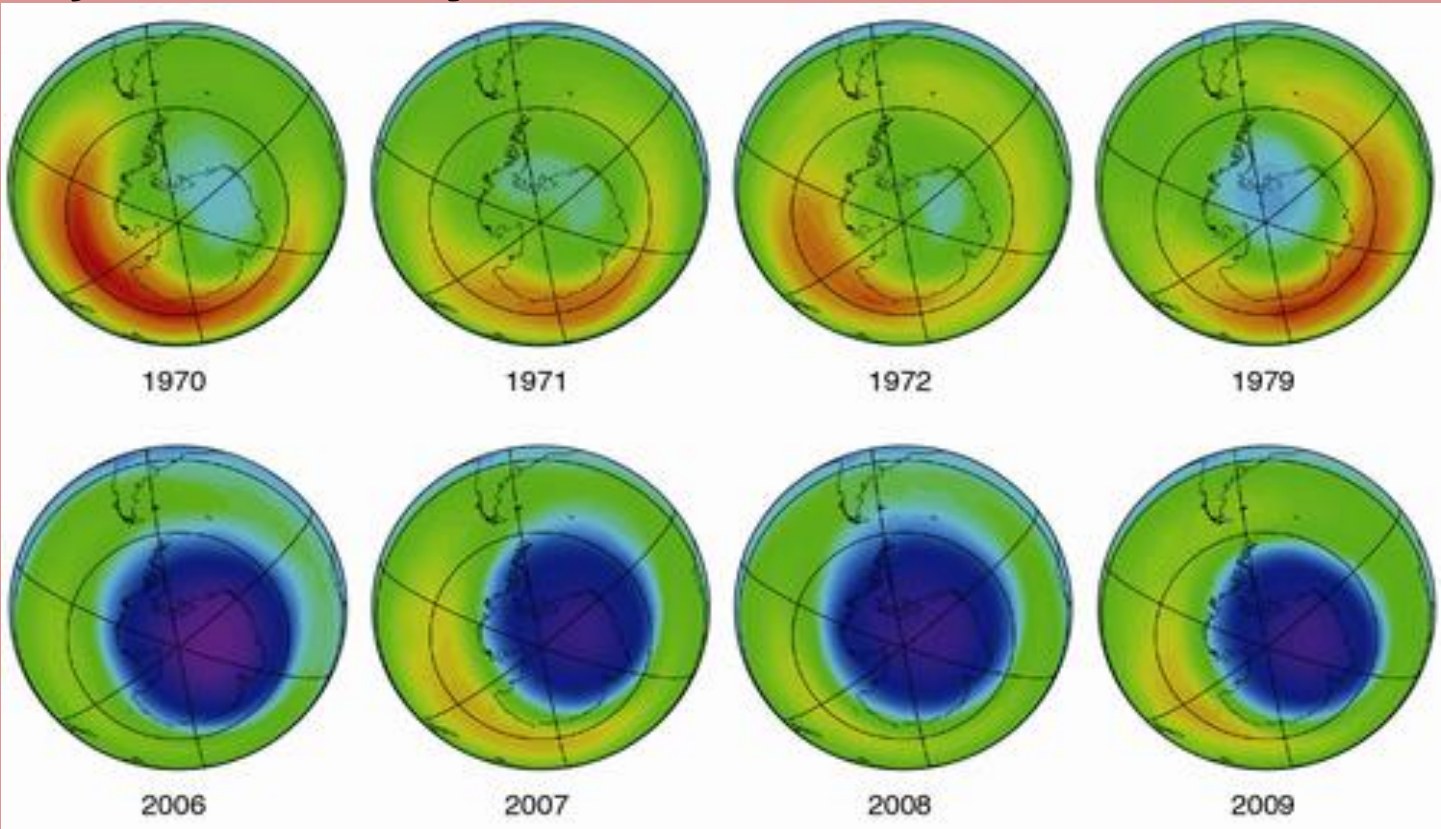
22. Слика приказује који глобални феномен?

А) Промену годишње температуре

Б) Оштећење озонског омотача

В) Топљење ледника на арктику

Г) Загађење ваздуха



23. Језеро на слици припада групи:

А) Речних

Б) Вулканских

В) Глацијалних

Г) Крашких



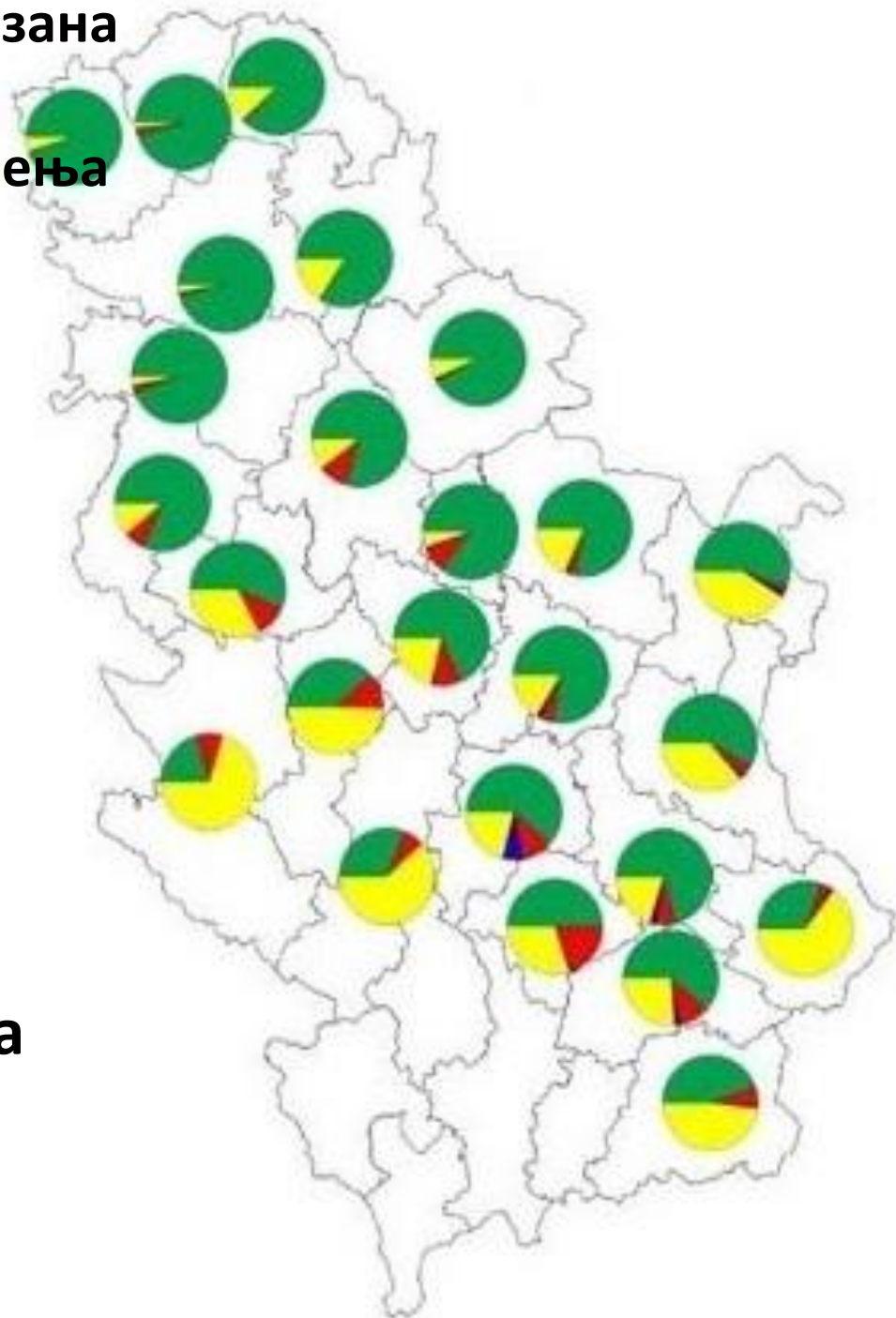
24. Кружним графиконима приказана је структура пољопривредног земљишта према начину коришћења по окрузима у Србији. Шта је представљено зеленом и црвеном бојом:

А) Удео ораница, башта и воћњака

Б) Удео ливада, пашњака и воћњака

В) Удео воћњака и винограда

Г) Удео ораница, башта и винограда



25. Највећи монолит од пешчара на свету приказан на слици налази се на територији:

А) Аустралије

В) Африке

Б) Јужне Америке

Г) Азије



26. Који тип вегетације је заступљен у областима приказаним на карти?

- А) Пустинјска**
- Б) Савана**
- В) Медитеранска**
- Г) Степа**



27. Острва на слици су свој облик добила након:

А) Цунамија

Б) Вулканске активности

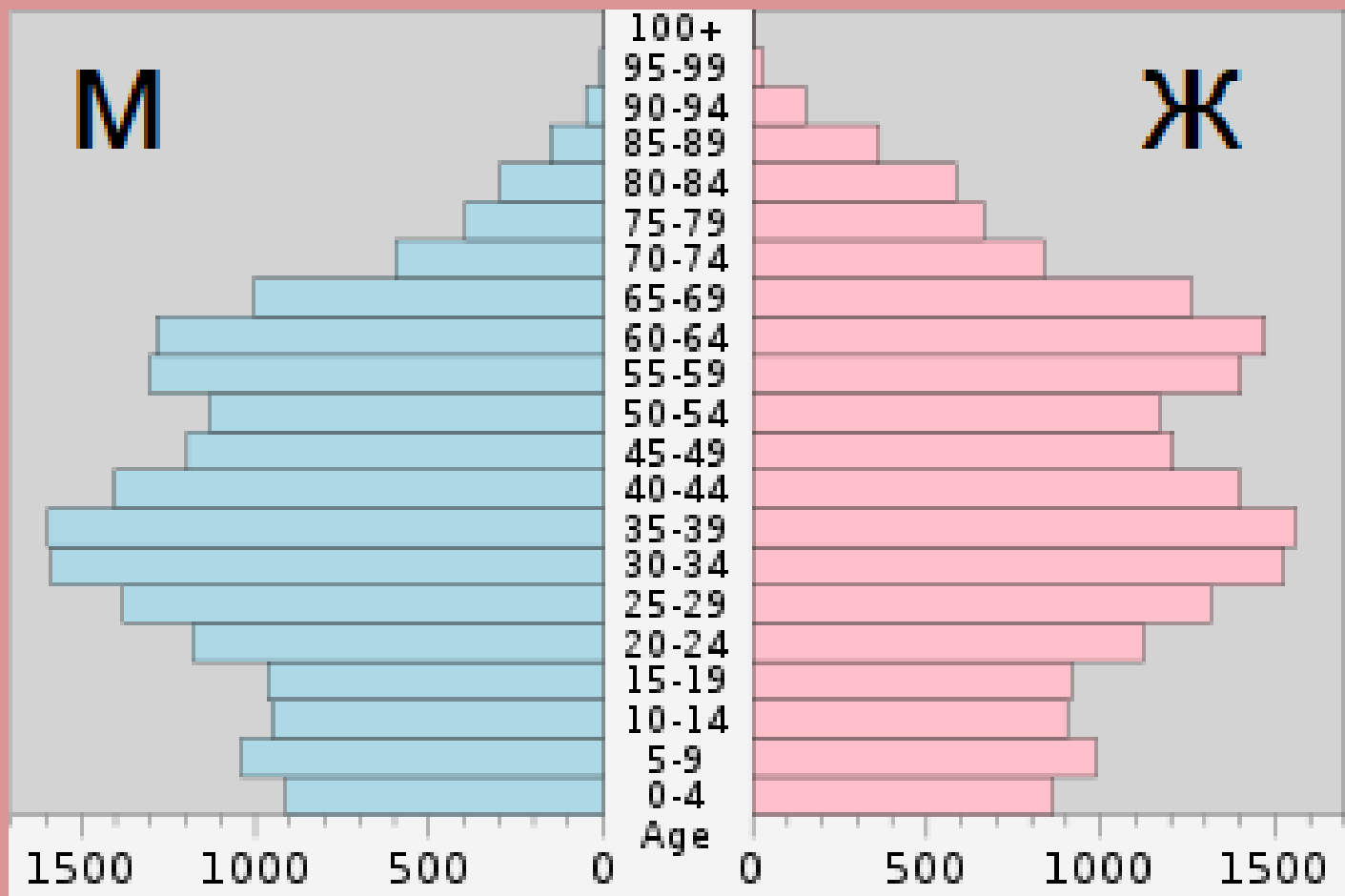
В) Тајфуна

Г) Земљотреса



28. Полно-старосна популациона пирамида одговара становништву:

- А) Пољске
- Б) Турске
- В) Индије
- Г) Сомалије



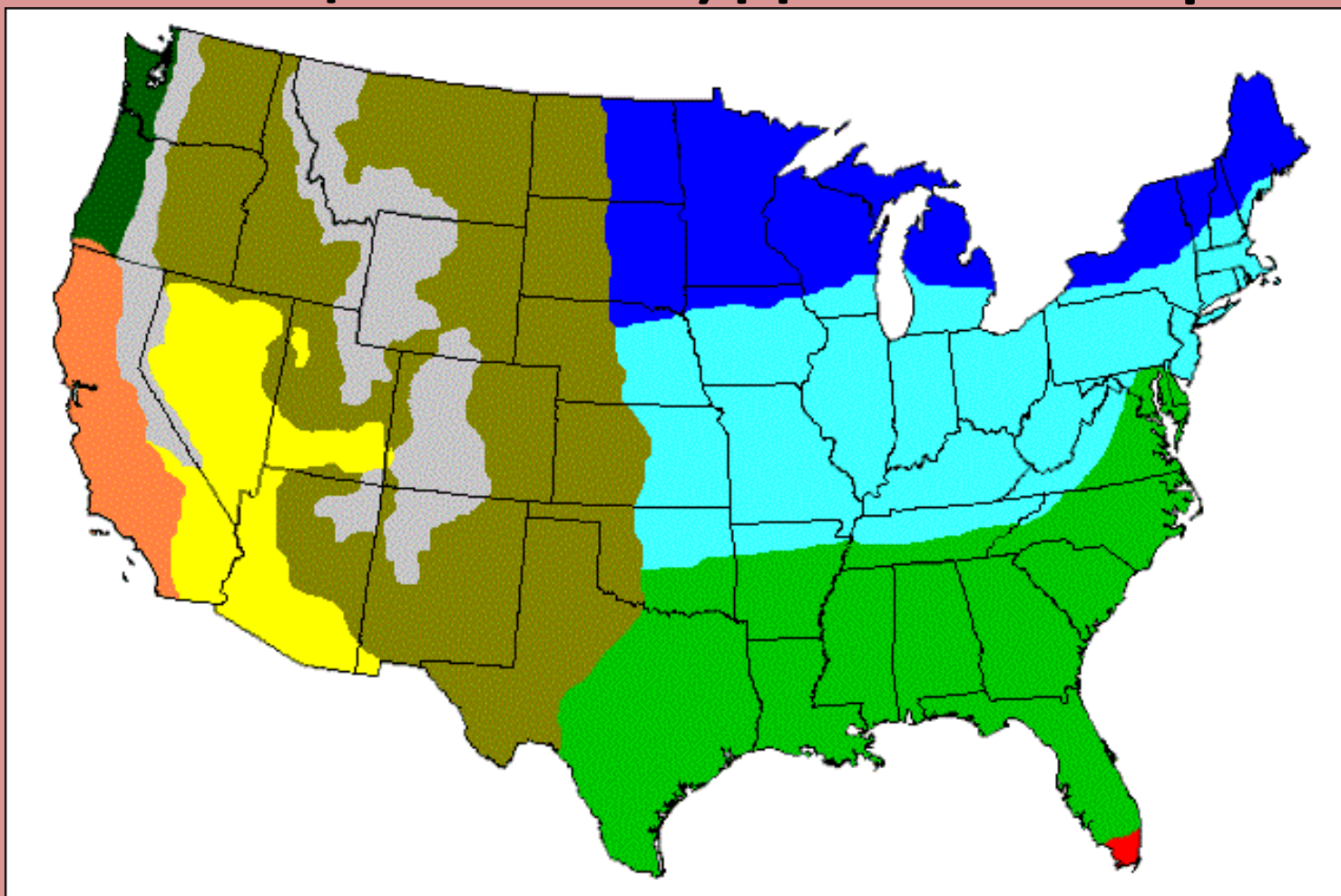
29. Шта представља тематска карта САД-а?

А) Верске групе

Б) Климатске типове

В) Геолошке целине

Г) Доминантне расе



30. Особа са слике највероватније је:

А) Велшанин

Б) Енглеz

В) Ирац

Г) Шкотланђанин



31. Како се зове знаменитост са фотографије?

- А) Црква св. Петра**
- Б) Нотр Дам**
- В) Црква Исуса Христа**
- Г) Саграда Фамилија**



32. Животиња са слике карактеристична је за:

- А) Аустралију**
- Б) Југоисточну Азију**
- В) Северну Африку**
- Г) Јужну Америку**



33. Воће са слике карактеристично је за регион:

A) Рашке

Б) Мачве

В) Смедеревског Подунавља

Г) Хомоља




34. Сателитски снимак приказује:

А) Аралско језеро

Б) Бајкалско језеро

В) Језеро Викторија

Г) Мртво море



35. Позната грађевина са слике налази се у:

- А) Шангају**
- Б) Сиднеју**
- В) Сингапуру**
- Г) Токију**



36. На фотографији се налази оснивач једне религије. Заокружи државу у којој је та религија доминантна:

А) Азербејџан

Б) Науру

В) Чиле

Г) Тајланд



37. Избаци уљеза:

А)



Б)



В)



Г)



38. Фотографија приказује:

А) Глобално загревање

Б) Транзицију

В) Деисламизацију

Г) Глобализацију

McArabia™ meal
Grilled Kofta
وجبة ماك أرابيا
كفتة مسوية
NEW حديد
15 DHS
الطعم الأصيل
Authentic Taste
انا احبه

Dubai International Airport is a no smoking zone. Kindly refrain from smoking anywhere in the Terminal.
Thank you.
DEPARTMENT OF CIVIL AVIATION, DUBAI


39. Кроз град са слике протиче река:

А) Лоара

Б) Рона

В) Сена

Г) Гарона



40. Која држава је један од највећих светских извозника и произвођача културе са слике?

А) Обала Слоноваче

Б) Италија

В) Швајцарска

Г) Кипар

