

НГО 2021 – РЕПУБЛИЧКИ НИВО



МУЛТИМЕДИЈАЛНИ ТЕСТ

Садржи 40 питања са више понуђених одговора.

САМО ЈЕ ЈЕДАН ОДГОВОР ТАЧАН !!!

Слајд за свако питање предвиђено је да траје 45 секунди.

Нема поновног прегледања слајдова !!!

Уколико су заокружена два или више одговора на једном питању такви одговори се неће уважавати у укупном скору.

1. Национални парк секвоја. У којој се савезној држави налази овај Национални парк, који такође има највише стабала секвоје:

1. Монтана

2. Тексас

3. Калифорнија

4. Мичиген



2. Преторија је административни главни град које државе:

1. Централна Африка

2. Јужноафричка Република

3. Танзанија

4. Мадагаскар




3. Која је од следећих застава је застава матичне државе ланца намештаја Икеа?

1. А

2. Б

3. В

4. Г



4. Koja je država naručila da se napravi Kip slobode?


1



2



3.



4.



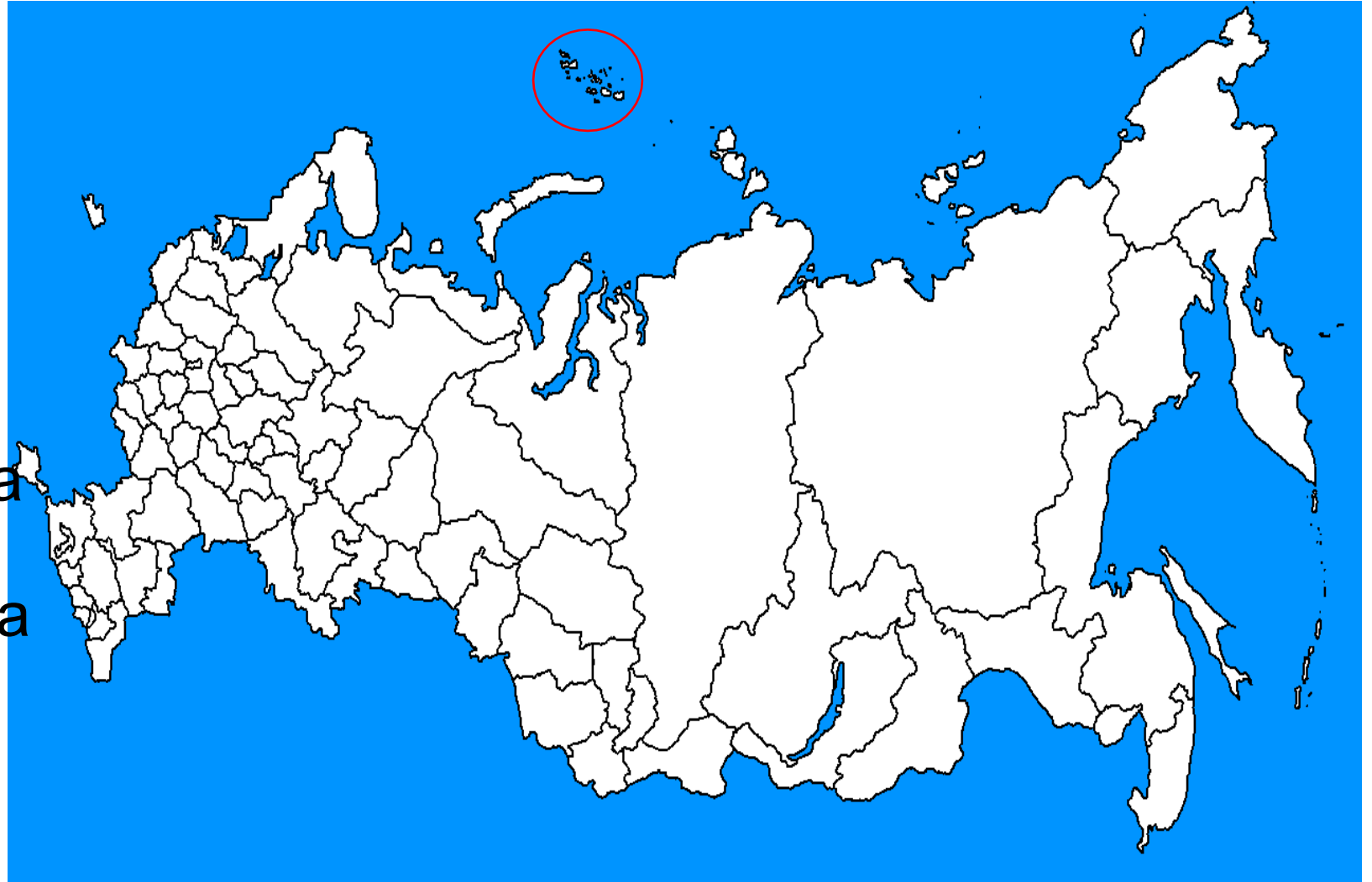
5. Највећи Руски артички арипелаг, заоружен на карти назива се:

1. Северна земља

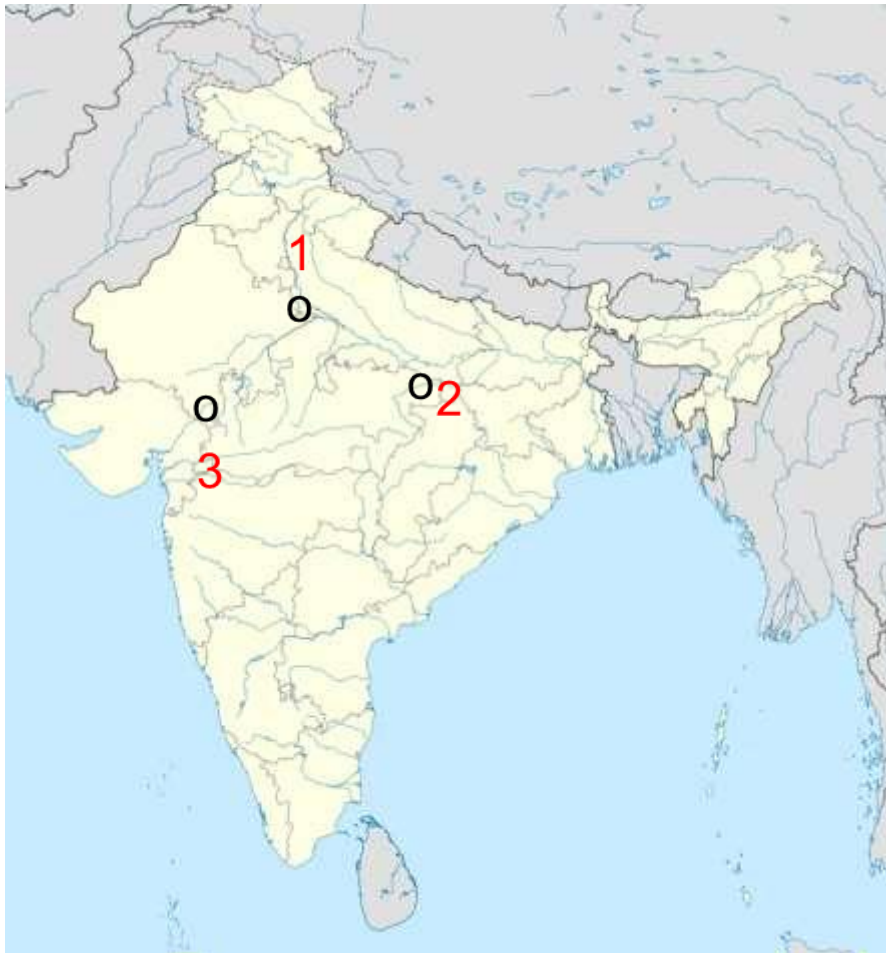
2. Земља Фрање
Јосифа

3. Новосибирска острва

4. Каљинградска острва



6. На исеченим фотографијама налази се једна од највећих знаменитости Индије. У ком граду обележеном на карти се налази та знаменитост?



1. Град 1

2. Град 2

3. Град 3



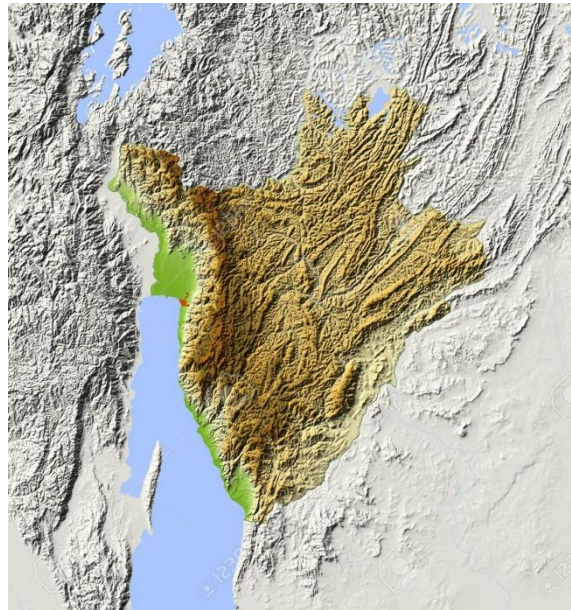
7. Од 2019. године град ГИТЕГА је главни град једне афричке државе. О којој држави је реч ?

1. Република Конго

2. Танзанија

3. Бурунди

4. Јужни Судан



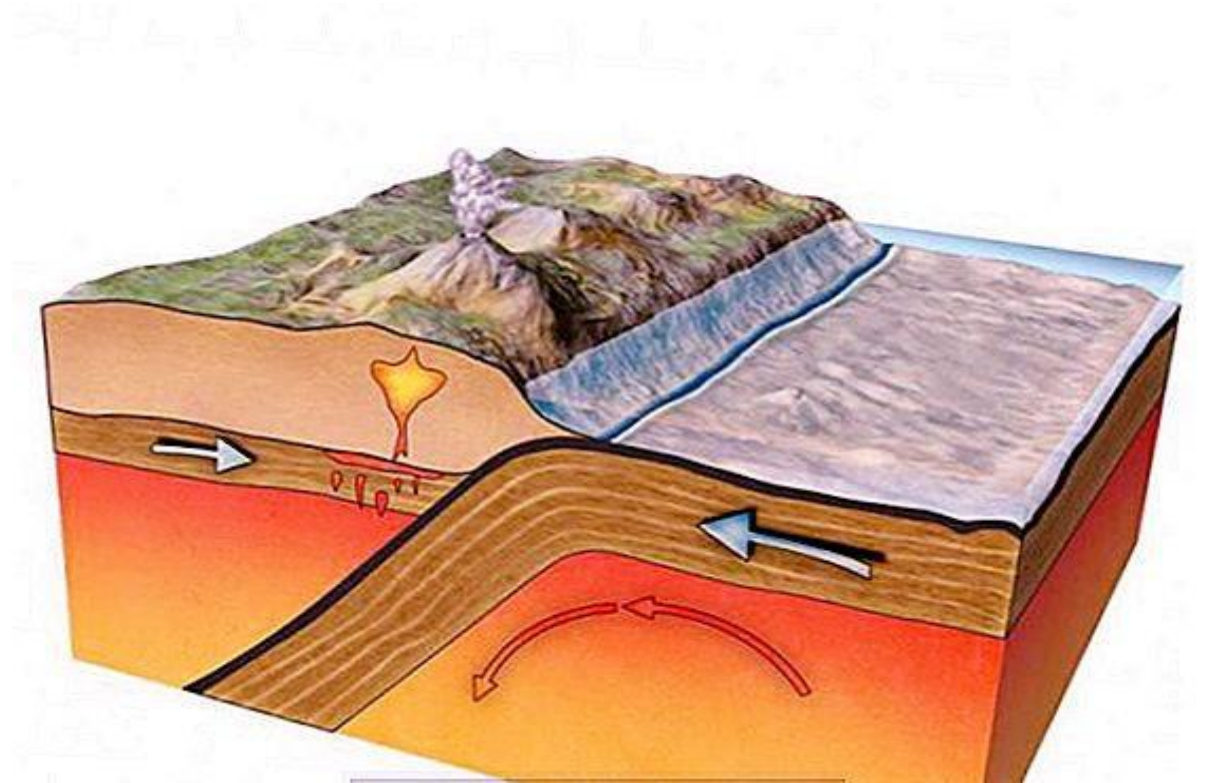
8. Који процес је приказан на слици?

1. Рифтовање

2. Колизија

3. Субдукција

4. Мимоилажење литосферних
плоча



9. Из ког правца претежно дувају ветрови за место приказано на слици?

1. Североисток

2. Северозапад

3. Југоисточно

4. Југозападно



10. На ком острву је снимљена фотографија ендемског стабла Крв змајева ?

1. Сокотра /Socotra/

2. Катар /Qatar/

3. Руб ал-Кхали /Rub al-Khali /

4. Синај /Sinai/




11. По ком истраживачу је назван најближи град на западној страни Викторијиних водопада ?

1. Васко да Гама
2. Бартоломео Дијас
3. Дејвид Ливингстон
4. Барак Лусака



12. Теночтитлан је био главни град Царства Астека. На острву ког језера се налазио ?

1. Тедески /Tedeschi/
2. Тезсатлипока /Tezcatlipoca/
3. Текскоко /Texcoco/
4. Тлалок /Tlaloc/



13. У ком месецу се традиционално одржава карневал у Рио Де Жанеиру?

1. Августу
2. Јуну
3. Фебруару
4. Новембру



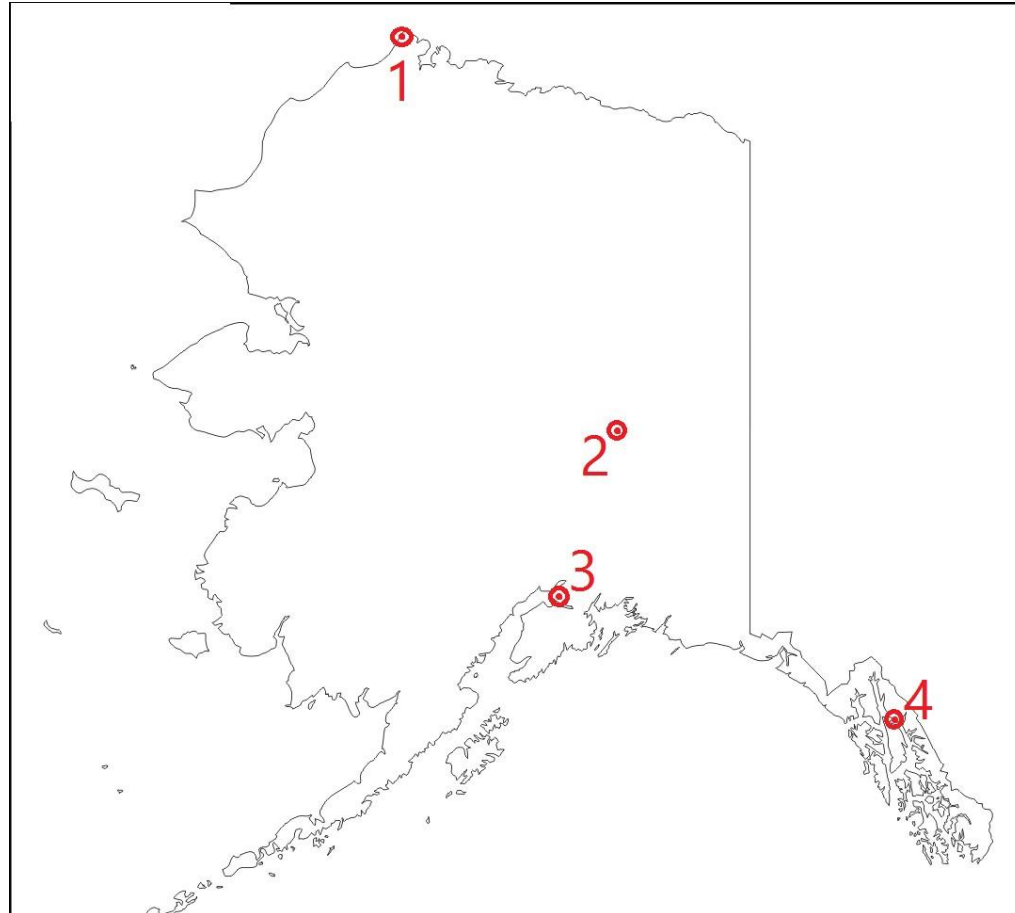
14. Погледајте слику. Која се тачка односи на најмногољуднији град Аљаске - Енкориџ?

1. 1

2. 2

3. 3

4. 4



15. Који феномен ће створити пустош у главном граду Судана?

1. Хабуб /Haboob/
2. Дарфур /Darfur/
3. Маестрал /Mistral/
4. Џанџавиди /Janjaweed/



16. На слици је приказан Кејптаун. Како се зове планина изнад града?

1. Мандела стена
/Mandela stoun/
2. Зума Хилл
/Zuma Hill/
3. Лејдисмитова висораван
/Ladysmith Plateau/
4. Стона планина
/Table Mountain/



17. На карти су означене земље, које су највећи произвођачи:

1. Кукуруза
2. Кафе
3. Јабука
4. Пшенице



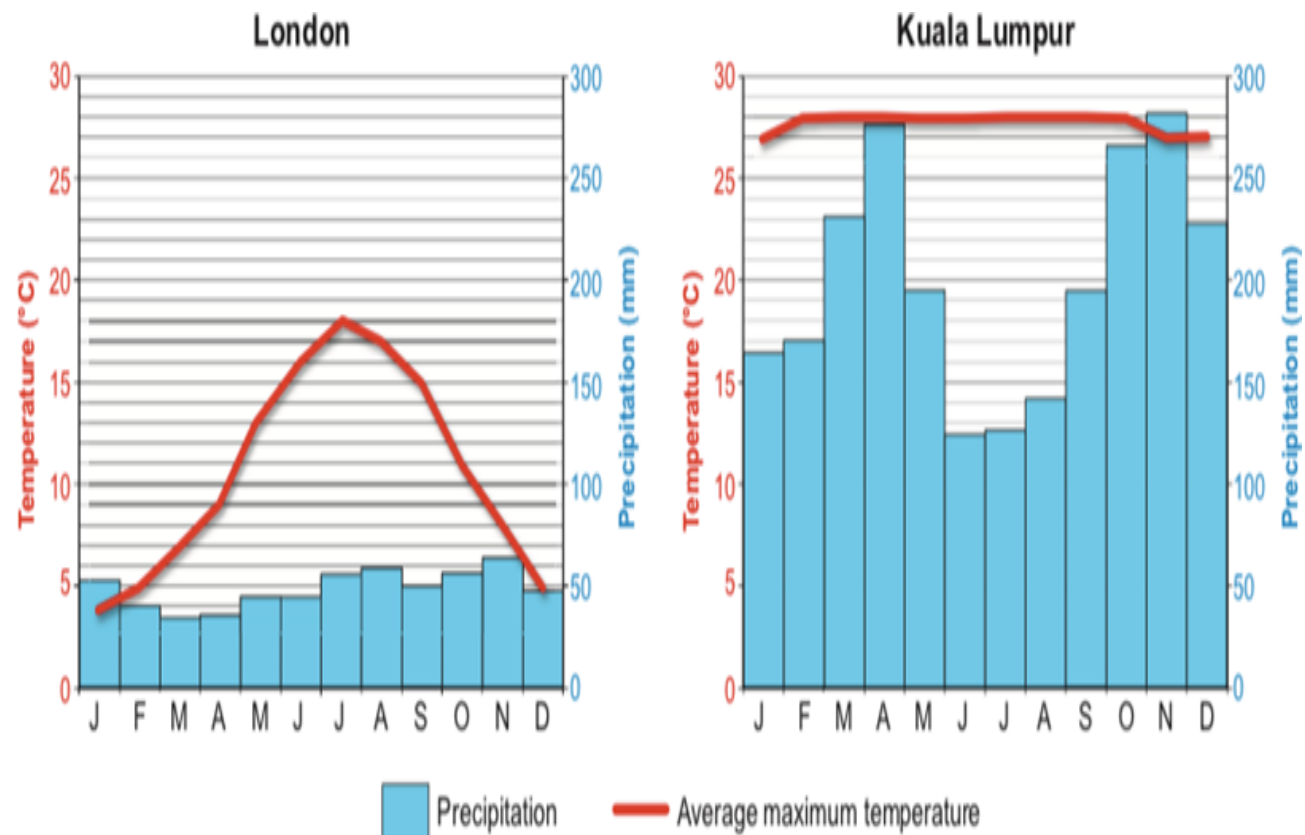
18. На основу графикана одреди који месец има највише просечних падавина у Куала Лумпуру?

1. Мај

2. Новембар

3. Октобар

4. Април



19. Експеримент инспирисан радом...



1. Плинија

2. Птоломеја

3. Ератостена

4. Хумболта

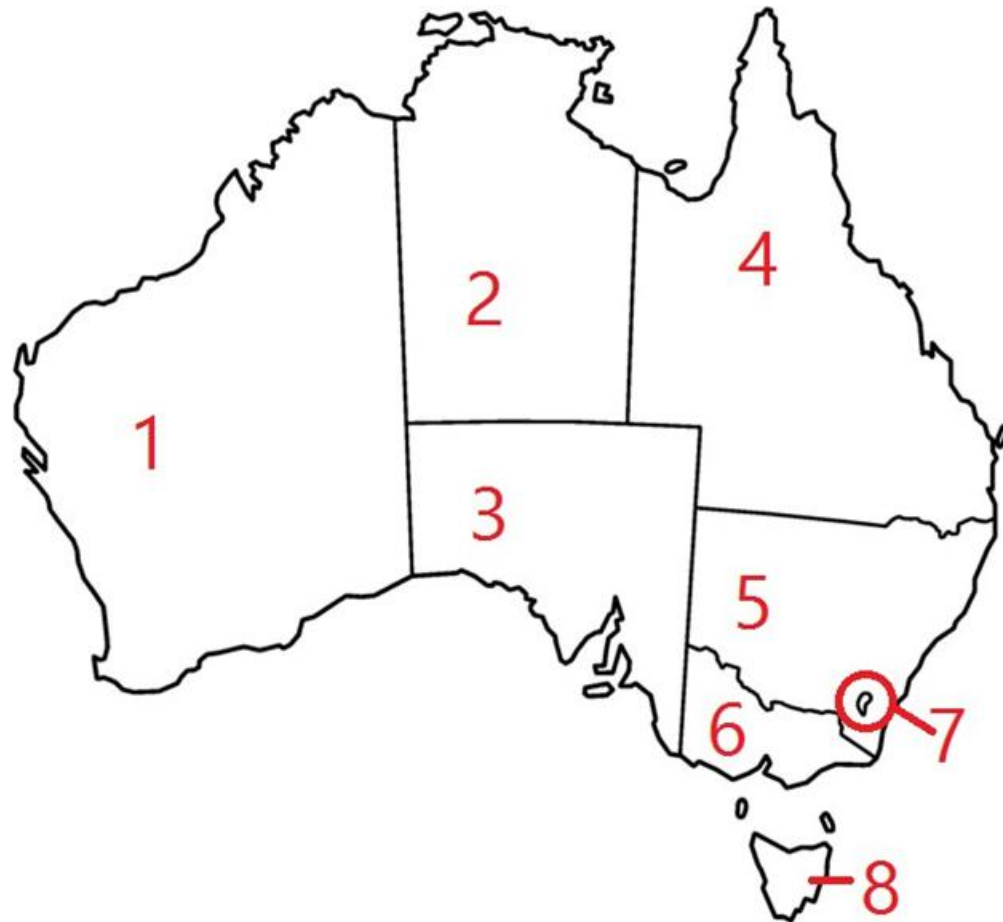
20. Коју од означених држава или територија бисте морали да посетите да бисте видели Сиднеј?

1. 3

2. 4

3. 5

4. 6



21. Који је главни град Крима?

1. Севастопољ
2. Симферопољ
3. Јалта
4. Гурзуф



22. На фотографији је син некадашњег поглавице племена:

1. Јоруба
2. Кикују
3. Хоса
4. Тембу



23. На слици је приказан процес:

А) Салинизације

Б) Транспирације

В) Луминисценције

Г) **Еутрофикације**



24. На којој слици видимо најсевернију тачку Европе Рт Нордкап?

заокружи :

1

2

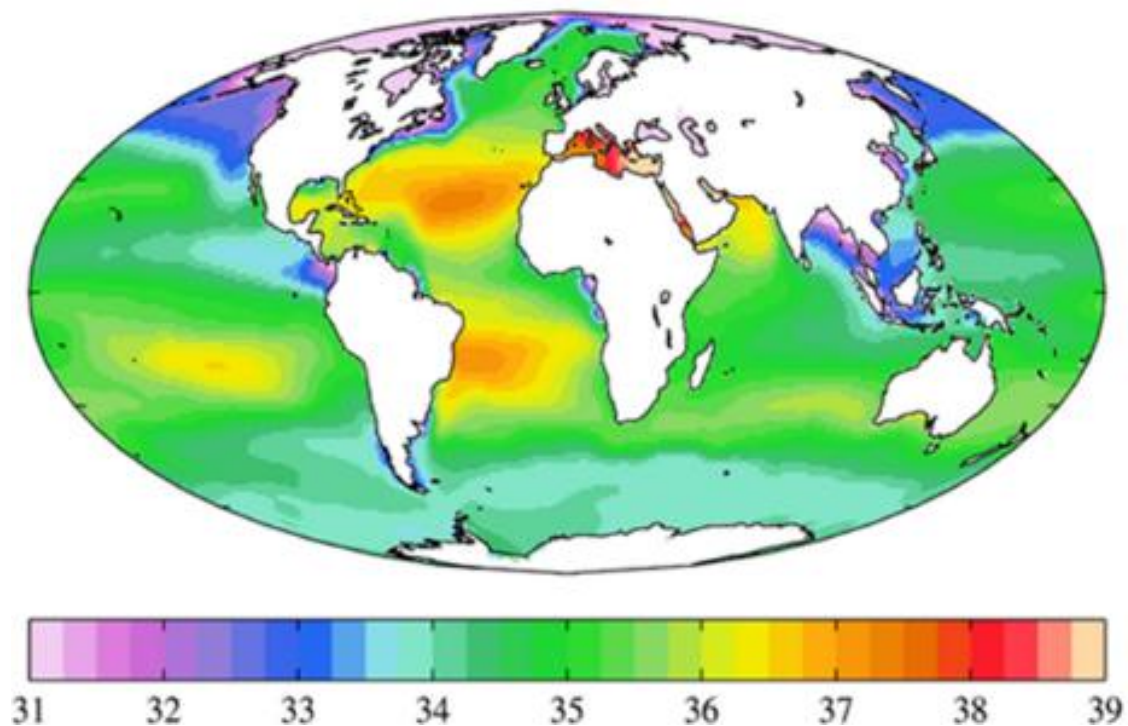
3

4



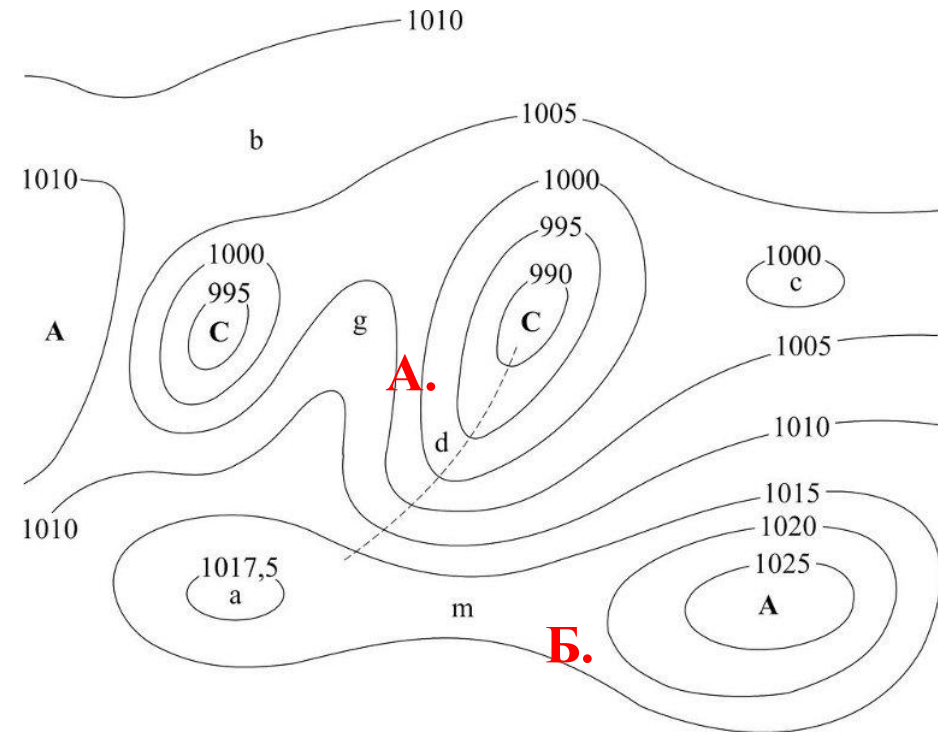
25. Приложена карта приказује:

1. Изобаре
2. Изонете
3. Изохијете
4. **Изохалине**



26. На приложеној карти одреди правац дувања ветра:

1. Од тачке А према тачки Б
2. Од тачке Б према тачки А
3. Ветар ће дувати у оба правца
4. Ветра неће бити



27. Избаци уљеза.

1. А

2. Б

3. В

4. Г

А



Б



В

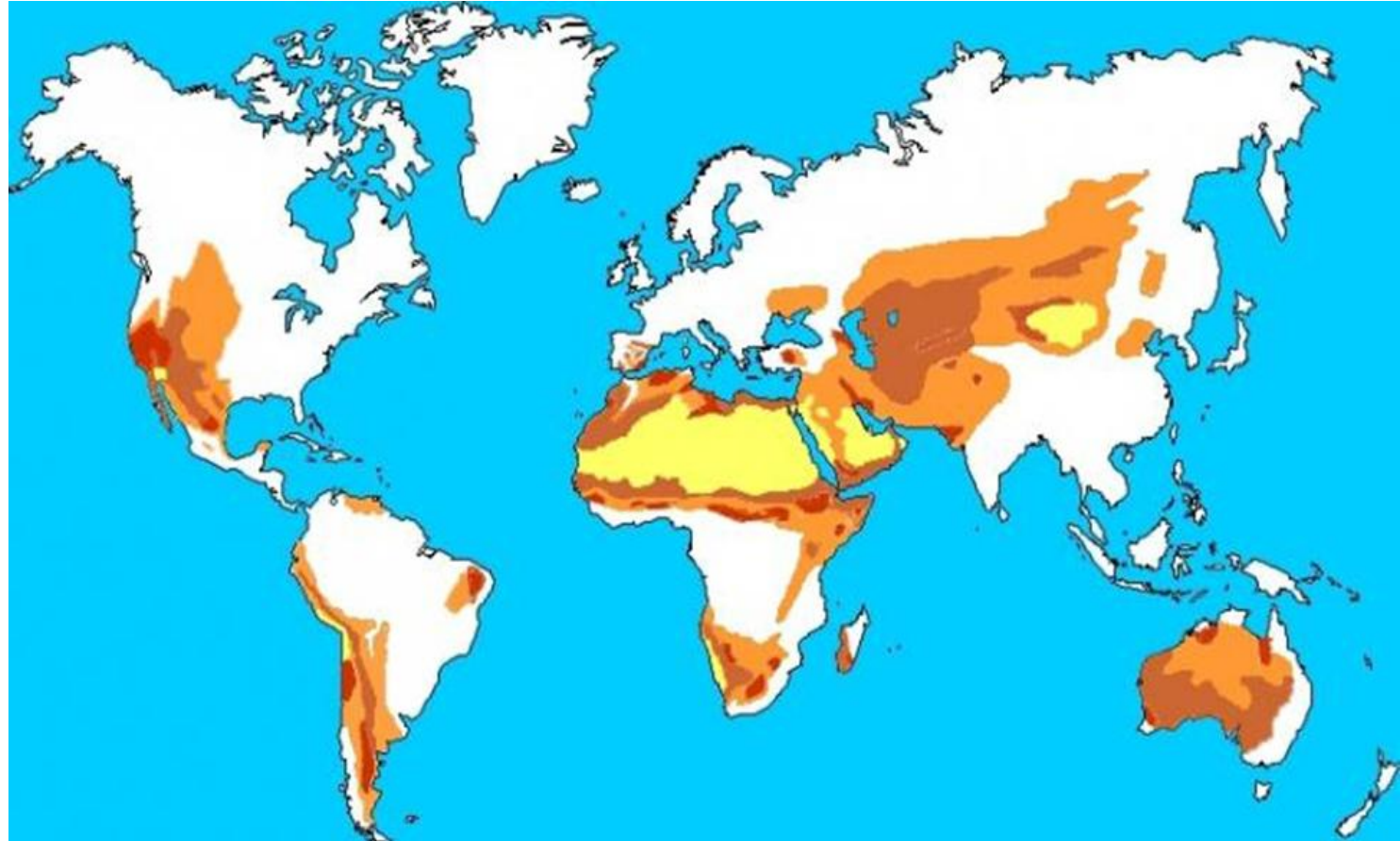


Г



28. Процес на слици резултат је:

1. Јакe вулканске и земљотресне активности
2. Миграције становништва и животиња
3. Људске активности и глобалне климатске промене
4. Свакодневних падавина током године



29. Животиња са слике насељава подручје:

1. Анда

2. Алпа

3. Тибета

4. Кавказа



30. Избаци уљеза.

1. А

2. Б

3. В

4. Г



31. Избаци уљеза.

1. А


2. Б

3. В

4. Г

Слике Б, В, Г су
везане за
Неготин.

А



Б



В

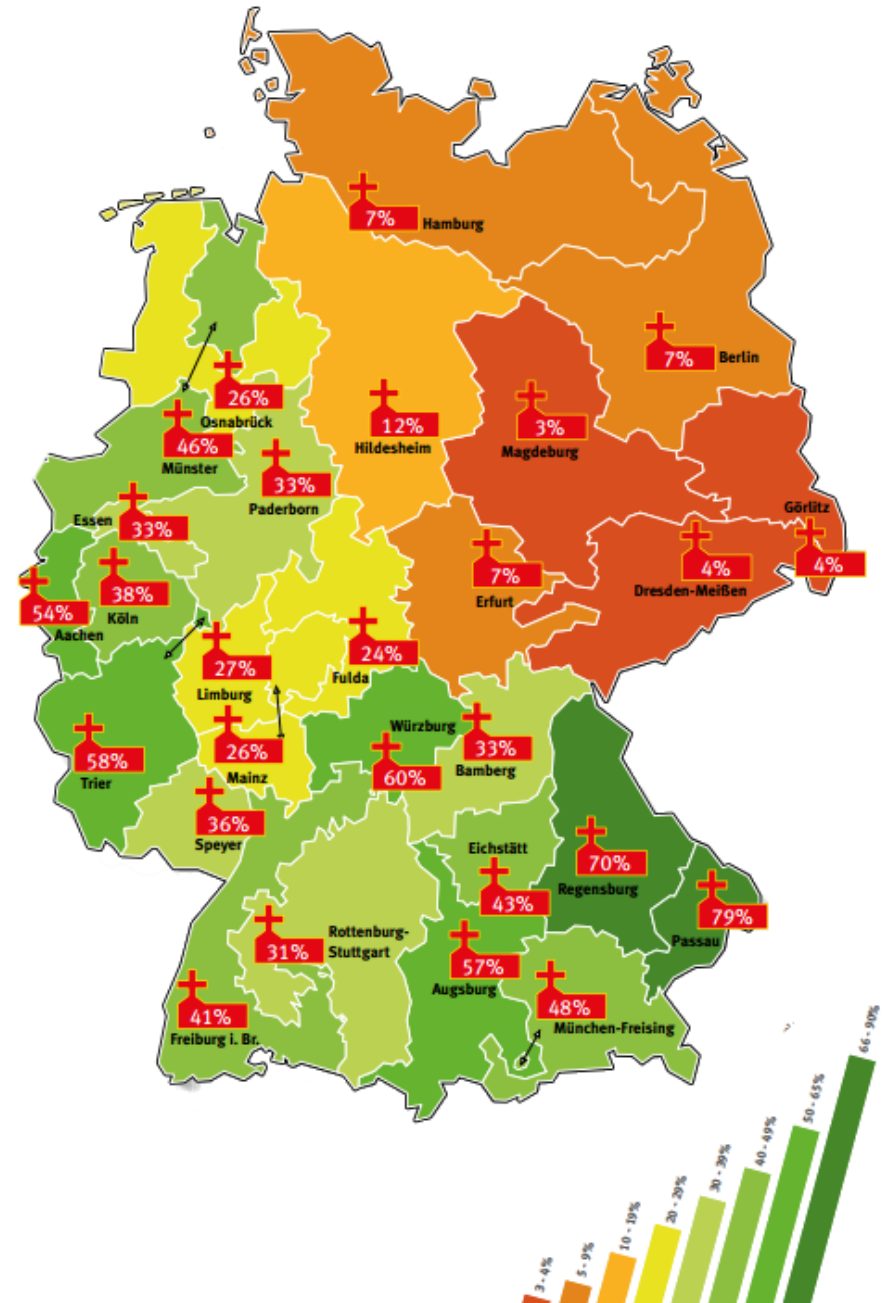


Г



32. На карти Немачке је приказан:

1. процентуални удео протестаната
2. процентуални удео католика
3. процентуални удео атеиста
4. процентуални удео православаца



33. Избаци улеза:

А



Б



1. А

2. Б

В



Г

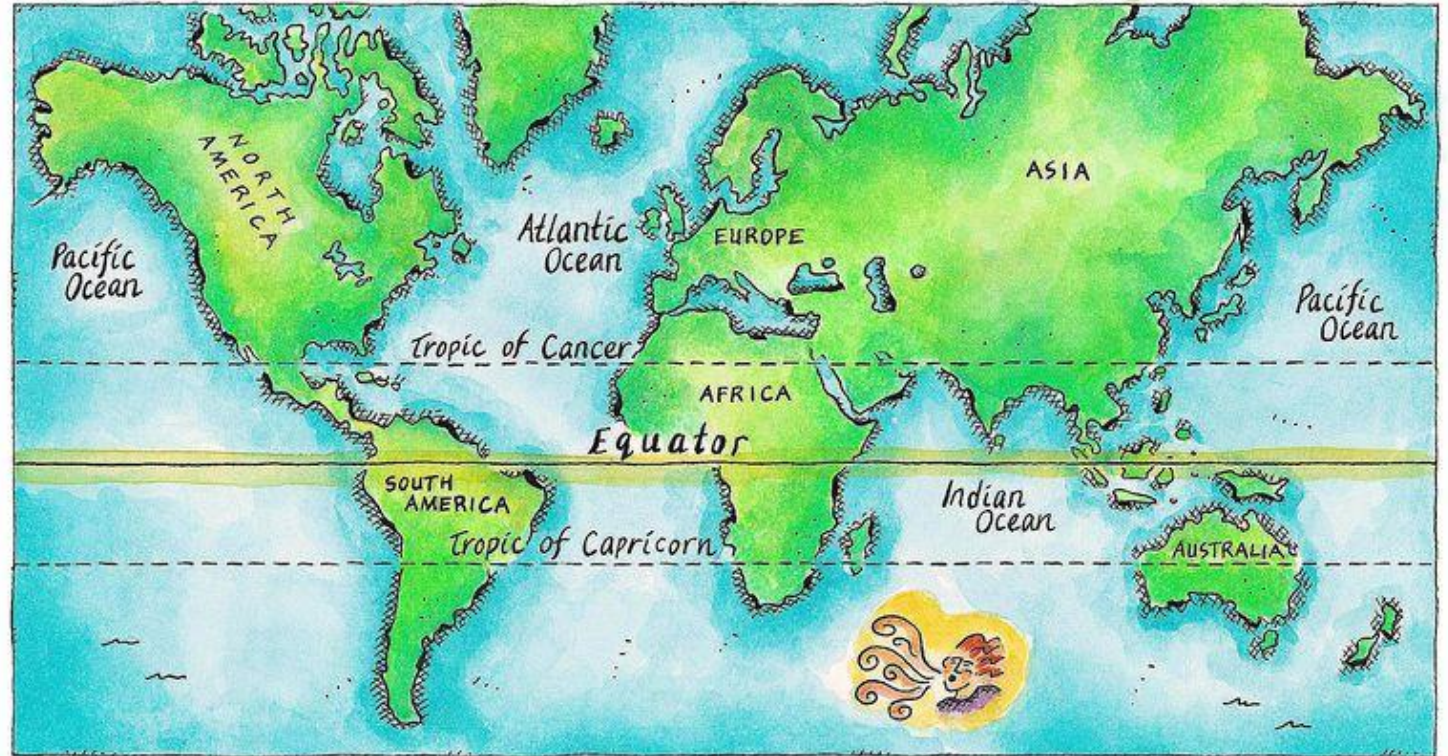


3. В

4. Г

34. Коју од наведених држава не пресеца екватор?

1. Индонезију
2. Уганду
3. Колумбију
4. Централноафричку Републику



35. Приказане су новчанице следећих валута (азбучним редом):

А



Б



В



Г



1. аустралијски долар, бахреински динар, мађарска форинта, турска лира

2. аустралијски долар, швајцарски франак, кувајтски динар, мађарска форинта

3. аустралијски долар, швајцарски франак, ирачки динар, мађарска форинта

36. Краљев дан је национални празник који се 27. априла сваке године слави у:

1. Белгији
2. Данској
3. Луксембургу
4. Холандији



37. На којој слици је приказан фолклорни плес Кашуба?

1. А

2. Б

3. В

4. Г




38. Који од следећих јапанских градова се не налази на острву Хоншу?

1. Токио
2. Осака
3. Нагасаки
4. Кјото




39. Река на слици се на крају улива у:

1. Средоземно море
2. Балтичко море
3. Каспијско море
4. Аралско море



40. У ком је од следећих градова је најзаступљенији Хинди језик који користе локални становници?

1. Ченај
2. Коломбо
3. Бангалор
4. Делхи



KPAJ