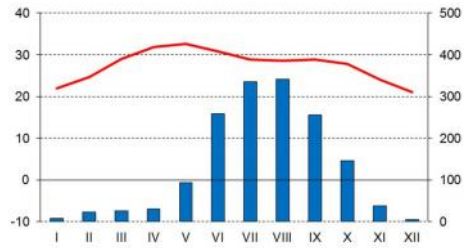


# **НГО 2021 – РЕПУБЛИЧКИ НИВО**

**Писани тест  
- одговори -**

температура °C

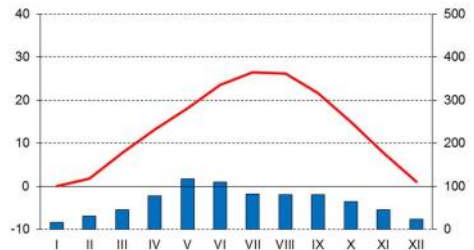
падавине (mm)



Катак

20°29'N, 85°52'E

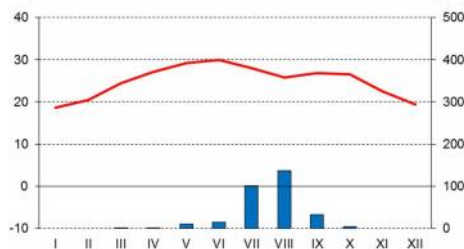
*ПИРИНАЧ*



Вичита

37°39'N, 97°25'W

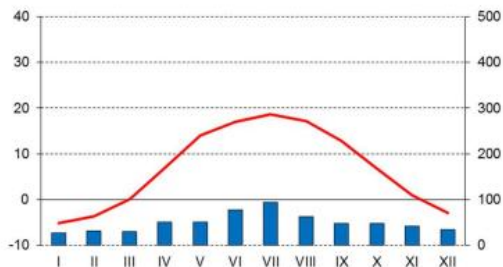
*ПШЕНИЦА*



Ал Фашир

13°38'N, 25°21'E

*ПРОСО*



Пинск

52°07'N, 26°08'E

*ЛАН*

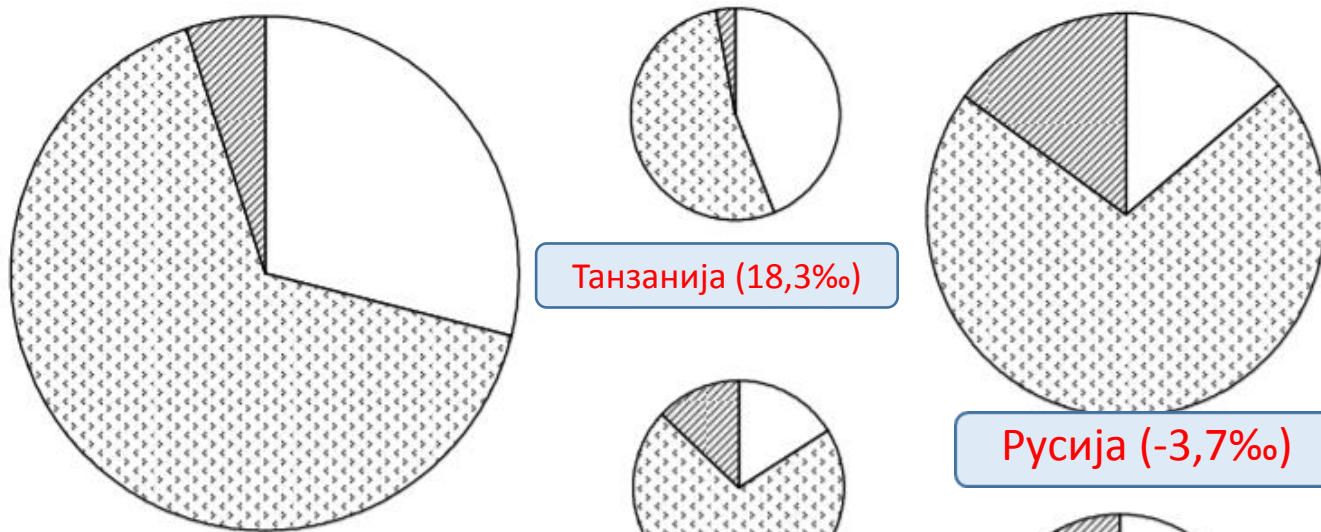
Задатак  
1.

**Повежи клима дијаграм  
са биљном културом:**

ПШЕНИЦА,  
ПИРИНАЧ,  
ПРОСО,  
УЉЕВИТА ПАЛМА,  
ЛАН

Упиши одговоре у  
празне предвиђене  
правоугаонике  
за одговоре.

*4 x 1 поен*



Дијаграми представљају старосну структуру становништва изабраних држава у 2006. години (величина дијаграма одговара броју становника те државе).

**1. Међу понуђеним државама одабери оне које су приказане на дијаграмима уписујући назив испод дијаграма.**

Алжир

Индонезија

Пољска

Русија

Швајцарска

Тајланд

Танзанија

Украјина

**2. Свакој држави додајте стопу природног прирастаја.**

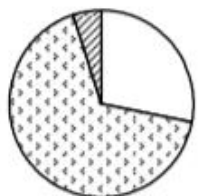
*-6,0‰, -3,7‰, 0,0‰, 4,3‰, 6,8‰, 12,2‰, 14,1‰, 18,3‰*

Индонезија (14,1%)

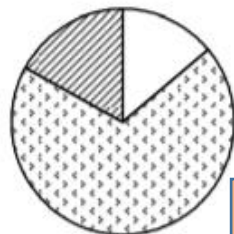
Пољска (0,0%)

Русија (-3,7%)

Тајланд (6,8%)



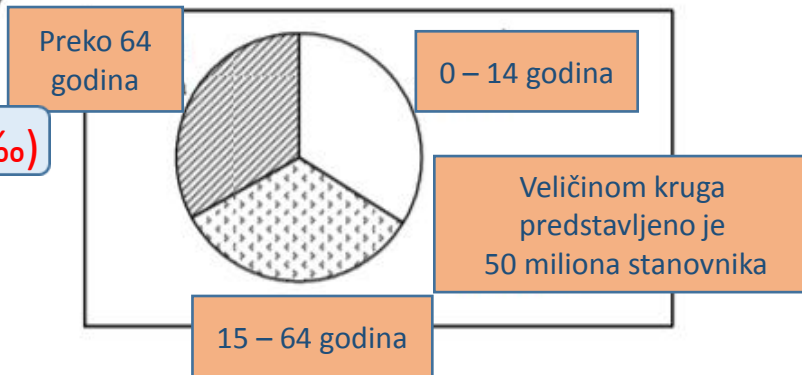
Алжир (12,2%)



Украјина (-6,0%)



Швајцарска (4,3%)

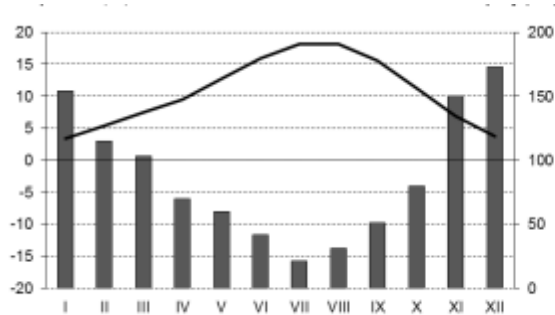


**8 x 1 поен**

Задатак 2.

температура °C

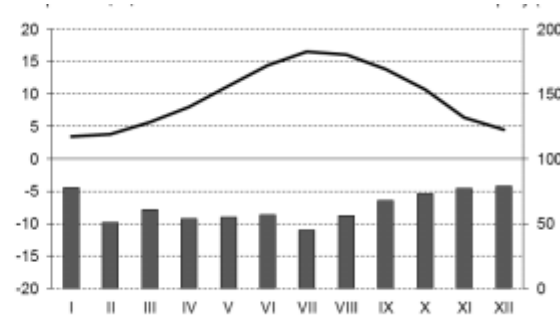
падавине (mm)



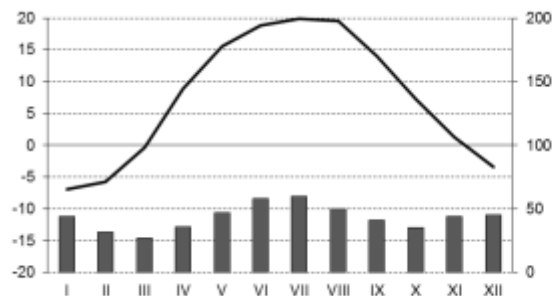
ВАНКУВЕР

температура °C

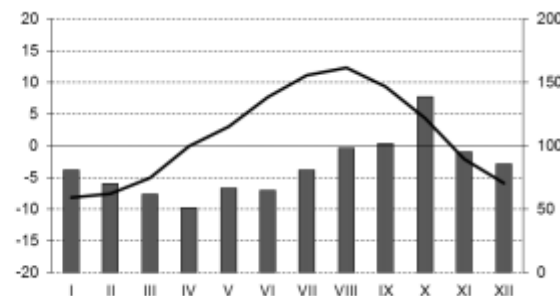
падавине (mm)



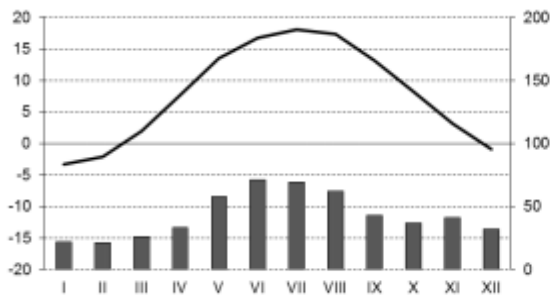
ЛОНДОН



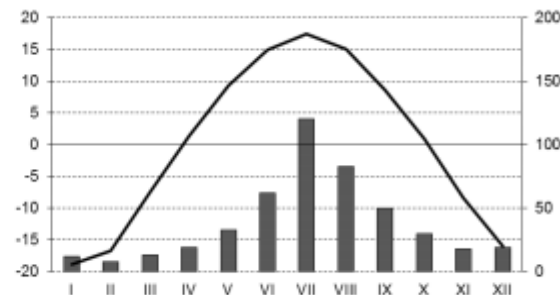
ХАРКОВ



ПЕТРОПАВЛОВСК  
КАМЧАТСКИ



ВАРШАВА



ИРКУТСК

Задатак  
3.

Повежи следеће градове са  
климадијаграмима:

ХАРКОВ (50°N 36°E)

ИРКУТСК (52°N 104°E)

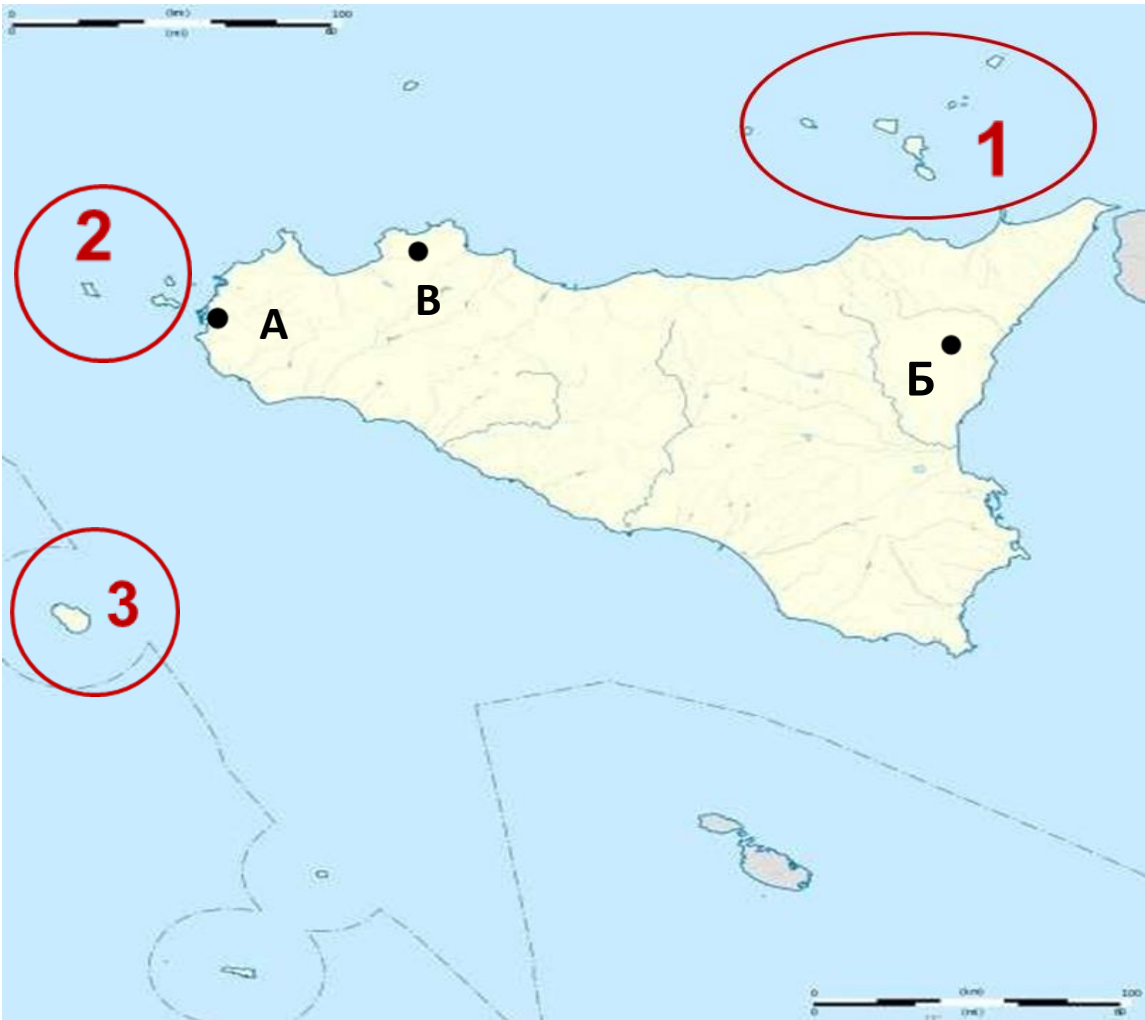
ЛОНДОН (52°N 0°)

ПЕТРОПАВЛОВСК КАМЧАТСКИ (53°N 159°E)

ВАНКУВЕР (49°N 123°W)

ВАРШАВА (52°N 21°E)

6 x 1 поен



Следећа три питања реши на основу приложене карте Сицилије на којој су црвеним круговима и бројевима означени острвски архипелази, а црним тачкама и словима градови.

**3 x 1 поен**

Задатак  
4.

1. Којим је словом означен град из којег најчешће полазе експедиције на Етну.

A

**B**

B

*/заокружи тачан одговор/*

2. Липарска острва означена су бројем:

**1**

2

3

*/заокружи тачан одговор/*

3. Којим словом је означен главни град Сицилије :

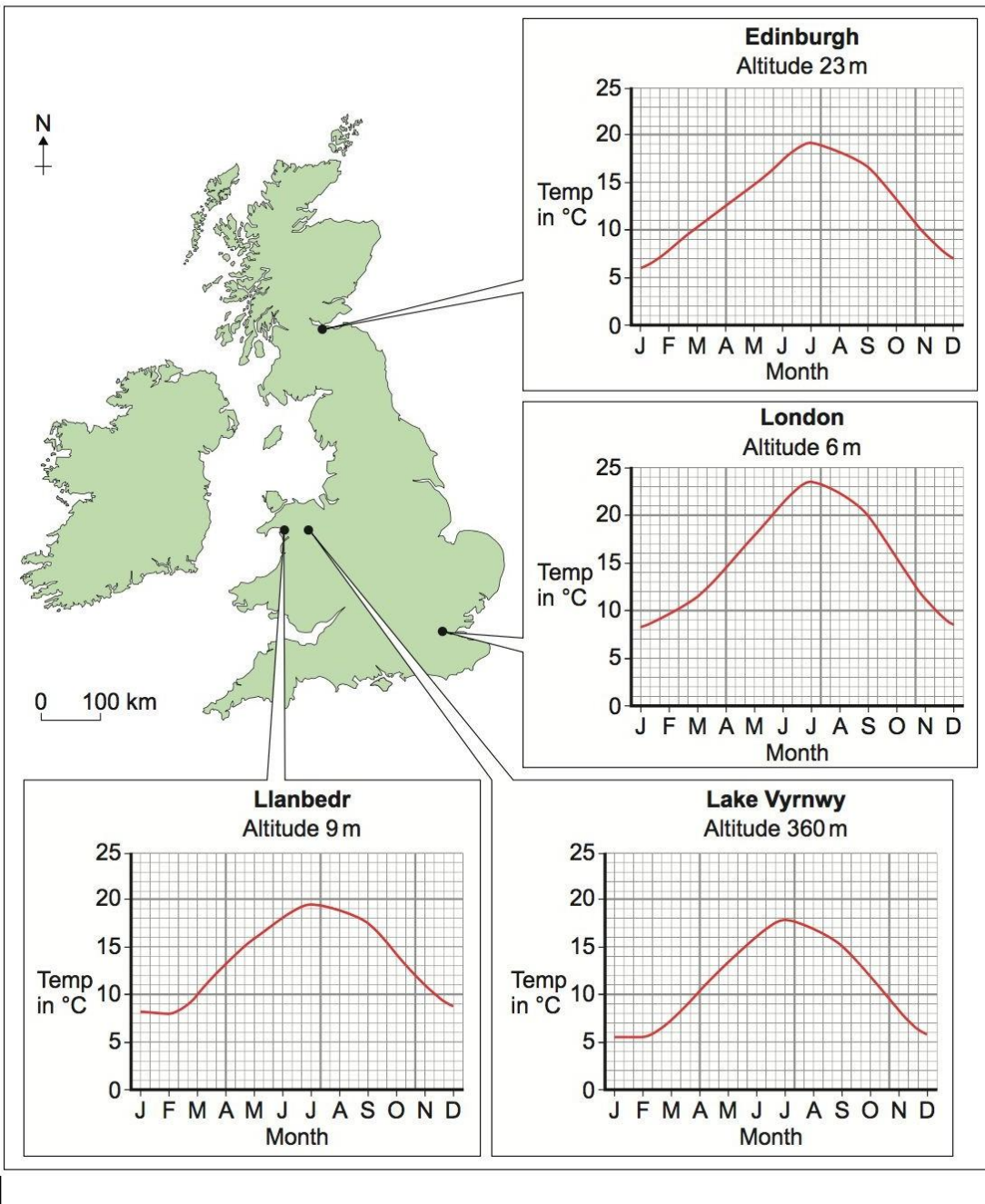
A

B

**B**

*/заокружи тачан одговор/*





На основу приказане мапе и дијаграма одговори на питања:

Задатак 5.

1. Која су два главна острва приказана на мапи?

1. **ИРСКА**      2. **ВЕЛИКА БРИТАНИЈА**      2 x 1 поен

2. Која су два града приказана на мапи главни градови?

1. **ЛОНДОН**      2. **ЕДИНБУРГ**      2 x 1 поен

3. Упиши колика је просечна температура за сваки од наведених месеци у наведеним градовима:

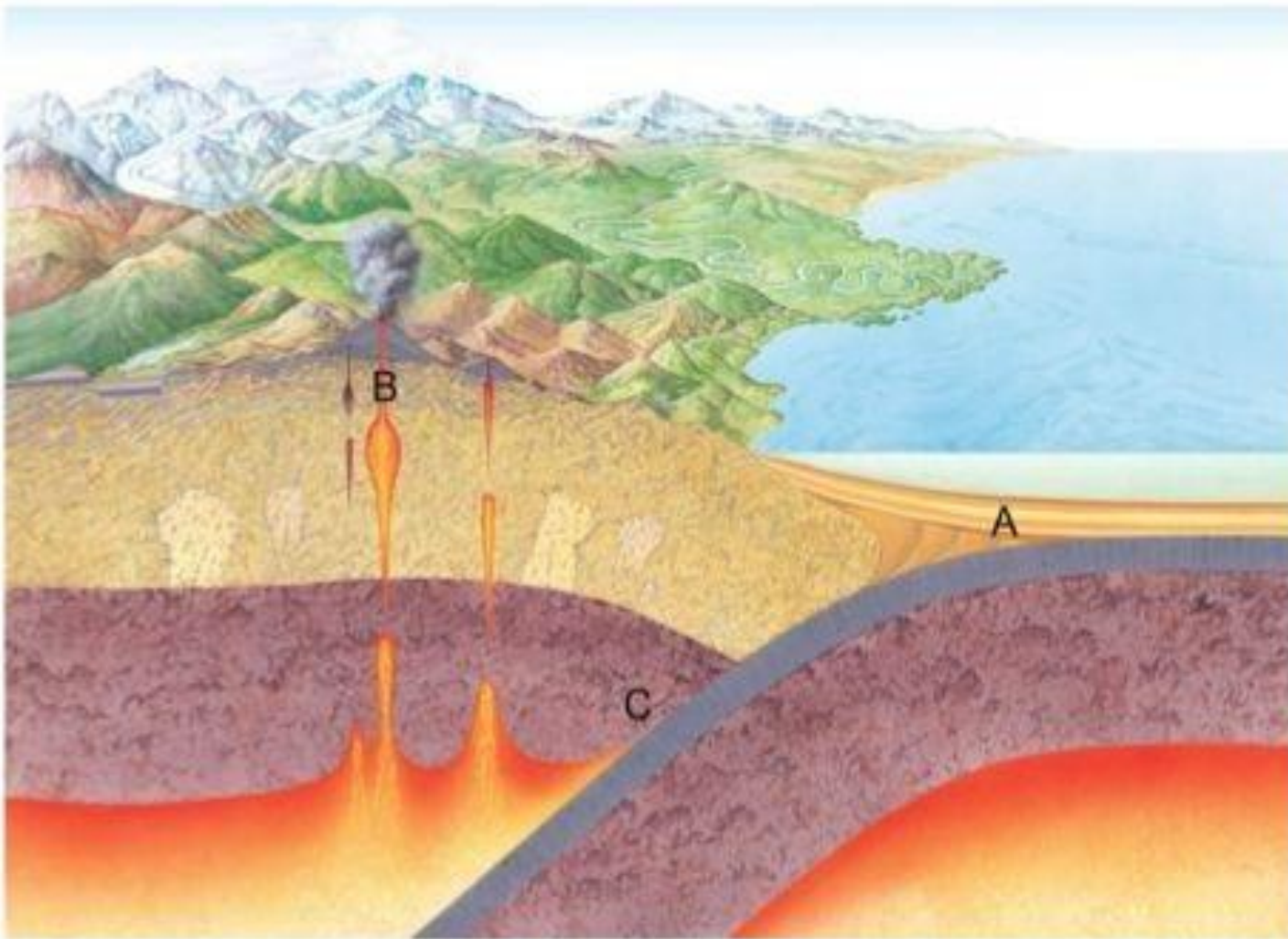
Језеро Вирнви /Lake Vyrnwy: Април **10**      Август **17**      Децембар **6**

Лондон: Март **11**      Септембар **20**      Новембар **11**  
6 x 1 признати +/- 1 степен

4. Разлог због којег су просечне температуре у Единбургху толико ниже од температуре у Лондону?

Единбург је северније.      1 поен

Задатак  
6.



На основу слике одговори на питања:

1. Формирање којих стена је приказано у тачки А?

Седиментне стене

2. Формирање којих стена је приказано у тачки Б?

Метаморфне стене

3. Формирање којих стена је приказано у тачки Ц?

Магматске стене

**3 x 1 поен**

# Наведи појмове означене на слици од 1 до 5.

Задатак  
7.

1. Хрид/Остењак

2. Пећина/Таласна поткапина

3. Прераст/Прозорац/Камени мост

4. Платформа/Абразивна тераса

5. Хрид/Остењак

*5 x 1 поен*

