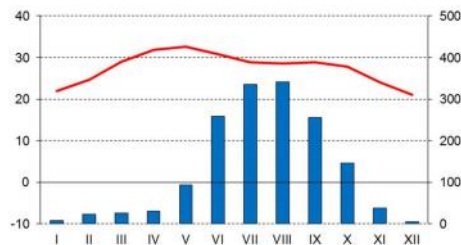


Írásbeli teszt
– válaszok –

NEMZETI FÖLDRAJZI OLIMPIA 2021
KÖZTÁRSASÁGI NÍVÓ

hőmérséklet °C

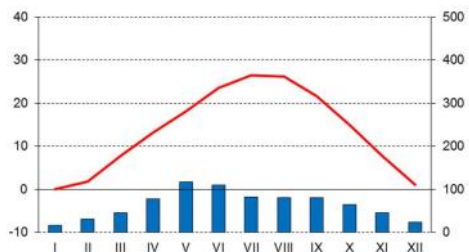
csapadékok (mm)



Kattak

é.sz. 20°29', k.h. 85°52'

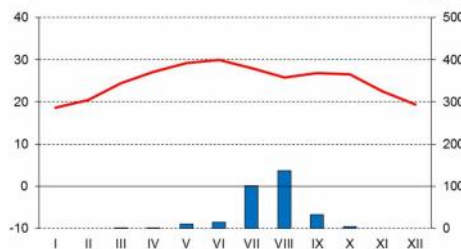
RIZS



Wichita

é.sz. 37°39', ny.h. 97°25'

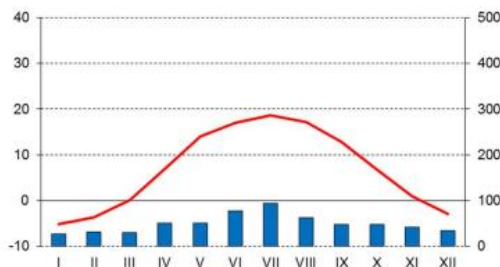
BÚZA



Al Fasir

é.sz. 13°38', k.h. 25°21'

KÖLES



Pinszk

é.sz. 52°07', k.h. 26°08'

LEN

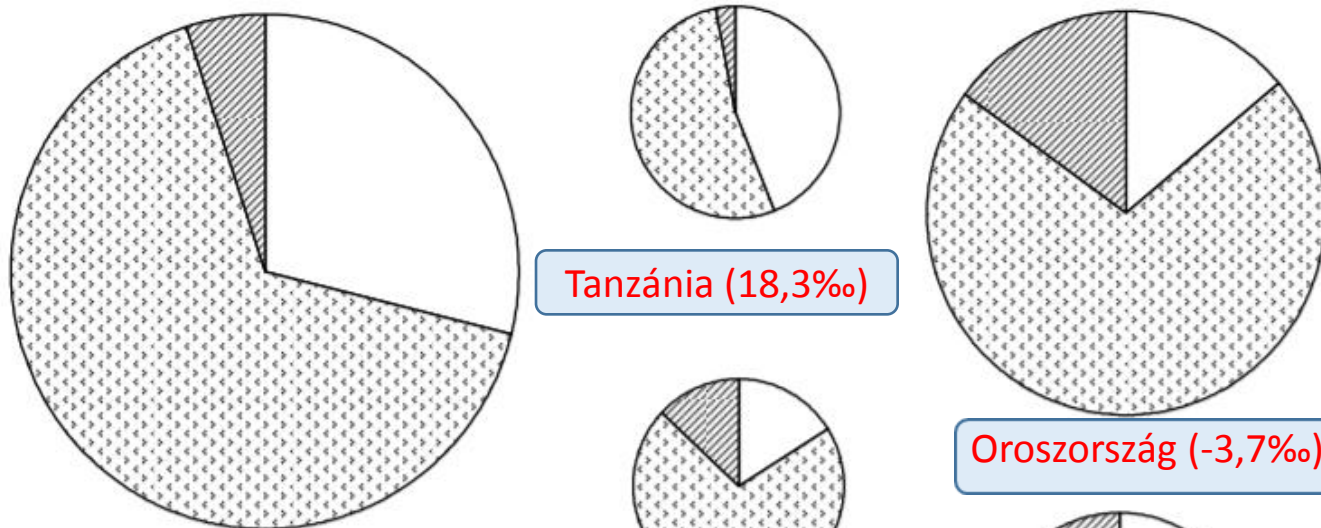
1.
feladat

**Kösd össze a klímadiagramot
a megfelelő természetett
növénnel:**

BÚZA
RIZS
KÖLES
OLAJPÁLMA
LEN

Írd a válaszokat az
üres keretekbe!

4 x 1 pont



A diagramok kiválasztott országok 2006. évi lakosságszerkezetét mutatják (a diagramok nagysága az országok lakosságának nagyságát mutatják).

1. A felsorolt országok közül válaszd ki a diagramokkal jelölteket, és írd nevüket a nekik megfelelő diagram alá!

Algéria

Indonézia

Lengyelország

Oroszország

Svájc

Thaiföld

Tanzánia

Ukrajna

2. Mindegyik államhoz rendeld a neki megfelelő természetes szaporodást!

-6,0‰, -3,7‰, 0,0‰, 4,3‰, 6,8‰, 12,2‰, 14,1‰, 18,3‰

Indonézia (14,1%)

Lengyelország (0,0%)

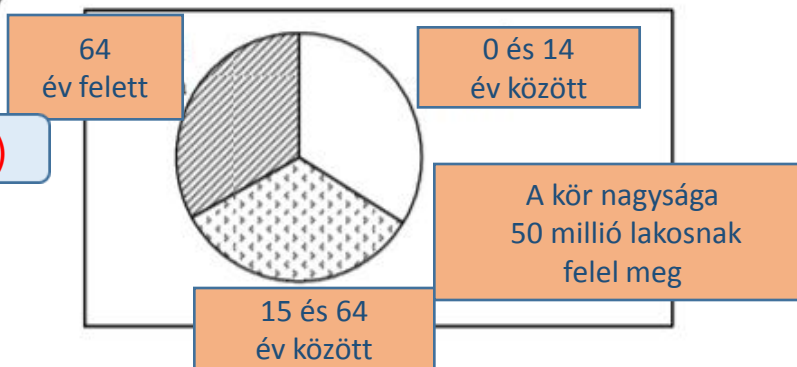
Oroszország (-3,7%)

Thaiföld (6,8%)

Algéria (12,2%)

Ukrajna (-6,0%)

Svájc (4,3%)

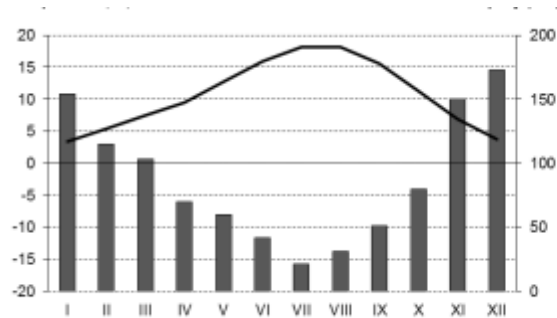


8 x 1 pont

2.
feladat

hőmérséklet °C

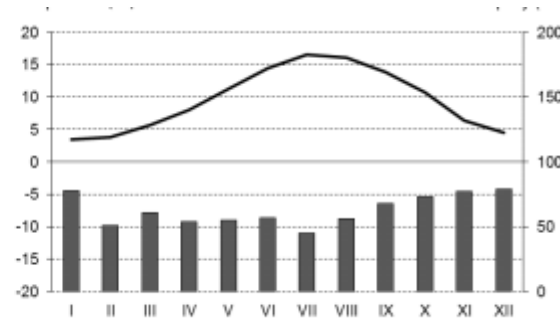
csapadékok (mm)



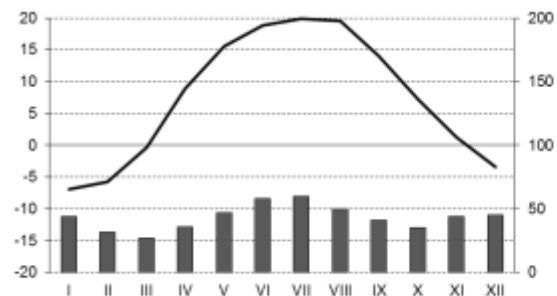
VANCOUVER

hőmérséklet °C

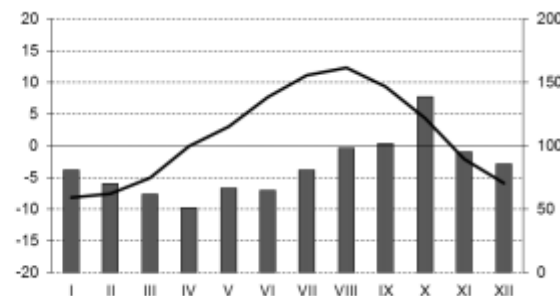
csapadékok (mm)



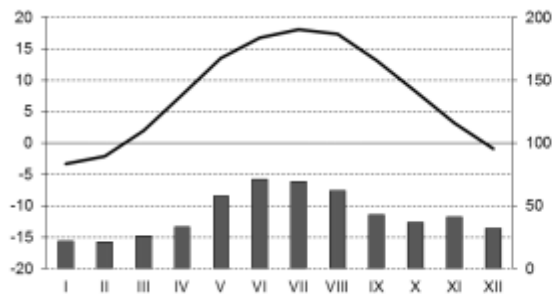
LONDON



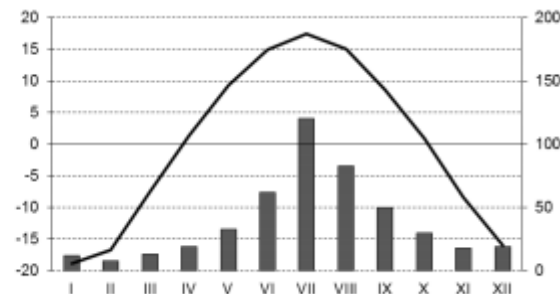
HARKIV v. HARKOV



PETROPALVOVSZK
KAMCSATSZKIJ



VARSÓ



IRKUTSZK

3.
feladat

Kösd össze a következő városokat a megfelelő klímadiagrammal!

HARKIV vagy HARKOV (é.sz. 50°, k.h. 36°)

IRKUTSZK (é.sz. 52°, k.h. 104°)

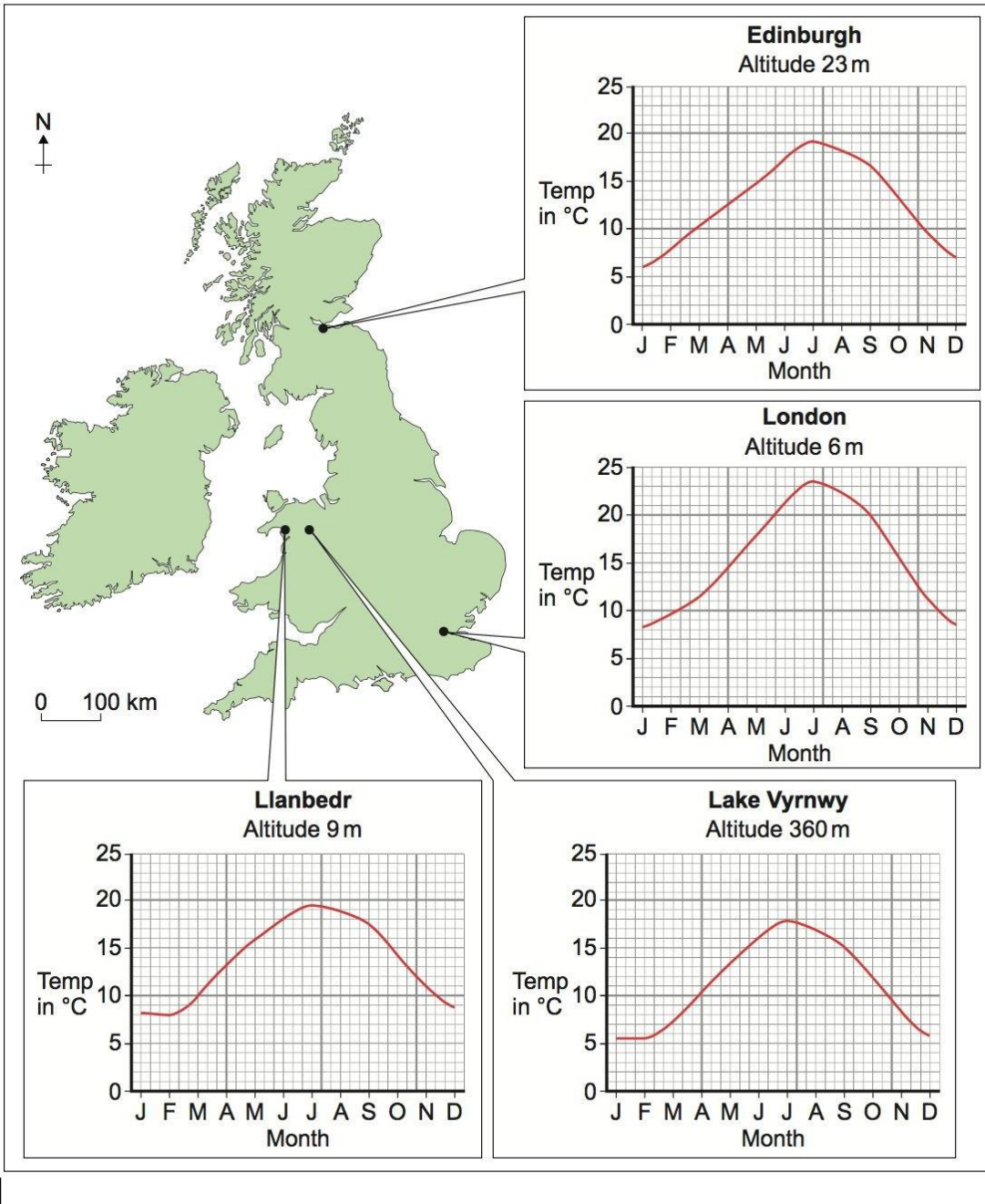
LONDON (é.sz. 52°, 0°)

PETROPAVLOVSZK KAMCSATSZKIJ (é.sz. 53°, k.h. 159°)

VANCOUVER (é.sz. 49°, ny.h. 123°)

VARSÓ (é.sz. 52°, k.h. 21°)

6 x 1 pont



Válaszolj a kérdésekre a mellékelt térkép és diagram segítségével!

1. A térképen melyik a két fő sziget?

1. ÍR-SZIGET (ÍRORSZÁG) 2. NAGY-BRITANNIA 2 x 1 pont

2. A térképen megjelölt városok közül melyik kettő főváros?

1. LONDON 2. EDINBURGH 2 x 1 pont

3. Írd a megjelölt hónapok átlaghőmérsékletének értékét a meghatározott városok szerint!

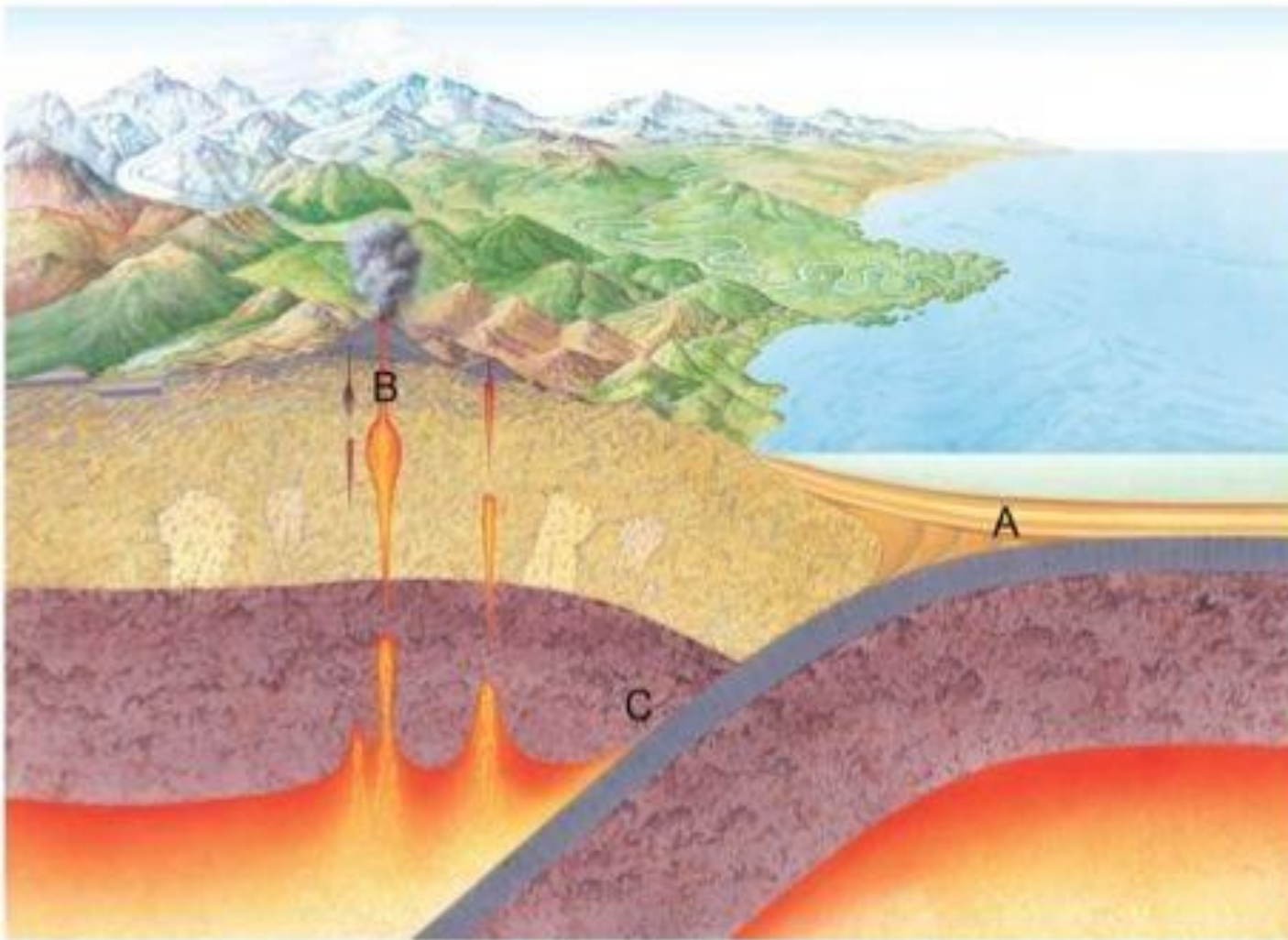
Vyrnwy-tó/Lake Vyrnwy: április 10. augusztus 17. december 6.

London: március 11. szeptember 20. november 11.
6 x 1 elismerni +/- 1 fokot

4. Mi az oka annak, hogy az átlaghőmérsékletek Edinburgh-ban annyira alacsonyabbak a Londonban mértékhez képest?

Edinburgh északibb fekvésű/helyzetű. 1 pont

6.
feladat



Válaszolj a kérdésekre a kép alapján!

1. Milyen kőzetek keletkezése van bemutatva az A pontban?

üledékes vagy szediment kőzetek

2. Milyen kőzetek keletkezése van bemutatva a B pontban?

átalakult vagy metamorf kőzetek

3. Milyen kőzetek keletkezése van bemutatva a C pontban?

magmás kőzetek

3 x 1 pont

Írd le a képen 1-től 5-ig jelölt domborzati formák nevét!

7.
feladat

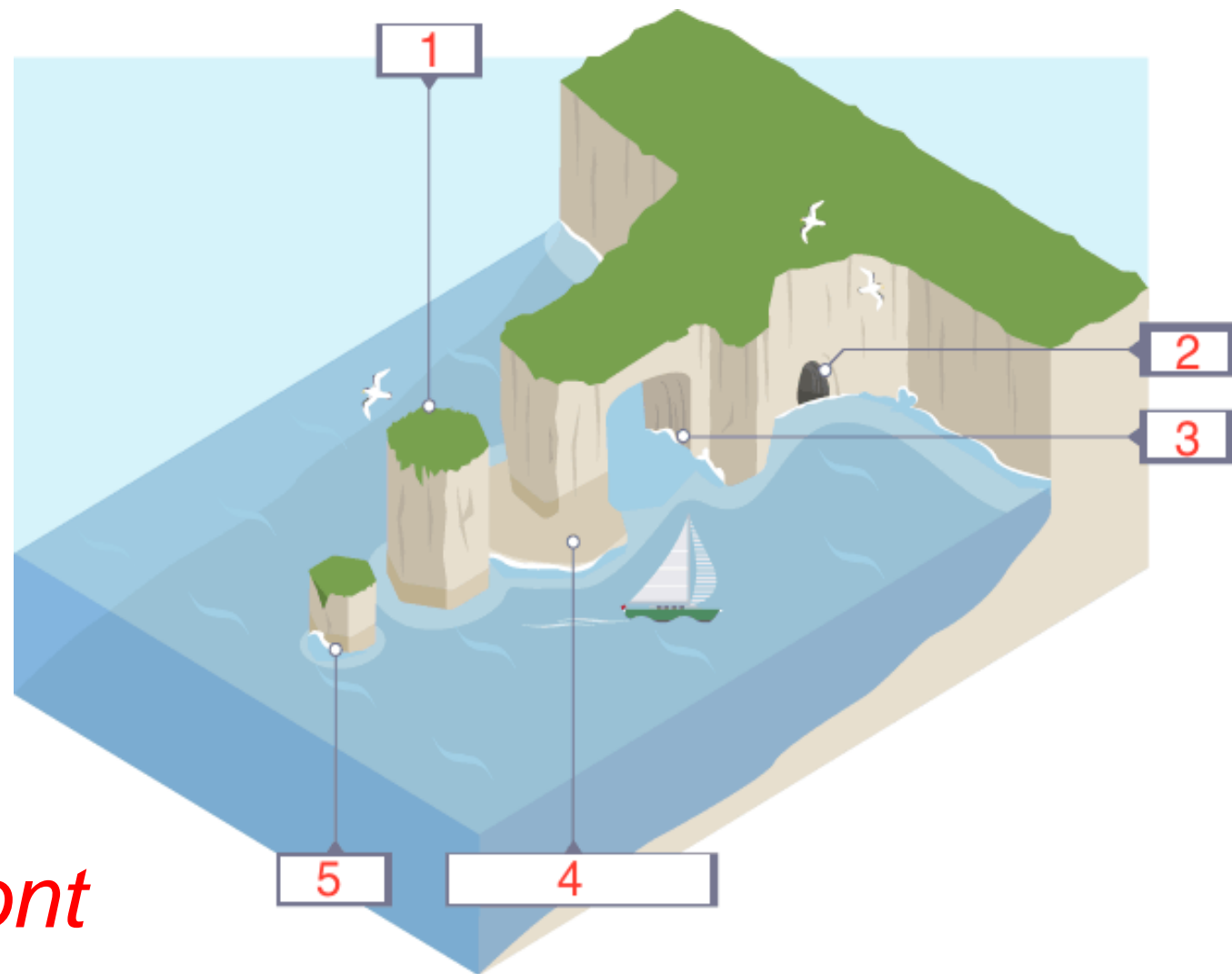
1. abráziós torony

2. abráziós barlang

3. abráziós kapu

4. abráziós terasz

5. abráziós tönk



5 x 1 pont