

МУЛТИМЕДИЈАЛНИ ТЕСТ

РЕГИОНАЛНИ НИВО

ОСНОВНА ШКОЛА

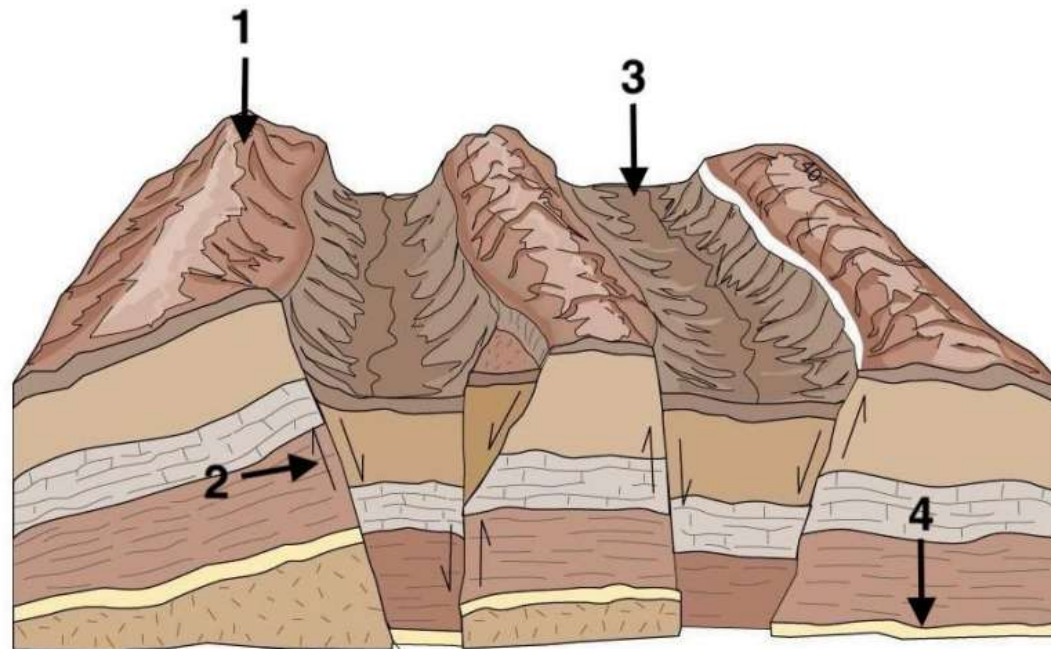
1. Који број на слици приказује хорст?

A) 1

Б) 2

В) 3

Г) 4



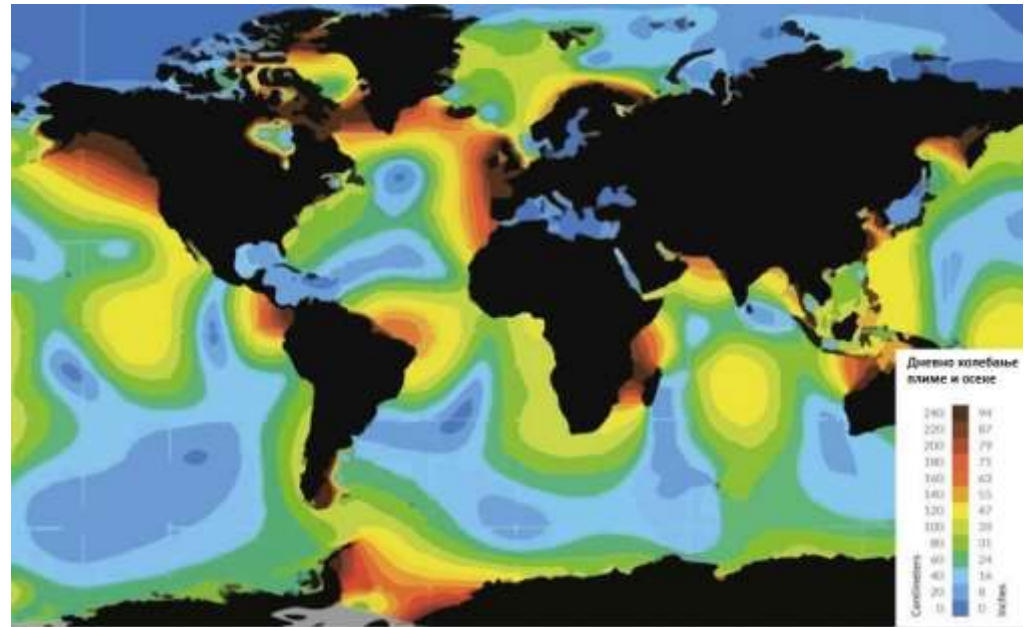
2. Према мапи, шта од наведеног има најнижи просечни дневни ниво осеке?

А. западна обала Мадагаскара

Б. Мексички залива

В. Фокландска острва

Г. западна обала Јужне Кореје




3. Која од следећих знаменитости се не налази у Москви?

А. Кремљ

Б. Храм Василија Блаженог

В. Лењинова гробница

Г. музеј Ермитаж



4. Који водопади на граници између Аргентине и Бразил се сматрају најширим водопадима на свету?

А. Викторијини водопади

Б. Водопад Лисине

В. Игуасу водопади

Г. Анђеоски водопад



5. Сва осим једног се сматрају афричким Великим језерима. Које језеро не припада овој групи?

А. Језеро Малави

Б. Језеро Викторија

В. Бајкалско језеро

Г. Језеро Тангањика



6. Који број на мапи означава подручје под утицајем француске колонизације?

A. 3

B. 4

B. 5

Г. 6



7. Ако је у Београду данас субота и тачно време 20:00 часова, који је дан и колико часова је у Хонг Конгу?

А. Дан недеља, време 2:00

Б. Дан петак, време 2:00

В. Дан недеља, време 13:00

Г. Дан субота, време 21:00



8. Еолски облици рељефа су они који су настали радом...

А. таласа

Б. река

В. клизишта

Г. ветра



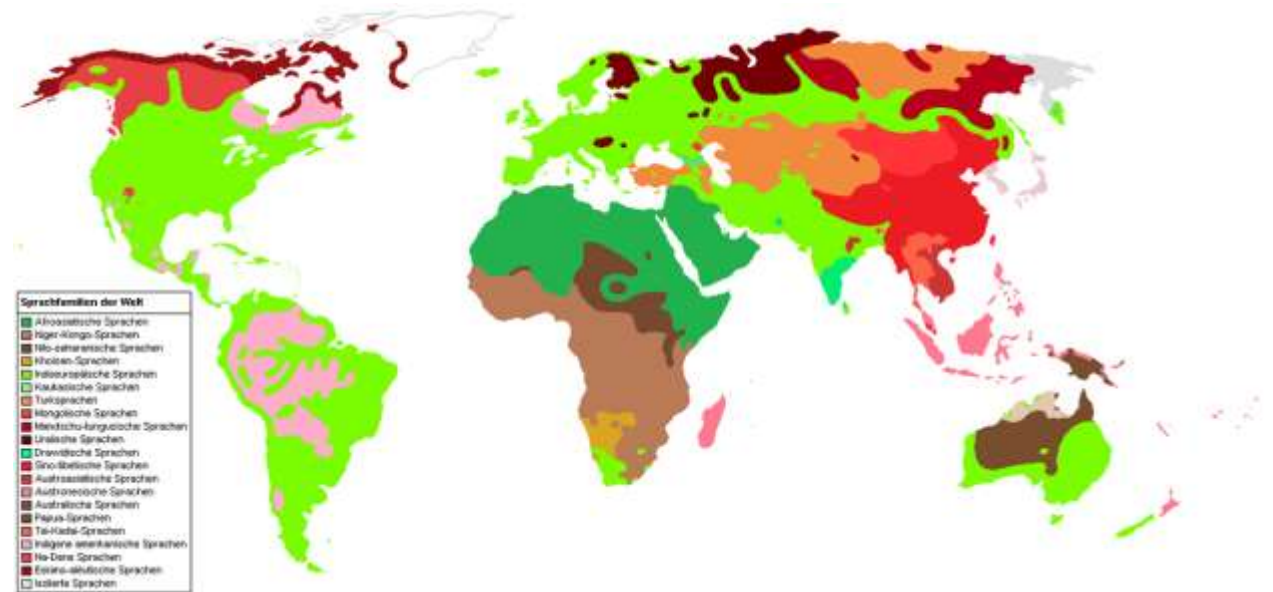
9. Која језичка породица има највећи број говорника у свету?

А. Афро-азијска

Б. Нило-сахарска

В. Таи-кадаи

Г. Индоевропска



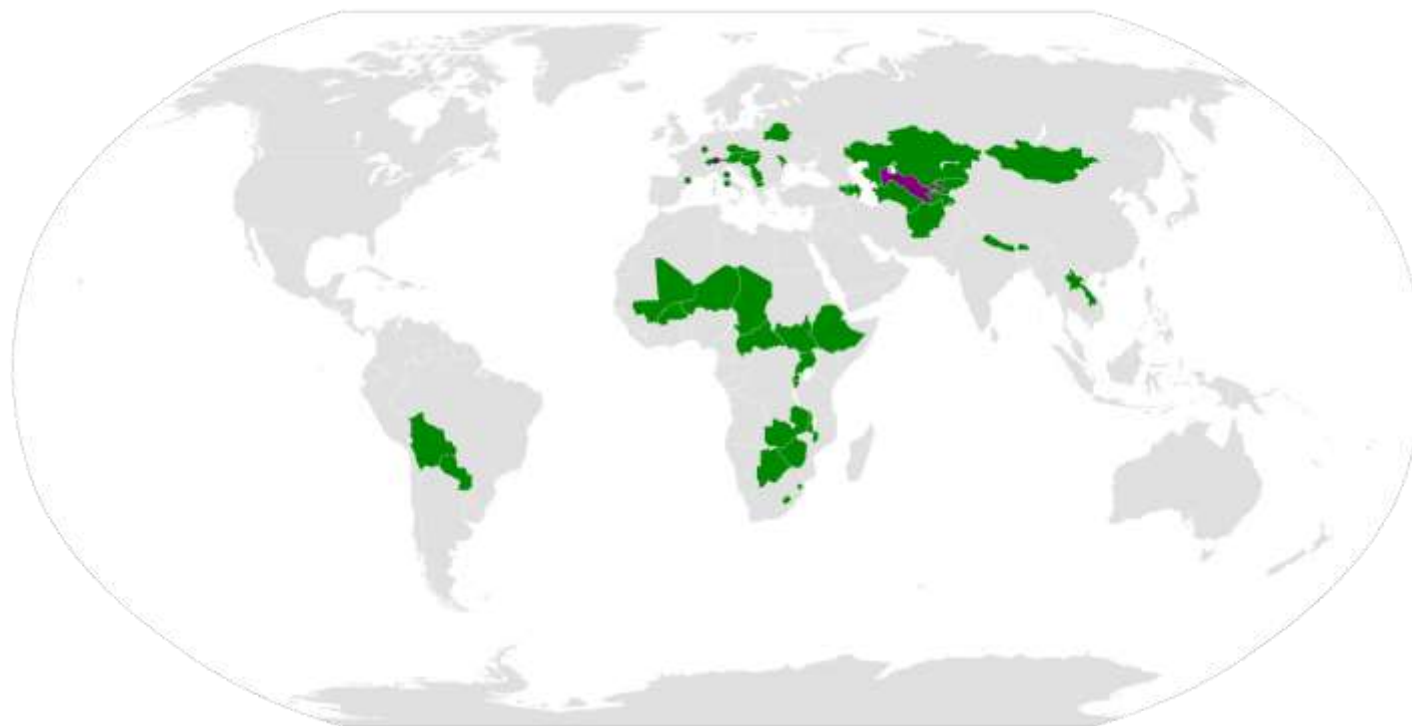
10. Која од следећих земаља није континентална?

А. Црна Гора

Б. Молдавија

В. Белорусија

Г. Србија




11. Шта је од наведеног предмет Протокола из Кјота и Париског споразума?

А. трговина

Б. интелектуална својина

В. климатске промене

Г. регионална одбрана



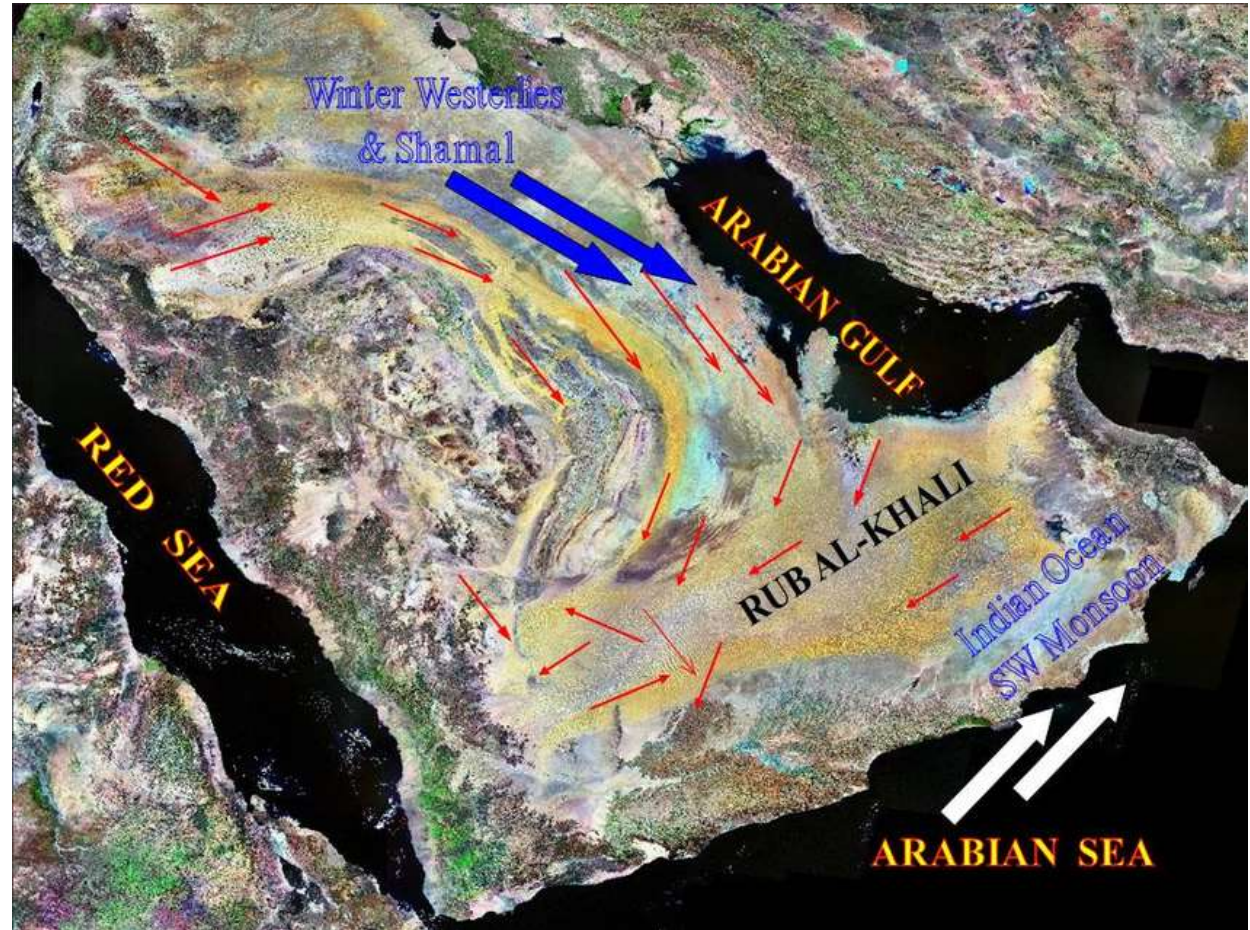
12. Руб ел Хали је пример највећег на свету...

А. ерга

Б. кањона

В. сланог језера

Г. вртаче



13. Званични језици ове европске државе су: немачки, француски, италијански и реторомански. Која је то држава?

А. Немачка

Б. Белгија

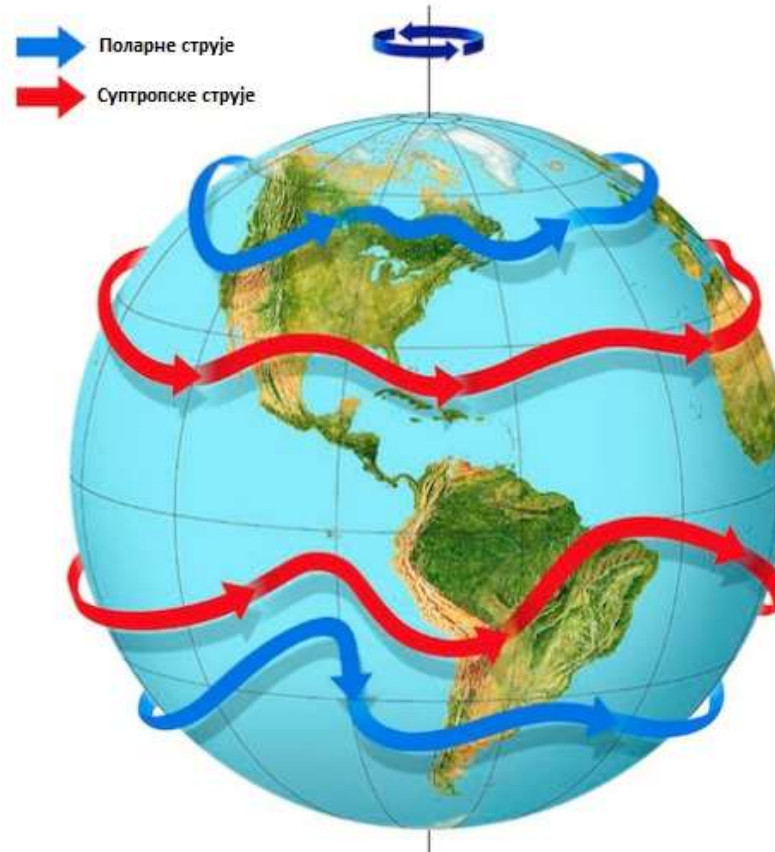
В. Француска

Г. Швајцарска



14. Млазне струје су брзотекуће, уске, вијугаве струје ваздуха у атмосфери. На основу слике, у ком правцу се углавном крећу млазне струје?

- А. исток на запад
- Б. север на југ
- В. југ према северу
- Г. запад на исток



15. Следеће слике су повезане са једном острвском државом.
Којом?

А. Исланд

Б. Куба

В. Мадагаскар

Г. Барбадос



16. Сlike приказују језеро Урмиа у Ирану. Лева слика је из 1984. године, а десна из 2014. године. Шта је од наведеног највероватнија последица промене видљиве на сликама?

А. Повећао се број станишта птица селица

Б. Локално становништво је почело да гради куће и фарме ближе језеру

В. Пловидба на језеру је готово у потпуности заустављена

Г. Риболов је повећан у преосталим областима језера



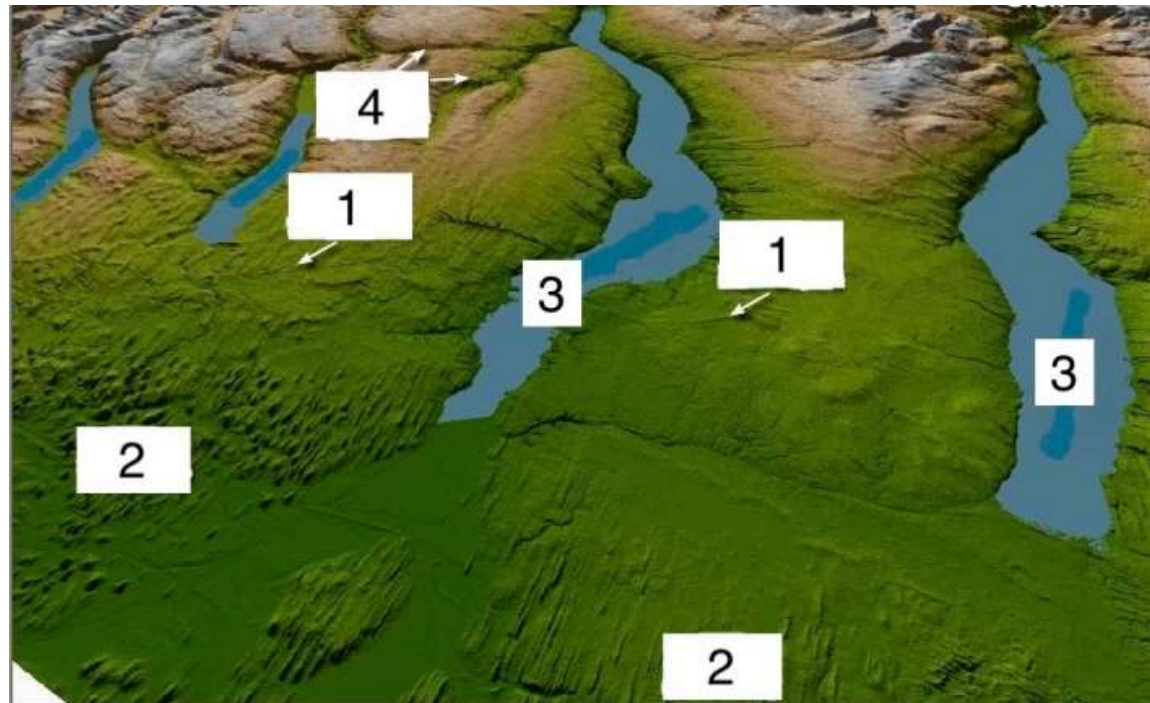
17. Сви рељефни облици обележени на овој слици настали су деловањем...

А. глацијалне ерозије

Б. сеизмичке активности

В. вулканске активности

Г. промена тока велике реке



18. Ова мапа приказује верску припадност становника широм света.

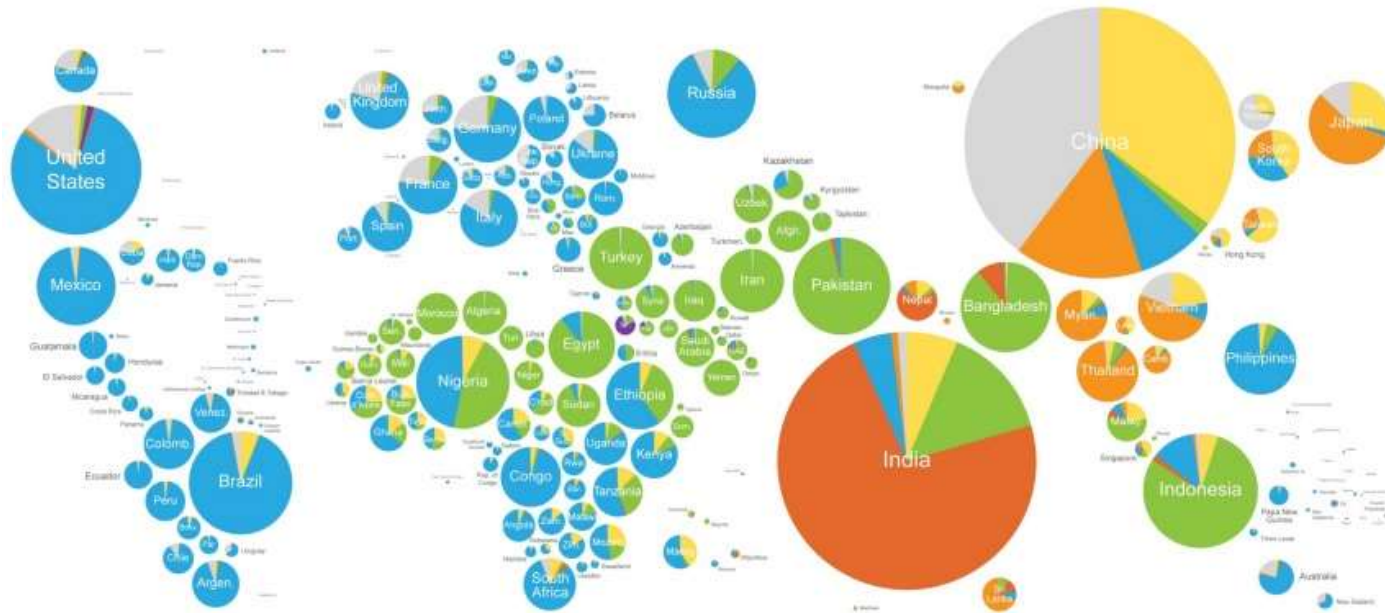
Која боја представља ислам на овој мапи?

А. плава

Б. тамно наранџаста

В. зелена

Г. сива



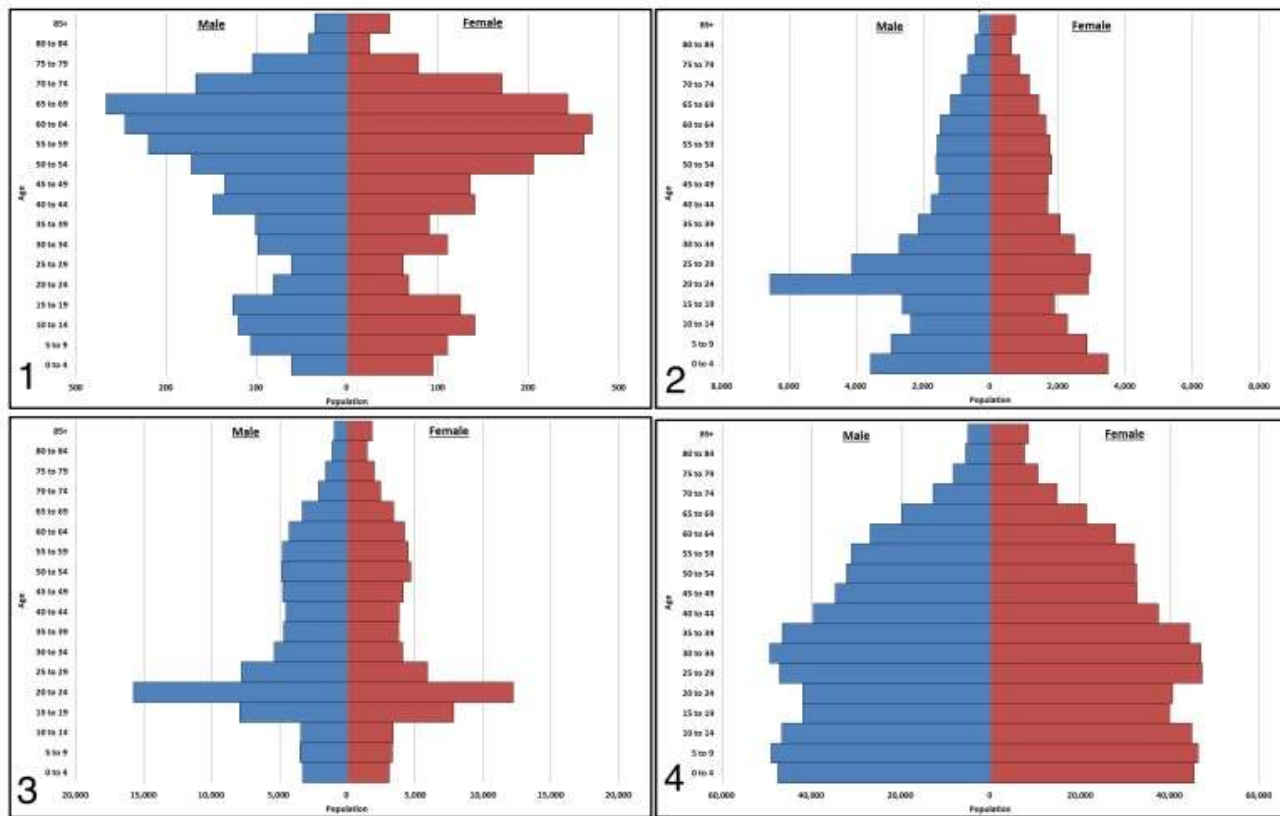
19. Која од следећих пирамида представља брзо растуће становништво?

A. 1

B. 2

C. 3

D. 4



20. Која се река појављује на обе ове фотографије?

А. Тахо

Б. Темза

В. Сена

Г. Влтава



21. Посету нетакнутим и релативно неометаним природним подручјима, без оштећења или нарушавања животне средине, називамо:

А. екотуризам

Б. етноцентризам

В. масовни туризам

Г. биодиверзитет



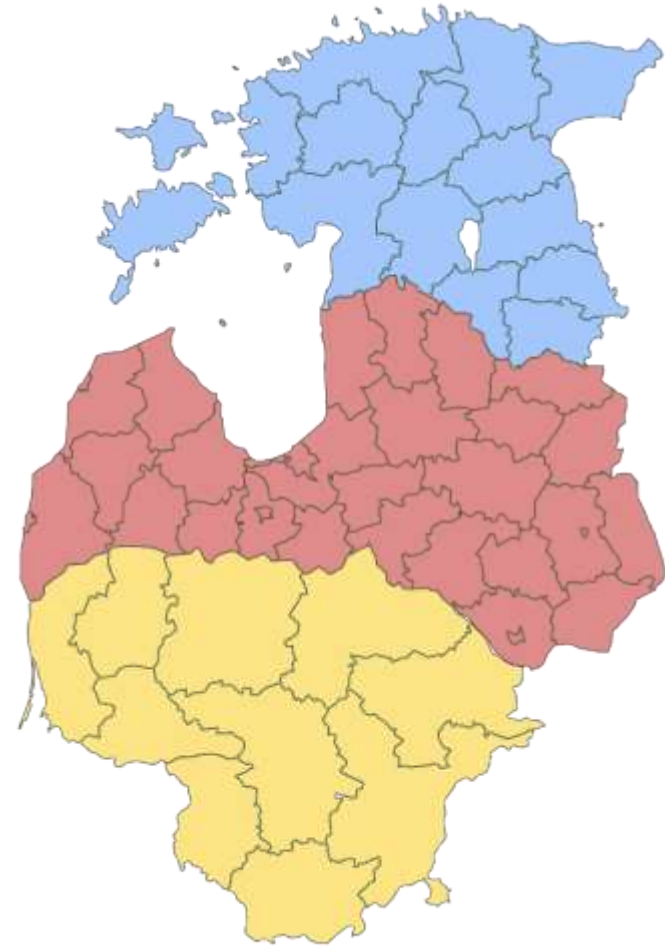
22. Које од следећих група земаља чине Балтичке државе?

А. Албанија, Босна и Црна Гора

Б. Летонија, Литванија, Естонија

В. Мађарска, Пољска, Чешка

Г. Грузија, Јерменија, Азербејџан




23. Која од следећих застава се вијори над острвима Свалбард?

A) A

B) Б

B) B

Г) Г



24. На ком острву је снимљена фотографија ендемског стабла приказаног на слици?

А) Сокотра

Б) Катар

В) Руб ал-Хали

Г) Синај



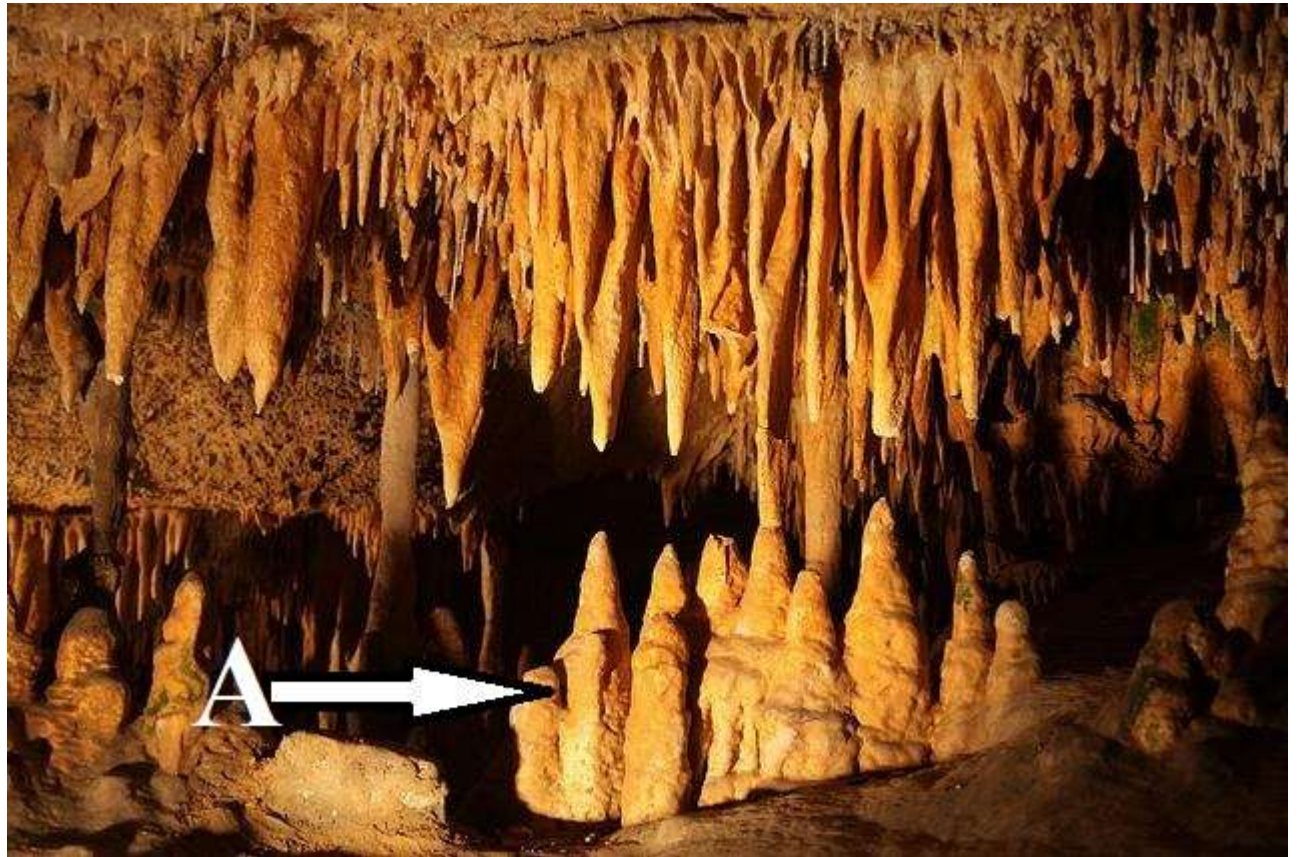
25. Пећински накит на слици приказани словом А називају се:

А) Сталагмити

Б) Сталактити

В) Пећински стуб

Г) Хеликтити



26. Објекат приказан на слици је:

А) Црвена тврђава

Б) Таџ Махал

В) Храм Бахаи

Г) Индијски дом парламента



27. Као велики љубитељ скијања, одлазите на зимовање. Кроз прозор ваше собе у хотелу, гледате у пејзаш са слике. У коју државу сте отишли?

А) Француску

Б) Бугарску

В) Швајцарску

г) Аустрију



28. Која река је директна притока Азовског мора?

- а) Дњепар
- б) Дњестар
- в) Дон
- г) Волга



29. Шта од наведеног није облик рељефа који су створили глечери?

а) морена

б) фјелд

в) цирк

д) рт



30. Која од следећих атракција је део локалитета познатог као Акропољ?

а) Пантеон

б) Партеон

в) Велике пирамиде у Гизи

г) Криви торањ у Пизи



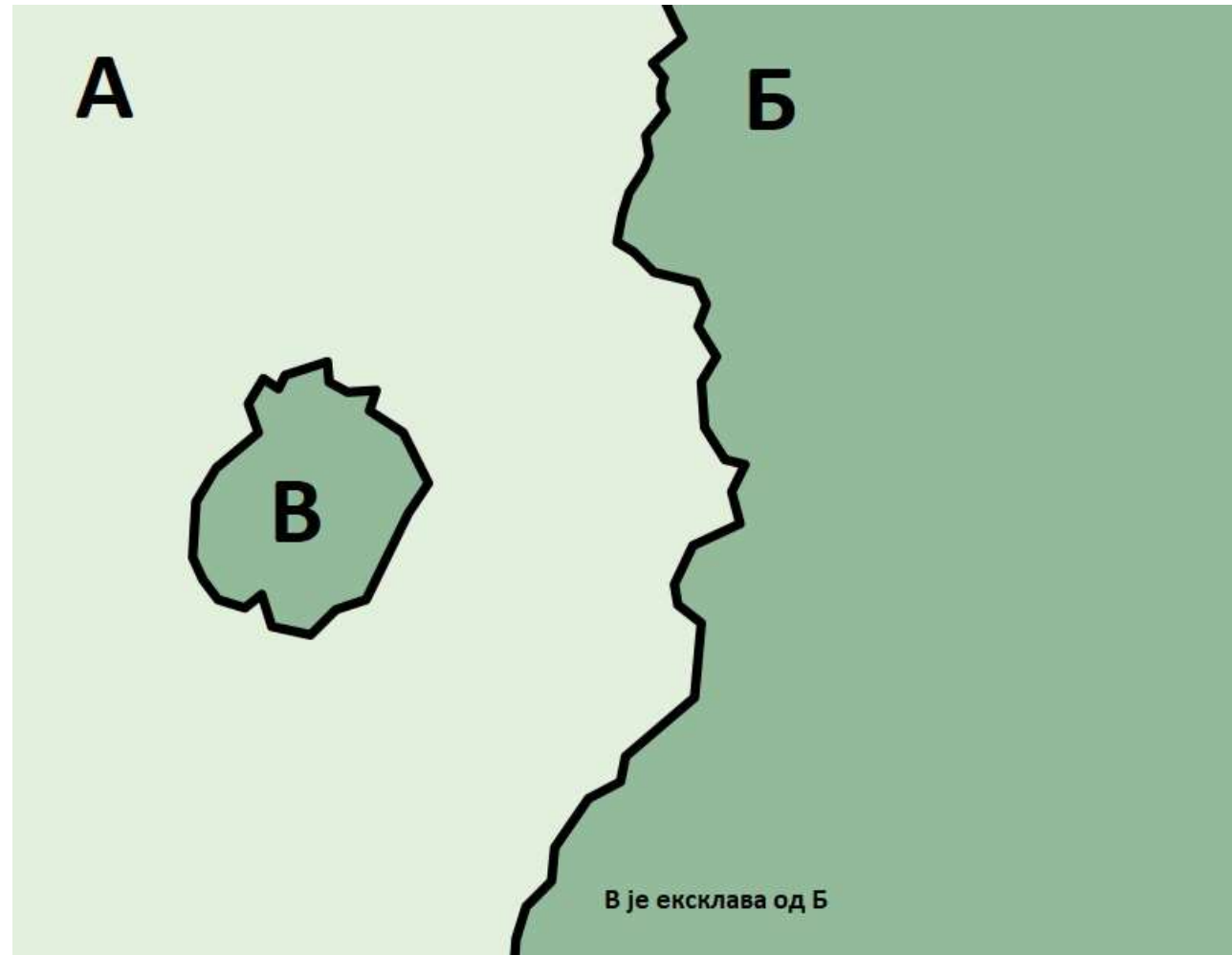
31. Шта је од наведеног пример ексклаве?

а) Калињинград

б) Лесото

в) Сан Марино

г) Ватикан



32. У којим државама претежно живи народ Масаи?

а) Индија и Пакистан

б) Сенегал и Гамбија

в) Кенија и Танзанија

г) Јужноафричка Република и Намибија



33. Река Сава повезује три главна града: Београд, Загреб и

а) Сарајево

б) Скопље

в) Љубљана

г) Подгорица



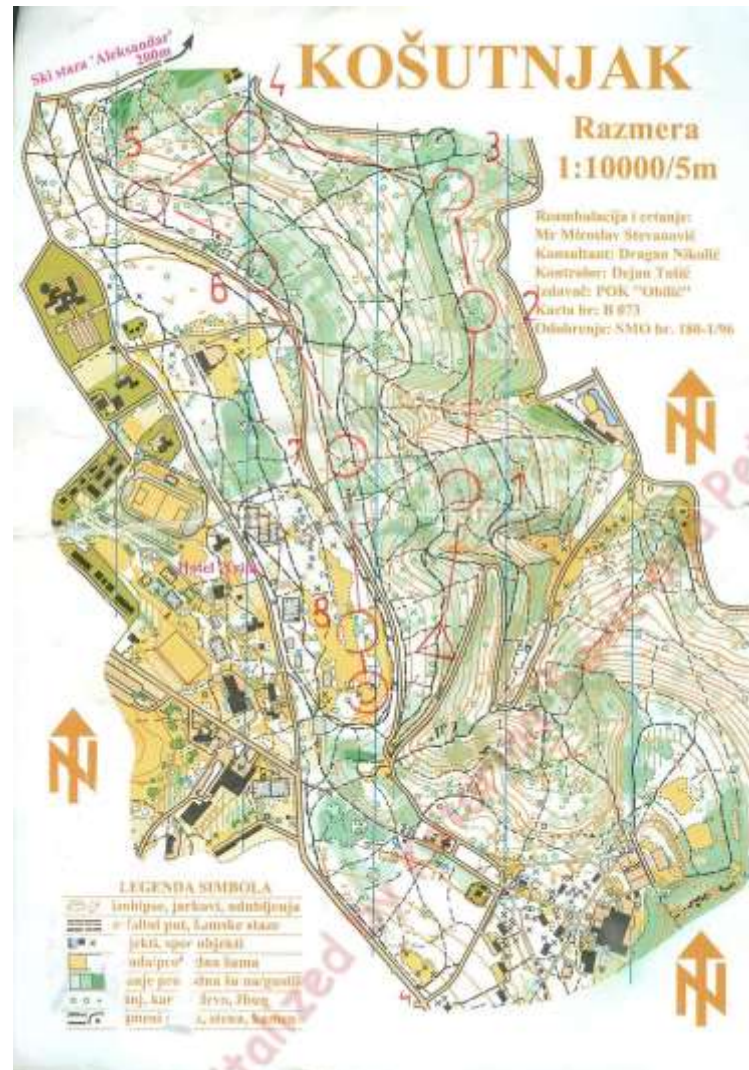
34. Шта је најмање вероватно да ћете наћи на планинарској мапи?

а) ружа компаса или стрелица ка северу

б) изохипсе

ц) легенду

г) изобате



35. Како се зове геолошко подручје приказано на карти?

а) Северни шешир

б) Каледонска орогенеза

в) Канадски штит

г) Америчка чаша



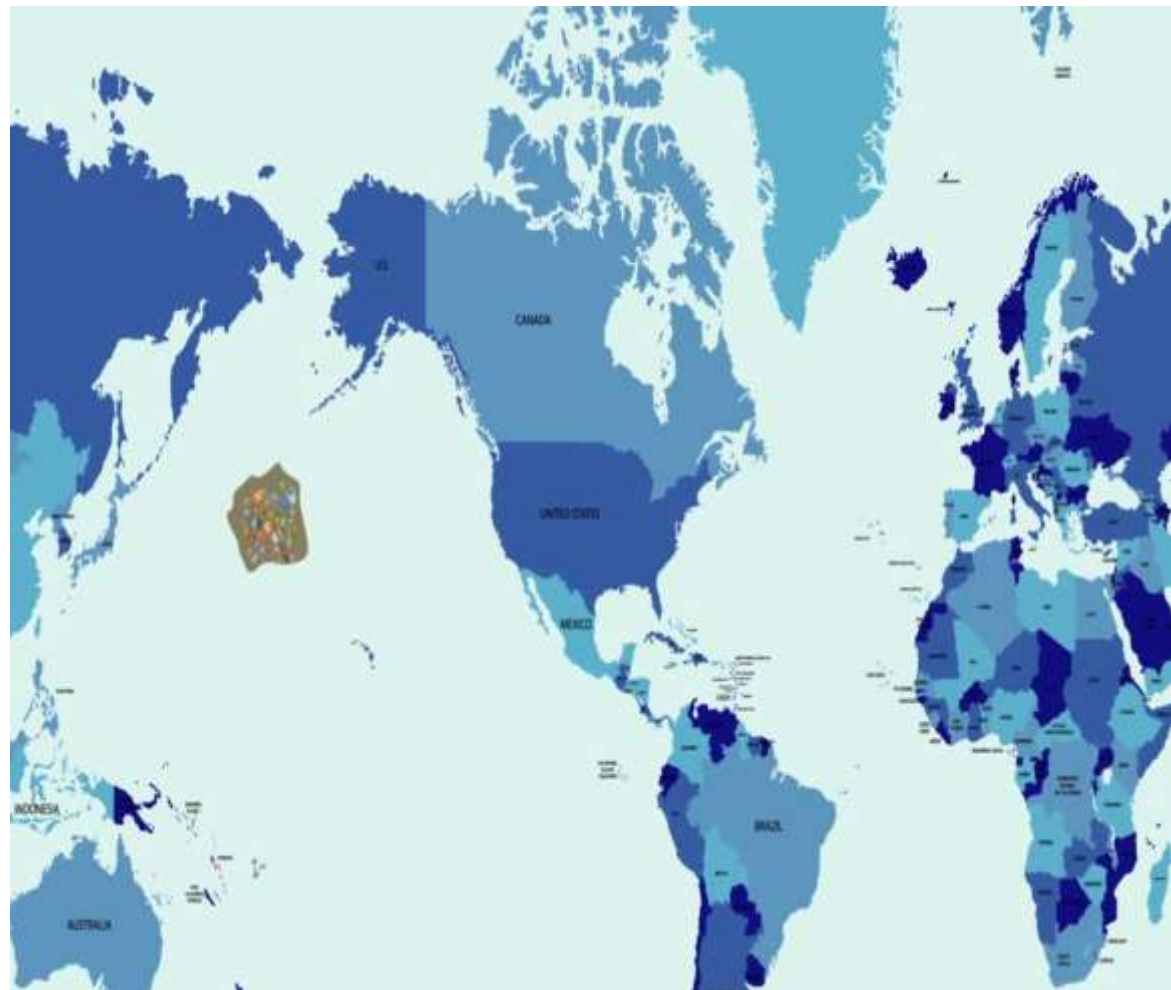
36. У једном океану постоји острво Ђубрета. О ком океану је реч:

А) Атлантски океан

Б) Северни ледени океан

В) Индијски океан

Г) Тихи океан






37. Знак за рециклажу је:

A) A

Б) Б

B) B

Г) Г



38. Река на фотографији носи назив као и једна држава. Која је то река?

А) Амазон

Б) Нијагара

В) Колорадо

Г) Меконг



39. Ово је застава које организације?

а) Покрет несврстаних

б) Арапска лига

в) Европска унија

г) Светска здравствена
организација



40. Црвено осенчена подручја представљају:

а) Калдери

б) Језерски кањон

в) Источноафрички ров

г) Глацијално језеро

