

МИНИСТАРСТВО ПРОСВЕТЕ, НАУКЕ И ТЕХНОЛОШКОГ РАЗВОЈА
РЕГИОНАЛНИ ЦЕНТАР ЗА ТАЛЕНТЕ БЕОГРАД 2
ГЕОГРАФСКИ ФАКУЛТЕТ БУ



ПИСАНИ ТЕСТ

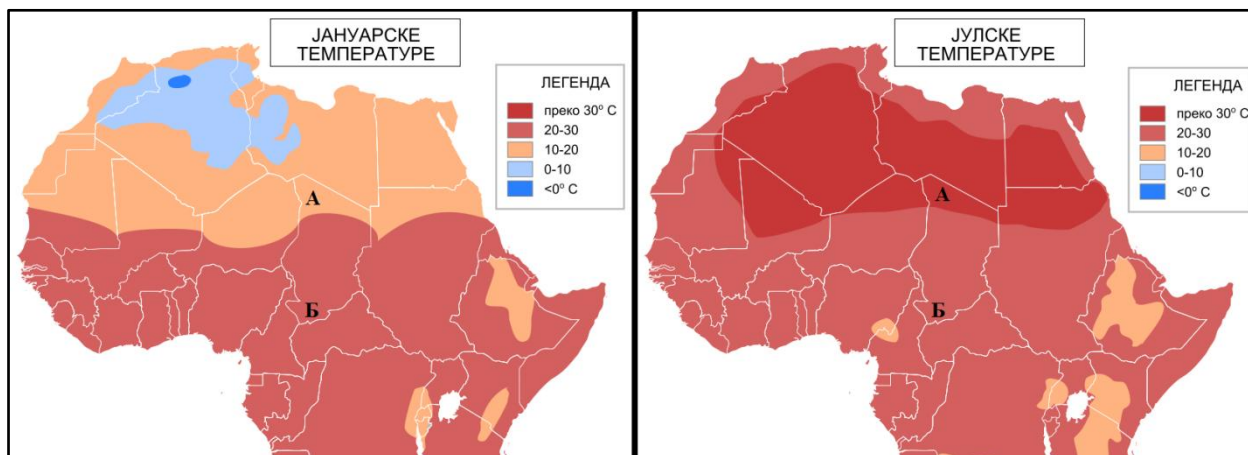
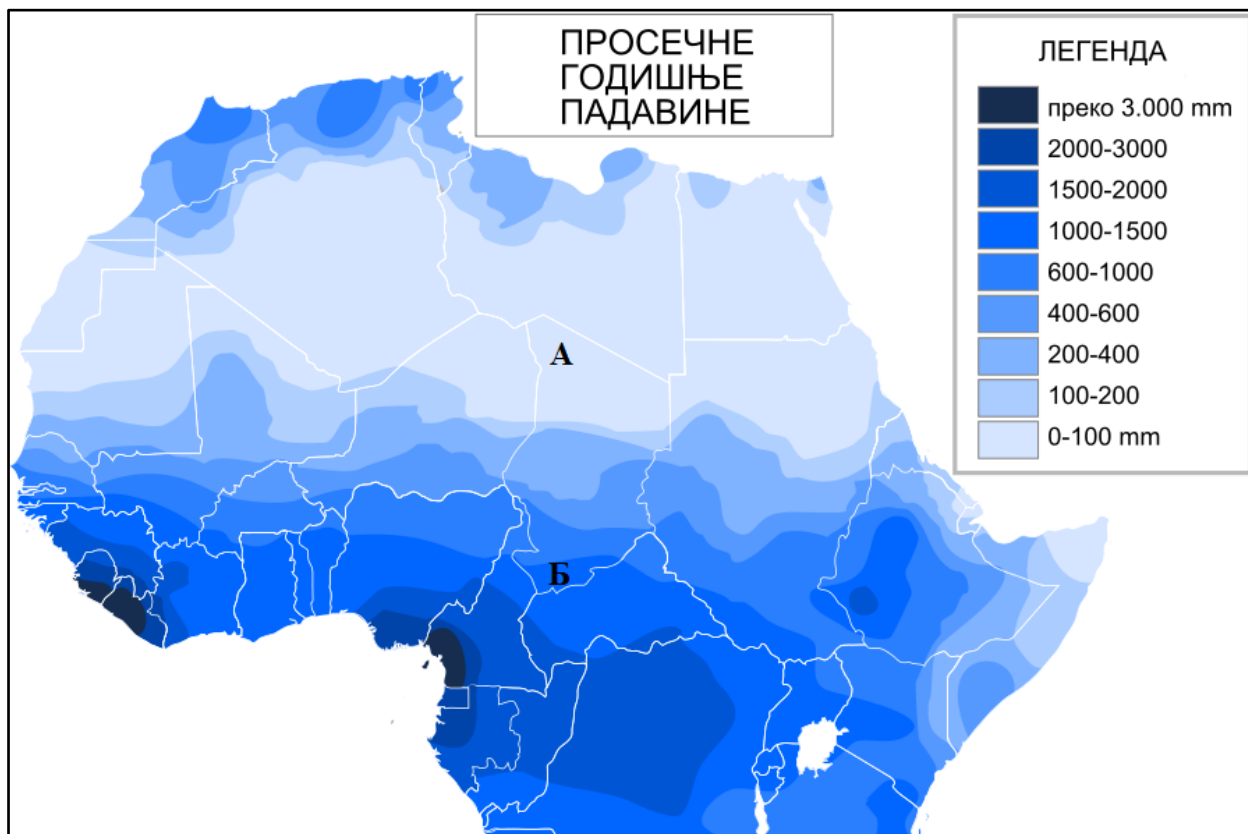
ИМЕ И ПРЕЗИМЕ _____

РАЗРЕД _____

ШКОЛА _____

БЕОГРАД, 17.05.2019.

1. Пред вама су карте просечних годишњих количина падавина и просечних јануарских и јулских температура ваздуха.



А) Уз помоћ карата одредите који климатски типови владају на простору означеном словима А и Б и напишите које су одлике ових климатских типова.

1. Тип климата А _____ (0,5)

2. Одлике климата А

(2)

3. Тип климата Б _____ (0,5)

4. Одлике климата Б

(2)

Б) Простор између тачака А и Б захваћен је последњих деценија процесом дезертификације.

1. Дефинишите овај процес.

(1)

2. Који фактори су изазвали овај процес?

(1)

3. Објасните негативне последице дезертификације по становништво и животну средину.

(1)

В) Процес дезертификације и друге промене утицале су на промену величине језера Чад. Напишите које су државе излазиле на ово језеро пре промене величине језера:

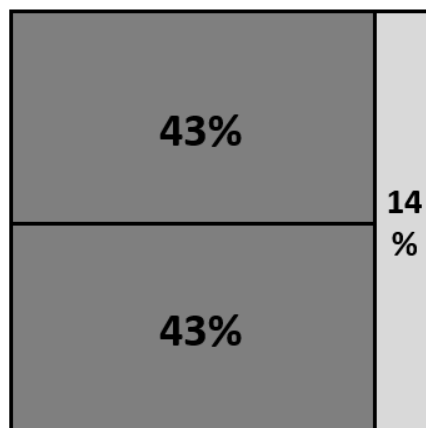
(2)

2. На графику је приказана структура извоза Катара.

А) Која два производа учествују у подједнаком уделу, а заједно са око 86%, у укупној вредности извоза ове државе?

1. _____
2. _____

(1)



Б) 1. Наведите позитивне стране (најмање две) овакве структуре извоза за Катар

(2)

2. Наведите негативне стране (најмање две) овакве структуре извоза за Катар

(2)

В) Подвуците које од понуђених држава имају различиту структуру вредности извоза у односу на Катар

Либан Брунеј Кувајт Оман Јордан

(1)

3. Уз следећу карту одговори на питања:



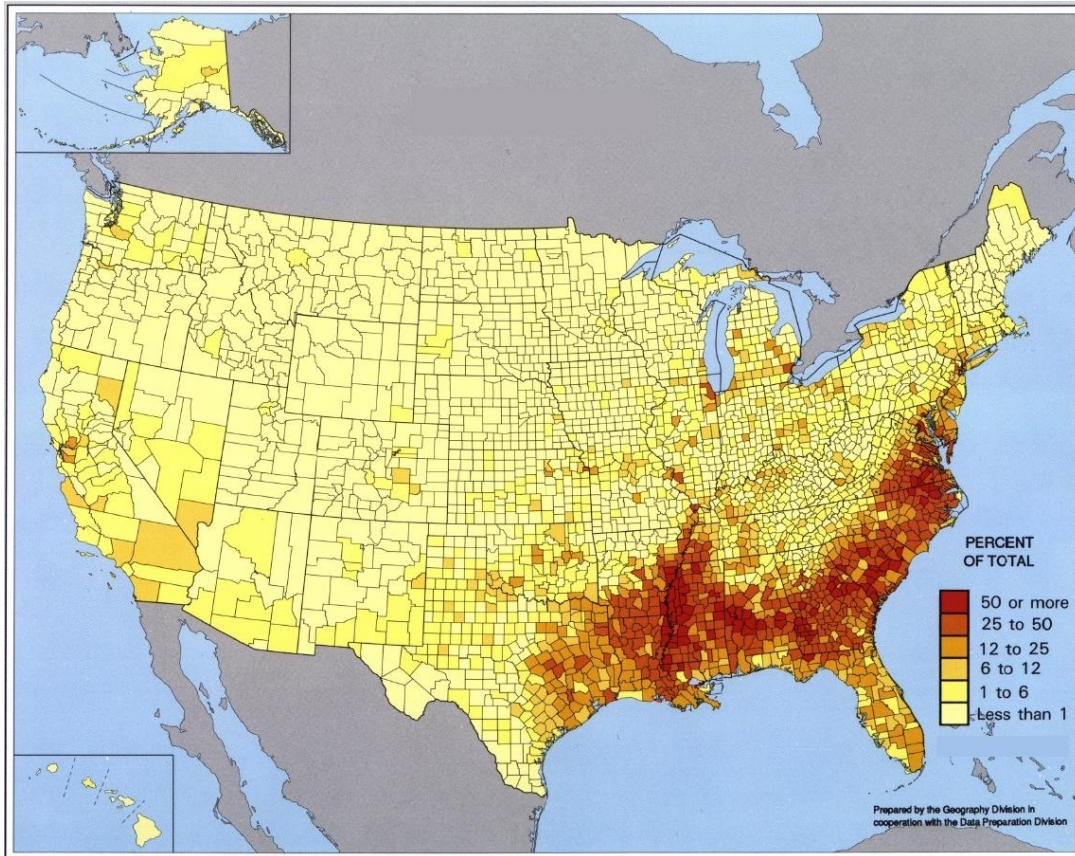
А) Које две државе су приказане на карти? _____ и _____ (1)

Б) Која паралела их раздваја и којим ратом су настале? _____ (2)

В) Објасни разлике у политичким системима ових држава:

(2)

4. Уз следећу карту одговори на питања:



А) Размештај које људске расе је приказан на датој карти? _____ (1)

Б) Ко су „хиспаноси“ и у ком делу САД-а највише живе? _____

_____ (2)

В) Објасни појам „melting pot“ (лонац за претапање). На кога се он односи, шта представља и како је утицао на становништво САД-а?

_____ (3)

5.

А) Препознај еколошку катастрофу са фотографија:



_____ (1)

Б) У ком периоду године (годишње доба) се десила катастрофа?

(1)

В) Наведи узроке настанка катастрофе?

Г) Које мере треба спровести како се ова катастрофа никада не би поновила?

(1)

(2)

6.

А) Навести улогу зеленила у урбаним срединама (бар три)?

(2)

Б) Зашто су важни зелени појасеви уз саобраћајнице (навести бар два разлога)?

(2)

В) Навести бар три разлога због којих се одређена подручија штите и међусобно повезују у еколошке мреже?

(1,5)

Г) Наведите 5 заштићених природних подручја на територији Србије, изузимајући националне паркове

(2,5)