

Мултимедијални тест

-НГО 2018-

Упутство за израду ММТа

- Пред Вама је мултимедијални тест. Састоји се од 40 питања из различитих области географије
- Сваки слајд са питањем биће видљив 45 секунди, зависно од комплексности питања
- По завршетку 40. питања, сви слајдови ће бити видљиви још једном по 10 секунди
- Дозвољено је заокружити само један одговор. Након заокруживања хемијском оловком, НЕМА ВИШЕ ИСПРАВКИ!!!
- Желимо Вам успешан и срећан рад

1. Који планиски врх је на слици?

- А) Бабин зуб
- Б) Јанков камен
- В) Боботов кук
- Г) Титов врх



2. На слици је тврђава:

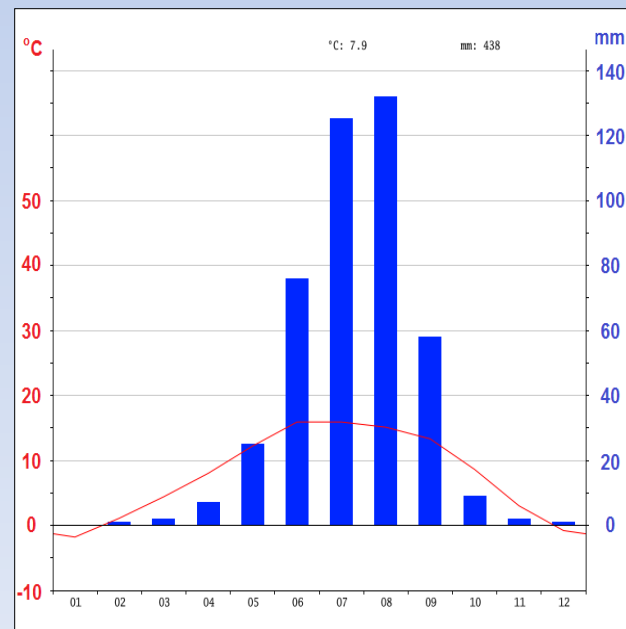
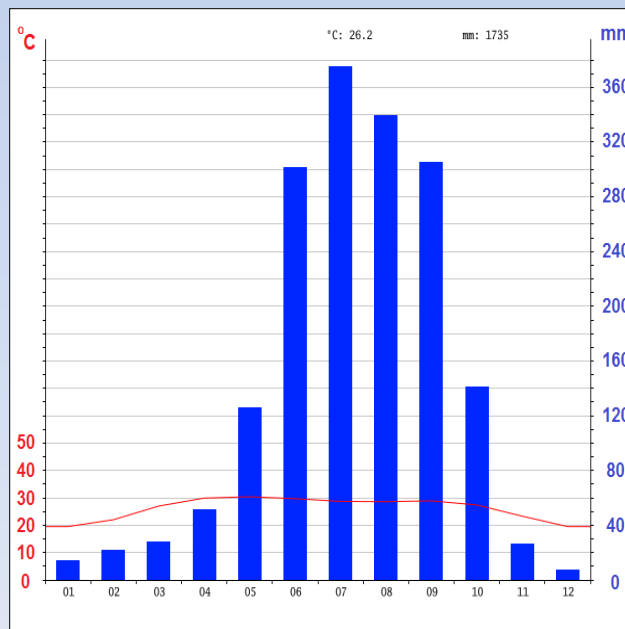
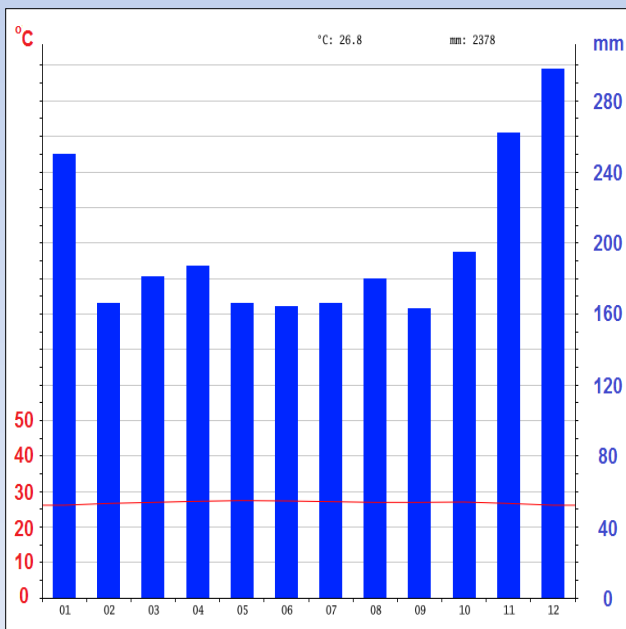
- А) Голубац
- Б) Бач
- В) Маглич
- Г) Смедерево



3. Гледајући с лева на десно, који је тачан редослед клима дијаграма који одговара следећим градовима:

1. Сингапур 2. Калкута 3. Ласа

А) 3, 2, 1 Б) 2, 3, 1 В) 1, 2, 3 Г) 3, 1, 2



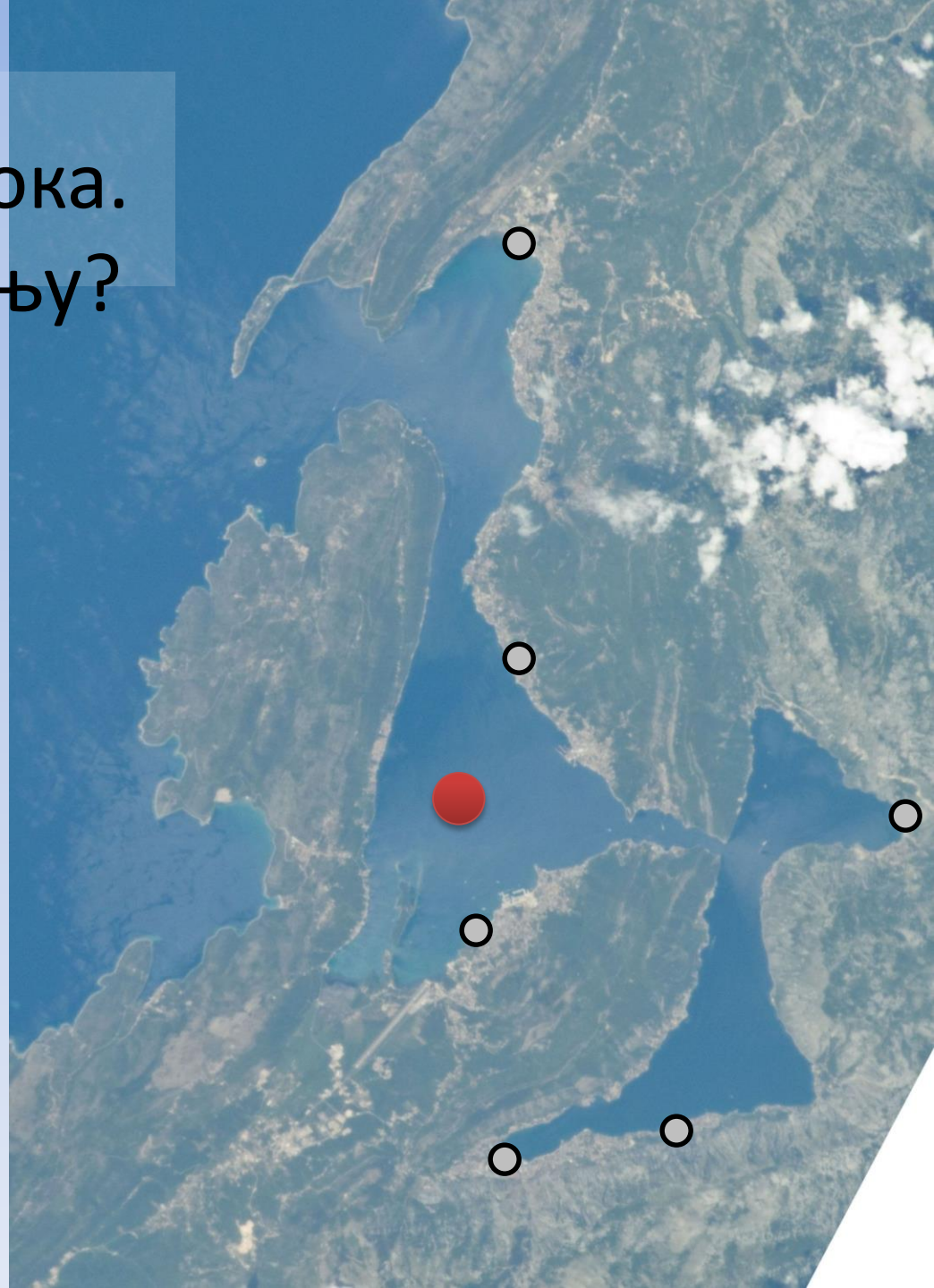
4. Брод плови ка
луци у правцу истока.
Која је лука у питању?

А) Херцег Нови

Б) Будва

В) Тиват

Г) Рисан



5. Избаци уљеза:

А)



Б)



В)



Г)



6. По производима од биљке са слике позната је држава:

- А) Мађарска
- Б) Румунија
- В) Македонија
- Г) Бугарска



7. Народ са слике живи у:

- А) Алжиру
- Б) Кенији
- В) Гамбији
- Г) Бенину



8. Научник са слике сматра се
утемељивачем:

- А) Физичке географије
- Б) Регионалне географије
- В) Друштвене географије
- Г) Антропогеографије



9. Јело са слике карактеристично је за државу:

- А) Кувајт
- Б) Парагвај
- В) Грчку
- Г) Того



10. Који град у Србији се налази на слици?
Мала помоћ: Кроз њега пролази 45°
паралела.

А) Рума

Б) Крагујевац

В) Зрењанин

Г) Аранђеловац



11. Припадници једне верске групе која се налази се на слици зову се:

А) Мормони

Б) Баптисти

В) Амиши

Г) Лутерани



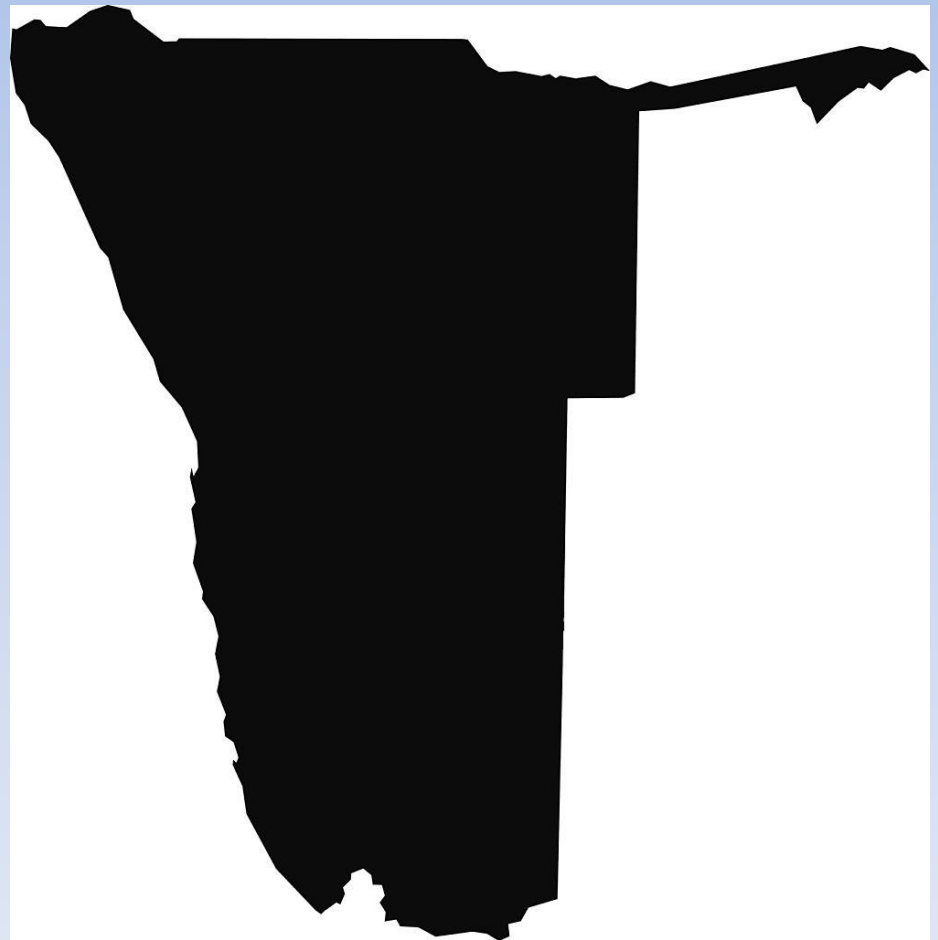
12. Територија које државе је приказана?

А) Замбије

Б) Боцване

В) Мозамбика

Г) Намибије



13. У ком граду је снимљена ова фотографија?

А) Манаусу

Б) Рио де Жанеиру

В) Хавани

Г) Каракасу



14. На карти су приказани највећи светски произвођачи:

А) Угља

Б) Памука

В) Кајсије

Г) Беле технике



15. Избаци уљеза?

А)



Б)



В)



Г)



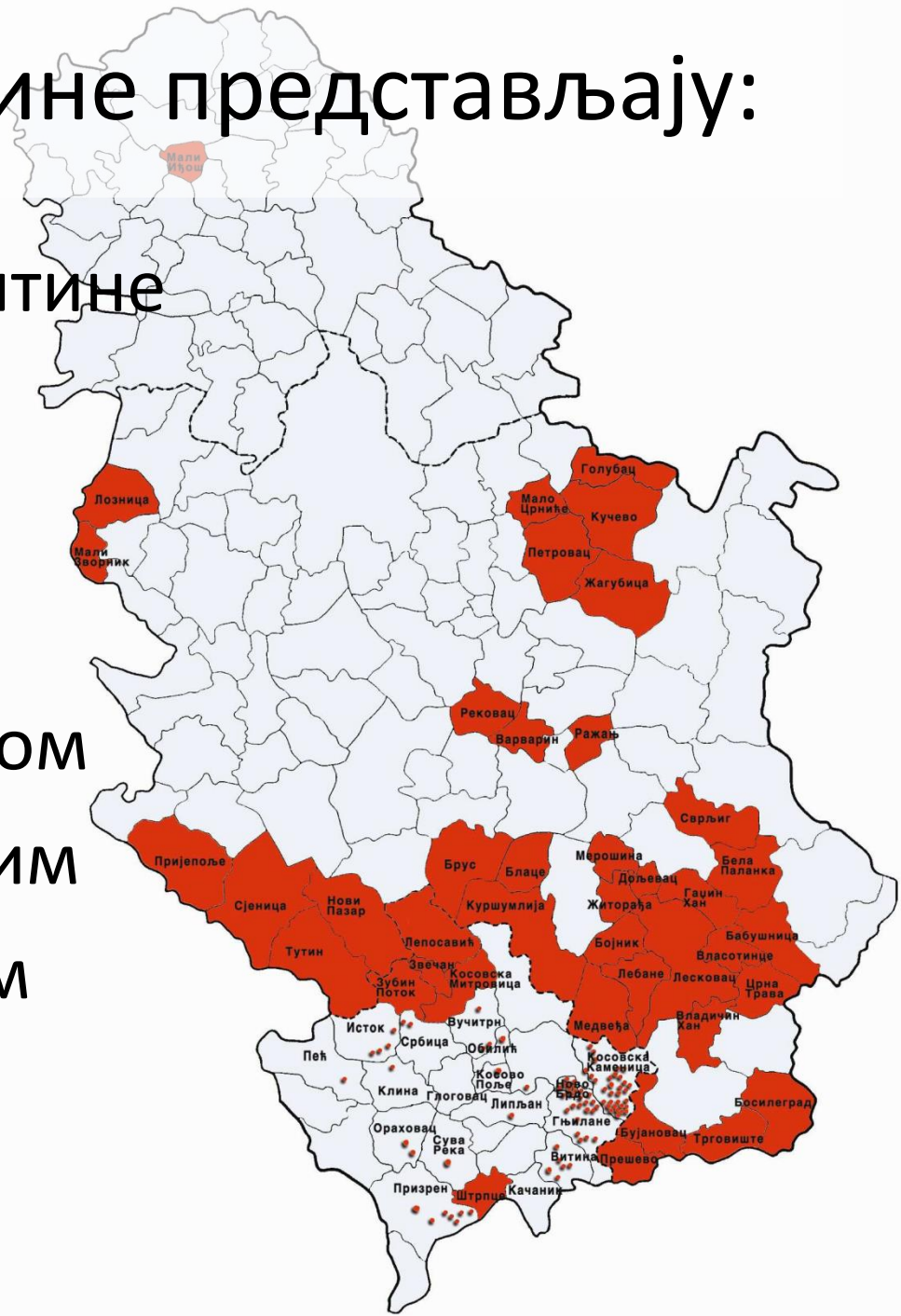
16. Обојене општине представљају:

А) Најнеразвијеније општине

Б) Општине са највећим уделом Рома

В) Општине са највећим површинама под малином

Г) Општине са позитивним природним прираштајем



17. Који мореуз је приказан на слици?

А) Гибралтар

Б) Баб ел Мандеб

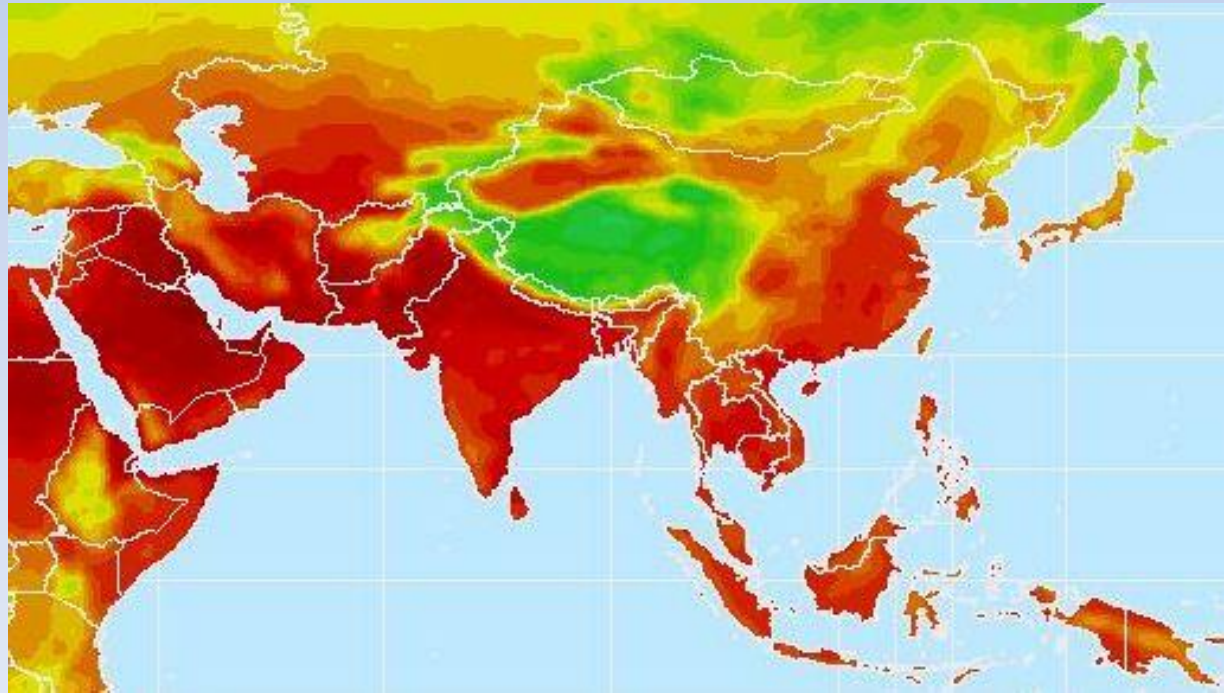
В) Малајски пролаз

Г) Босфор




18. Шта је представљено на карти?

- А) Густина насељености
- Б) Простори са највећим ризиком од поплава
- В) Површине под шумама
- Г) Просечна јулска температура



19. Који облик у рељефу је представљен?

- А) Ергови
- Б) Вадии
- В) Увале
- Г) Клифови



20. Слика је карактеристична за:

А) Невреме

Б) Крај зиме

В) Температурну инверзију

Г) Загађеност ваздуха



21. Кроз град са слике протиче река:

А) Лаба

Б) Влтава

В) Висла

Г) Одра



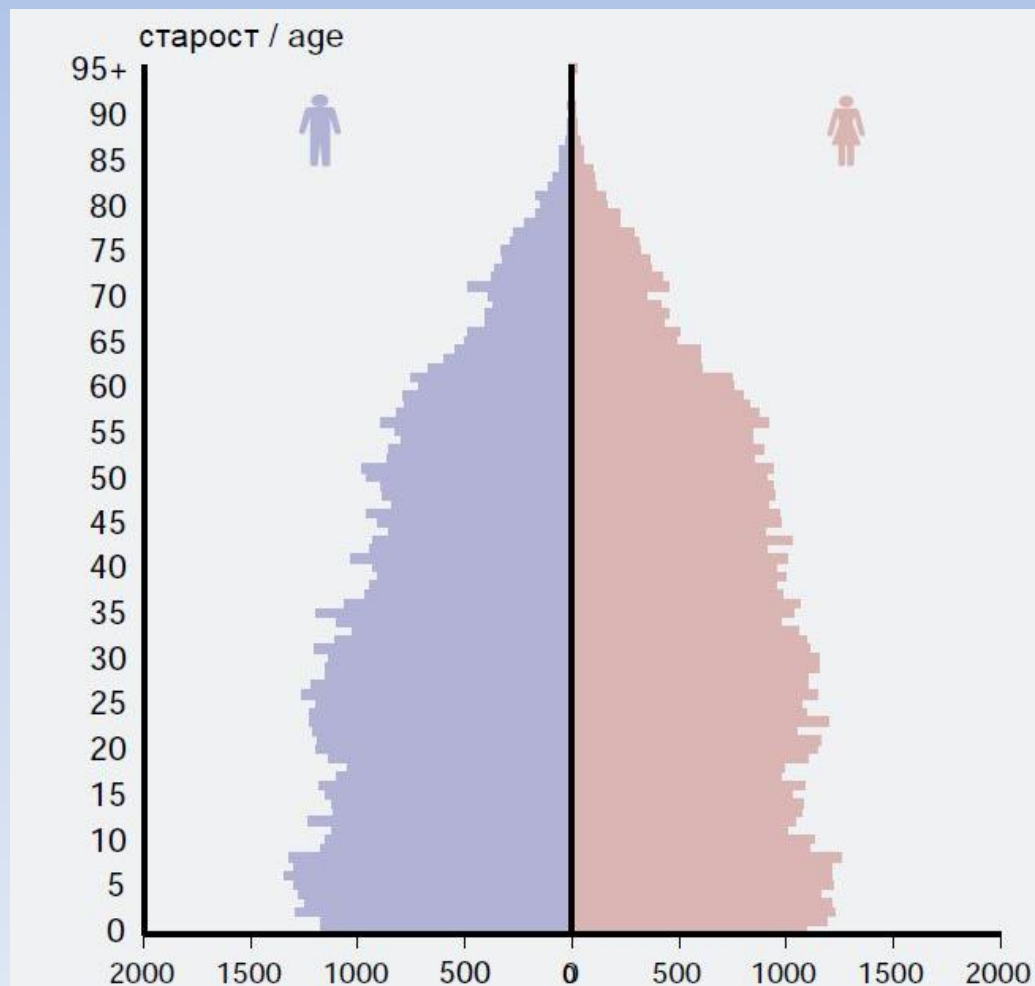
22. Пејзаж са слике је карактеристичан за:

- А) Мађарску
- Б) Швајцарску
- В) Норвешку
- Г) Аустрију



23. На слици је популациона пирамида једног народа у Србији. Кога?

- А) Срба
- Б) Бугара
- В) Бошњака
- Г) Македонаца



24. Шта је приказано на слици?

- А) Црква Богородице Љевишке
- Б) Црква манастира Грачаница
- В) Црква манастира Дечани
- Г) Црква Лазарица



25. Облик рељефа на слици настао је:

А) Абразијом (акумулација)

Б) Абразијом (ерозија)

В) Денудацијом

Г) Нивацијом



26. Животиња са слике карактеристична је за:

А) Африку

Б) Јужну Америку

В) Аустралију

Г) Азију



27. Град који је приказан на слици је:

А) Лима

Б) Ријад

В) Каиро

Г) Ашхабад



28. Познати рељфни облик са слике
настао је:

А) Радом некадашњег вулкана

Б) Еолском ерозијом

В) Абразијом

Г) Глацијацијом



29. Voће са слике карактеристично је
за регион:

А) Топлице

Б) Азбуковице

В) Смедеревског Подунавља

Г) Хомоља



30. Туристичка атракција са слике припада територији:

А) Ужица

Б) Чајетине

В) Зворника

Г) Љубовије



31. Геоморфолошко-хидролошки феномен са слике налази се у:

А) Мексику

Б) Канади

В) САД-у

Г) Гватемали



32. Лого са слике представља:

- А) Нафтну компанију
- Б) Аутомобилску компанију
- В) Дуванску компанију
- Г) Авио компанију



33. На фотографији се налази оснивач једне религије. Заокружи државу у којој је та религија доминантна:

А) Азербејџан

Б) Науру

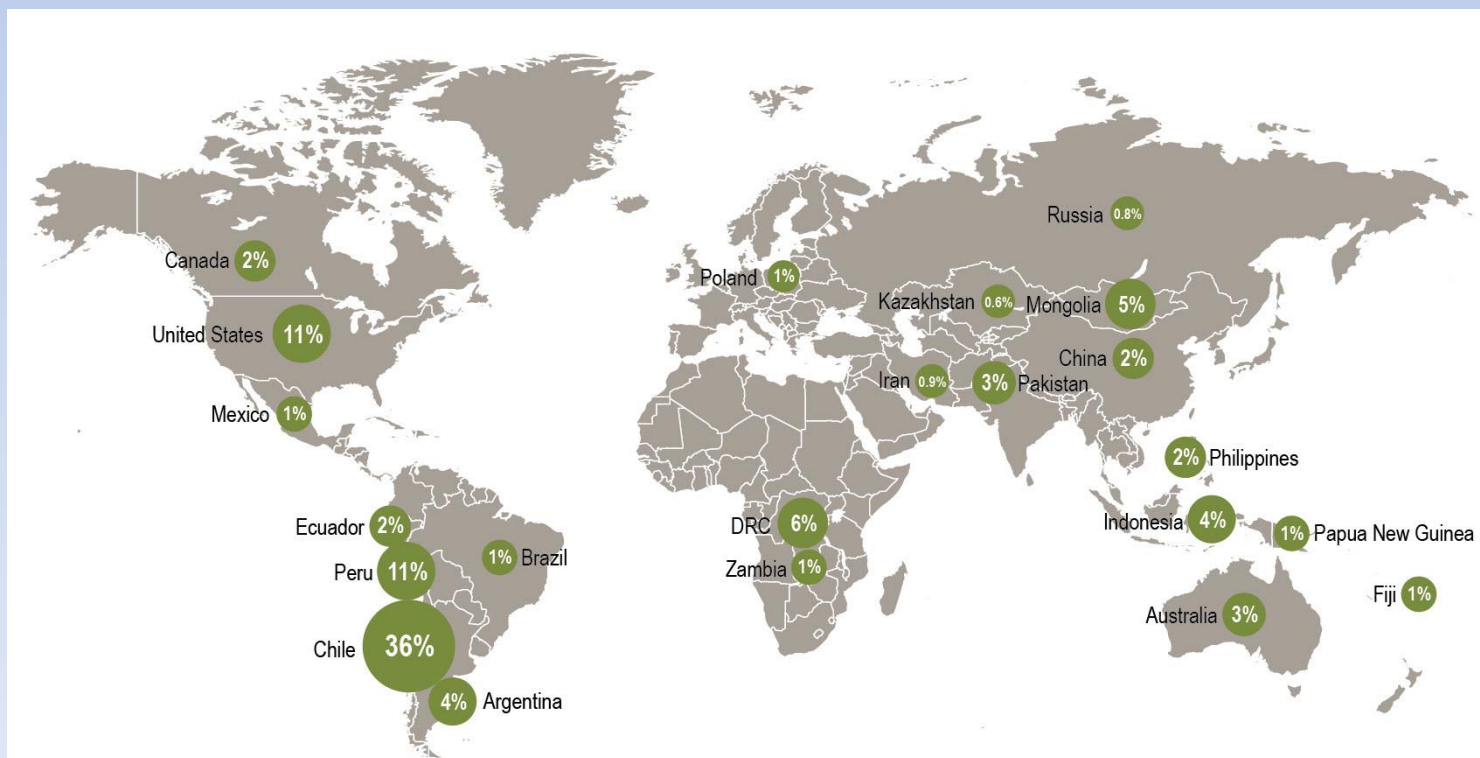
В) Чиле

Г) Тајланд



34. На следећој карти је приказана светска производња:

- А) Злата
- Б) Платине
- В) Бакра
- Г) Олова



15 discoveries in 13 other countries account for 0.7%.

35. Пејзаж са слике може се срести у држави:

А) Боцвана

Б) Русија

В) Оман

Г) ДР Конго



36. Возила са слике произведена су у:

А) Прокупљу

Б) Прибоју

В) Петровцу

Г) Пожаревцу



37. Туристичку атракцију са слике
можемо пронаћи у:

А) Вијетнаму

Б) Тајланду

В) Лаосу

Г) Камбоџи



38. Којој држави припада застава?

А) Холандији

Б) Уругвају

В) Парагвају

Г) Луксембургу



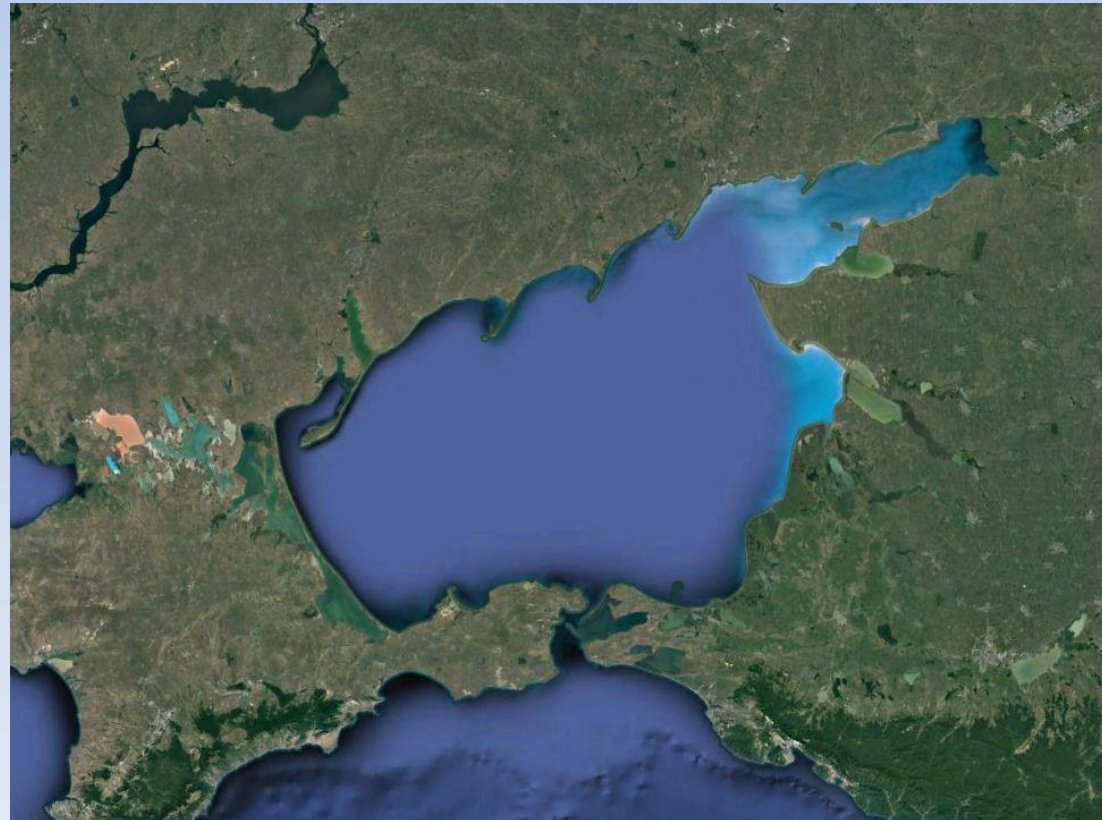
39. Шта приказује сателитски снимак?

А) Каспијско море

Б) Аралско језеро

В) Азовско море

Г) Ботнички залив



40. Несеље са слике је с циљем подигнуто на овом изолованом месту због:

- А) Очуване животне средине
- Б) Развоја туризма
- В) Јефтиног земљишта
- Г) Рударске активности



1. Који планиски врх је на слици?

- А) Бабин зуб
- Б) Јанков камен
- В) Боботов кук
- Г) Титов врх



2. На слици је тврђава:

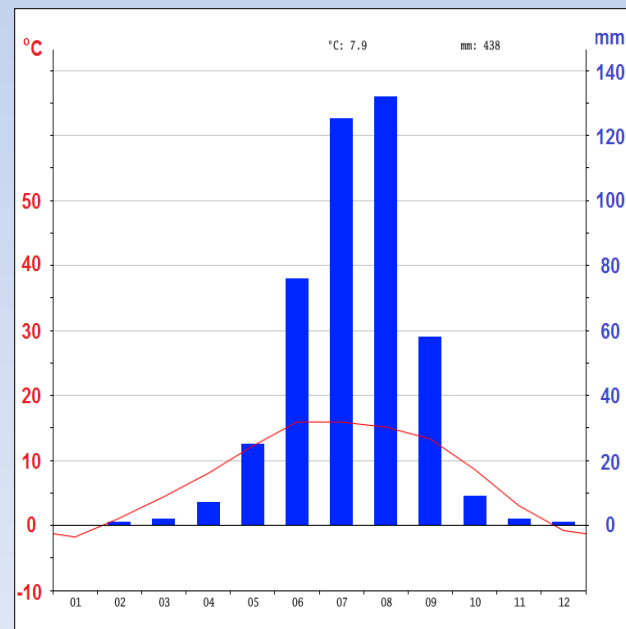
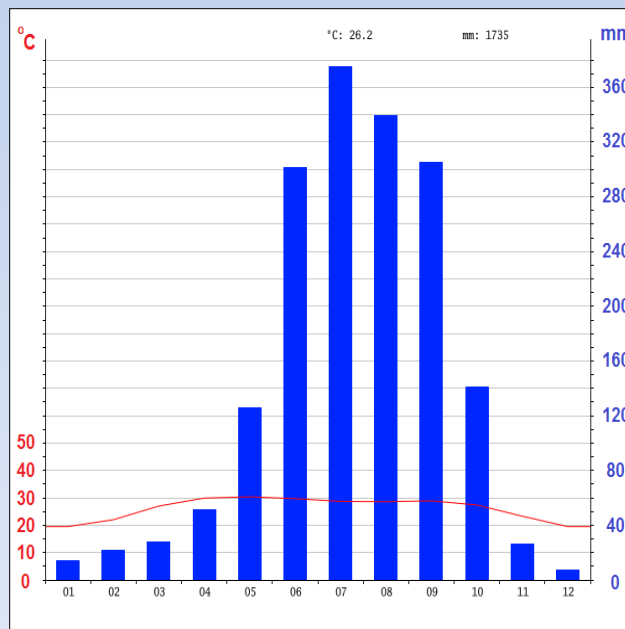
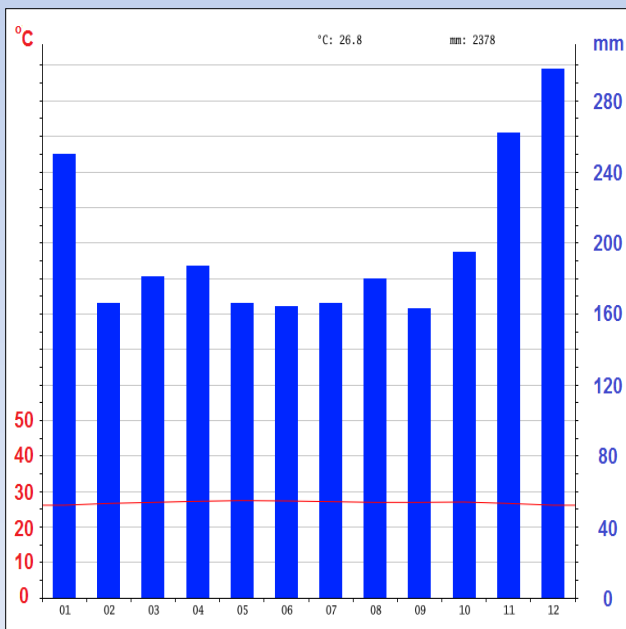
- А) Голубац
- Б) Бач
- В) Маглич
- Г) Смедерево



3. Гледајући с лева на десно, који је тачан редослед клима дијаграма који одговара следећим градовима:

1. Сингапур 2. Калкута 3. Ласа

А) 3, 2, 1 Б) 2, 3, 1 В) 1, 2, 3 Г) 3, 1, 2



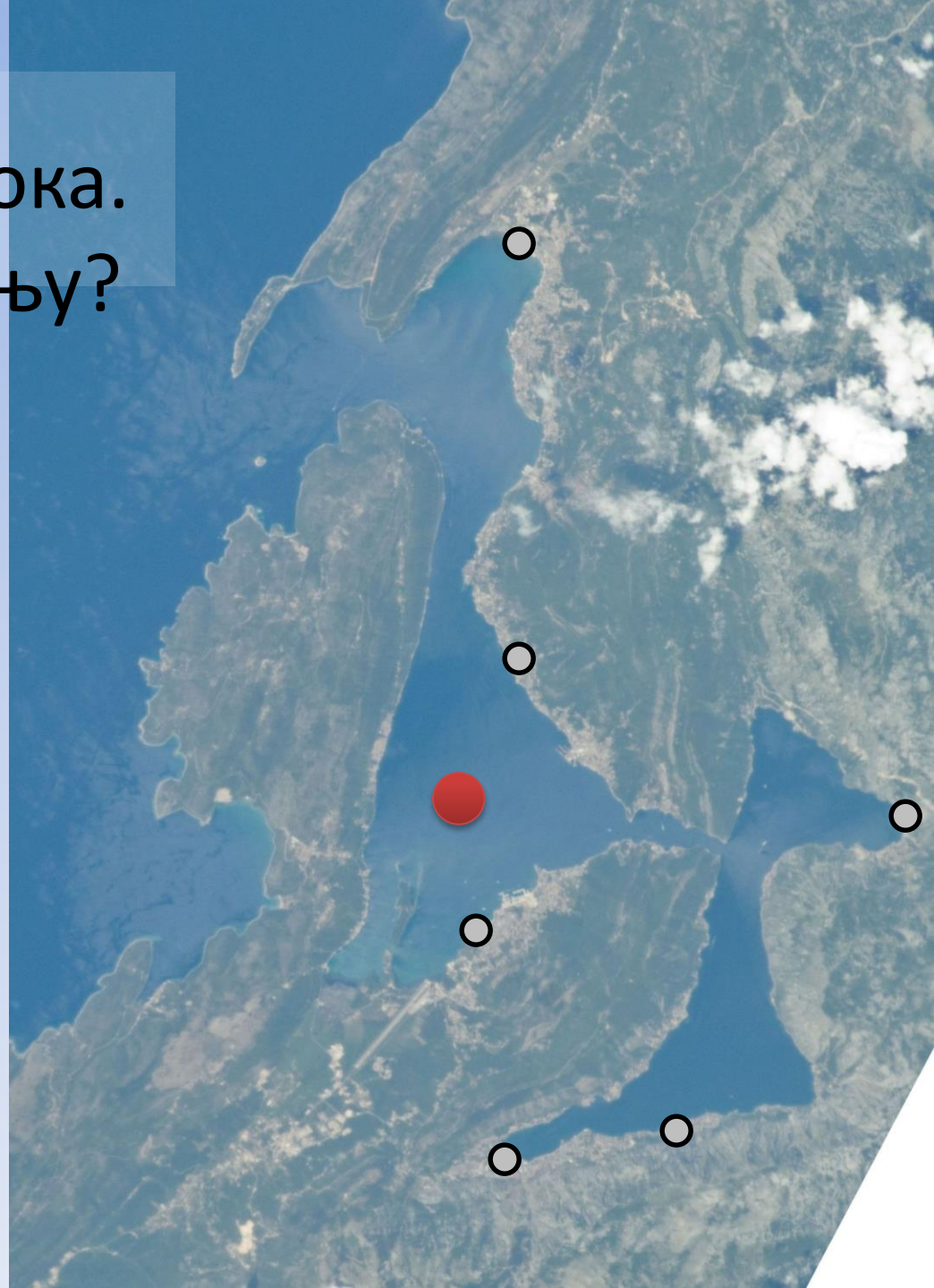
4. Брод плови ка
луци у правцу истока.
Која је лука у питању?

А) Херцег Нови

Б) Будва

В) Тиват

Г) Рисан



5. Избаци уљеза:

А)



Б)



В)



Г)



6. По производима од биљке са слике позната је држава:

- А) Мађарска
- Б) Румунија
- В) Македонија
- Г) Бугарска



7. Народ са слике живи у:

- А) Алжиру
- Б) Кенији
- В) Гамбији
- Г) Бенину



8. Научник са слике сматра се
утемељивачем:

- А) Физичке географије
- Б) Регионалне географије
- В) Друштвене географије
- Г) Антропогеографије



9. Јело са слике карактеристично је
за државу:

- А) Кувајт
- Б) Парагвај
- В) Грчку
- Г) Того



10. Који град у Србији се налази на слици?
Мала помоћ: Кроз њега пролази 45°
паралела.

А) Рума

Б) Крагујевац

В) Зрењанин

Г) Аранђеловац



11. Припадници једне верске групе која се налази се на слици зову се:

А) Мормони

Б) Баптисти

В) Амиши

Г) Лутерани



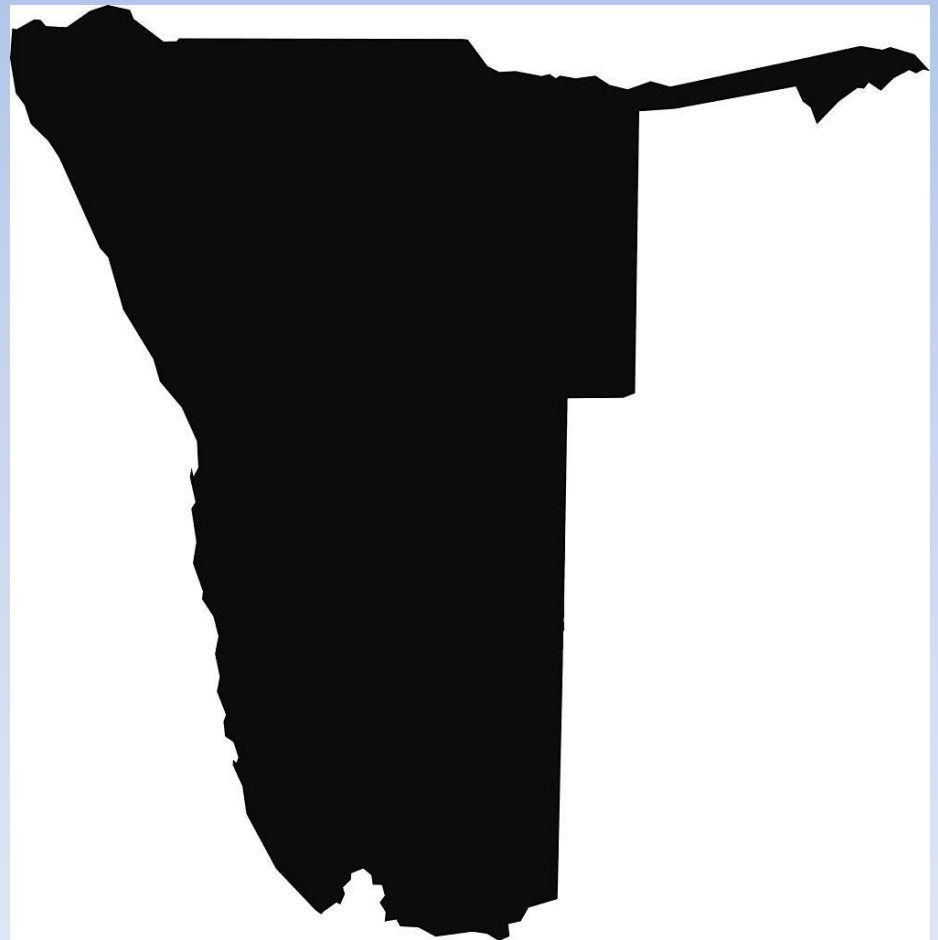
12. Територија које државе је приказана?

А) Замбије

Б) Боцване

В) Мозамбика

Г) Намибије



13. У ком граду је снимљена ова фотографија?

А) Манаусу

Б) Рио де Жанеиру

В) Хавани

Г) Каракасу



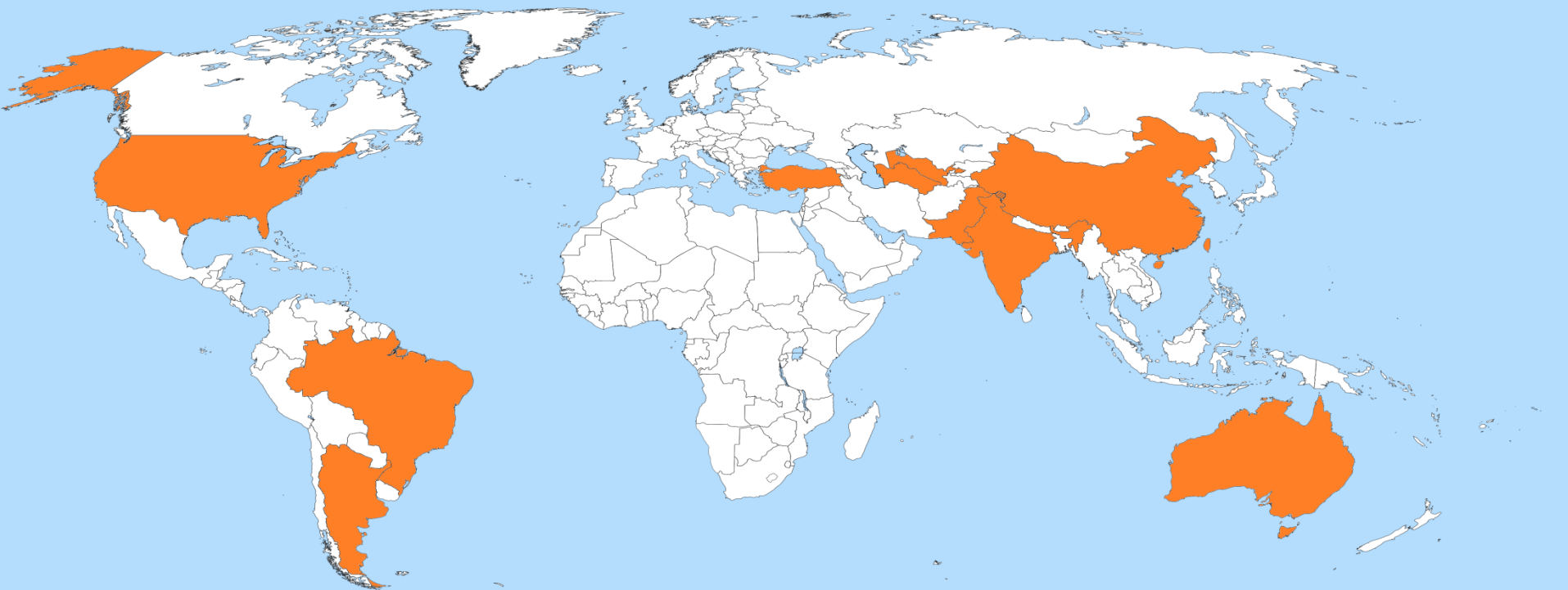
14. На карти су приказани највећи светски произвођачи:

А) Угља

Б) Памука

В) Кајсије

Г) Беле технике



15. Избаци уљеза?

А)



Б)



В)



Г)



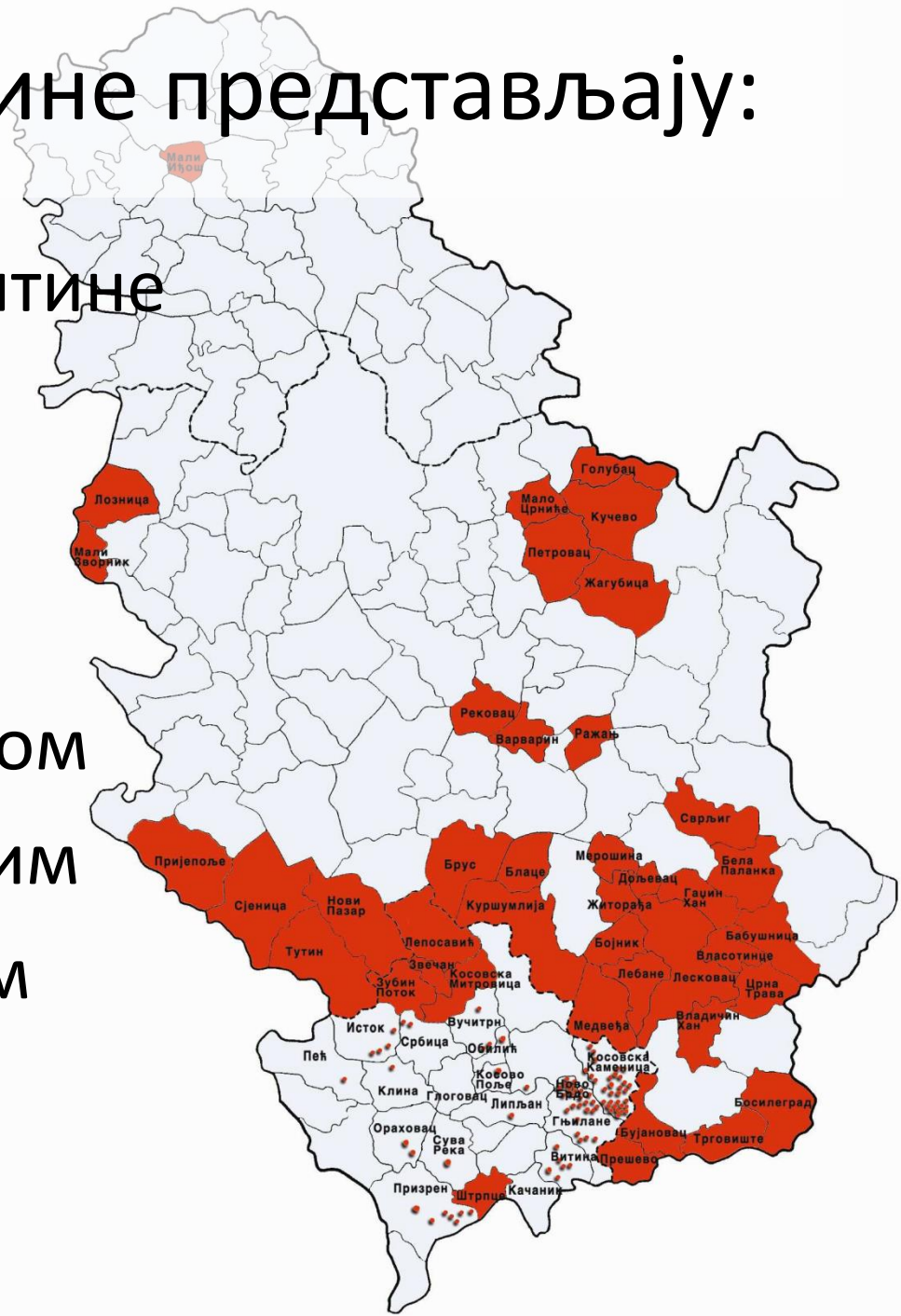
16. Обојене општине представљају:

А) Најнеразвијеније општине

Б) Општине са највећим уделом Рома

В) Општине са највећим површинама под малином

Г) Општине са позитивним природним прираштајем



17. Који мореуз је приказан на слици?

А) Гибралтар

Б) Баб ел Мандеб

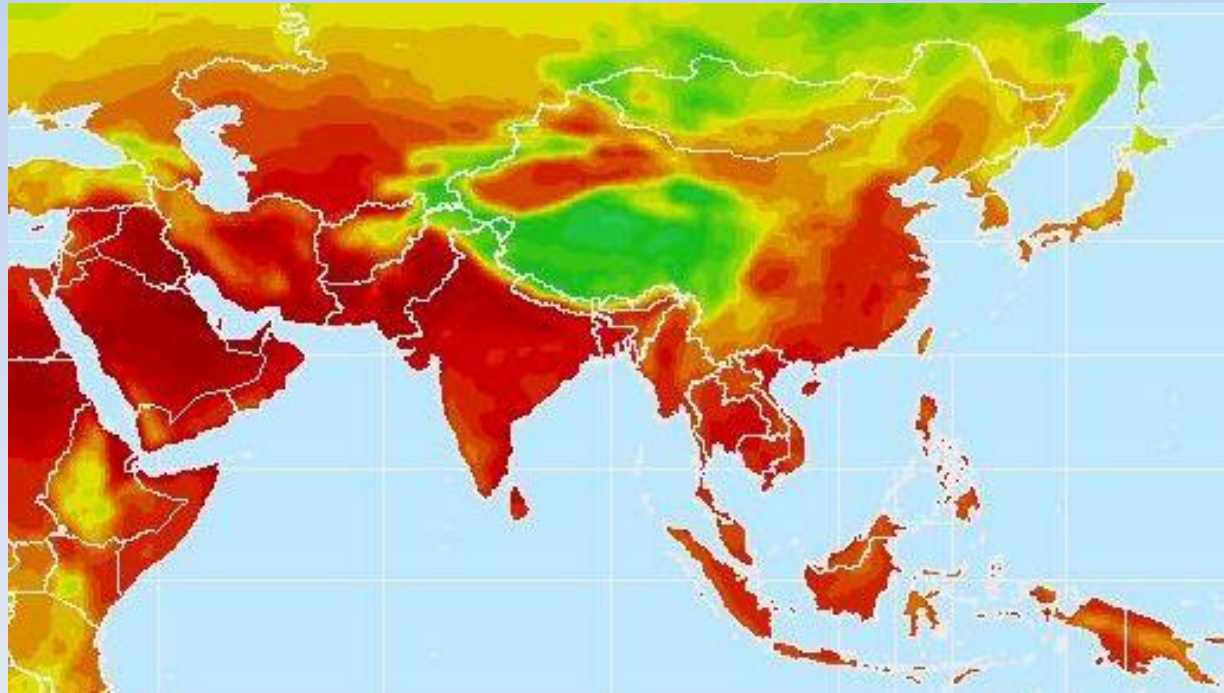
В) Малајски пролаз

Г) Босфор




18. Шта је представљено на карти?

- А) Густина насељености
- Б) Простори са највећим ризиком од поплава
- В) Површине под шумама
- Г) Просечна јулска температура



19. Који облик у рељефу је представљен?

- А) Ергови
- Б) Вадии
- В) Увале
- Г) Клифови



20. Слика је карактеристична за:

А) Невреме

Б) Крај зиме

В) Температурну инверзију

Г) Загађеност ваздуха



21. Кроз град са слике протиче река:

А) Лаба

Б) Влтава

В) Висла

Г) Одра



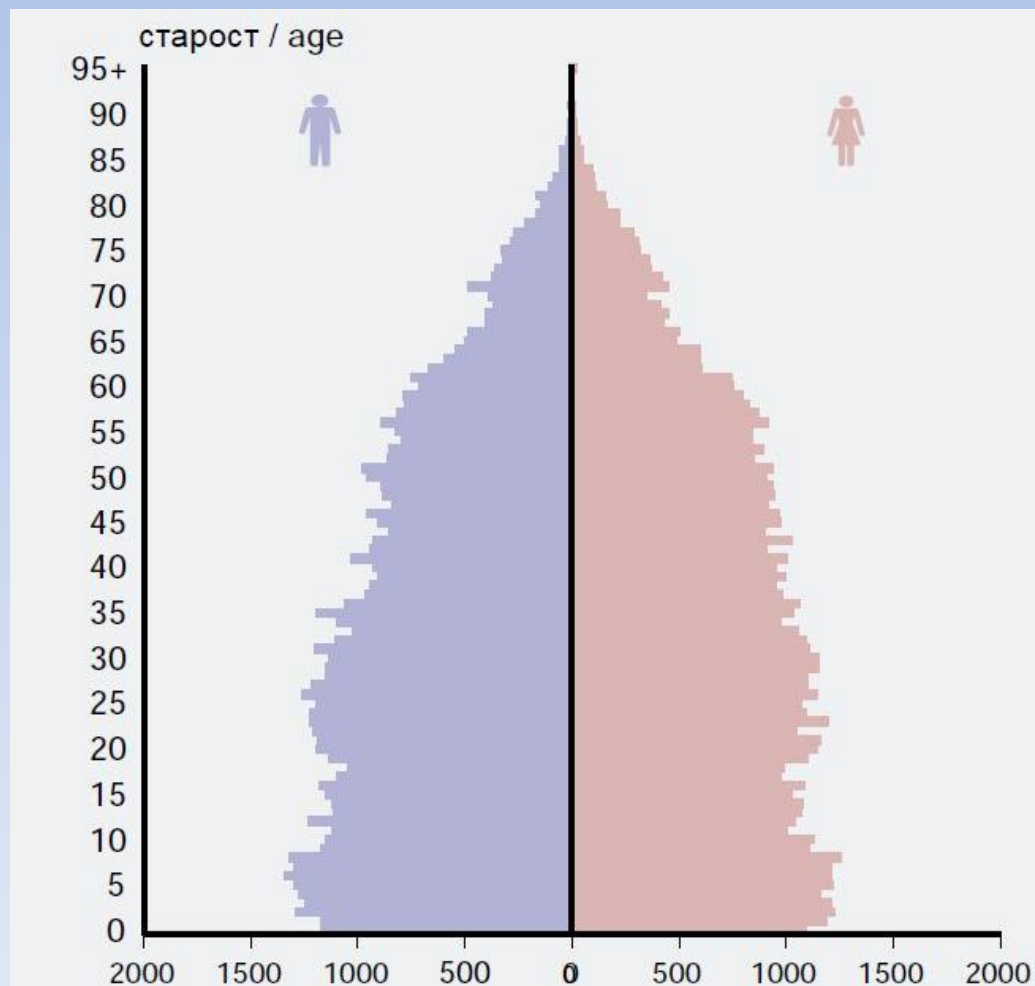
22. Пејзаж са слике је карактеристичан за:

- А) Мађарску
- Б) Швајцарску
- В) Норвешку
- Г) Аустрију



23. На слици је популациона пирамида једног народа у Србији. Кога?

- А) Срба
- Б) Бугара
- В) Бошњака
- Г) Македонаца



24. Шта је приказано на слици?

- А) Црква Богородице Љевишке
- Б) Црква манастира Грачаница
- В) Црква манастира Дечани
- Г) Црква Лазарица



25. Облик рељефа на слици настао је:

А) Абразијом (акумулација)

Б) Абразијом (ерозија)

В) Денудацијом

Г) Нивацијом



26. Животиња са слике карактеристична је за:

А) Африку

Б) Јужну Америку

В) Аустралију

Г) Азију



27. Град који је приказан на слици је:

А) Лима

Б) Ријад

В) Каиро

Г) Ашхабад



28. Познати рељфни облик са слике
настао је:

А) Радом некадашњег вулкана

Б) Еолском ерозијом

В) Абразијом

Г) Глацијацијом



29. Voће са слике карактеристично је
за регион:

А) Топлице

Б) Азбуковице

В) Смедеревског Подунавља

Г) Хомоља



30. Туристичка атракција са слике припада територији:

- А) Ужица
- Б) Чајетине
- В) Зворника
- Г) Љубовије



31. Геоморфолошко-хидролошки феномен са слике налази се у:

А) Мексику

Б) Канади

В) САД-у

Г) Гватемали



32. Лого са слике представља:

- А) Нафтну компанију
- Б) Аутомобилску компанију
- В) Дуванску компанију
- Г) Авио компанију



33. На фотографији се налази оснивач једне религије. Заокружи државу у којој је та религија доминантна:

А) Азербејџан

Б) Науру

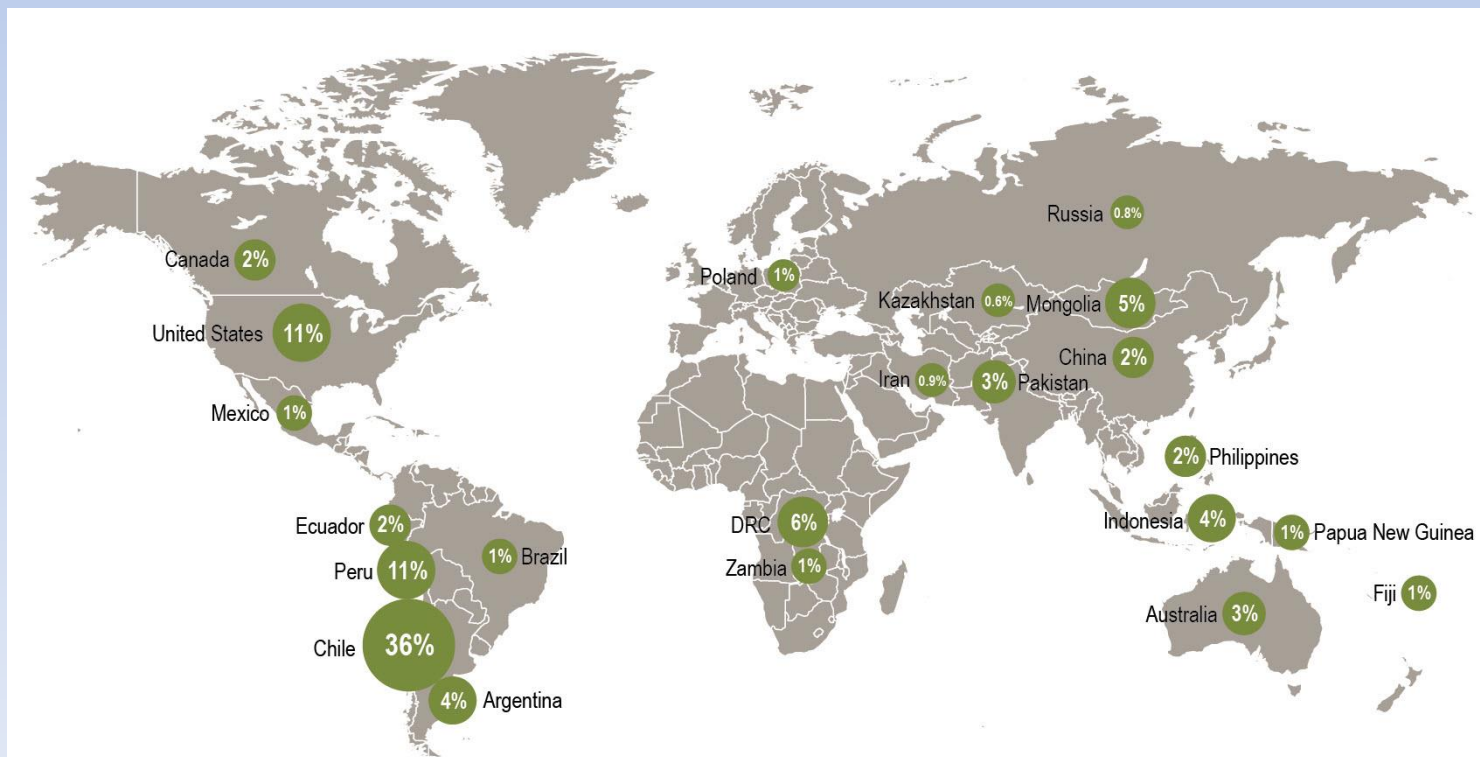
В) Чиле

Г) Тајланд



34. На следећој карти је приказана светска производња:

- А) Злата
- Б) Платине
- В) Бакра
- Г) Олова



15 discoveries in 13 other countries account for 0.7%.

35. Пејзаж са слике може се срести у држави:

А) Боцвана

Б) Русија

В) Оман

Г) ДР Конго



36. Возила са слике произведена су у:

А) Прокупљу

Б) Прибоју

В) Петровцу

Г) Пожаревцу



37. Туристичку атракцију са слике
можемо пронаћи у:

А) Вијетнаму

Б) Тајланду

В) Лаосу

Г) Камбоџи



38. Којој држави припада застава?

А) Холандији

Б) Уругвају

В) Парагвају

Г) Луксембургу



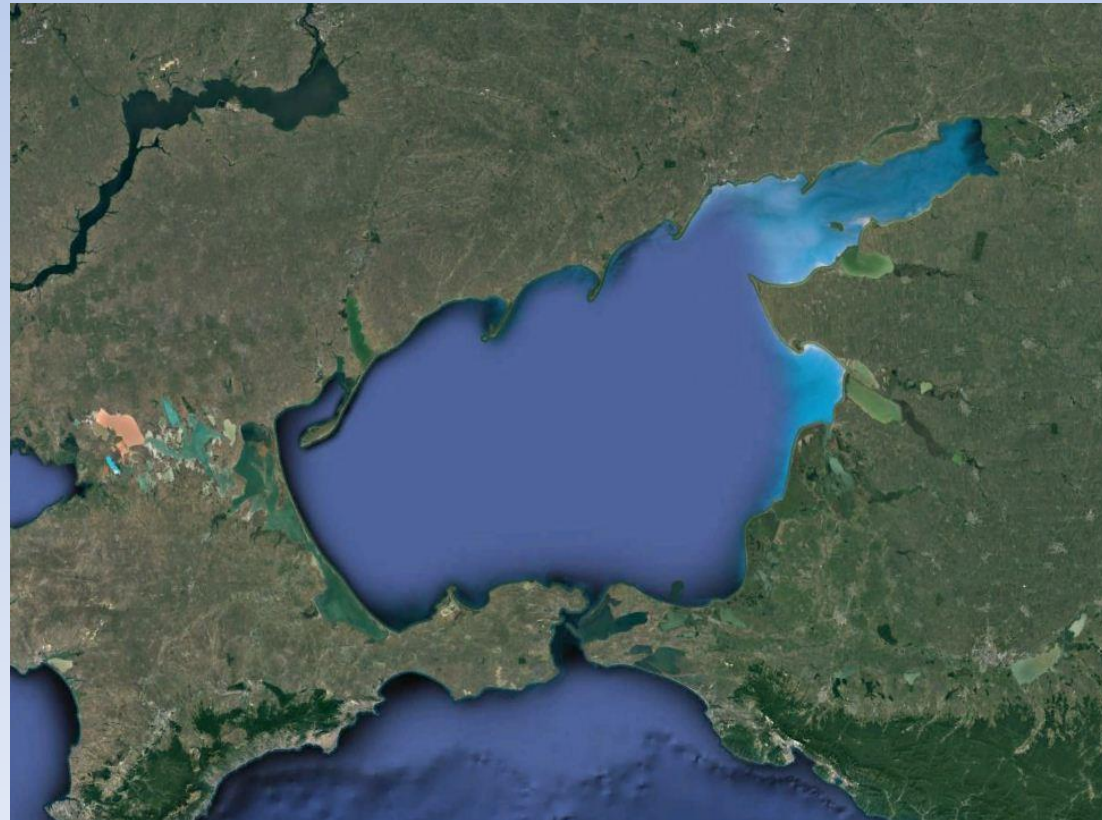
39. Шта приказује сателитски снимак?

А) Каспијско море

Б) Аралско језеро

В) Азовско море

Г) Ботнички залив



40. Несеље са слике је с циљем подигнуто на овом изолованом месту због:

- А) Очуване животне средине
- Б) Развоја туризма
- В) Јефтиног земљишта
- Г) Рударске активности

